



..... ﴿يُبْنِيْءَادَمَ قَدْ اَنْزَلْنَا عَلَیْكُمْ لِبَاسًا یُّوَارِیْ سَوَاتِیْكُمْ وَرِیْشًا...﴾ (سوره اعراف-آیه ۲۶)

ای فرزندان آدم! لباسی برای شما فرو فرستادیم که شما را می پوشاند و مایه زینت شماست و...

خداوند یکتا و آفریدگار هستی، جانوران را با پوشش هایی مانند پشم، پر، فلس و... آفریده است. انسان با بهره مندی از هوش و تجربه های برگرفته از طبیعت توانست نخستین پوشش خود را از پشم، مو و پوست جانوران تهیه کند. او با گذشت زمان از بافت های گیاهی نیز برای پوشش خود استفاده کرد. در گذر زمان با تشکیل جوامع بشری، پوشش انسان ها افزون بر پیشرفت و تبدیل شدن به صنعتی به نام پوشاک، دچار تنوع و گوناگونی شد، به طوری که امروزه پوشاک به شرایط آب و هوایی، فرهنگ، آداب و رسوم، باورها و... در هر جامعه بستگی دارد. اما اینکه پوشاک از چه موادی و چگونه تهیه می شوند؟ نقش دانش و فناوری در صنعت پوشاک چیست؟ ما را بر آن می دارد تا با بهره گیری از دانش شیمی در این فصل، در صدد یافتن پاسخ پرسش هایی از این دست باشیم.

آیا می‌دانید

یافته‌های باستان‌شناسی نشان می‌دهد که پیشینهٔ ریسندگی و بافندگی از الیافی مانند پشم، ابریشم، پنبه و کتان به هزاران سال پیش برمی‌گردد. به دیگر سخن، نساجی از کهن‌ترین صنایع در تمدن بشری است که با دوک نخ‌ریسی پایه عرصهٔ ظهور گذاشت.



انسان در طول تاریخ، همواره به دنبال تهیهٔ پوشاک مناسب بوده است. پوشاک افزون بر پوشش بدن، در تمدن بشری نقش بزرگی داشته است آن‌چنان که نوع پوشاک در هر قوم، نشان‌دهندهٔ توانایی و مهارت دستی، هنر، تصویرگری، دانش، فناوری و نیز آداب و رسوم آن قوم است. پوشاک، بدن را در برابر عوامل محیطی گوناگون مانند سرما و گرما، نور خورشید، باران، تگرگ، گزند حشرات و... نیز محافظت می‌کند. برای مثال کلاه لبه‌دار، سر و صورت را در برابر تابش نور خورشید و آفتاب سوختگی و نیز پوشیدن کفش، پاها را در برابر خاک، سنگ، اشیای سخت، سردی و داغی زمین محافظت می‌کند (شکل ۱).



شکل ۱- برخی پوشش‌ها برای حفاظت بدن در برابر عوامل محیطی

با رشد و گسترش دانش و فناوری در صنایع و ایجاد نیازهای جدید و خاص، پوشاک گوناگونی مانند انواع کلاه ایمنی، کفش پنجه فولادی، عینک ایمنی و... تولید شد. پوشش‌هایی که هر کدام ایمنی فیزیکی بدن را در شرایط دشوار و خطرناک به‌ویژه هنگام انجام فعالیت‌ها افزایش می‌دهد. به تازگی بشر با تکیه بر دانش و فناوری‌های نو توانسته است انواع تازه‌ای از پوشاک تولید کند که از بدن در برابر مواد شیمیایی مانند اسیدها، سموم، بخارهای سمی و غلیظ، پرتوها، آلودگی‌های عفونی، آتش، گلوله و... محافظت می‌کند (شکل ۲).



(پ)

(ب)

(الف)

شکل ۲- چند نمونه پوشاک، (الف) لباس غواصی، (ب) لباس فضانورد، (پ) لباس آتش‌نشان

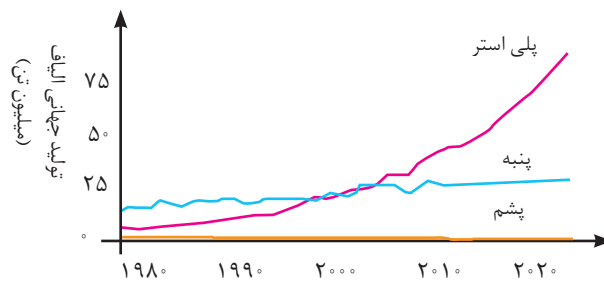
انسان در گذشته پوشاک خود را از مواد طبیعی مانند پشم گوسفند و شتر، پوست و چرم، پنبه و... تهیه می‌کرد. با رشد جمعیت جهان، مصرف پوشاک به میزان چشمگیری افزایش یافت، به طوری که روش‌های سنتی تولید پوشاک دیگر پاسخگوی نیازهای جامعه نبود.

آیا می‌دانید

سنگ‌نگاره‌ای با قدمتی حدود ۳۰۰۰ سال، تصویر یک زن عیلامی را در حال نخ‌ریسی نشان می‌دهد که خدمتگزاری در حال باد زدن اوست.



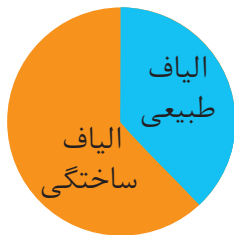
به همین دلیل صنعت نساجی به شکل صنعتی و امروزی پدیدار شد، صنعتی که با بهره‌گیری از فناوری‌های نو به تولید پوشاک پرداخت. اما موفقیت این صنعت در گرو تأمین الیاف^۱ مورد نیاز بود. از آنجا که منابع طبیعی محدود بود، الیاف تولید شده پاسخگوی نیاز صنایع نساجی و جامعه نبود. گویی زمان آن رسیده بود که شیمی‌دان‌ها طلای سیاه را به کار بگیرند و الیافی جدید تولید کرده و راهی شرکت‌های نساجی کنند. با گذشت زمان تلاش شیمی‌دان‌ها نتیجه داد و در طول چند دهه، انواع گوناگونی از الیاف ساختگی بر پایه نفت، شناسایی و تولید شد؛ الیافی که جایگزین الیاف طبیعی شد و امروزه بخش عمده پوشاک را تشکیل می‌دهد. آمارها نشان می‌دهند که در سال ۲۰۱۴ میلادی نزدیک به صد میلیون تن انواع الیاف در جهان تولید و مصرف شده است (نمودار ۱).



نمودار ۱- روند تولید الیاف پشمی، نخی و پلی استری در جهان.

آیا می‌دانید

الیاف جمع لیف است. لیف رشته‌های نازک، بلند و موماندی با استحکام و انعطاف‌پذیری مناسب است. از کنار هم قرار گرفتن این رشته‌ها، الیاف به دست می‌آید. در واقع با تنیدن لیف‌ها، الیاف را تولید می‌کنند.



● میزان نسبی الیاف تولید شده در جهان

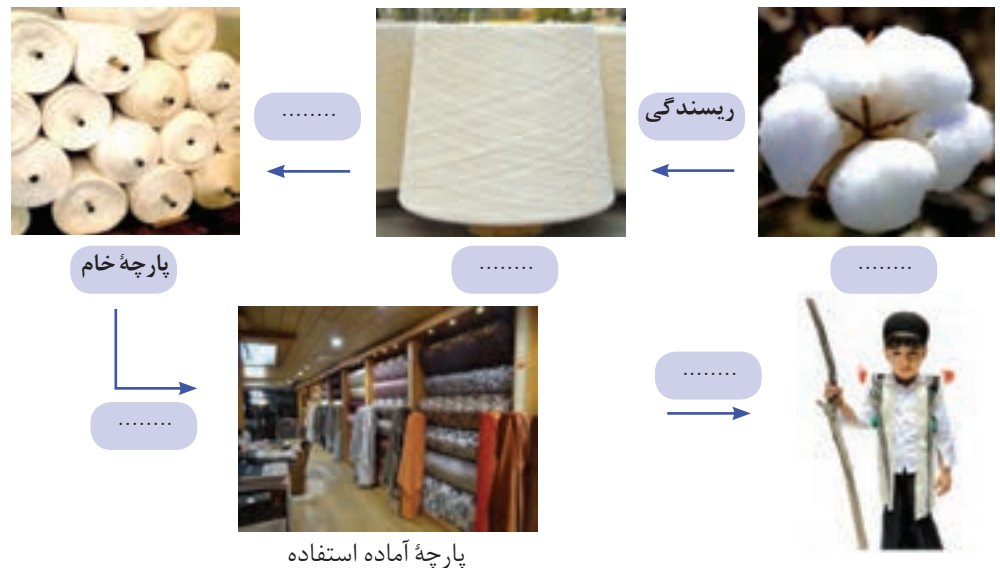
آیا می‌دانید



● با وجود گسترش صنعت نساجی و پوشاک، تولید فرآورده‌های دستی به دلیل بی‌نظیر، محدود و خاص بودن اهمیت و جایگاه ویژه‌ای در زندگی انسان‌ها دارند. کفش گیوه اورامانات یکی از این موارد است. کفشی که دست‌دوز بوده و همتایی ندارد. این پوشش بسیار انعطاف‌پذیر، سبک و محکم است و امکان جابه‌جایی هوا دارد. این کفش در زبان محلی به کلاش معروف است.

خود را بیازمایید

در هریک از جاهای خالی یکی از واژه‌های «نخ^۲، الیاف، دوزندگی، فراوری و بافندگی» را قرار دهید.




با مراجعه به منابع اینترنتی معتبر درباره نام و ویژگی‌های برخی پوشاک اقوام ایرانی اطلاعاتی جمع‌آوری و به کلاس گزارش کنید.

الیاف ساختگی، الیافی هستند که در طبیعت یافت نمی‌شود بلکه از واکنش بین مواد شیمیایی در شرکت‌های پتروشیمی تولید می‌شوند. در واقع اغلب فراورده‌های پتروشیمیایی برای تولید انواع گوناگون الیاف مانند پلی‌استر، نایلون و... به کار می‌روند. از این الیاف افزون بر تهیه پارچه و پوشاک، به طور گسترده‌ای در تهیه انواع پوشش‌ها، ظروف نجسب، یکبار مصرف و پلاستیکی، فرش، پرده و... استفاده می‌شود.

اکنون این پرسش‌ها مطرح می‌شوند که الیاف ساختگی چه موادی هستند؟ چه ساختاری دارند؟ چه رابطه‌ای بین ساختار و رفتار آنها وجود دارد؟ آیا شناخت ویژگی‌های ماده و به‌ویژه ترکیب‌های آلی می‌تواند به تولید الیاف جدید منجر شود؟ آیا می‌توان الیافی تهیه کرد که در پزشکی به کار آید؟ واکنش‌های شیمیایی تولید الیاف در چه شرایطی انجام می‌شوند؟ مولکول‌های سازنده الیاف چه ویژگی‌هایی دارند؟ برای یافتن پاسخ این پرسش‌ها و پرسش‌هایی از این دست با ما همراه شوید.

الیاف و درشت مولکول‌ها^۱

پنبه یکی از الیاف طبیعی است که در تولید پوشاک سهم قابل توجهی دارد. آمارها نشان می‌دهد که حدود نیمی از لباس‌های تولیدی در جهان از پنبه تهیه می‌شود. از پنبه افزون بر تولید پوشاک در تولید روبه مبل، پرده، تور ماهیگیری، گاز استریل و... استفاده می‌شود. می‌دانید که الیاف پنبه از سلولز تشکیل شده، زنجیری بسیار بلند که از اتصال شمار بسیار زیادی مولکول گلوکز به یکدیگر ساخته می‌شود (شکل ۳). با این توصیف شمار اتم‌های سازنده هر مولکول سلولز، بسیار زیاد بوده و اندازه مولکول آن بزرگ است.



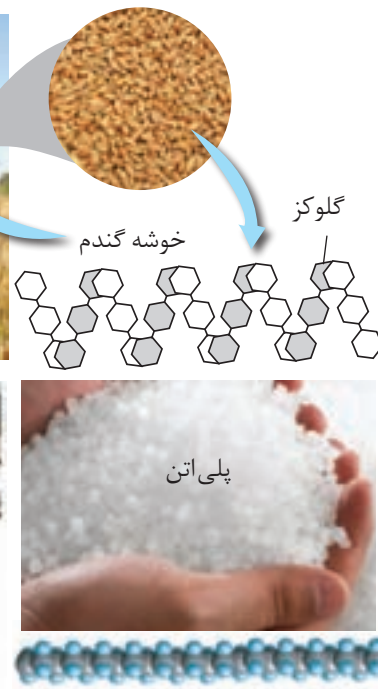

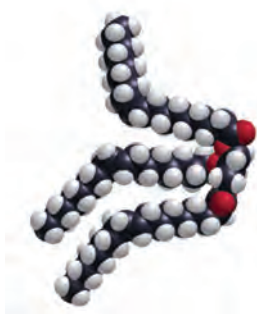

شکل ۳- نمایی ساده از الیاف سلولز و مولکول‌های سازنده آن در پنبه

آیا می‌دانید

سلولز از اتصال حدود ۳۰۰۰ مولکول گلوکز به یکدیگر تشکیل می‌شود، از این رو فرمول مولکولی آن به تقریب $C_{18000}H_{36000}O_{18000}$ است. با این توصیف جرم مولی سلولز در حدود ۴۸۷۰۰۰ گرم است. توجه کنید هر مولکول سلولز هنوز آن قدر کوچک است که قابل دیدن نیست.

آیا می دانید

انسولین، هورمون تنظیم کننده قند خون است. شکل زیر نمایی از ساختار این هورمون را نشان می دهد.



الف) جدول را کامل کنید.

نام ماده	اندازه مولکول		جرم مولی		شمار اتم ها	
	کوچک یا متوسط	بسیار بزرگ	کم یا متوسط	بسیار زیاد	کم یا متوسط	بسیار زیاد
آب						
پلی اتن						
پروپان						
نشاسته گندم						
انسولین		*		*		*
سلولز						
روغن زیتون						

آیا می دانید

نام ماده	جرم مولی (g mol^{-1})
اتن	۲۸/۰۵
اتانول	۴۶/۰۷
انسولین	۵۸۳۱/۶۵
نایلون	۱۰۴-۱۰۶
پلی اتن	۱۰۴-۱۰۵

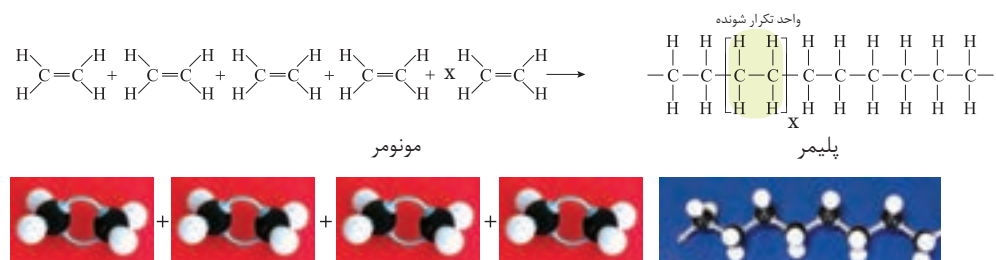
ب) به دسته ای از ترکیب های جدول، درشت مولکول می گویند. این مفهوم را در یک سطر

تعریف کنید.

آیا می دانید

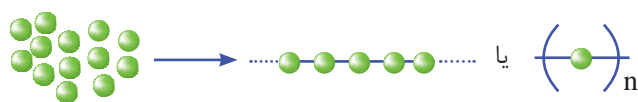
سالانه در حدود ۱۰۰,۰۰۰,۰۰۰,۰۰۰ کیلوگرم بسیار در شرکت های پتروشیمی در سراسر دنیا تولید می شود، به طوری که سرانه آن به ازای هر نفر حدود ۱۵ کیلوگرم برآورد می شود. تاکنون حدود ۶۰۰۰۰ نوع پلیمر ساختگی تولید شده است.

از پیوندهای دوگانه در اتن شکسته شده و مولکول های اتن از سوی اتم های کربن به یکدیگر متصل می شوند. با ادامه این روند، شمار زیادی از مولکول های اتن به یکدیگر افزوده شده و مولکول هایی با زنجیر کربنی بلند ایجاد می شوند (شکل ۴).



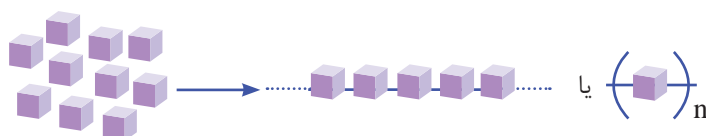
شکل ۴- نمایی از واکنش تشکیل پلی اتن

به واکنش دهنده ها در واکنش پلیمری شدن، **مونومر**^۱ (تک پار) می گویند. در این واکنش ها شمار زیادی از مونومرها با یکدیگر واکنش می دهند و پلیمر را می سازند. مطابق شکل ۴ مونومرهای اتن به یکدیگر افزوده می شوند و پلی اتن را پدید می آورند. با دقت در ساختار پلی اتن در می یابید که این ترکیب از تکرار مجموعه ای از اتم های کربن و هیدروژن به نام واحد تکرار شونده پدید آمده است. توجه کنید که تعیین تعداد دقیق مونومرهای شرکت کننده در یک واکنش پلیمری شدن ممکن نیست و تاکنون هیچ قاعده ای برای اتصال شمار مونومرها به یکدیگر ارائه نشده است. به همین دلیل برای پلیمرها نمی توان فرمول مولکولی دقیقی نوشت. شیمی دان ها برای نمایش آنها، واحد تکرار شونده را درون کمانک نوشته و زیروند n را جلوی آن می نویسند (شکل ۵- الف و ب).



شکل ۵- الف) الگوی تشکیل یک پلیمر

بدیهی است که براساس الگوی بالا با تغییر مونومر، پلیمری جدید با ساختار و خواص متفاوت می توان تهیه کرد (شکل ۵- ب).



شکل ۵- ب) الگوی تشکیل یک پلیمر دیگر

به یاد داشته باشید هر ترکیب آلی که در ساختار خود پیوند دوگانه کربن-کربن ($\text{C}=\text{C}$) در زنجیر کربنی داشته باشد، می‌تواند در این نوع واکنش پلیمری شدن شرکت کند. بر همین اساس، ترکیب‌های سیر نشده و حاوی چنین پیوندی در زنجیر کربنی می‌توانند در صنایع پتروشیمی با تأمین شرایط مناسب واکنش داده و پلیمرهای گوناگونی تولید کنند.





آیا می‌دانید

پلی‌وینیل استات پلیمری است که در تهیه انواع پاستیل به کار می‌رود.




خود را بیازمایید

در جدول زیر هر یک از جاهای خالی را پر کنید.

نام و ساختار مونومر	نام و ساختار پلیمر	کاربرد پلیمر
.....	$\left[\text{CH}_2 - \underset{\text{CN}}{\overset{\text{H}}{\text{C}}} \right]_n$ <p>پلی سیانواتن</p>	 پتو
$\text{CH}_2 = \underset{\text{CH}_3}{\overset{\text{H}}{\text{C}}}$ <p>پروپن</p> پلی پروپن	 سرنگ
..... استیرن	$\left[\text{CH}_2 - \underset{\text{C}_6\text{H}_5}{\overset{\text{H}}{\text{C}}} \right]_n$	 ظروف یکبار مصرف
$\text{F} \quad \text{F}$ $\diagdown \quad \diagup$ $\text{C} = \text{C}$ $\diagup \quad \diagdown$ $\text{F} \quad \text{F}$ <p>تترافلورو اتن</p> تفلون	 نخ دندان
.....	$\left[\text{CH}_2 - \underset{\text{Cl}}{\overset{\text{H}}{\text{C}}} \right]_n$ <p>پلی وینیل کلرید</p>	 کیسه خون

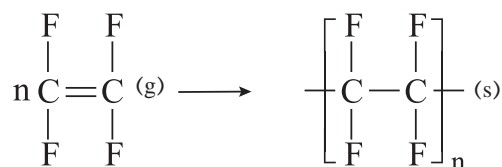
آیا می‌دانید

قرار دادن لایه‌ای از پلی‌وینیل کلرید بین دو صفحه شیشه‌ای مانع از فرو ریختن خرده‌های آن در اثر ضربه می‌شود.



«بخت، یار ذهن‌های آماده است»

تفلون نام تجاری پلیمری است که کشف اتفاقی آن، پلانکت را به شهرت و ثروت رساند. ماجرا در دهه ۱۹۳۰ میلادی اتفاق افتاد. پلانکت و گروه پژوهشی او در حال بررسی و مطالعه انواع سردکننده‌ها بودند. یکی از گازهایی که آنها مصرف می‌کردند، تترافلوئورواتن بود. یک روز هنگامی که پلانکت شیر کپسول گاز را باز کرد، متوجه شد که گاز خارج نمی‌شود. او تصور کرد که مسیر خروج گاز بسته است، از این‌رو تلاش کرد تا مسیر را باز کند، اما هیچ چیز نبود و او تعجب کرد. کنجکاوی وی سبب شد موضوع را بیشتر پیگیری کند. پلانکت برای یافتن دلیل آن، جرم کپسول را اندازه‌گیری کرد و با نتیجه غیرمنتظره‌ای روبه‌رو شد. جرم کپسول مورد نظر با کپسول پر از گاز برابر بود! پافشاری وی برای حل مسئله، باعث شد تا او کپسول را برش دهد و داخل آن را مشاهده کند. او پس از برش کپسول با منظره تازه‌ای روبه‌رو شد. لایه نازکی از یک ماده جامد ته کپسول تشکیل شده بود. بررسی دقیق‌تر نشان داد که این ماده جامد از پلیمری شدن تترافلوئورواتن به دست آمده است.



ناخودآگاه توفیق بزرگی نصیب پلانکت شده بود زیرا تفلون در مدت کوتاهی کاربردهای گسترده‌ای در صنعت و زندگی یافت (شکل ۶).



شکل ۶- برخی کاربردهای تفلون

تفلون، نقطه ذوب بالایی دارد و در برابر گرما مقاوم است. این پلیمر از نظر شیمیایی بی‌اثر است و با مواد شیمیایی واکنش نمی‌دهد، در حلال‌های آلی حل نمی‌شود و نجسب است. این ویژگی‌ها دلیل کاربرد وسیع این پلیمر است.

به نظر شما شانس و اتفاق تا چه اندازه در پیشبرد علم سهم دارند؟

پلی اتن یکی از مهم ترین پلیمرهای ساختگی است که سالانه میلیون ها تن از آن در شرکت های پتروشیمی تولید شده و برای ساخت وسایل گوناگون استفاده می شود (شکل ۷).



شکل ۷- برخی کاربردهای پلی اتن

همان طور که مشاهده می کنید کالاهای ساخته شده از پلی اتن ویژگی های گوناگونی دارند. برخی مانند کیسه پلاستیک موجود در مغازه ها و فروشگاه ها شفاف بوده و کمی انعطاف پذیرند در حالی که برخی دیگر مانند لوله های پلاستیکی، دبه های آب یا بطری کدر شیر، سخت تر و محکم تر هستند. یک تفاوت آشکار دیگر بین آنها تفاوت در چگالی است. آیا می دانید چگونه ممکن است این مواد از یک نوع پلیمر با مونومرهای یکسان تولید شوند، اما ویژگی های متفاوت و گاهی متضاد داشته باشند؟ آیا ساختار مولکول های سازنده این کالاها یکسان است؟

یافته های تجربی نشان داد که اتن در شرایط گوناگون، با انجام واکنش پلیمری شدن فراورده هایی با ساختار متفاوت پدید می آورد. نوعی پلی اتن، چگالی کمتری داشته و شفاف است، از این رو به **پلی اتن سبک**^۱ معروف است در حالی که **پلی اتن سنگین**^۲، چگالی بیشتری داشته و کدر است. شکل ۸ ساختار کلی این پلی اتن ها را نشان می دهد.

همان طور که در شکل ۸ می بینید، مولکول های اتن می توانند به دو صورت به یکدیگر افزوده شوند و دو فراورده متفاوت ایجاد کنند. مولکول های اتن در شرایط معین پشت سرهم به یکدیگر متصل شده و زنجیرهای بلند و بدون شاخه ایجاد می شود. اما در

یافتن روش مناسب و شرایط بهینه برای انجام واکنش های شیمیایی آن قدر مهم است که به مناسب ترین روش ها جایزه نوبل اختصاص می دهند. یافتن روش مناسب برای تولید پلی اتن سنگین (بدون شاخه) سال ها طول کشید و در نهایت دو شیمی دان آلمانی و ایتالیایی به نام های کارل زیگلر (Karl Ziegler، ۱۸۹۸-۱۹۷۳) و گیولیو ناتا (Giulio Natta، ۱۹۰۳-۱۹۷۹) برنده جایزه نوبل شیمی شدند. آنها موفق شدند کاتالیزگری بیابند که واکنش پلیمری شدن اتن را بدون ایجاد شاخه فرعی پیش می برد.



● پلی اتن مذاب را در دستگاهی با عمل دمیدن هوا به ورقه نازک پلاستیکی تبدیل می کنند.

۱- Low Density Poly Ethene (LDPE)

۲- High Density Poly Ethene (HDPE)

شرایطی دیگر برخی مولکول‌های اتن از کناره‌ها به یکدیگر افزوده شده و زنجیرهای شاخه‌دار تولید می‌شود.



پلی اتن بدون شاخه

پلی اتن شاخه‌دار

شکل ۸- ساختار دو نوع پلی اتن

خود را بیازمایید

داده‌های تجربی نشان می‌دهد که چگالی پلی اتن‌های نشان داده شده در شکل ۸ برابر با 0.97 و 0.92 گرم بر سانتی‌متر مکعب است.

الف) کدام چگالی به کدام پلی اتن تعلق دارد؟ چرا؟

ب) کدام پلی اتن سبک و کدام سنگین است؟

پ) نیروی بین مولکولی در پلی اتن چیست؟

ت) چرا استحکام پلی اتن سنگین از سبک بیشتر است؟

تاکنون با پلیمرهایی آشنا شدید که از واکنش مونومرهای دارای پیوند دوگانه کربن-کربن در زنجیر کربنی به دست می‌آیند. افزون بر آنها در صنعت، پلیمرهای دیگری نیز ساخته شده است، پلیمرهایی که در ساختار آنها افزون بر اتم‌های کربن و هیدروژن، اتم‌های دیگری مانند اکسیژن، نیتروژن و... وجود دارند. در ادامه با تهیه، ساختار و کاربرد این پلیمرها آشنا می‌شوید.

پلی استرها

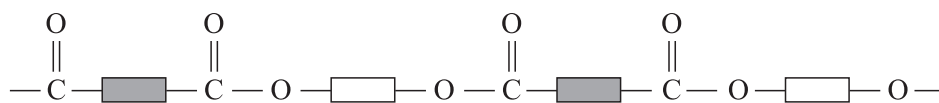
نیاز به تولید پوشاک بیشتر و با کاربردهای گسترده‌تر، شیمی دان‌ها را برای یافتن پلیمرهای جدید تشویق می‌کرد. آنها با بررسی رفتار انواع مواد آلی، موفق به تهیه و ساخت پلیمرهایی شدند که در ساختار آنها اتم‌های اکسیژن و نیتروژن نیز وجود داشت. پلی استرها دسته‌ای از آنها هستند که از اتم‌های C، H و O تشکیل شده‌اند. از این پلیمرها می‌توان الیاف، نخ و در

آیا می‌دانید

بوی خوش گل یاسمن به دلیل وجود نوعی استر است.

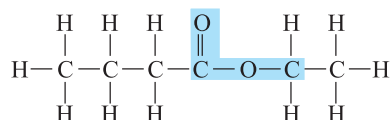


نهایت پارچه‌های پلی‌استری تولید کرد. شکل ۹ نمایی از ساختار کلی پلی‌استرها را نشان می‌دهد.



شکل ۹- الگویی از ساختار پلی‌استرها

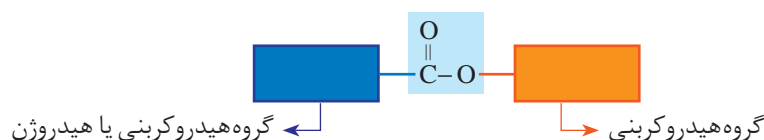
برای اینکه بدانید چنین پلیمرهایی از چه موادی تهیه می‌شوند، افزون بر گروه عاملی هیدروکسیل باید با گروه عاملی کربوکسیل و به‌ویژه گروه عاملی استر و برخی رفتار آنها بیشتر آشنا شوید. استرها دسته‌ای از مواد آلی هستند که منشأ بوی خوش شکوفه‌ها، گل‌ها، عطرها و نیز بو و طعم میوه‌ها هستند. برای نمونه، بو و طعم خوش آناناس به دلیل وجود اتیل بوتانوات در آن است (شکل ۱۰).



شکل ۱۰- فرمول ساختاری و مدل فضا پرکن اتیل بوتانوات

با دقت در ساختار مولکول استر در می‌یابید که به گروه عاملی آن دو بخش یا دو زنجیر هیدروکربنی متصل است. در یک سوی آن گروه هیدروکربنی به اتم اکسیژن و در سوی دیگر آن به اتم کربن این گروه متصل است. در ادامه خواهید دید که گروه عاملی استری از واکنش یک الکل با یک کربوکسیلیک اسید ایجاد می‌شود (شکل ۱۱).

گروه عاملی استر



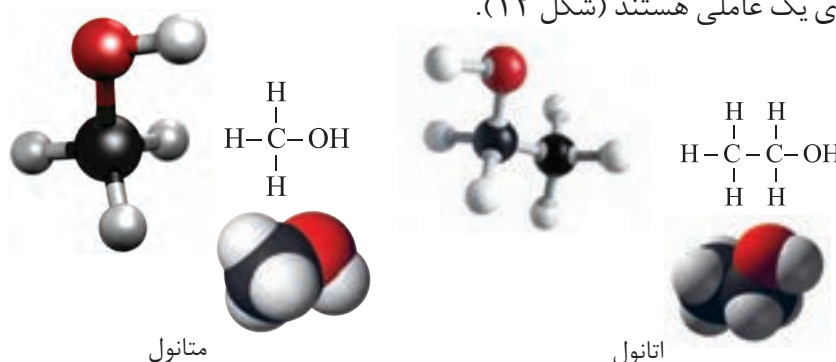
شکل ۱۱- نمایش گروه عاملی استر

الکل‌ها و اسیدها

آیا می‌دانید

متانوائیک اسید ساده‌ترین اسید آلی است که در سال ۱۶۷۰ کشف شد و چون از تقطیر مورچه سرخ به دست می‌آمد، نام فورمیک اسید یا جوهر مورچه بر آن نهادند. در زبان لاتین به مورچه فورمیکا می‌گویند.

آموختید الکل‌ها ترکیب‌هایی هستند که در ساختار آنها یک یا چند گروه هیدروکسیل ($-OH$) با یک پیوند اشتراکی به اتم کربن متصل است. متانول و اتانول دو عضو خانواده الکل‌های یک عاملی هستند (شکل ۱۲).



شکل ۱۲- فرمول ساختاری، مدل فضاپرکن و گلوله-میله برای متانول و اتانول

الکل‌های یک عاملی را می‌توان با فرمول ROH نشان داد که در آن، R یک زنجیر هیدروکربنی است.

کربوکسیلیک اسیدها نیز دسته‌ای دیگر از ترکیب‌های آلی هستند که گروه عاملی کربوکسیل ($-COOH$) دارند. این ترکیب‌ها مزه ترش دارند به طوری که مزه ترش میوه‌هایی مانند انگور، لیمو ترش، کیوی، گوجه سبز و... ناشی از وجود چنین مولکول‌هایی در آنهاست. متانوائیک (فورمیک) اسید، $HCOOH$ ، اولین عضو خانواده کربوکسیلیک اسیدهاست که بر اثر گزش مورچه سرخ وارد بدن شده و باعث سوزش و خارش در محل گزیدگی می‌شود. اتانوائیک اسید (استیک اسید) یک اسید دو کربنی است که یکی از پرکاربردترین اسیدها در زندگی روزانه است (شکل ۱۳).



شکل ۱۳- فرمول ساختاری استیک اسید و کاربردی از آن

کربوکسیلیک اسیدهای یک عاملی را می‌توان با فرمول $RCOOH$ یا $R-C(=O)OH$ نشان داد که در آن R یک زنجیر هیدروکربنی یا هیدروژن است.

با هم بیندیشیم

با توجه به دو ساختار داده شده به پرسش‌ها پاسخ دهید:



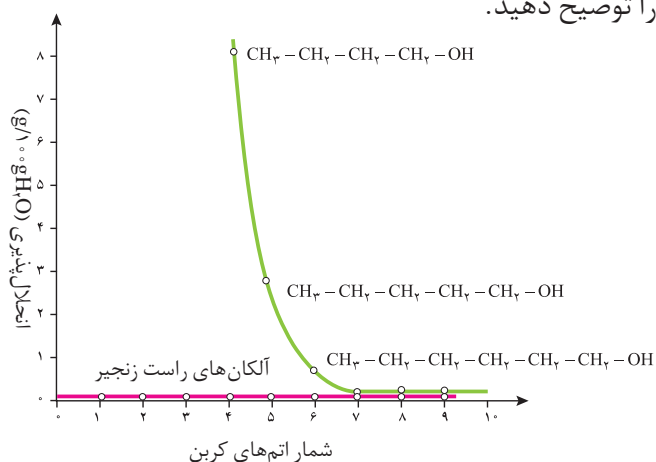
- الف) پیش‌بینی کنید چه نوع نیروهای بین مولکولی در این دو الکل وجود دارد؟
 ب) مولکول این الکل‌ها دو بخش قطبی و ناقطبی دارند. با توجه به اینکه گشتاور دوقطبی هیدروکربن‌ها حدود صفر است، این دو بخش را در هر مولکول بالا مشخص کنید.
 پ) پیش‌بینی کنید در شرایط یکسان انحلال‌پذیری کدام الکل در آب بیشتر است؟
 ت) درستی پیش‌بینی خود را با توجه به داده‌های جدول زیر بررسی کنید.

فرمول الکل	انحلال پذیری (g/100 g H ₂ O)
CH ₃ CH ₂ OH	به هر نسبتی حل می‌شود
CH ₃ CH ₂ CH ₂ CH ₂ CH ₂ CH ₂ CH ₂ CH ₂ OH	۰/۰۴۶

ث) درباره درستی جمله زیر گفت‌وگو کنید.

«با افزایش طول زنجیر هیدروکربنی در الکل‌ها، نیروی وان‌دروالس بر هیدروژنی غلبه می‌کند و ویژگی ناقطبی الکل افزایش می‌یابد.»

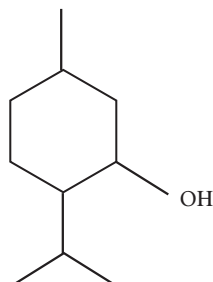
ج) نمودار زیر انحلال‌پذیری الکل‌ها را در مقایسه با هیدروکربن‌ها در آب نشان می‌دهد. روند تغییر آنها را توضیح دهید.



دریافتید که مولکول الکل‌ها دو بخش قطبی و ناقطبی دارد. زنجیر هیدروکربنی، بخش ناقطبی مولکول و گروه عاملی هیدروکسیل، بخش قطبی مولکول را تشکیل می‌دهد. بنابراین

آیا می دانید

منتول الکلی با فرمول ساختاری زیر است که بوی نعناع و سوسنبر ناشی از آن است. از منتول در تهیه برخی آدامس‌ها، آب‌نبات‌ها و داروها استفاده می‌شود.

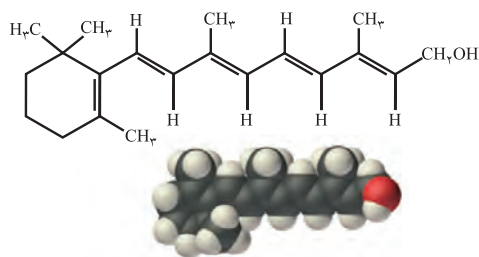


در الکل‌ها دو نوع نیروی بین مولکولی هیدروژنی و وان دروالسی وجود دارد. به طوری که در الکل‌های کوچک و تا پنج کربن، بخش قطبی بر ناقطبی غلبه دارد و الکل در آب محلول است. به دیگر سخن، نیروی بین مولکولی غالب در الکل‌ها تا پنج کربن از نوع هیدروژنی بوده و به همین دلیل به خوبی در آب حل می‌شوند. اما با افزایش شمار اتم‌های کربن، بخش ناقطبی مولکول بزرگ‌تر شده و میزان قطبیت مولکول کاهش می‌یابد. این روند سبب می‌شود که الکل‌های بزرگ‌تر در آب حل نشوند بلکه در چربی حل شوند. از این رو ویژگی چربی دوستی الکل‌ها با افزایش شمار اتم‌های کربن، افزایش می‌یابد. به بیان دیگر، هرچه شمار اتم‌های کربن الکل‌ها بیشتر شود، ویژگی آب‌گریزی آنها افزایش می‌یابد.

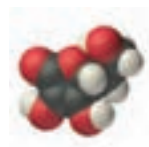
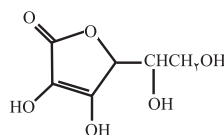
خود را بیازمایید

۱- کدام ویتامین‌های زیر در آب و کدام‌ها در چربی حل می‌شود؟ چرا؟

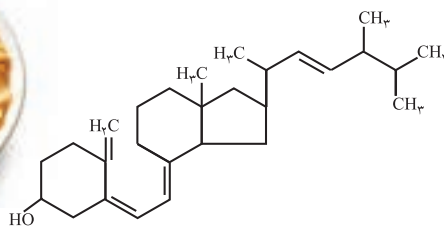
الف) ویتامین آ (A)



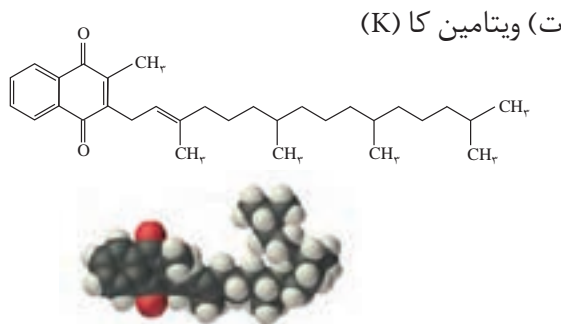
ب) ویتامین ث (C)



پ) ویتامین دی (D)



شاید تاکنون با افرادی روبه‌رو شده‌اید که از گرفتگی عضلات، کمردرد، دردهای عضلانی و درد مفاصل رنج می‌برند. این افراد برای کاهش درد خود از پمادهای موضعی گوناگونی استفاده می‌کنند که دارای چندین ماده آلی هستند. یکی از ترکیب‌های آلی موجود در برخی از آنها منتول است.



حفظ کردن فرمول شیمیایی مواد آلی و ارزشیابی از آنها، جزو اهداف کتاب نیست و نباید در آزمون‌های نهایی و کنکور سراسری مورد ارزیابی قرار گیرد.

۲- مصرف بیش از اندازه کدام دسته از ویتامین‌ها برای بدن مشکل خاصی ایجاد نمی‌کند؟ چرا؟

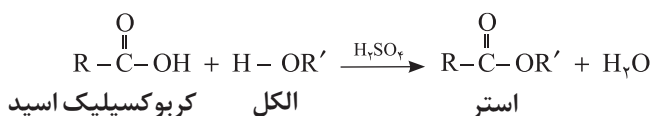
۳- گروه‌های عاملی موجود در هر یک از ترکیب‌های بالا را مشخص کنید.

۴- عبارت زیر را با خط زدن واژه نادرست در هر مورد کامل کنید.

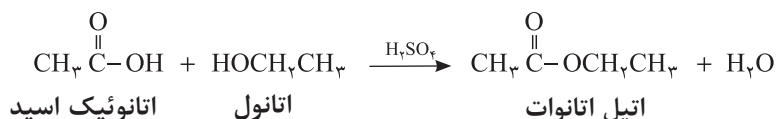
در ترکیب‌های آلی مانند الکل‌ها و کربوکسیلیک اسیدها که دو بخش قطبی و ناقطبی دارند، با افزایش طول زنجیر کربنی بخش $\frac{\text{ناقطبی}}{\text{قطبی}}$ بزرگ‌تر می‌شود، قطبیت مولکول کاهش می‌یابد و انحلال‌پذیری آن در آب $\frac{\text{بیشتر}}{\text{کمتر}}$ می‌شود.

واکنش استری شدن

یکی از ویژگی‌های مهم و کاربردی کربوکسیلیک اسیدها و الکل‌ها، واکنش میان آنهاست. این مواد در شرایط مناسب واکنش می‌دهند و با از دست دادن آب، به استر تبدیل می‌شوند. معادله زیر واکنش شیمیایی انجام شده را توصیف می‌کند.



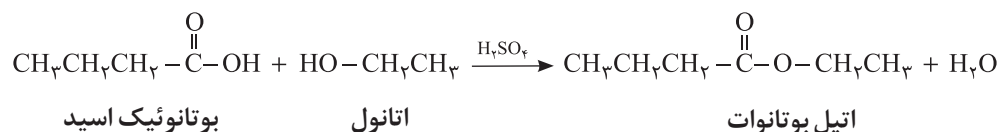
با این توصیف از واکنش استیک اسید با اتانول، طبق معادله زیر اتیل استات به دست می‌آید.



آیا می‌دانید


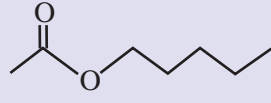

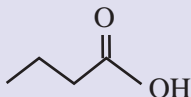

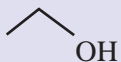
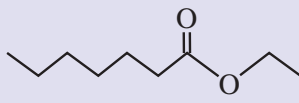
طعم یک ماده غذایی و میوه از کنار هم قرار گرفتن شمار زیادی از ترکیب‌های شیمیایی ایجاد می‌شود. برای مثال، پرتقال دارای ۲۵۰ نوع ماده شیمیایی است که با هم طعم آن را می‌سازند. استرها از مواد اصلی سازنده طعم و بوی مواد غذایی هستند. شیمی‌دان‌ها با شناسایی اجزای سازنده طعم‌های گوناگون، آنها را در آزمایشگاه و صنعت تهیه و تولید می‌کنند.

به همین ترتیب می‌توان اتیل بوتانات را در مقیاس صنعتی تولید و از آن برای تولید شوینده با بوی آناناس استفاده کرد.



خود را بیازمایید

با رسم ساختار الکل و اسید سازنده برای هر استر، جدول زیر را کامل کنید.

نام میوه	ساختار الکل سازنده	ساختار اسید سازنده	ساختار استر
			
	CH_3OH		
			

آیا می‌دانید

اسیدهای موجود در انگور و ریواس به ترتیب تارتاریک اسید و اگزالیک اسید نام دارند.

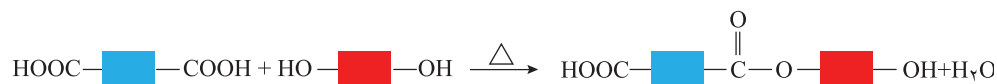


$\text{HOOC}-\text{CH}_2-\text{COOH}$



$\text{HO}-\text{CH}(\text{COOH})-\text{CH}(\text{COOH})-\text{OH}$

اکنون با توجه به واکنش استری شدن، می‌توان نتیجه گرفت که از واکنش یک کربوکسیلیک اسید دو عاملی با یک الکل دو عاملی در شرایط مناسب، یک پلی‌استر تولید می‌شود. در مرحله نخست این واکنش، یکی از گروه‌های هیدروکسیل موجود در الکل با یکی از گروه‌های کربوکسیل موجود در اسید ترکیب شده و با از دست دادن آب، گروه عاملی استری را ایجاد می‌کند (شکل ۱۴-الف).



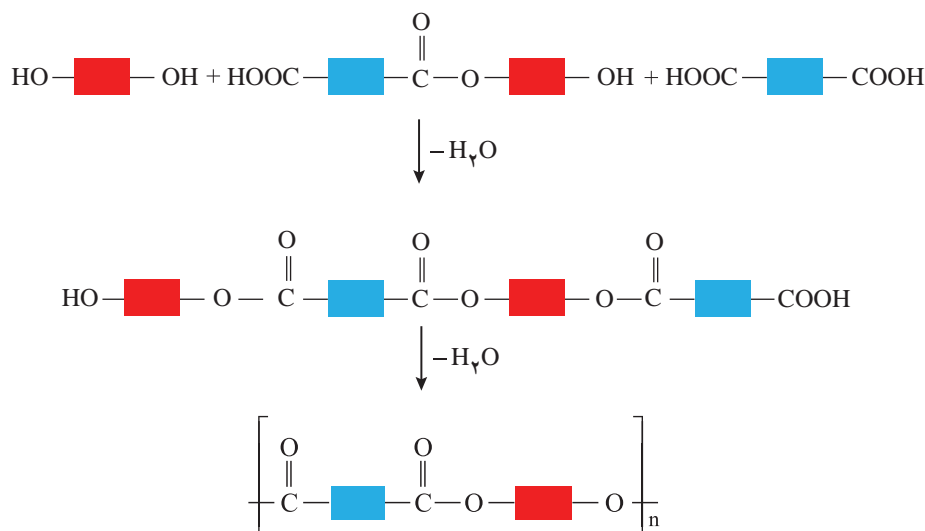
شکل ۱۴-الف) الگوی از واکنش استری شدن بین کربوکسیلیک اسید و الکل دو عاملی

همان‌طور که در شکل ۱۴-الف می‌بینید در ساختار فراورده، همچنان یک گروه عاملی هیدروکسیل و یک گروه عاملی کربوکسیل وجود دارد. این ساختار نوید می‌دهد که واکنش استری شدن می‌تواند ادامه پیدا کند، آن‌چنان که از یک سو با عامل اسیدی و از سوی دیگر با عامل الکلی در واکنش شرکت می‌کند. با ادامه این روند مولکول‌های بیشتری با یکدیگر واکنش می‌دهند و سرانجام مولکول‌هایی با زنجیر بلند و شمار زیادی عامل استری تشکیل می‌شود. فراورده‌ای که پلی‌استر^۱ نامیده می‌شود (شکل ۱۴-ب).

^۱ Polyester

آیا می‌دانید

نخ‌های خیاطی از جنس پلی‌استر هستند. هر چه مولکول سازنده پلی‌استر طولانی‌تر باشد، نیروی بین آنها قوی‌تر و استحکام نخ آن بیشتر است.




شکل ۱۴- ب) الگوی واکنش تشکیل پلی‌استر

می‌دانید که رفتار و ویژگی‌های مواد به ساختار آنها بستگی دارد. بنابراین با استفاده از کربوکسیلیک اسیدها و الکل‌های دو عاملی گوناگون، پلی‌استرهایی با ساختار متفاوت و گوناگون می‌توان تهیه کرد. پلیمرهایی که به دلیل داشتن خواص معین و منحصر به فرد، کاربردهای ویژه‌ای دارند. گوناگونی رفتار پلیمرها سبب شد تا شیمی‌دان‌های بیشتری به بررسی واکنش پلیمری شدن علاقه‌مند شوند. نتیجه این بررسی‌ها شناسایی دسته تازه‌ای از پلیمرها بود.

پلی‌آمیدها

پلیمرهای طبیعی زیادی شناسایی شده است که در ساختار آنها اتم‌های C، H، O و N وجود دارد. مو، ناخن، پوست بدن ما همچنین شاخ حیوانات و پشم گوسفند نمونه‌ای از این پلیمرهای طبیعی هستند. در این دسته از پلیمرها گروه عاملی آمید $\left(\begin{array}{c} \text{O} \\ \parallel \\ -\text{C}-\text{N}- \\ | \end{array} \right)$ در طول زنجیر کربنی تکرار شده است (شکل ۱۵).

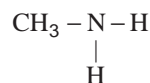
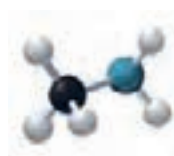


شکل ۱۵- نمونه‌هایی از پلیمرهای طبیعی

عامل آمیدی از واکنش اسید آلی با آمین به دست می‌آید. آمین، ترکیبی آلی است که در ساختار آنها اتم‌های C، H و N وجود دارد. متیل آمین، ساده‌ترین آمین است. وجود اتم نیتروژن، خواص شیمیایی و فیزیکی منحصر به فردی به آمین‌ها داده است (شکل ۱۶). به طوری که بوی ماهی ناشی از آمین‌های موجود در آن است.

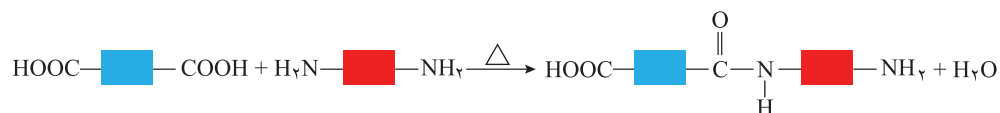


● بوی ماهی به دلیل وجود متیل آمین و برخی آمین‌های دیگر است.



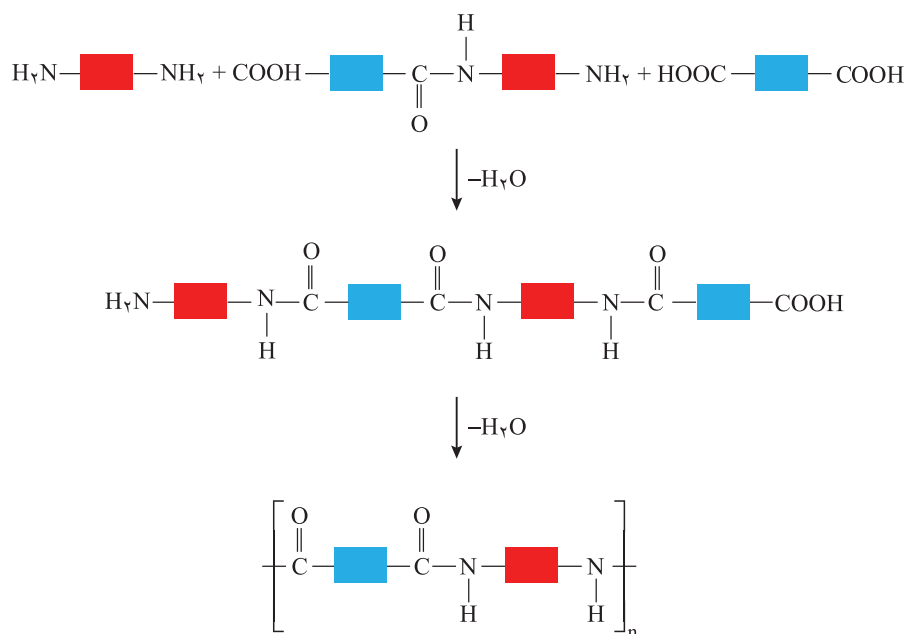
شکل ۱۶- فرمول ساختاری، مدل گلوله-میله و فضا پرکن متیل آمین

واکنش تولید پلی آمید شبیه به تولید پلی استر است با این تفاوت که به جای گروه عاملی الکل، گروه عاملی آمین با گروه کربوکسیل واکنش می دهد (شکل ۱۷- الف).



شکل ۱۷- الف) تشکیل گروه آمیدی

با ادامه واکنش، گروه های آمیدی بیشتری تشکیل شده و سرانجام پلی آمید^۱ تولید می شود (شکل ۱۷- ب).



شکل ۱۷- ب) الگوی واکنش تشکیل پلی آمید



● پوشاک دوخته شده از کولار سبک و بسیار محکم بوده و در برابر ضربه، خراش و بریدگی مقاوم است. این پلیمر تاکنون جان میلیون ها انسان را در حوادث گوناگون نجات داده است.

پلی آمیدهای ساختگی را در صنایع پتروشیمی از واکنش دی آمین ها با دی اسیدها تولید می کنند. کولار^۲ یکی از معروف ترین پلی آمیدها است. این پلیمر از فولاد هم جرم خود پنج برابر مقاوم تر است. از کولار در تهیه تیر اتومبیل، قایق بادبانی، لباس های مخصوص مسابقه موتورسواری و جلیقه های ضد گلوله استفاده می شود (شکل ۱۸).

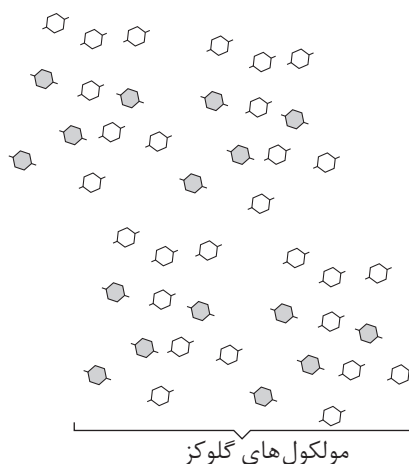
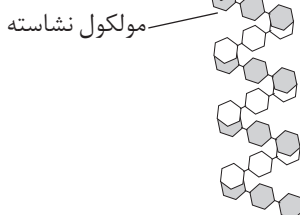


شکل ۱۸- برخی کاربردهای کولار

پلیمرها، ماندگار یا تخریب پذیر

آیا نان یا سیب زمینی مزه‌ای شیرین دارد؟ نان و سیب زمینی از نشاسته غنی هستند. نشاسته، پلی ساکاریدی است که از اتصال مولکول‌های گلوکز به یکدیگر تشکیل شده است. اینک پاسخ شما به پرسش بالا چیست؟ واقعیت این است که اگر نان را برای مدت طولانی‌تری در دهان بجوید، مزه‌ای شیرین احساس خواهید کرد. سیب زمینی پخته نیز اندکی مزه شیرین دارد. این مزه شیرین ناشی از چیست؟

شیمی دان‌ها بر اساس یافته‌های تجربی دریافته‌اند که مولکول‌های نشاسته در شرایط مناسب مانند محیط مرطوب با کاتالیزگر یا محیط گرم و مرطوب به آرامی به مونومرهای سازنده (گلوکز) تبدیل می‌شوند و مزه شیرین ایجاد می‌کنند. نشاسته هنگام گوارش (که از دهان آغاز می‌شود) به گلوکز تبدیل می‌گردد. در واقع گوارش نشاسته شامل واکنش شیمیایی تبدیل آن است که به کمک آنزیم‌ها تسریع می‌شود (شکل ۱۹).



شکل ۱۹- الگوی تبدیل نشاسته به مونومرهای سازنده آن

استرها نیز در شرایط مناسب با آب واکنش می‌دهند و به الکل و اسید آلی سازنده تبدیل می‌شوند. این واکنش به آب کافت استرها معروف است. برای نمونه معادله زیر آب کافت

آیا می‌دانید

برخی میوه‌های کال و نارس نشاسته دارند. این نشاسته هم‌زمان با رسیدن میوه به گلوکز تبدیل می‌شود و مزه شیرین آن را ایجاد می‌کند. البته شیرینی میوه‌ها به دلیل وجود دیگر قندهای ساده از جمله فروکتوز نیز هست.



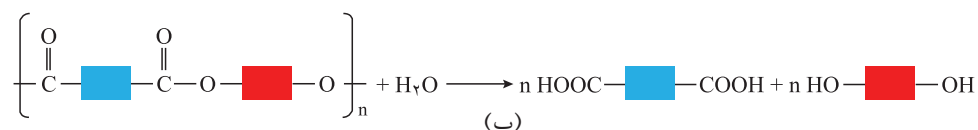
$$\text{CH}_3\text{CH}_2\text{CH}_2-\overset{\text{O}}{\parallel}\text{C}-\text{O}-\text{CH}_2\text{CH}_2\text{CH}_3 + \text{H}_2\text{O} \xrightarrow{\text{H}_2\text{SO}_4} \text{CH}_3\text{CH}_2\text{CH}_2-\overset{\text{O}}{\parallel}\text{C}-\text{OH} + \text{HO}-\text{CH}_2\text{CH}_2\text{CH}_3$$

اتیل بوتائوٹ
بوتائوٹک اسید
اتانول

سارندہ تبدیل میں سونڈ (سکل ۱۰):

$$\left[\text{C}(=\text{O}) - \text{[Blue Box]} - \text{C}(=\text{O}) - \text{N}(\text{H}) - \text{[Red Box]} - \text{N}(\text{H}) \right]_n + \text{H}_2\text{O} \longrightarrow n \text{HOOC} - \text{[Blue Box]} - \text{COOH} + n \text{H}_2\text{N} - \text{[Red Box]} - \text{NH}_2$$

(الف)



با توجه به اینکه هر نوع پوشاک تاریخ مصرفی دارد می‌توان گفت پس از مدتی تار و پود آنها سست و پوسیده می‌شوند زیرا مولکول‌های پلیمر سازنده آنها با مولکول‌های موجود در محیط پیرامون واکنش می‌دهند و برخی از پیوندهای موجود در ساختار آنها مانند پیوند استری یا آمیدی شکسته می‌شوند. با شکستن این پیوندها، استحکام الیاف پارچه کم شده و تار و پود آن به سادگی گسسته می‌شود. بدیهی است که هرچه آهنگ شکستن این پیوندها سریع‌تر باشد، فرایند پوسیده شدن پارچه سریع‌تر رخ می‌دهد.

خود را بیازمایید

(الف) محیط سرد و خشک (ب) محیط گرم و مرطوب

۳- اگر لباس‌ها را برای مدت طولانی در محلول آب و شوینده قرار دهید، بوی بد و نافذی پیدا می‌کنند. توضیح دهید چه رخ می‌دهد؟

117

محسوسی در رنگ لباس ایجاد نمی‌شود. چرا؟

۵- لباس‌های پلی‌استری در اثر عوامل محیطی در طول زمان پوسیده می‌شوند. این پوسیده شدن به معنی شکستن پیوندهای استری و سست شدن تار و پود لباس است. جدول زیر داده‌های مربوط به واکنش آبکافت یک نوع استر را در حضور اسید نشان می‌دهد. با توجه به آن به پرسش‌های مطرح شده پاسخ دهید:

۰/۰۸	۰/۱۲	۰/۱۷	۰/۲۳	۰/۳۱	۰/۴۲	۰/۵۵	[استر]
۹۰	۷۵	۶۰	۴۵	۳۰	۱۵	۰	زمان (s)

الف) نمودار تغییر غلظت استر بر حسب زمان را رسم کنید.







ب) سرعت متوسط آبکافت استر در بازه زمانی صفر تا ۳۰ ثانیه چند مول بر لیتر بر ثانیه است؟

پ) سرعت واکنش در کدام بازه زمانی بیشتر است؟ چرا؟
صفر تا ۲۰ ثانیه ۶۰ تا ۹۰ ثانیه

هرچند پلی‌استرها و پلی‌آمیدها شکسته می‌شوند، اما آهنگ این واکنش‌ها به ساختار مونومرهای سازنده بستگی دارد. بنابراین جنس لباس، در مدت زمان استفاده از آن مؤثر است. تجربه نشان می‌دهد که به‌طور کلی واکنش آبکافت پلی‌استرها و پلی‌آمیدها بسیار کند است. به همین دلیل لباس‌های تهیه شده از این نوع پارچه‌ها برای مدت‌های طولانی قابل استفاده است زیرا استحکام خود را حفظ می‌کنند. این در حالی است که پلیمرهای حاصل از هیدروکربن‌های سیرنشده، به انجام واکنش تمایلی ندارند و از این رو پوشاک و پوشش‌های تهیه شده از این مواد در طبیعت تجزیه نمی‌شوند و برای سالیان طولانی دست نخورده باقی می‌مانند. در واقع پلیمرهای ماندگارند. علت این است که این پلیمرها، ساختاری شبیه به آلکان‌ها دارند و سیر شده هستند. هر چند استفاده از این پلیمرها صرفه اقتصادی دارد، اما از نگاه پیشرفت پایدار، تولید و استفاده از این پلیمرها الگوی مصرف مطلوبی نیست زیرا ماندگاری دراز مدت این مواد در طبیعت سبب ایجاد مشکلات فراوانی مانند تبدیل محیط‌زیست به گورستان زباله، کثیف شدن چهره شهرها و محیط‌زیست، آسیب زدن به زندگی جانداران و... می‌شود که هزینه‌های تحمیل شده به اقتصاد یک جامعه را خیلی بالا می‌برد. بدیهی است بازیافت این مواد یکی از راهکارهای عملی است که به حفظ و بهره‌برداری بهینه از منابع منجر خواهد شد. به منظور آسان‌سازی و افزایش کارایی بازیافت و افزایش کیفیت فرآورده‌های حاصل از بازیافت، برای هر پلیمر نشانه‌ای در نظر گرفته‌اند که بر روی کالاها حک می‌شود.

آیا می‌دانید

مصرف برخی پلیمرها در صنایع گوناگون بیشتر است. به طوری که شش پلیمر نشان داده شده در جدول زیر نزدیک به ۷۵ درصد پلیمرهای ساختگی را تشکیل می‌دهند.

نام پلیمر	نشانه پلیمر
پلی اتیلن ترفتالات	 PET
پلی اتن سنگین	 HDPE
پلی وینیل کلرید	 PVC, or V
پلی اتن سبک	 LDPE
پلی پروپن	 PP
پلی استیرن	 PS

این نشانه شامل عددی است که درون یک مثلث قرار دارد. از این رو انتظار می‌رود که این نشانه روی همه کالاهای ایرانی نیز حک شود تا فرایند بازیافت آنها آسان‌تر شود. جایگزینی پلیمرهای ساختگی با پایه نفتی با پلیمرهای زیست تخریب پذیر، راهکار دیگری است که در دو دهه اخیر مورد توجه همه جهانیان قرار گرفته است.

پلیمر سبز^۱

شیمی دان‌ها با انجام پژوهش‌های گسترده، موفق به ساخت دسته‌ای از پلیمرها شدند که توسط جانداران ذره‌بینی تجزیه می‌شوند. هرگاه این پلیمرها و کالاهای ساخته شده از آنها در طبیعت رها شوند، پس از چند ماه به مولکول‌های ساده مانند آب و کربن دی اکسید تبدیل می‌شوند. به همین دلیل به پلیمرهای دوستدار محیط زیست یا پلیمرهای سبز معروف هستند.

این پلیمرها را از فراورده‌های کشاورزی مانند سیب‌زمینی، ذرت و نیشکر تهیه می‌کنند. به‌طوری که نخست نشاسته موجود در این مواد را به لاکتیک اسید تبدیل کرده، سپس از واکنش پلیمری شدن آن در شرایط مناسب پلی لاکتیک اسید^۲ تولید می‌کنند.

از پلی لاکتیک اسید انواع ظرف‌های پلاستیکی یکبار مصرف مانند وسایل آشپزخانه، سفره، سطل زباله، کیسه پلاستیکی و... تولید شده و کاربرد آنها رو به گسترش است. این پلاستیک‌ها امکان تبدیل شدن به کود را دارند به همین دلیل ردپای کوچک‌تری در محیط‌زیست برجای می‌گذارند.



● شیر ترش‌شده دارای لاکتیک اسید است.

آیا می‌دانید

از پلیمرهای زیست تخریب‌پذیر برای بخیه زدن استفاده می‌شود.



در میان تارنماها

شیمی دان‌ها همچنان در جستجوی پلیمرهای جدید با کاربردهای ویژه‌ای هستند. برخی از آنها عبارت‌اند از:

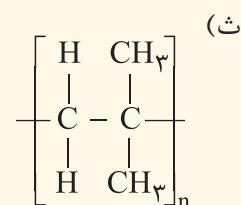
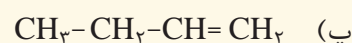
- مواد پرکننده دندان
- آستر نرم برای دندان مصنوعی
- پوشاک ضد آب
- پلاستیک‌های رسانا
- نخ بخیه هوشمند

با مراجعه به منابع اینترنتی معتبر درباره آنها اطلاعات جمع‌آوری و در کلاس ارائه کنید.

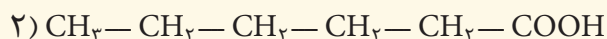
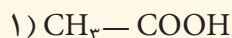
۱- Green Polymer

۲- Poly Lactic Acid (PLA)

۱- در هر یک از موارد زیر ساختار پلیمر یا مونومر خواسته شده را مشخص کنید.



۲- در شرایط یکسان انحلال‌پذیری کدام کربوکسیلیک اسید در آب بیشتر است؟ چرا؟



۳- برای استری با فرمول $\text{C}_6\text{H}_4\text{O}_2$:

(الف) ساختار آن را رسم کنید.

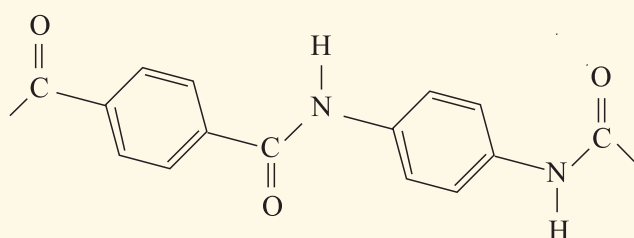
(ب) ساختار الکل و اسید سازنده آن را رسم کنید.

(پ) نیروی بین مولکولی را مشخص کنید.

(ت) جرم مولی را حساب کنید.

(ث) نقطه جوش آن را با بیان دلیل با اتانوائیک اسید مقایسه کنید.

۴- بخشی از ساختار مولکول سازنده یک پلیمر در شکل زیر ارائه شده است. با توجه به آن:



الف) این پلیمر به کدام دسته از پلیمرها تعلق دارد؟

ب) نیروی بین مولکول‌های این پلیمر از چه نوعی است؟

پ) واحدهای سازنده این پلیمر کدام گروه از مواد زیر است؟

● دی آمین‌ها و دی اسیدها

● دی الکل‌ها و دی اسیدها

● آمین‌ها و اسیدها

۵- با توجه به معادله واکنش زیر به پرسش‌های خواسته شده پاسخ دهید.



۱، ۲- دی کلرواتان

الف) ساختار لوویس فراورده (۱، ۲- دی کلرواتان) را رسم کنید.

ب) نمودار آنتالپی واکنش را رسم کنید.

پ) حساب کنید از واکنش ۴۲ گرم گاز اتن با مقدار کافی از گاز کلر، چند کیلو ژول گرما مبادله می‌شود؟

۶- واکنش پلیمری شدن اتن در شرایط گوناگونی به تولید پلی اتن‌هایی با جرم مولی میانگین متفاوت منجر می‌شود. تجربه

نشان می‌دهد که جرم مولی میانگین به مقدار کاتالیزگرهای واکنش بستگی دارد. در جدول زیر نتایج یک پژوهش تجربی در

این مورد داده شده است.

جرم مولی میانگین پلیمر (گرم)	شمار مول‌های کاتالیزگر محتوی آلومینیم (شماره ۲)	شمار مول‌های کاتالیزگر محتوی تیتانیم (شماره ۱)
۲۷۲۰۰۰	۱۲	۱
۲۹۲۰۰۰	۶	۱
۲۹۸۰۰۰	۳	۱
۲۸۴۰۰۰	۱	۱
۱۶۰۰۰۰	۰/۶۳	۱
۴۰۰۰۰	۰/۵۳	۱
۲۱۰۰۰	۰/۵۰	۱
۳۱۰۰۰	۰/۲۰	۱

الف) در چه نسبت مولی از این دو کاتالیزگر پلی اتن با بیشترین جرم مولی تولید می‌شود؟

ب) تغییر جرم مولی پلیمر را برحسب نسبت مولی کاتالیزگر شماره ۱ به ۲ رسم کنید.

پ) در نسبت مولی ۸ به ۱ از این کاتالیزگرها جرم مولی را پیش‌بینی کنید.

ت) تحلیل خود از داده‌های جدول و نمودار رسم شده را بیان کنید.

.....واژه‌نامه.....

خانواده‌ای از هیدروکربن‌های سیر شده که میل ترکیبی زیادی ندارند و به فراوانی در نفت خام یافت می‌شوند.	۳۲	Alkane	آلکان
آلکانی که هر اتم کربن در ساختار آن به یک یا دو اتم کربن دیگر متصل است.	۳۲	Straight – Chain Alkane	آلکان راست زنجیر
آلکانی که در ساختار آنها یک یا چند اتم کربن با سه یا چهار اتم کربن دیگر پیوند داشته باشد.	۳۲	Branched Alkane	آلکان شاخه‌دار
هیدروکربن سیر نشده‌ای که دو اتم کربن آن با پیوند کووالانسی دوگانه به هم متصل شده‌اند.	۳۹	Alkene	آلکن
هیدروکربن سیر نشده‌ای که دو اتم کربن آن با پیوند کووالانسی سه‌گانه به هم متصل شده‌اند.	۴۱	Alkyne	آلکین
مقاومت یک سیال (شاره) را در برابر جاری شدن نشان می‌دهد.	۳۴	Viscosity	گران روی
کمیتی که نشان می‌دهد یک واکنش شیمیایی در چه گستره‌ای از زمان انجام می‌شود.	۷۷	Reaction Rate	آهنگ واکنش
مولکول بزرگی که از به هم پیوستن یک صد تا چند هزار تک پار به وجود می‌آید.	۱۰۲	Polymer	بَسپار یا پلیمر
فرایندی که در آن اجزای نفت خام را از یکدیگر جدا می‌کند.	۴۴	Refine	پالایش
مولکول ساده‌ای که از به هم پیوستن آنها بَسپار (پلیمر) به وجود می‌آید.	۱۰۳	Monomer	تک‌پار
روشی برای جداسازی اجزای مخلوط چند مایع که دارای نقطه جوش متفاوت هستند.	۴۴	Fractional Distillation	تقطیر جزء به جزء
موادی که در محیط زیست به کمک باکتری‌ها به مواد ساده‌تری تجزیه می‌شوند.	۱۱۷	Biodegradable	زیست تخریب‌پذیر
ماده‌ای سوختنی است که تنها برای تأمین انرژی سوزانده می‌شود.	۴	Fuel	سوخت
موادی مانند زغال سنگ، نفت خام و گاز طبیعی که طی میلیون‌ها سال از تجزیه گیاهان و جانوران به وجود می‌آیند.	۴	Fossil Fuel	سوخت فسیلی
واکنش اکسایشی که سریع روی می‌دهد و با ایجاد شعله و آزاد کردن مقدار زیادی انرژی همراه است.	۶۲	Combustion Reaction	واکنش سوختن
به مجموع انرژی جنبشی ذره‌های سازنده یک نمونه ماده گفته می‌شود.	۵۵	Thermal Energy	انرژی گرمایی
ترکیب‌ها و مواد آلی گوناگون که از نفت یا گاز طبیعی تهیه می‌شوند.	۴۰	Petrochemical Products	فراورده‌های پتروشیمیایی
سوختن یک ترکیب آلی در حضور اکسیژن کافی که کربن دی‌اکسید و آب تولید می‌کند.	۶۲	Complete Combustion	سوختن کامل

شبه فلز	۶ Metalloide	عنصری که برخی خواص فیزیکی آن شبیه فلزها اما خواص شیمیایی آنها شبیه نافلزهاست.
شیمی آلی	۱۰۲ Organic Chemistry	شاخه‌ای از شیمی که به بررسی ترکیب‌های آلی می‌پردازد و به آن شیمی ترکیب‌های کربن نیز گفته می‌شود.
طلای سیاه	۲۹ Black Gold	عنوانی که به نفت خام نسبت می‌دهند و ارزش اقتصادی آن را یادآور می‌شود.
فلز	۱۲ Metal	عنصری با جلای فلزی و خاصیت چکش‌خواری که اغلب نقطه ذوب و جوش بالایی دارد و جریان برق و گرما را از خود عبور می‌دهد.
فلزهای قلیایی	۱۲ Alkali Metals	فلزهای گروه اول جدول دوره‌ای عناصر که شامل Fr و Cs, Rb, K, Na, Li است.
فتوسنتز	۶۴ Photosynthesis	واکنشی که در آن گیاه از کربن دی‌اکسید، آب و نور خورشید، گلوکز و اکسیژن می‌سازد.
رادیکال	۸۹ Radical	گونه پرنرژی و ناپایدار که در ساختار خود الکترون جفت نشده دارد.
هالوژن	۱۳ Halogen	به هر یک از عنصرهای گروه ۱۷ جدول دوره‌ای شامل فلوئور، کلر، برم، ید و استاتین گفته می‌شود.
کاتالیزگر	۸۹ Catalyst	ماده‌ای که سرعت واکنش شیمیایی را افزایش می‌دهد.
فلز واسطه	۱۶ Transition Metal	همان فلزهای دسته d هستند که در اتم آنها زیر لایه d در حال پر شدن است.
واکنش ترمیت	۲۴ Thermite Reaction	واکنشی بسیار گرماده میان فلز آلومینیم و آهن (III) اکسید که از آهن مذاب تولید شده در آن برای جوشکاری خطوط راه آهن استفاده می‌شود.
منبع تجدیدپذیر	۲۷ Renewable Resource	منبعی که از طریق فرایندهای طبیعی تشکیل یا از نو تولید می‌شوند.
منبع تجدیدناپذیر	۲۷ Nonrenewable Resource	منبعی که تشکیل و جایگزین شدن آن از طریق فرایندهای طبیعی عملی نیست یا سرعت آنها بسیار کم است.
نفت خام	۲۸ Petroleum	مایعی غلیظ، سیاه‌رنگ یا قهوه‌ای مایل به سبز که مخلوطی طبیعی از صدها هیدروکربن و ترکیب آلی است.
واکنش‌پذیری شیمیایی	۱۱ Chemical Reactivity	به تمایل برای انجام واکنش شیمیایی می‌گویند.
همپار	۷۰ Isomer	موادی که فرمول مولکولی یکسان اما فرمول ساختاری متفاوتی دارند.
هیدروکربن	۲۸ Hydrocarbon	ترکیب‌هایی که از دو عنصر کربن و هیدروژن تشکیل شده‌اند.
هیدروکربن سیرشده	۴۰ Saturated Hydrocarbon	هیدروکربنی که در آن اتم کربن با چهار پیوند کووالانسی به چهار اتم دیگر متصل شده است.
هیدروکربن سیرنشده	۴۱ Unsaturated Hydrocarbon	هیدروکربنی که در آن بین اتم‌های کربن پیوند دویا سه‌گانه وجود دارد.
هیدروکربن حلقوی	۴۲ Cyclic Hydrocarbon	هیدروکربن با بیش از سه اتم کربن که ساختاری حلقوی دارد.

گروه آلکیل	Alkyl Group	۳۷	گونه‌ای که با برداشتن یک اتم هیدروژن از یک مولکول آلکان به دست می‌آید.
گروه عاملی	Functional Group	۶۸	اتم یا گروهی از اتم‌ها که وجود آنها در مولکول‌های اعضای یک خانواده از مواد آلی، خواص فیزیکی و شیمیایی ویژه و منحصر به فردی به آنها می‌بخشد.
نیروهای وان در والس	Van der Waals Forces	۱۱۱	نوعی نیروی جاذبه بین مولکولی که در میان همه مولکول‌ها وجود دارد.
پلیمر شدن	Polymerization	۱۰۲	مجموعه‌ای از واکنش‌ها که در آن شمار بسیاری مولکول کوچک با یکدیگر ترکیب می‌شوند و درشت مولکول‌هایی به نام پلیمر یا بسپار تولید می‌کنند.
مقدار نظری	Theoretical Yield	۲۲	مقدار فراورده مورد انتظار که از محاسبه‌های استوکیومتری به دست می‌آید.
مقدار عملی	Actual Yield	۲۲	مقدار فراورده‌ای که در عمل تولید می‌شود.
بازده درصدی	Percent Yield	۲۳	نسبت مقدار عملی فراورده یک واکنش به مقدار نظری آن است که به صورت درصد بیان می‌شود.
گرماشیمی	Thermochemistry	۶۰	شاخه‌ای از علم شیمی که به مطالعه کمی و کیفی انرژی گرمایی مبادله شده در واکنش‌های شیمیایی می‌پردازد.
گرما	Heat	۵۶	انرژی گرمایی که به دلیل اختلاف دما جاری می‌شود.
ظرفیت گرمایی	Heat Capacity	۵۷	مقدار گرمای مورد نیاز برای افزایش دمای ماده به اندازه یک درجه سلسیوس را نشان می‌دهد.
گرمای ویژه	Specific Heat	۵۷	مقدار گرمای مورد نیاز برای افزایش دمای یک گرم ماده به اندازه یک درجه سلسیوس را نشان می‌دهد.
سامانه	System	۵۹	بخشی از جهان که برای مطالعه انتخاب می‌شود.
محیط	Surrounding	۵۹	هر چیزی که در پیرامون سامانه باشد، محیط نامیده می‌شود.
آنتالپی واکنش	Reaction Enthalpy	۶۴	به تغییر محتوای انرژی یک سامانه شیمیایی در فشار ثابت، آنتالپی واکنش گفته می‌شود.
آنتالپی سوختن	Enthalpy of Combustion	۷۰	گرمای آزاد شده در فشار ثابت هنگام سوختن یک مول از ماده در مقدار کافی اکسیژن را نشان می‌دهد.
آنتالپی تبخیر	Enthalpy of Vaporization	۶۳	گرمای مصرف شده در فشار ثابت هنگام تبدیل یک مول مایع به بخار را در دمای معین نشان می‌دهد.
آنتالپی تصعید	Enthalpy of Sublimation	۹۵	تغییر آنتالپی هنگام تصعید شدن یک مول ماده جامد را نشان می‌دهد.
آنتالپی پیوند	Bond Enthalpy	۶۵	مقدار انرژی مصرف شده در فشار ثابت هنگام شکستن یک مول پیوند بین دو اتم گازی و تبدیل آنها به اتم‌های گازی جدا از یکدیگر.
گرماسنجی	Calorimetry	۷۲	روش تجربی برای اندازه‌گیری گرمای آزاد یا جذب شده در یک فرایند است.
گرماسنج لیوانی	Coffee - Cup Calorimeter	۷۲	دستگاهی که برای اندازه‌گیری گرمای یک واکنش در فشار ثابت به کار می‌رود.

گرماسنج بمبی	۷۱ Bomb Calorimeter	دستگاهی که برای اندازه گیری دقیق گرمای سوختن یک ماده به کار می رود.
قانون هس	۷۲ Hess's Law	ΔH یک واکنش را می توان از جمع جبری ΔH چند واکنش دیگر به دست آورد.
فرایند گرماده	۵۹ Exothermic Process	فرایندی که در آن گرما آزاد می شود و آنتالپی سامانه کاهش می یابد.
فرایند گرماگیر	۵۹ Endothermic Process	فرایندی که در آن گرما جذب می شود و آنتالپی سامانه افزایش می یابد.
آسکوربیک اسید	۷۹ Ascorbic Acid	ویتامین ث؛ جامد سفید رنگ و بلوری که به خوبی در آب حل می شود.
سرعت واکنش	۷۷ Reaction Rate	کمیتی تجربی که برای یک واکنش شیمیایی نسبت تغییر ویژگی های قابل اندازه گیری واکنش دهنده (ها) یا فراورده (ها) را به زمان نشان می دهد.
سینتیک شیمیایی	۸۳ Chemical Kinetics	شاخه ای از علم شیمی که درباره سرعت واکنش های شیمیایی، عوامل مؤثر بر سرعت و نحوه انجام آنها گفت و گو می کند.

منابع و مآخذ

- 1- Silberberg, M. S. , Principles of General Chemistry , Mc GrawHill, 2007.
- 2- Reger, D. L. ,Goode, S. R. Ball, D.W., Chemistry, Brooks/Cole, 2010.
- 3- Kotz, John C. ; Treichel, Paul M.; Weaver, Gabriela C., Chemistry & Chemical Reactivity , 2006,Thomson - Brooks/Cole.
- 4- Ebbing, Darrell D.; Gammon, Steven D., General Chemistry, 2009, Brooks/Cole.
- 5- Tro, Nivaldo J., Principles of Chemistry, A Molecular Approach, 2010, Pearson.
- 6- Russo, S.; Silver, M., Introductory Chemistry, 2011, Prentice Hall.
- 7- Phillips, J.S.; Strozak, V.S.; Wistrom, C.; Zike, D. Chemistry, Concepts and Applications, 2009, Glencoe McGraw- will.
- 8- Gilbert, T.R.; kirss, R.V., Foster, N.; Davies, Chemistry, the science context, 2009, W.W. Norton & Company.
- 9- Middlecamp Catherine H. [et al.] Chemistry In Context: Applying Chemistry To Society, 2012.
- 10- Seager Spencer L., Slabaugh Micheal R., Chemistry for Today General, Organic, and Biochemistry, 2014.
- 11- Tro Nivaldi J., Chemistry in Focus, A Molecular View of Our World, 2009.
- 12- Chang Raymond, Chemistry. 2010.



جدول دوره‌ای عناصر

								۱۸ He هلیوم ۴,۰۰۳
			۱۳ B بور ۱۰,۸۰	۱۴ C کربن ۱۲,۰۱	۱۵ N نیتروژن ۱۴,۰۱	۱۶ O اکسیژن ۱۶,۰۰	۱۷ F فلوئور ۱۹,۰۰	
			۱۳ Al آلومینیم ۲۶,۹۸	۱۴ Si سیلیسیم ۲۸,۰۹	۱۵ P فسفر ۳۰,۹۷	۱۶ S گوگرد ۳۲,۰۷	۱۷ Cl کلر ۳۵,۴۵	۱۸ Ar آرگون ۳۹,۹۵
۱۰ Ni نیکل ۵۸,۶۹	۱۱ Cu مس ۶۳,۵۵	۱۲ Zn روی ۶۵,۳۹	۳۱ Ga گالیم ۶۹,۷۲	۳۲ Ge ژرمانیم ۷۲,۶۴	۳۳ As آرسنیک ۷۴,۹۲	۳۴ Se سلنیم ۷۸,۹۶	۳۵ Br برم ۷۹,۹۰	۳۶ Kr کریپتون ۸۳,۸۰
۴۶ Pd پالادیم ۱۰۶,۴۰	۴۷ Ag نقره ۱۰۷,۹۰	۴۸ Cd کادمیم ۱۱۲,۴۰	۴۹ In ایندیم ۱۱۴,۸۰	۵۰ Sn قلع ۱۱۸,۷۰	۵۱ Sb آنتیموان ۱۲۱,۸۰	۵۲ Te تلوریم ۱۲۷,۶۰	۵۳ I ید ۱۲۶,۹۰	۵۴ Xe زنون ۱۳۱,۳۰
۷۸ Pt پلاتین ۱۹۵,۱	۷۹ Au طلا ۱۹۷,۰۰	۸۰ Hg جیوه ۲۰۰,۶۰	۸۱ Tl تالیم ۲۰۴,۳۰	۸۲ Pb سرب ۲۰۷,۲۰	۸۳ Bi بیسموت ۲۰۹,۰۰	۸۴ Po پولونیم [۲۰۹]	۸۵ At استاتین [۲۱۰]	۸۶ Rn رادون [۲۲۲]
۱۱۰ Ds دارمشتاتیم [۲۸۱]	۱۱۱ Rg رونتگنیم [۲۸۰]	۱۱۲ Cn کوپرنسیم [۲۷۷]	۱۱۳ Nh نیهونیم [۲۸۴]	۱۱۴ Fl فلرویم [۲۸۹]	۱۱۵ Mc مسکوویوم [۲۸۸]	۱۱۶ Lv لیورموریم [۲۹۳]	۱۱۷ Ts تنسینه [۲۹۶]	۱۱۸ Og اوگانسون [۲۹۴]

۶۳ Eu اوروپیم ۱۵۲,۰۰	۶۴ Gd گادولینیم ۱۵۷,۳۰	۶۵ Tb تربیم ۱۵۸,۹۰	۶۶ Dy دیسپروزیوم ۱۶۲,۵۰	۶۷ Ho هولمیم ۱۶۴,۹۰	۶۸ Er اربیم ۱۶۷,۳۰	۶۹ Tm تولیم ۱۶۸,۹۰	۷۰ Yb ایتربیم ۱۷۳,۰۰
۹۵ Am امریسیم [۲۴۳]	۹۶ Cm کوریوم [۲۴۷]	۹۷ Bk برکلیم [۲۴۷]	۹۸ Cf کالیفرنیم [۲۵۱]	۹۹ Es اینشتینیم [۲۵۲]	۱۰۰ Fm فرمیوم [۲۵۷]	۱۰۱ Md مندلیوم [۲۵۸]	۱۰۲ No نوبلیوم [۲۵۹]

عدد اتمی — ۱

نماد شیمیایی — H

نام — هیدروژن

جرم اتمی میانگین — ۱/۰۰۸

۱	۱ H هیدروژن ۱,۰۰۸	۲							
۲	۳ Li لیتیم ۶,۹۴	۴ Be بریلیم ۹,۰۱							
۳	۱۱ Na سدیم ۲۲,۹۹	۱۲ Mg منیزیم ۲۴,۳۱							
۴	۱۹ K پتاسیم ۳۹,۱۰	۲۰ Ca کلسیم ۴۰,۰۸	۲۱ Sc اسکاندیم ۴۴,۹۶	۲۲ Ti تیتانیوم ۴۷,۸۷	۲۳ V وانادیم ۵۰,۹۴	۲۴ Cr کروم ۵۲,۰۰	۲۵ Mn منگنز ۵۴,۹۴	۲۶ Fe آهن ۵۵,۸۵	۲۷ Co کبالت ۵۸,۹۳
۵	۳۷ Rb روبییدیم ۸۵,۴۷	۳۸ Sr استرانسیم ۸۷,۶۲	۳۹ Y ایتیریم ۸۸,۹۱	۴۰ Zr زیرکونیم ۹۱,۲۲	۴۱ Nb نیوبیم ۹۲,۹۱	۴۲ Mo مولیبدن ۹۵,۹۴	۴۳ Tc تکنسیم -	۴۴ Ru روتنیم ۱۰۱,۱	۴۵ Rh رودیم ۱۰۲,۹۰
۶	۵۵ Cs سزیم ۱۳۲,۹	۵۶ Ba باریم ۱۳۷,۳	۷۱ Lu لوتسیم ۱۷۵,۰۰	۷۲ Hf هافنیم ۱۷۸,۵	۷۳ Ta تانتال ۱۸۰,۹۰	۷۴ W تنگستن ۱۸۳,۸۰	۷۵ Re رهنیم ۱۸۶,۲۰	۷۶ Os اسمیم ۱۹۰,۲۰	۷۷ Ir ایریدیم ۱۹۲,۲۰
۷	۸۷ Fr فرانسیسم [۲۲۳]	۸۸ Ra رادیوم [۲۲۶]	۱۰۳ Lr لورنسیسم [۲۶۲]	۱۰۴ Rf رادرفوردیم [۲۶۷]	۱۰۵ Db داینیم [۲۶۸]	۱۰۶ Sg سیبورگیوم [۲۷۱]	۱۰۷ Bh بوریم [۲۷۲]	۱۰۸ Hs هاسیم [۲۷۷]	۱۰۹ Mt مایتنیم [۲۷۶]

۵۷ La لانتان ۱۳۸,۹۰	۵۸ Ce سریوم ۱۴۰,۱۰	۵۹ Pr پراسئودیمیم ۱۴۰,۹۰	۶۰ Nd نئودیمیم ۱۴۴,۲۰	۶۱ Pm پرومتیم [۱۴۵]	۶۲ Sm ساماریوم ۱۵۰,۴۰
۸۹ Ac اکتیونیم [۲۲۷]	۹۰ Th توریم ۲۳۲,۰۰	۹۱ Pa پروتاکتینیم ۲۳۱,۰۰	۹۲ U اورانیم ۲۳۸,۰۰	۹۳ Np نپتونیم [۲۳۷]	۹۴ Pu پلوتونیم [۲۴۴]

سازمان پژوهش و برنامه‌ریزی آموزشی جهت ایفای نقش خطیر خود در اجرای سند تحول بنیادین در آموزش و پرورش و برنامه درسی ملی جمهوری اسلامی ایران، مشارکت معلمان را به‌عنوان یک سیاست اجرایی مهم دنبال می‌کند. برای تحقق این امر در اقدامی نوآورانه سامانه تعاملی بر خط اعتبارسنجی کتاب‌های درسی راه‌اندازی شد تا با دریافت نظرات معلمان درباره کتاب‌های درسی نونگاشت، کتاب‌های درسی را در اولین سال چاپ، با کمترین اشکال به دانش‌آموزان و معلمان ارجمند تقدیم نماید. در انجام مطلوب این فرایند، همکاران گروه تحلیل محتوای آموزشی و پرورشی استان‌ها، گروه‌های آموزشی، دبیرخانه راهبری دروس و مدیریت محترم پروژه آقای محسن باهو نقش سازنده‌ای را بر عهده داشتند. ضمن ارج نهادن به تلاش تمامی این همکاران، اسامی دبیران و هنرآموزانی که تلاش مضاعفی را در این زمینه داشته و با ارائه نظرات خود سازمان را در بهبود محتوای این کتاب یاری کرده‌اند به شرح زیر اعلام می‌شود.

کتاب شیمی ۲- کد ۱۱۱۲۱۰

ردیف	نام و نام خانوادگی	استان محل خدمت	ردیف	نام و نام خانوادگی	استان محل خدمت
۱	سوسن نادری	مرکزی	۲۵	محمدعلی اسلامی نیا	کرمان
۲	فاطمه رنجینه خجسته	آذربایجان شرقی	۲۶	علی موبدی	شهرستانهای تهران
۳	هما غفاری	کردستان	۲۷	مریم قربانی	خراسان شمالی
۴	شمسی حیدری	کرمانشاه	۲۸	حسن کاشی	اصفهان
۵	منور احمدی	قزوین	۲۹	فاطمه شفاهی	سمنان
۶	طوبی زارع	مازندران	۳۰	رقیه پور قبادی	لرستان
۷	افسانه آیین	بوشهر	۳۱	کامیار کامل شیخ رجه	مازندران
۸	آزیتا معصوم پور	سمنان	۳۲	مژگان حسین پور	گیلان
۹	فریبا مرسلی	آذربایجان شرقی	۳۳	سمانه حبیب الهی	شهر تهران
۱۰	ژیلا توتونچی	آذربایجان شرقی	۳۴	علیرضا رضایی	همدان
۱۱	لیلا فانی	یزد	۳۵	عبدالمجید منتیان	ایلام
۱۲	صباح شیری	ایلام	۳۶	امیر خلیل زاده	آذربایجان غربی
۱۳	هادی نجار زاده	قزوین	۳۷	فرزین خرسندی	البرز
۱۴	مهناز خراشادی زاده	خراسان جنوبی	۳۸	امید رضوانی راد	سیستان و بلوچستان
۱۵	حسین کاووسی	خراسان جنوبی	۳۹	مسعود اشتری	شهر تهران
۱۶	طاهره پالیزدار	البرز	۴۰	سید فیروز عسگری ارجنکی	چهارمحال و بختیاری
۱۷	مهری طاهری	هرمزگان	۴۱	مهدی شیری	خراسان رضوی
۱۸	اورنگ باقی	گیلان	۴۲	عزیز گرمودی	خراسان رضوی
۱۹	شهلا مهدوی	اصفهان	۴۳	نادر منصوری	خراسان شمالی
۲۰	منوچهر اسماعیل زاده	کرمان	۴۴	مسعود راستیانی منش	کهگیلویه و بویراحمد
۲۱	رضا همتی	آذربایجان غربی	۴۵	عباسعلی صمدی	گلستان
۲۲	زهره شمالی	زنجان	۴۶	ناصر بالکانه	کردستان
۲۳	فریده سلطانی اصل	شهرستانهای تهران	۴۷	محمد قادر پناه	لرستان
۲۴	مژگان مصلحیون	همدان	۴۸	محمد سعید همایونی	فارس