

همانطور که می دانیم، یک هفته ۷ روز است.

آیا می توانید بگویید :

۲ هفته چند روز است؟

۳ هفته چند روز است؟

امروز **اول اسفند ماه** است.

۲ هفته ی دیگر روز درختکاری است.

یعنی : **۱۵ اسفند**

توضیح دهید چگونه جواب را به دست آورده ایم ؟

تمرین



اگر امروز ۱۰ مرداد باشد :

- یک هفته دیگر می شود؛ مرداد

- دو هفته دیگر می شود؛ مرداد

- سه هفته دیگر می شود؛ مرداد

امروز ۱۸ خرداد ماه است.

دانش آموزان یک هفته ی دیگر در سازمان فنی و حرفه ای آزمون استاندارد مهارت دارند.

یعنی : خرداد



امروز ۶ آبان است.

۲ هفته ی دیگر مسابقات قرآن شروع می شود.

یعنی : آبان

علی ۸ آذر کتابی را از کتابخانه امانت گرفت.

او باید ۳ هفته ی دیگر کتاب را به کتابخانه برگرداند.

یعنی : آذر



۵ دی ماه دست سحر را به علت شکستگی گچ گرفتند.

او باید ۳ هفته ی دیگر برای باز کردن گچ دست خود به

بیمارستان مراجعه کند.

یعنی : دی

به تقویم زیر توجه کنید و جاهای خالی را کامل کنید.

آبان ۱۳۹۷					شنبه
۲۶	۱۹	۱۲	۵		یکشنبه
۲۷	۲۰	۱۳	۶		دوشنبه
۲۸	۲۱	۱۴	۷		سه‌شنبه
۲۹	۲۲	۱۵	۸	۱	چهارشنبه
۳۰	۲۳	۱۶	۹	۲	پنجشنبه
	۲۴	۱۷	۱۰	۳	شنبه
	۲۵	۱۸	۱۱	۴	یکشنبه

مهر ۱۳۹۷					شنبه
۲۸	۲۱	۱۴	۷		یکشنبه
۲۹	۲۲	۱۵	۸	۱	دوشنبه
۳۰	۲۳	۱۶	۹	۲	سه‌شنبه
	۲۴	۱۷	۱۰	۳	چهارشنبه
	۲۵	۱۸	۱۱	۴	پنجشنبه
	۲۶	۱۹	۱۲	۵	شنبه
	۲۷	۲۰	۱۳	۶	یکشنبه

اگر امروز ۲۶ مهرماه باشد :

- ۳ روز دیگر می شود مهرماه

- ۷ روز دیگر می شود آبان

خرداد ۱۳۹۷					شنبه
۲۶	۱۹	۱۲	۵		یکشنبه
۲۷	۲۰	۱۳	۶		دوشنبه
۲۸	۲۱	۱۴	۷		سه‌شنبه
۲۹	۲۲	۱۵	۸	۱	چهارشنبه
۳۰	۲۳	۱۶	۹	۲	پنجشنبه
۳۱	۲۴	۱۷	۱۰	۳	شنبه
	۲۵	۱۸	۱۱	۴	یکشنبه

اردیبهشت ۱۳۹۷					شنبه
۲۹	۲۲	۱۵	۸	۱	یکشنبه
۳۰	۲۳	۱۶	۹	۲	دوشنبه
۳۱	۲۴	۱۷	۱۰	۳	سه‌شنبه
	۲۵	۱۸	۱۱	۴	چهارشنبه
	۲۶	۱۹	۱۲	۵	پنجشنبه
	۲۷	۲۰	۱۳	۶	شنبه
	۲۸	۲۱	۱۴	۷	یکشنبه

اگر امروز ۲۳ اردیبهشت باشد :

- ۵ روز دیگر می شود

- ۱۰ روز دیگر می شود

شهریور ۱۳۹۷					
۲۴	۱۷	۱۰	۳	۳۱	شنبه
۲۵	۱۸	۱۱	۴		یکشنبه
۲۶	۱۹	۱۲	۵		دوشنبه
۲۷	۲۰	۱۳	۶		سه‌شنبه
۲۸	۲۱	۱۴	۷		چهارشنبه
۲۹	۲۲	۱۵	۸	۱	پنجشنبه
۳۰	۲۳	۱۶	۹	۲	جمعه

مرداد ۱۳۹۷					
۲۷	۲۰	۱۳	۶		شنبه
۲۸	۲۱	۱۴	۷		یکشنبه
۲۹	۲۲	۱۵	۸	۱	دوشنبه
۳۰	۲۳	۱۶	۹	۲	سه‌شنبه
۳۱	۲۴	۱۷	۱۰	۳	چهارشنبه
	۲۵	۱۸	۱۱	۴	پنجشنبه
	۲۶	۱۹	۱۲	۵	جمعه

اگر امروز ۱۴ مرداد ماه باشد :

۴- روز دیگر می شود

۸- روز دیگر می شود

اسفند ۱۳۹۷					
۲۵	۱۸	۱۱	۴		شنبه
۲۶	۱۹	۱۲	۵		یکشنبه
۲۷	۲۰	۱۳	۶		دوشنبه
۲۸	۲۱	۱۴	۷		سه‌شنبه
۲۹	۲۲	۱۵	۸	۱	چهارشنبه
	۲۳	۱۶	۹	۲	پنجشنبه
	۲۴	۱۷	۱۰	۳	جمعه

بهمن ۱۳۹۷					
۲۷	۲۰	۱۳	۶		شنبه
۲۸	۲۱	۱۴	۷		یکشنبه
۲۹	۲۲	۱۵	۸	۱	دوشنبه
۳۰	۲۳	۱۶	۹	۲	سه‌شنبه
	۲۴	۱۷	۱۰	۳	چهارشنبه
	۲۵	۱۸	۱۱	۴	پنجشنبه
	۲۶	۱۹	۱۲	۵	جمعه

اگر امروز ۲۶ بهمن ماه باشد :

۳- روز دیگر می شود

۶- روز دیگر می شود



مسعود به دلیل بیماری به دکتر رفت.

دکتر از تاریخ ۱۸ آذر ماه به او گواهی ۳ روز استراحت در منزل را داد.

او در چه تاریخی باید به مدرسه بازگردد؟

دکتر حسن کمالی متخصص داخلی

نظام پزشکی: ۲۰۹۵۸

به این وسیله گواهی من شود معذور گردیم

به علت سرماخوردگی ۳ روز استراحت نیز دارد

آذر ۱۳۹۷

۲۴	۱۷	۱۰	۳	فصل
۲۵	۱۸	۱۱	۴	مهر
۲۶	۱۹	۱۲	۵	شهریور
۲۷	۲۰	۱۳	۶	مهر
۲۸	۲۱	۱۴	۷	بهمن
۲۹	۲۲	۱۵	۸	اسفند
۳۰	۲۳	۱۶	۹	اردیبهشت

.....

کارمندی از تاریخ ۱۶ اردیبهشت برای دو روز به مرخصی رفت.

او در چه تاریخی باید به اداره بیاید؟

اردیبهشت ۱۳۹۷

۲۹	۲۲	۱۵	۸	۱	فصل
۳۰	۲۳	۱۶	۹	۲	مهر
۳۱	۲۴	۱۷	۱۰	۳	شهریور
	۲۵	۱۸	۱۱	۴	مهر
	۲۶	۱۹	۱۲	۵	بهمن
	۲۷	۲۰	۱۳	۶	اسفند
	۲۸	۲۱	۱۴	۷	اردیبهشت

.....



نقاشی در ۲۷ بهمن ماه، کار رنگ آمیزی ساختمانی را شروع کرد.
او باید ۵ روز دیگر کارش را تمام کند.

یعنی :



مدرسه ای در ۲۰ مرداد ماه، دوخت روپوش دانش آموزان را
به یک تولیدی سفارش داد.
این تولیدی ۲ هفته ی دیگر، روپوش ها را تحویل می دهد.

یعنی :

فعالیت

۱- در تقویم خود، ۲۹ خرداد را مشخص کنید؛

۸ روز دیگر چه تاریخی است؟

۲- به تقویم دیواری کلاس خود نگاه کنید:

تاریخ امروز را بنویسید

۷ روز دیگر چه تاریخی است؟



در بعضی از تقویم ها ، اطلاعاتی مانند شماره تلفن های ضروری ، کد تلفن استان های کشور ، کد تلفن های خارج از کشور نوشته شده است .

با توجه به اطلاعات خود و یا با استفاده از تقویم ، جاهای خالی را کامل کنید :



شماره تلفن های ضروری	
	آتش نشانی
	اورژانس
	پلیس
	هلال احمر
	اطلاعات و خدمات تلفنی
	اطلاعات داروخانه های شبانه روزی

کد استان ها	
	تهران
	بوشهر
	ایلام
	قزوین
	یزد
	استان شما



عدد نویسی



بر اساس سرشماری سال ۱۳۹۵:
۵۹۱۴۶'۸۴۷ نفر از جمعیت ایران در مناطق شهری و
۲۰'۷۳۰'۶۲۵ نفر در مناطق روستایی زندگی می کنند.

آیا می دانید؟

به حقوق ماهانه کارکنان برخی از مشاغل توجه کنید و مانند نمونه جاهای خالی را کامل کنید.

حقوق ماهانه یک سرایدار ساختمان

به رقم : ۱۳۵۰۰'۰۰۰ ریال

هزار		میلیون						

به حروف : سیزده میلیون و پانصد هزار ریال

حقوق ماهانه ی یک کارمند مخابرات

به رقم : ریال

به حروف : ریال

هزار		میلیون						

حقوق ماهانه ی یک کارگر تأسیسات

به رقم : ریال

به حروف : ریال



هزار		میلیون						

به درآمد سالانه ی کارکنان برخی از مشاغل توجه کنید و جاهای خالی را کامل کنید.

درآمد سالانه ی یک کفاش

به رقم :

به حروف :

میلیون			هزار					
۲	۳	۷	۶	۰	۰	۰	۰	۰

درآمد سالانه ی یک کمک آشپز

به رقم :

به حروف :

میلیون			هزار					
۱	۷	۰	۴	۰	۰	۰	۰	۰

درآمد سالانه ی یک کشاورز

به رقم :

به حروف :

میلیون			هزار					
۲	۶	۴	۹	۸	۰	۰	۰	۰

به قیمت برخی اجناس این فروشگاه توجه کنید و جاهای خالی را مانند نمونه کامل کنید.



سی و پنج هزار و هفتصد تومان

۳۵۷۰۰ تومان



..... میلیون و هزار

و تومان

۲۳۷۵۹۰۰ تومان



..... هزار و تومان

۴۵۸۳۰۰ تومان



..... میلیون و هزار

و تومان

۱۸۲۶۵۰۰ تومان



به دستمزد انجام هر یک از فعالیت های این کارگاه خیاطی توجه کنید و مانند نمونه، جاهای خالی را کامل کنید.

نوع	دستمزد
دوخت کت و شلوار	۰۰'۲۸۵ تومان
دوخت کت	۰۰'۱۲۵ تومان
دوخت شلوار	۰۰'۶۷۵ تومان
دوخت پیراهن	۰۰'۵۰۰ تومان
تعویض زیپ	۰۰'۱۰۰ تومان

دوخت شلوار : شصت و هفت هزار و پانصد تومان

دوخت کت و شلوار : تومان

تعویض زیپ : تومان

دوخت کت : تومان

تمرین

آقای کمالی پس از خرید یک خودرو، رسید زیر را دریافت کرد.

رسید خرید خودرو	
توضیح خودرو:	
شماره شاسی: naplsrkdA110022	
شماره موتور: ۱۵۰۳۵۰۹۹	
شماره پذیرش: ۸۹۰۰۵۸۵۹	
تاریخ گارانتی: ۹۹ / ۱۰ / ۱۵	
مهر و امضاء نمایندگان:	
خالص قابل پرداخت: ۴۶٬۰۰۰٬۰۰۰ ریال	

قیمت خودرو را به حروف بنویسید.

ریال

فاکتور مشتری

شماره فاکتور ۳۱

تاریخ: ۱۳۹۶ / ۱۱ / ۲۸

مبلغ کل: ۲۶٬۰۰۰٬۰۰۰ ریال

سعید هزینه خرید خود را با کارت پرداخت کرد.

مبلغ پرداختی او را به حروف بنویسید.

ریال

مبلغ قسط خانم توکلی را به حروف بنویسید.

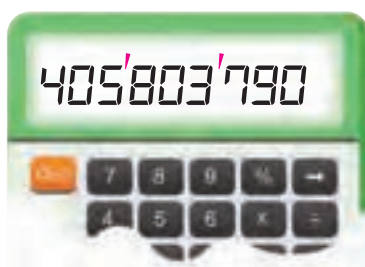
۱۲٬۵۰۰٬۰۰۰ ریال

ریال

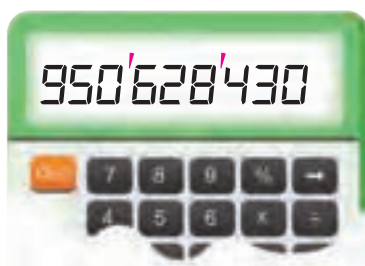
مانند نمونه، عددی را که هر ماشین حساب نشان می دهد، به فارسی بخوانید و به حروف بنویسید.



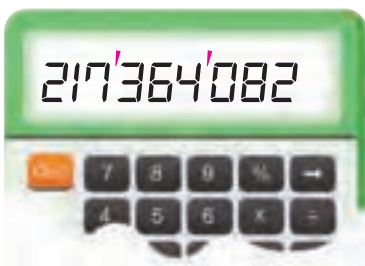
سیصد و پنجاه و شش میلیون و صد و بیست و شش هزار و پانصد



.....

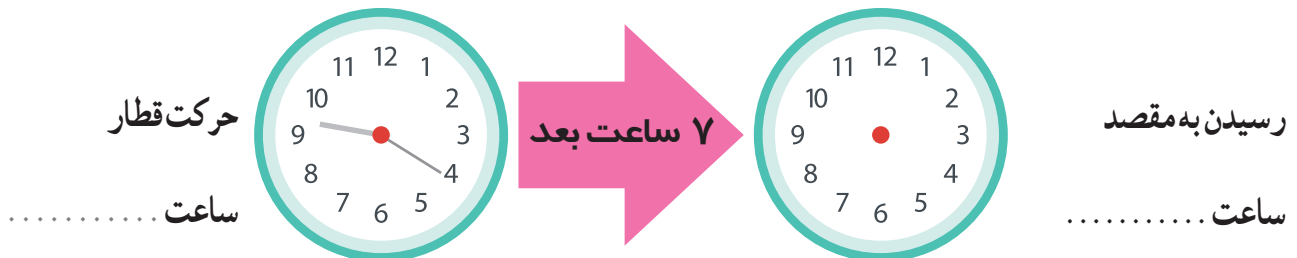
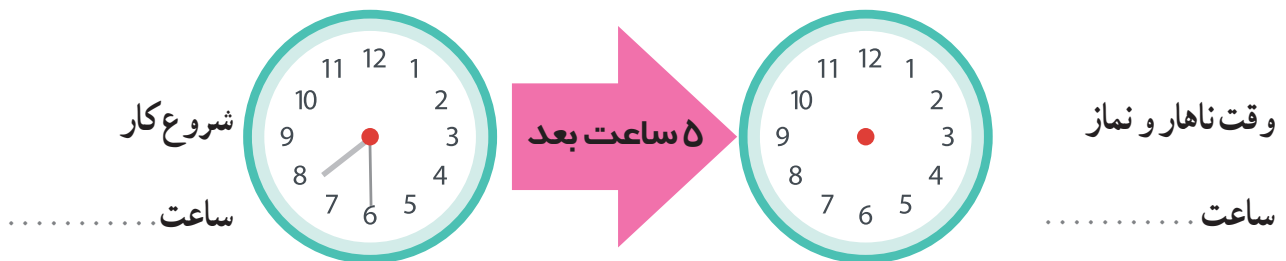


.....



.....

مانند نمونه با کشیدن عقربه های ساعت، زمان خواسته شده را نشان دهید، سپس جاهای خالی را کامل کنید.



فعالیت

به ساعت کلاس نگاه کنید:

ساعت چند است؟

- یک ساعت بعد، ساعت است.

- ۶ ساعت دیگر، ساعت می شود.

ساعت ۹:۴۵ صبح، خانم نوروزی اتومبیل خود را به تعمیرگاه برد.

تعمیرکار به او گفت: اتومبیل شما ۴ ساعت دیگر آماده می شود.

یعنی ساعت



منصور ساعت ۲:۲۵ بعد از ظهر ماشین لباسشویی را روشن کرد.

۲ ساعت بعد، شستن لباس ها تمام می شود.

یعنی ساعت

خانم غفاری ساعت ۸:۳۰ به درمانگاه رفت.

مسئول پذیرش به او گفت: «حدود ۲ ساعت دیگر نوبت شما می شود.»

یعنی ساعت


زمان	خوردن دارو
۷ صبح	نوبت اول
	نوبت دوم
	نوبت سوم

محمد باید هر ۸ ساعت یک بار، قرص بخورد.

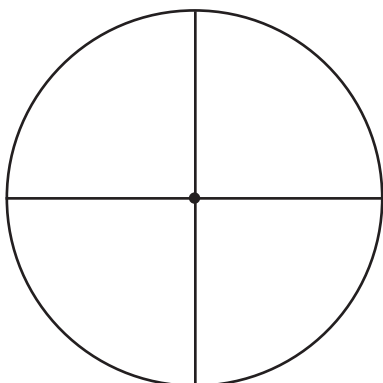
جدول را کامل کنید.



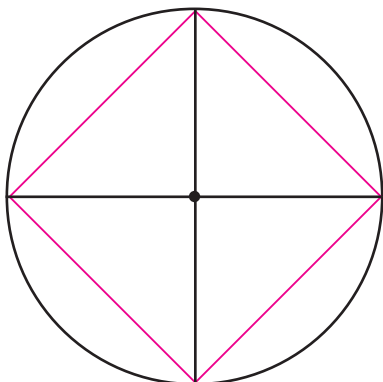
با استفاده از پرگار یک دایره رسم کنید و مرکز آن را مشخص کنید.



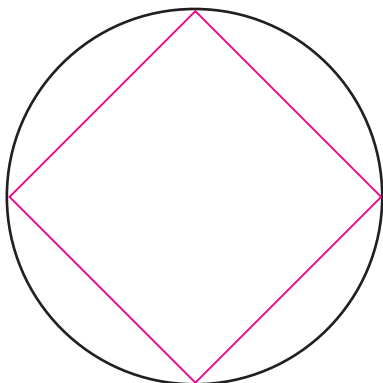
دو قطر عمود بر هم این دایره را بکشید.



شکل را مانند نمونه کامل کنید.



خط های اضافی را پاک کرده و شکل به دست آمده را به دلخواه رنگ کنید.



پول



چاپ اسکناس هزینه زیادی دارد. پس باید در حفظ
و نگهداری آن بکوشیم.

آیا می دانید؟



مبلغ پول های هر ردیف را بنویسید.

تومان



تومان



تومان



مانند نمونه، قیمت هر جنس را بنویسید.



۲۶۰۰۰۰ تومان



۲۶ اسکناس



تومان



۷۰ اسکناس



تومان



۸۵ اسکناس



تومان



۷۳ اسکناس



مانند نمونه، با توجه به قیمت هر جنس در جای خالی عدد مناسب بنویسید.



۳۵ اسکناس

۳۵۰'۰۰۰ تومان



اسکناس

۵۲۰'۰۰۰ تومان



اسکناس

۷۲۰'۰۰۰ تومان



اسکناس

۹۴۰'۰۰۰ تومان



۱۰۰ اسکناس ۱۰۰'۰۰۰ تومانی می شود ۱۰۰۰'۰۰۰ تومان.



برای خرید این تابلو معرق، مبلغ زیر پرداخت شد.

قیمت این تابلو چقدر بوده است؟

.....



با مقدار پولی که داریم، کدام دستبند را می توان خرید؟



۱'۰۰۰'۰۰۰ تومان



۱'۵۰۰'۰۰۰ تومان

آقای پارسا برای نقاشی دفترکار خود ۱۰۰ اسکناس ده هزار تومانی به نقاش داد.

او چند تومان پرداخت کرده است؟



«..... تومان»



مانند نمونه، در جاهای خالی عدد مناسب بنویسید.

۲'۰۰۰'۰۰۰ تومان



..... تومان



..... تومان



..... تومان



با توجه به مقدار پول های هر ردیف، قیمت هر کالا را بنویسید.



قیمت این ماشین ظرفشویی تومان است.



قیمت این یخچال تومان است.



قیمت این گبه تومان است.

با توجه به مقدار پول های هر ردیف، قیمت هر کالا را بنویسید.



قیمت این موتورسیکلت تومان است.



قیمت این سرویس مبل تومان است.

ریاضی در زندگی

فرض کنید شما یک حساب بانکی دارید و می خواهید مبلغ ۲۸۴۵۰۰۰ تومان
یعنی : ریال

از حساب خود برداشت کنید.
جاهایی که علامت × دارد را کامل کنید.

سند برداشت / واریز	
۸۰۶۹۷۹	
× تاریخ / /	
× مبلغ : (به عدد) ریال	× (به حروف) ریال
برداشت : از حساب / کارت شماره <div style="border: 1px solid black; height: 20px; width: 100%; background: repeating-linear-gradient(45deg, transparent, transparent 2px, black 2px, black 4px);"></div> × به نام برداشت نمودم.	واریز : به حساب / کارت شماره <div style="border: 1px solid black; height: 20px; width: 100%; background: repeating-linear-gradient(45deg, transparent, transparent 2px, black 2px, black 4px);"></div> به نام واریز نمودم.
× نام و نام خانوادگی متقاضی : × شماره ملی :	
× نشانی : × شماره تماس : × کد پستی :	
× امضا :	
مهر و امضای شعبه :	

ریاضی در زندگی

امروز ۲۵ آذر ماه است.

آقای ناظمی ۲ هفته دیگر به جشن عروسی دعوت شده است.

یعنی ماه

او تومان داشت.



آقای ناظمی این کت و شلوار را برای عروسی خرید.



و اسکناس از بسته ی پول خود را به فروشنده داد.

و اسکناس برایش ماند. یعنی تومان.

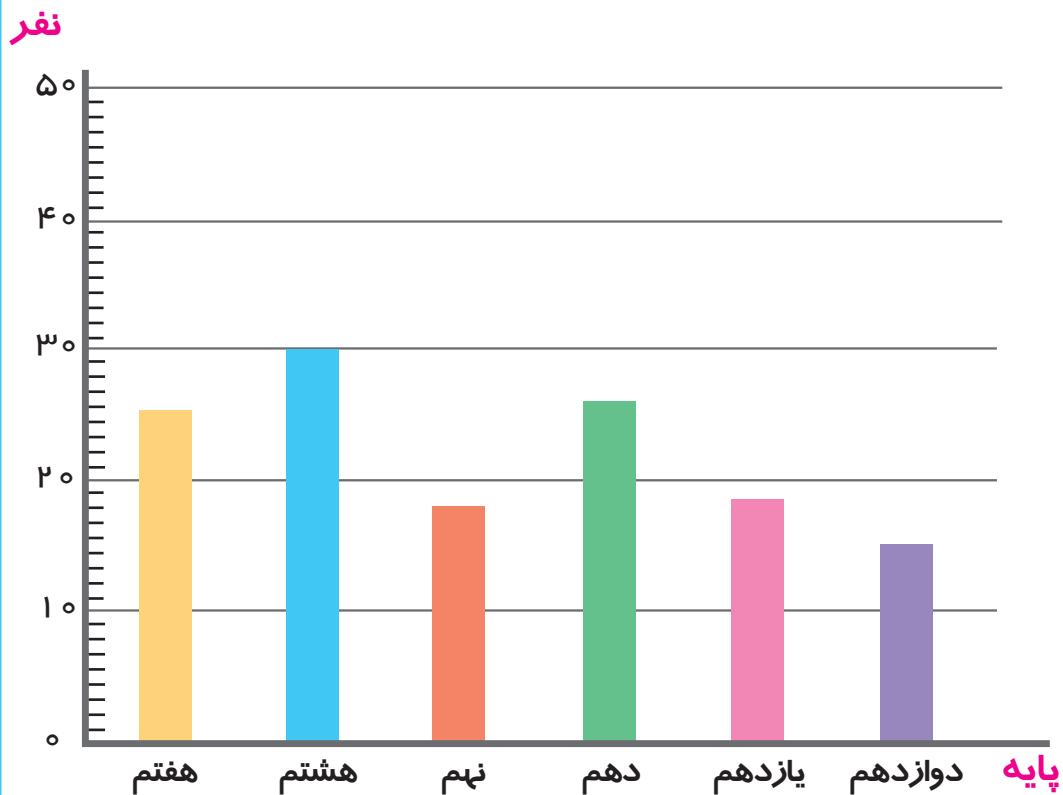
قد شلوار او باید ۵ کوتاه می شد. فروشنده به او گفت:

الان ساعت ۴:۲۰ بعد از ظهر است، شلوار شما ۲ ساعت دیگر یعنی در ساعت

..... آماده می شود.

مقایسه اعداد

نمودار آمار دانش آموزان دبیرستان توانا



برای مقایسه اطلاعاتی مختلفی مانند: میزان جمعیت،
میزان بارندگی و ... از نمودار استفاده می شود.



به فیش حقوقی خانم زهره سرمدی، در سال های ۱۳۹۵ و ۱۳۹۶ توجه کنید و جاهای خالی را کامل کنید.

فیش حقوقی	
حقوق و مزایا	نام و نام خانوادگی: زهره سرمدی شماره پرسنلی: ۱۳۰۳۲۵
ریال ۱۲۷۸۵۷۰۰	
جمع: ریال ۱۲۷۸۵۷۰۰	
هزاره میلیون و هشتصد و پنجاه و پنج هزار و هشتصد ریال	

حقوق ماهانه سال ۱۳۹۵

ریال

فیش حقوقی	
حقوق و مزایا	نام و نام خانوادگی: زهره سرمدی شماره پرسنلی: ۱۳۰۳۲۵
ریال ۱۴۹۸۶۹۰۰	
جمع: ریال ۱۴۹۸۶۹۰۰	
چهارده میلیون و هشتصد و شصت و شش هزار و نهصد ریال	

حقوق ماهانه سال ۱۳۹۶

ریال

حقوق ماهانه ی خانم سرمدی در چه سالی بیشتر بوده است؟

با افزایش سابقه کار هر فرد، میزان حقوق
او هم بیشتر می شود.



کشاورزی محصول برنج خود را $۱۵٬۰۰۰٬۰۰۰$ تومان فروخته است.
او محصول گندم خود را $۱٬۵۰۰٬۰۰۰$ تومان فروخته است.
این کشاورز از فروش کدام محصول، پول بیش تری به دست آورده است؟

خانم اسدی $۲۹٬۵۷۸٬۱۲۶$ ریال پس انداز دارد.
خانم رحمانی $۲۸٬۵۷۸٬۲۶۳$ ریال پس انداز دارد.
پس انداز چه کسی بیشتر است؟

تمرین

مبلغ پول های هر قسمت را بنویسید و مقایسه کنید.



تومان



تومان



شیرینی فروشی

دانمارکی کیلویی ----- ۱۸۵۰۰ تومان

نارگیلی کیلویی ----- ۲۱۵۰۰ تومان

کیک یزدی کیلویی ----- ۱۲۰۰۰ تومان

رولت کیلویی ----- ۲۱۵۰۰ تومان

با توجه به قیمت شیرینی ها، جاهای خالی را کامل کنید.

قیمت شیرینی دانمارکی از شیرینی رولت
است.


ارزان ترین شیرینی کدام است؟

قیمت شیرینی و
با هم برابر است.


ارزان ترین تابلو معرق را مشخص کنید.



۴۸۵۰۰۰ تومان

☐


۵۲۰۰۰۰ تومان

☐


۷۰۰۰۰۰ تومان

☐

گران ترین گوشت را مشخص کنید.



کیلویی ۱۱۲۰۰ تومان

☐


کیلویی ۷۵۰۰ تومان

☐



کیلویی ۳۹۵۰۰ تومان

☐


به قیمت برخی از تولیدات یک کارگاه چوب توجه کنید :



۱۴۹۰۰۰۰ تومان



۳۶۵۰۰۰۰ تومان



۲۱۴۰۰۰۰ تومان

..... ارزان ترین کالا کدام است؟

..... گران ترین کالا کدام است؟

فرشاد در بخش برشکاری چوب این کارگاه کار می کند و ماهانه ۱۴۵۰۰۰۰ تومان حقوق می گیرد.

مهدی در بخش رنگ کاری چوب، کار می کند و حقوق ماهانه ی او ۱۷۰۰۰۰۰ تومان است.

..... حقوق کدام یک بیشتر است؟

..... چه قدر بیشتر است؟ تومان



به بعضی از هزینه های ماهانه ی خانواده عباسی توجه کنید و آن ها را به حروف بنویسید.
هزینه اجاره خانه :

تومان

هزینه قبض آب، برق و تلفن :

تومان

هزینه مواد خوراکی : تومان

هزینه رفت و آمد : تومان

خانواده عباسی برای کدام یک از هزینه های ماهانه خود مبلغ بیشتری پرداخت می کند؟

.....

اجاره خانه : ۸۵۰۰۰۰ تومان

هزینه قبض آب و برق و تلفن : ۹۷۰۰۰ تومان

هزینه مواد خوراکی : ۴۸۵۰۰۰ تومان

هزینه رفت و آمد : ۶۵۰۰۰ تومان

فعالیت

۳ مورد از هزینه های ماهانه ی خانواده خود را بنویسید.

هزینه حدود تومان

هزینه حدود تومان

هزینه حدود تومان

هزینه خانواده شما در کدام مورد کمتر است؟

اندازه گیری



برای اندازه گیری مساحت زمین های کشاورزی، باغ و ...
معمولا از واحد هکتار استفاده می شود.
یک هکتار برابر با ۱۰۰۰۰ متر مربع است.

آیا می دانید؟



فعالیت

به همراه مربی خود به حیاط مدرسه بروید.

با دستور مربی از خط شروع به صورت جفت پا بپرید.

میزان پرش خود را با متر اندازه گیری کنید.

طول پرش شما چقدر است؟ سانتی متر.

طول پرش یکی از دوستانتان را بنویسید سانتی متر.

طول پرش شما از دوستان است.

شما می توانید با تمرینات بیشتر، طول

پرش خود را افزایش دهید.



میز مستطیل شکلی به طول ۱۲۰ سانتی متر و عرض ۹۰ سانتی متر ساخته ایم.

می خواهیم روی آن را شیشه بیاندازیم.

مساحت آن را حساب کنید



می خواهیم کف اتاق مربع شکلی به طول ۳ متر را موکت کنیم.

مساحت این اتاق چه قدر است؟



می خواهیم دور یک رومیزی را نوار دوزی کنیم. اگر طول آن ۲۱۰

و عرض آن ۱۳۰ سانتی متر باشد محیط آن چه قدر است؟





طول یک زمین فوتبال ۱۱۰ متر و عرض آن ۵۵ متر است .
می خواهیم آن را چمن کاری کنیم . مساحت این زمین را
حساب کنید .



باغداری می خواهد دور باغ خود را به عرض ۳۷۵ متر و
طول ۴۱۵ متر دیوار بکشد .
محیط این باغ چه قدر است ؟

گفت و گو کنید:

برای کاربرد اندازه گیری محیط در زندگی ، چند مثال بزنید .

.....

.....

برای کاربرد اندازه گیری مساحت در زندگی ، چند مثال بزنید .

.....

.....

جمع

<p>نام و نام خانوادگی: حسین علی پور شماره پرسنلی: ۹۰۰۴۵۸۰۴ آموزش و پرورش منطقه ۶</p> <p>فیش حقوقی اردیبهشت ۱۳۹۶</p>		
شرح پرداخت ها	شرح کسورات	خالص دریافتی
<p>حق شغل ۱۱۱۸۵۰۰۰</p> <p>حق شاغل ۵۰۸۵۸۰۰</p> <p>تفاوت تطبیق ۱۰۳۵۸۰۰</p> <p>فوق العاده سختی ۵۰۸۵۰۰</p> <p>فوق العاده شغل ۲۵۴۰۵۰۰</p> <p>حق شغل حرفه ای ۵۵۹۰۵۰۰</p>	<p>بیمه تکمیلی کارمند ۱۸۵۰۰۰</p> <p>مستدوق بازنشستگی ۲۵۵۰۷۰۰</p> <p>بیمه خدمات درمانی ۳۰۴۸۰۰</p> <p>بیمه عمر سهم کارمند ۳۲۷۰۰</p> <p>مالیات مستمر ۴۹۵۰۰۰</p>	<p>ریال ۲۲۳۷۷۹۰۰</p>
جمع پرداخت ها: ۲۵۹۴۶۱۰۰ ریال	جمع کسورات: ۳۵۶۸۲۰۰ ریال	
خالص دریافتی:		بیست و دو میلیون و سیصد و هفتاد و هفت هزار و نهصد ریال

آیا می دانید در فیش های حقوقی مجموع پرداختی، مجموع کسورات و مبلغ خالص دریافتی مشخص شده است.

آیا می دانید؟



مریم از فروشگاه لوازم التحریر یک دفتر
سیمی به قیمت ۳۷۰۰ تومان و یک پرگار
به قیمت ۴۶۰۰ تومان خرید.

۱

$$\begin{array}{r} ۳۷۰۰ \\ + ۴۶۰۰ \\ \hline ۸۳۰۰ \end{array}$$

او تومان خرج کرده است.

جمع های زیر را انجام دهید. (بدون استفاده از ماشین حساب)

$$\begin{array}{r} ۵۸۰۰ \\ + ۲۴۰۰ \\ \hline \end{array}$$

$$\begin{array}{r} ۱۲۰۰ \\ + ۳۹۰۰ \\ \hline \end{array}$$

$$\begin{array}{r} ۹۵۰۰ \\ + ۶۲۰۰ \\ \hline \end{array}$$

$$\begin{array}{r} ۸۳۰۰ \\ + ۱۷۰۰ \\ \hline \end{array}$$

قیمت اجناس هر ردیف را حساب کنید. (بدون استفاده از ماشین حساب)



۴۹۰۰ تومان

۳۷۰۰ تومان



تومان



۹۸۰۰ تومان



۶۵۰۰ تومان

تومان



۵۴۰۰ تومان



۷۸۰۰ تومان

تومان

مسئله



خانم شمس برای درست کردن مربای هویج، مواد زیر را خریداری کرد.

شکر ۵۷۰۰ تومان

هویج ۳۸۰۰ تومان

او چند تومان خرج کرده است؟

قیمت اجناس هر ردیف را حساب کنید. (بدون استفاده از ماشین حساب)



۳۰۰۰۰۰ تومان



۱۰۰۰۰۰ تومان



۵۰۰۰۰ تومان

تومان



۷۰۰۰۰۰ تومان



۵۰۰۰۰ تومان



۱۰۰۰۰۰ تومان

تومان



۴۰۰۰۰۰ تومان



۳۰۰۰۰۰ تومان



۱۰۰۰۰۰ تومان

تومان

مانند نمونه جمع های زیر را انجام دهید.

$$\begin{array}{r} ۱۰۰ \text{ هزار} \\ + ۵۰ \text{ هزار} \\ + ۱۰ \text{ هزار} \\ + ۲ \text{ هزار} \\ \hline ۱۶۲ \text{ هزار} \end{array}$$

$$\begin{array}{r} ۱۰۰ \text{ هزار} \\ + ۱۰۰ \text{ هزار} \\ + ۵۰ \text{ هزار} \\ + ۵ \text{ هزار} \\ \hline \end{array}$$

$$\begin{array}{r} ۵۰ \text{ هزار} \\ + ۱۰ \text{ هزار} \\ + ۵ \text{ هزار} \\ + ۲ \text{ هزار} \\ \hline \end{array}$$

$$\begin{array}{r} ۱۰۰ \text{ هزار} \\ + ۱۰ \text{ هزار} \\ + ۱۰ \text{ هزار} \\ + ۵ \text{ هزار} \\ \hline \end{array}$$



قنادی یاس اجناس زیر را خریده است :

آرد : ۱۰۰ هزار تومان

شکر : ۱۰۰ هزار تومان

وانیل : ۵۰ هزار تومان

پودر کاکائو : ۵۰ هزار تومان

این قنادی برای خریدهای بالا، چه قدر هزینه کرده است؟

مقدار پول های هر ردیف را حساب کنید.



تومان



تومان



تومان

فعالیت

از بین پول هایی که معلم در اختیار شما قرار می دهد، چهار پول را جدا کرده و مجموع ارزش آن ها را بیان کنید.

مقدار پول های هر ردیف، قیمت هر جنس را نشان می دهد.


قیمت هر جنس را بنویسید.



سرویس سرامیک تومان



گلاب پاش میناکاری تومان



رومیزی ترمه تومان

واحد اندازه گیری هر تصویر را در جدول زیر بنویسید.



۵



۴



۱



۳



۲



۶

								۱
								۲
								۳
								۴
								۵
								۶

ماشین حساب



وسایلی مانند گوشی تلفن همراه، رایانه، تبلت و
ماشین حساب دارند و در انجام محاسبات ریاضی
می توان از آن ها استفاده کرد.

آیا می دانید؟



هر یک از عددهای زیر را با ماشین حساب نشان دهید.
سپس عددی را که ماشین حساب نشان می دهد به فارسی بخوانید.

۸۴۶۵۳۷۰۲۱

۷۴۶۹۲۵۱۸

۱۰۹۷۲۸۳۵۶

۳۲۵۴۰۷۸۹۱

۶۴۰۹۳۷۲۰۰

۹۶۵۷۴۰۱

جمع و تفریق های زیر را با ماشین حساب انجام دهید :

$$۹۷۸۲۷۵۰۰ + ۳۶۵۹۶۲۸ =$$

$$۴۹۸۲۶ + ۱۵۷۴ + ۶۰۱۹۶ + ۲۳۷۵ =$$

$$۱۸۵۷۴۲۶۹۰ - ۶۴۵۸۲۴۷۳ =$$

$$۷۵۶۳۲۰۸۴۱ - ۲۹۳۵۶۱۷۴۰ =$$



برای انجام محاسبات از ماشین حساب استفاده کنید.



قیمت این جالباسی ۱۸۰'۰۰۰ تومان است.

سارا این پول ها را به فروشنده داد.

او چقدر باید پس بگیرد؟

..... تومان

احمد این لیست را برای خرید، تهیه کرده است.

پنیر، ماست، کشک، شامپو

او ابتدا به قسمت لبنیات فروشگاه رفت و مواد زیر را خرید کرد.

پنیر ۵۲۰۰ تومان ماست ۹۷۰۰ تومان

کشک ۶۳۰۰ تومان

سپس از قسمت لوازم بهداشتی یک شامپو با قیمت ۱۲۰۰۰ تومان خرید.

صورت حساب او چه قدر شده است؟ تومان

اگر او این چک پول را به صندوقدار بدهد،



چقدر باید پس بگیرد؟ تومان



محسن دیپلم "کمک رنگ کار ساختمان" دارد و بایک نقاش ساختمان کار می کند.
او مواد مصرفی زیر را خریده است :



رنگ پلاستیک : ۱۲۵۰۰۰ تومان

رنگ روغنی : ۲۱۰۰۰۰ تومان

روغن جلا : ۳۵۰۰۰ تومان

تینر : ۱۷۰۰۰ تومان

محسن چه قدر باید پرداخت کند؟

اگر او ۴۰٪ تومان بدهد ، چه قدر باید پس بگیرد؟

فیش زیر مربوط به هزینه های خرید خانم صالحی از یک داروخانه است.

قیمت دارو ۸۶۹۰۰ تومان

قیمت ترازو ۷۵۰۰۰ تومان

او روی هم چقدر باید پرداخت کند؟ تومان

اگر او ۲۰٪ تومان به صندوقدار بدهد، چقدر باید پس بگیرد؟ تومان

ریاضی در زندگی

خانواده سالاری برای تعطیلات نوروزی به استان کردستان سفر کردند. آن‌ها روز دوم ماه، ساعت ۷:۳۰ صبح حرکت کردند و ۷ ساعت بعد یعنی در ساعت به شهر سنندج رسیدند.

خانم سالاری به بچه‌ها گفت: این استان در غرب کشور ایران واقع شده است و بر اساس سرشماری سال ۹۵ حدود ۱۶۰'۰۰۰ نفر جمعیت دارد. ما می‌خواهیم دو روز در شهر سنندج که مرکز این استان است بمانیم.

قیمت اقامت در هتل برای هر شب ۲۷۵'۰۰۰ تومان بود و آقای سالاری تومان بابت هزینه اقامت پرداخت کرد.

آن‌ها از سنندج به شهر مریوان رفتند، فاصله سنندج تا مریوان حدود ۱۳۰ است. خانواده سالاری پس از بازدید از دیدنی‌های این شهر به بازار رفتند.

دختر آقای سالاری از بین دو لباس محلی زیر، لباس ارزان‌تر را انتخاب کرد. قیمت این لباس تومان بود.



۱۷۰۰۰۰ تومان



۱۲۵۰۰۰ تومان



ریاضی در زندگی

برادرش هم یک جفت گیوه به قیمت (به حروف : ریال).
یعنی تومان خرید.



۴۵۰۰۰۰ ریال

قیمت این دو جنس تومان شد.

پدر پول‌های زیر را به فروشنده داد:



یعنی تومان و تومان پس گرفت.

آن‌ها در ادامه سفر از شهرهای بانه و سقز هم، دیدن کردند و برای سوغاتی ۵ بسته شیرینی محلی به قیمت هر بسته ۱۲۰۰۰ تومان خریدند و تومان پرداخت کردند.
در این سفر به آن‌ها خیلی خوش گذشت و با خاطرات خوبی از مهمان‌نوازی مردم این استان به شهر خود بازگشتند.

ساعت

دوم فروردین



زمان اذان : ۵:۴۲ صبح

اول فروردین



زمان اذان : ۴:۴۴ صبح

برای استفاده بهتر از انرژی، ساعت رسمی کشور در ابتدای فصل بهار یک ساعت به جلو و در ابتدای فصل پاییز یک ساعت به عقب کشیده می شود.

آیا می دانید؟