



فصل هفتم



جغرافیا

درس پانزدهم

آب و هوای ایران

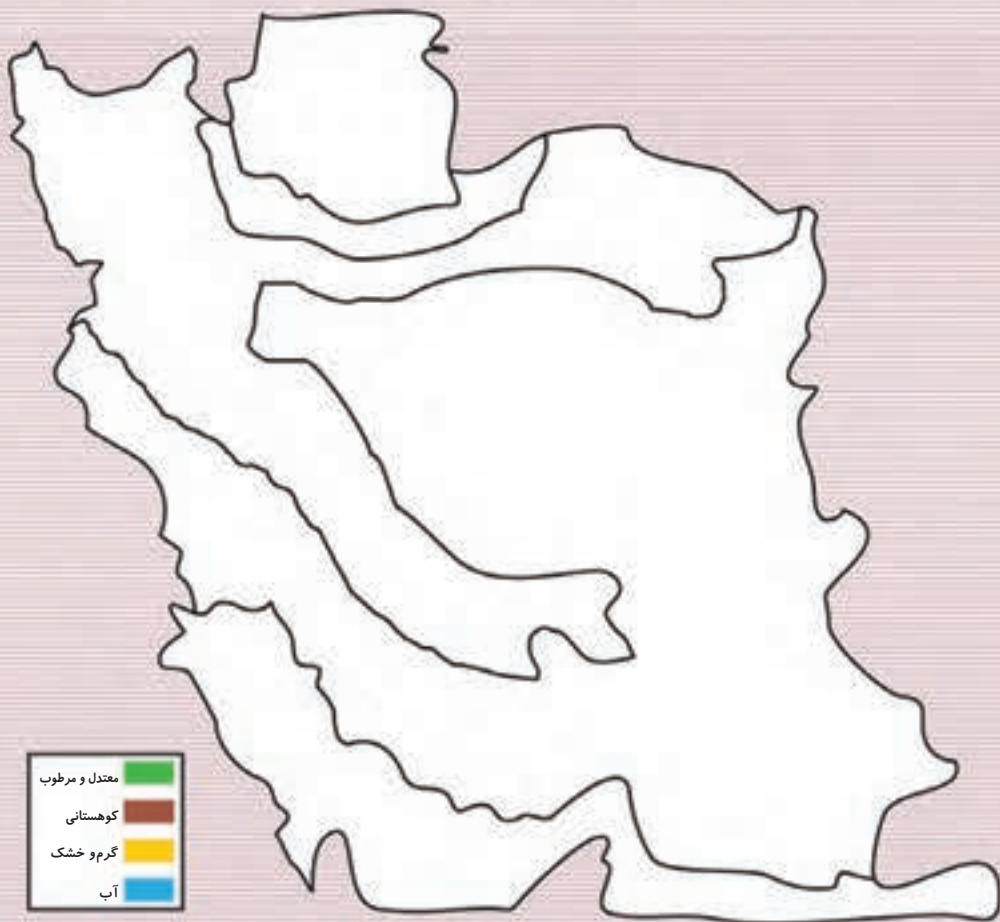
نقشه ی ایران



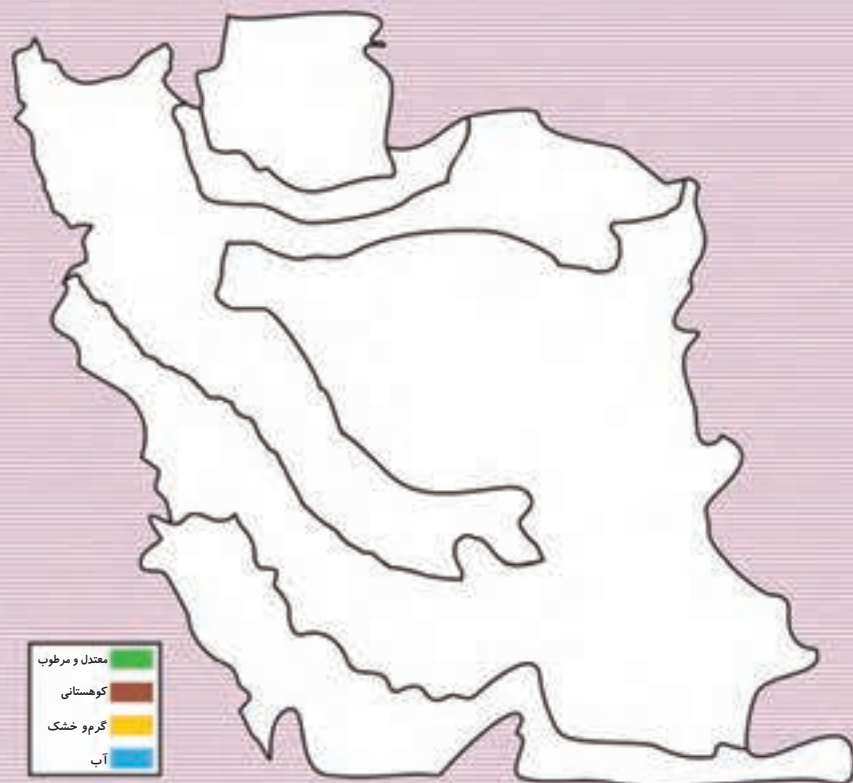
ایران کشور پهناوری است و شهرها و روستاهای بسیار زیادی دارد. آب و هوای کشور ایران در همه جا یکسان نیست. در بعضی از مناطق، هوا گرم و خشک است؛ یعنی باران کم می‌بارد و بیشتر ماه‌های سال هوا گرم است. در بعضی از مناطق، برف و باران زیاد می‌بارد و بیشتر ماه‌های سال هوا سرد است. به این مناطق، کوهستانی می‌گویند. در بعضی از مناطق، هوا معتدل و مرطوب است؛ یعنی باران زیاد می‌بارد و هوا نه خیلی سرد و نه خیلی گرم است. به این مناطق معتدل و مرطوب می‌گویند. نوع زندگی مردم در مناطق آب و هوایی مختلف با هم تفاوت دارد. در ناحیه‌های مختلف ایران، مردم آداب و رسوم متفاوتی دارند و به زبان‌ها و لهجه‌های گوناگونی صحبت می‌کنند. تنوع لباس و خانه‌سازی در مناطق مختلف، به شرایط آب و هوایی بستگی دارد. مردم هر منطقه متناسب با آن شرایط، لباس‌های متفاوتی می‌پوشند و خانه‌های گوناگونی می‌سازند.



- ۱- کشور ایران چند نوع منطقه‌ی آب و هوایی دارد؟ نام آن‌ها را بنویسید.
 - ۲- به سؤال‌ها توجه کنید و هر نقشه را با رنگ مناسب مشخص کنید.
- الف) در کدام منطقه‌ی آب و هوایی ایران، برف زیاد می‌بارد؟



ب) در کدام منطقه‌ی آب و هوایی ایران، بیشتر ماه‌های سال هوا گرم است؟



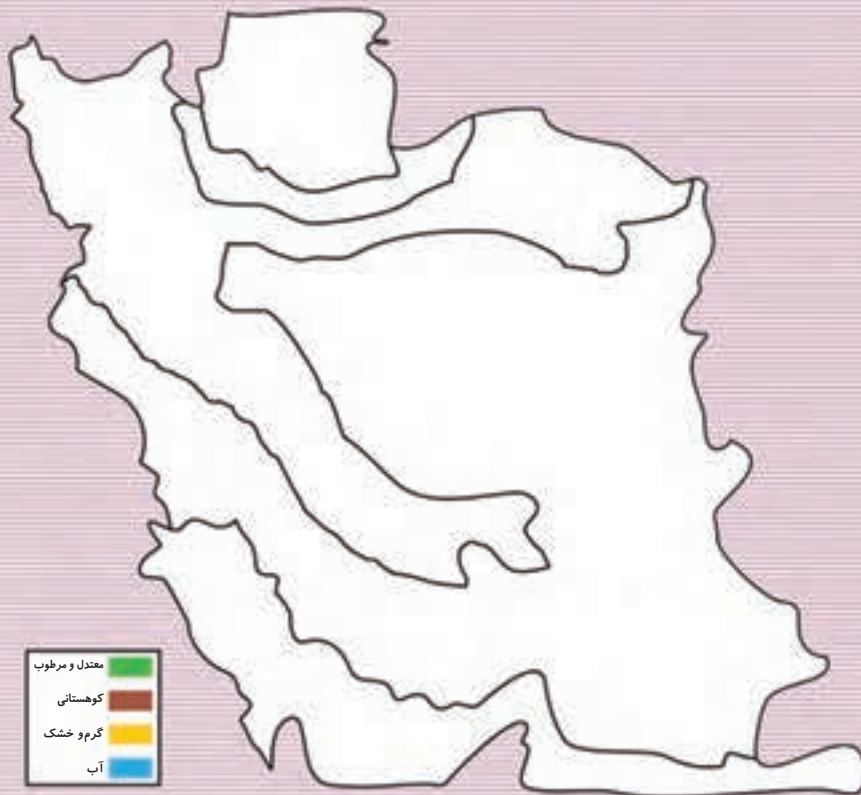
۳- آب و هوای منطقه‌ی معتدل و مرطوب چگونه است؟

۴- در منطقه‌ای که شما زندگی می‌کنید، مردم با چه زبان یا لهجه‌ای صحبت

می‌کنند؟

۵- یکی از آداب و رسوم شهر خود را در کلاس تعریف کنید.

۶- شما در کدام منطقه‌ی آب و هوایی زندگی می‌کنید؟ در نقشه‌ی زیر آن منطقه را رنگ کنید.



درس شانزدهم

محصولات کشاورزی



هر منطقه‌ی آب و هوایی ایران محصولات کشاورزی خاصی دارد. آیا شما محصولات کشاورزی هر منطقه را می‌شناسید؟

در منطقه‌ی گرم و خشک، کشاورزان با توجه به کمبود آب و گرم بودن هوا، محصولاتی مانند گندم و جو به دست می‌آورند. همچنین در این منطقه، درخت‌های خرما فراوان دیده می‌شوند.

نقشه‌ی ایران



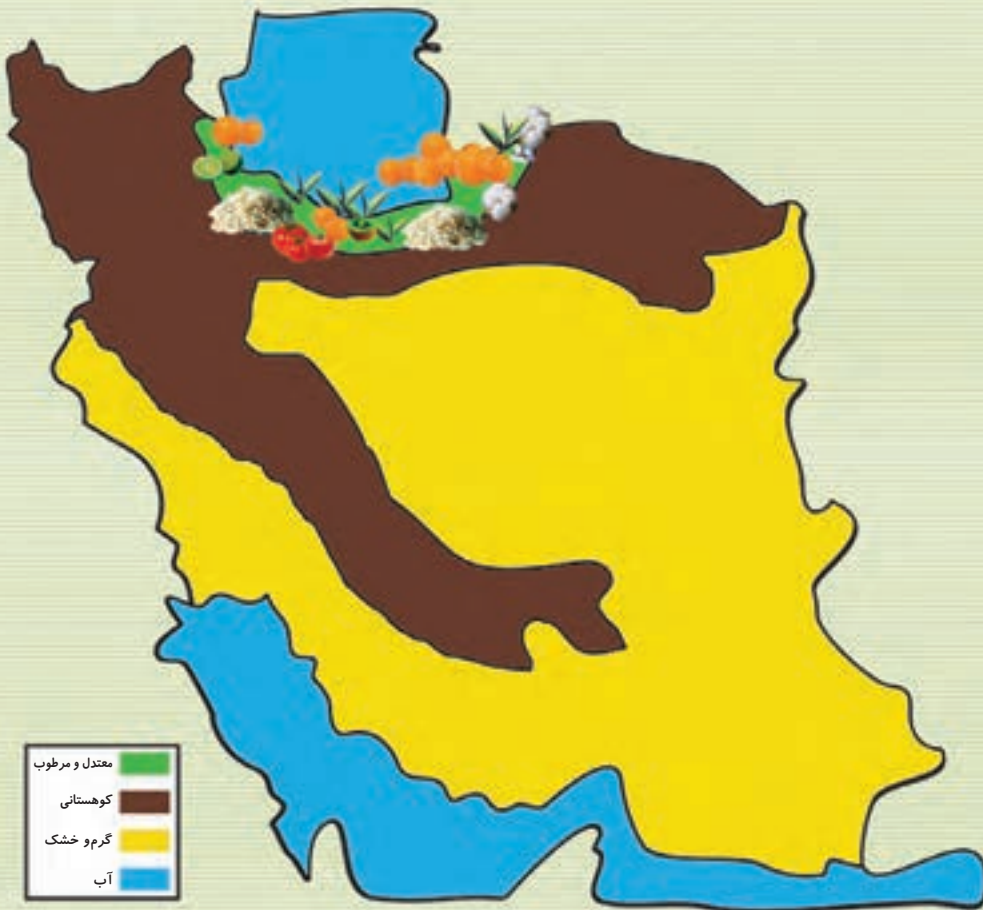
در منطقه‌ی کوهستانی، کشاورزان با توجّه به باران و برف فراوانی که می‌بارد و وجود رودهای پر آب، محصولاتی مانند حبوبات، چغندر قند و انواع میوه‌ها را به دست می‌آورند. هم‌چنین در این منطقه، به علّت وجود علف‌های تازه، خوراک دام نیز فراوان یافت می‌شود.



در منطقه‌ی معتدل و مرطوب ایران، کشاورزان به دلیل وجود زمین‌های حاصل‌خیز و باران فراوان، محصولاتی مانند: برنج، چای و پنبه را که به آب بسیار نیاز دارند، کشت می‌کنند.

هم‌چنین، در این منطقه باغ‌های مرکبات و زیتون نیز زیاد به چشم می‌خورند.

نقشه‌ی ایران



فکر کنید و پاسخ دهید



- ۱- چرا محصولات کشاورزی هر منطقه متفاوت هستند؟
- ۲- محصولات کشاورزی منطقه‌ی گرم و خشک را نام ببرید.
- ۳- محصولات کشاورزی منطقه‌ی کوهستانی را نام ببرید.
- ۴- محصولات کشاورزی منطقه‌ی معتدل و مرطوب را نام ببرید.
- ۵- چرا در منطقه‌ی گرم و خشک درخت خرما رشد می‌کند؟
- ۶- چرا در منطقه‌ی معتدل و مرطوب برنج محصول خوبی می‌دهد؟





از بین محصولات زیر، حبوبات را پیدا کنید و نام هر کدام از آن‌ها را، مانند نمونه، در جای مناسب بنویسید.



حبوبات

لپه

.....
.....
.....
.....



منطقه‌ی آب و هوایی هر محصول را مانند نمونه مشخص کنید.



منطقه‌ی گرم و خشک



منطقه‌ی معتدل و مرطوب



منطقه‌ی کوهستانی



کدام یک از میوه‌های زیر جزو مرکبات هستند؟ نام هر کدام از آن‌ها را، مانند نمونه، در جای مناسب بنویسید.



مرکبات

کیوی



دام به چه حیواناتی گفته می‌شود؟ آن‌ها را از بین تصویرهای زیر پیدا کنید و نام هر کدام از آن‌ها را، مانند نمونه، در جای مناسب بنویسید.



دام

اسب

.....
.....
.....
.....



با توجه به محصولات زیر، جدول‌ها را کامل کنید.





منطقه ی کوهستانی

منطقه ی گرم و خشک

.....
.....
.....
.....

منطقه ی معتدل و مرطوب

.....
.....
.....
.....



فصل هشتم



حکومت


درس هفدهم

ملت ایران

به مردمی که در یک کشور زندگی می کنند، «ملت» می گویند.
به مردمی که در کشور ایران زندگی می کنند، «ملت ایران» می گویند. شما در
هر نقطه از کشور ایران که زندگی کنید، جزو ملت ایران هستید.




به تصویرها توجه کنید



مقرّرات کلاس رعایت می‌شود.



مقرّرات کلاس رعایت نمی‌شود.



مقرّرات عبور و مرور رعایت می شود.




مقرّرات عبور و مرور رعایت نمی شود.

برای این که افراد یک کشور بتوانند به خوبی در کنار هم با نظم و ترتیب زندگی کنند، باید از دستورها و مقررات خاصی اطاعت کنند. به این دستورها و مقررات «قانون» می‌گویند. قانون به ما می‌گوید که چه کارهایی را باید و چه کارهایی را نباید انجام دهیم. نماینده‌هایی که با رأی مردم انتخاب می‌شوند، قوانین را تصویب می‌کنند. آیا شما می‌دانید که نماینده‌ها این قوانین را کجا تصویب می‌کنند؟



تصویر بالا، مجلس شورای اسلامی را نشان می‌دهد. در مجلس شورای اسلامی، قوانین کشور توسط نماینده‌های مردم تصویب می‌شوند.

فکر کنید و پاسخ دهید



- ۱- اگر قوانین کلاس را اجرا نکنیم، چه پیش می آید؟
- ۲- اگر قوانین عبور و مرور را رعایت نکنیم، چه پیش می آید؟
- ۳- رعایت قوانین در یک کشور برای چیست؟
- ۴- نماینده‌ها چگونه انتخاب می شوند؟
- ۵- قوانین کجا تصویب می شوند؟

فعالیت‌های تکمیلی



به مردمی که در کشور ایران زندگی می‌کنند، ملت می‌گویند.



به مردمی که در فلسطین زندگی می‌کنند، ملت می‌گویند.



قوانین مربوط به هر قسمت را بنویسید.

قوانین خانه

.....

.....

.....

.....

.....

.....

قوانین مدرسه

.....

.....

.....

.....

.....

قوانین شهر و روستا

.....

.....

.....

.....

.....

.....

قوانین عبور و مرور

.....

.....

.....

.....

.....