

# فشار و آتار آن

## فصل ۸



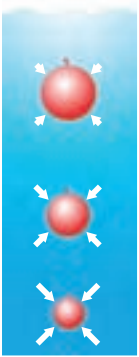
آب جمع شده در پشت سد، فشار زیادی به آن وارد می‌کند. آیا می‌دانید چرا هرچه از تاج سد به پایه آن نزدیک می‌شویم، ضخامت دیواره آن افزایش می‌یابد؟ با انجام دادن آزمایش کنید صفحه ۵۷، درک بهتری برای پاسخ به این پرسش پیدا خواهید کرد.

هوایی که تنفس می‌کنیم، آبی که از دوش حمام فرو می‌ریزد و از آن برای استحمام استفاده می‌کنیم، کفشی که می‌پوشیم، تشکی که روی آن استراحت می‌کنیم همگی به نوعی با مفهوم فشار ارتباط دارند. در این فصل پس از آشنایی با تعریف فشار، شناخت بهتری از پدیده‌هایی از این دست، به دست می‌آورید.

## فشار در زندگی روزمره

چرا وقتی با کفش‌های معمولی روی برف راه می‌روید، کفش‌هایتان در آن فرو می‌روند، اما اگر چوب اسکی (برف‌سُر) به پا داشته باشید، کمتر در برف، فرو می‌روید (شکل ۱-الف)؟ چرا ابعاد پنجره هواپیما کوچک‌تر از پنجره اتوبوس است (شکل ۱-ب)؟ چرا اندازه بادکنک پر از هوا، وقتی از ته استخر آب به بالا می‌آید بزرگ‌تر می‌شود (شکل ۱-پ)؟ چرا در ته کفش بازیکنان فوتبال، تعدادی گل میخ وجود دارد (شکل ۱-ت)؟ چرا برای اتصال قطعه‌های چوبی، افزون بر پیچ و مهره، از واشر نیز استفاده می‌شود (شکل ۱-ث)؟ چرا پونز با کمی تلاش درون چوب یا دیوار فرو می‌رود (شکل ۱-ج)؟

در این فصل می‌کشیم تا با معرفی مفهوم فشار، به شما کمک کنیم تا شناخت بهتری برای بیان دلیل برخی از پدیده‌هایی به دست آورید که در زندگی روزمره با آنها مواجه می‌شوید.



(پ)



(ب)



(الف)



(ج)



(ث)



(ت)

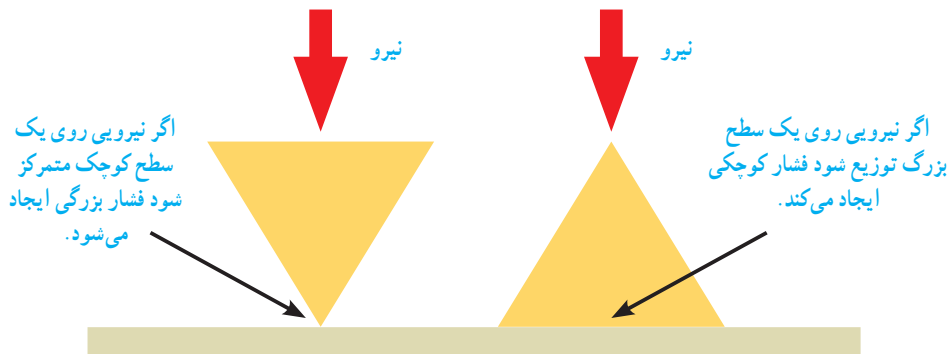
شکل ۱

## نیرو و فشار

هرچند در گفت‌وگوهای روزمره، واژه‌های نیرو و فشار را در موارد زیادی به جای یکدیگر به کار می‌بریم ولی در علوم هر کدام از آنها، تعریف معینی دارند. در علوم فشار را به صورت اندازه نیرو تقسیم بر سطحی که به آن نیرو وارد می‌شود تعریف می‌کنند. یعنی:

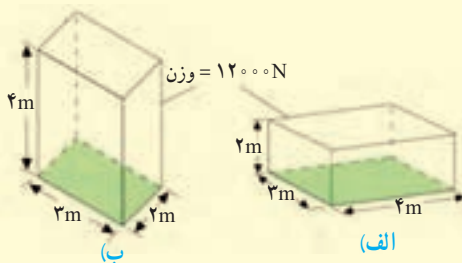
$$p = \frac{F}{A} \quad \text{یا} \quad \text{فشار} = \frac{\text{نیرو}}{\text{سطح}} \quad (۱)$$

یکای فشار پاسکال (Pa) است به طوری که هر پاسکال، هم‌ارز با یک نیوتون بر متر مربع ( $1\text{N/m}^2$ ) است. رابطه (۱) نشان می‌دهد هرگاه نیروی معینی را به دو سطح متفاوت وارد کنیم، فشار نیز متفاوت خواهد بود (شکل ۲).



شکل ۲

مثال :



قطعه‌ای به وزن  $12000\text{ N}$  نیوتون را مطابق شکل‌های الف و ب از دو وجه آن، روی سطح افقی صافی قرار داده‌ایم. فشار وارد شده از طرف قطعه به سطح را در هریک از دو حالت، به طور جداگانه حساب کنید.

**حل :** سطح تماس قطعه با سطح زمین در حالت (الف) برابر است با :

$$\text{سطح} = 2\text{m} \times 4\text{m} = 8\text{m}^2$$

نیرویی که قطعه بر سطح زمین وارد می‌کند، برابر وزن قطعه است. بنابراین با توجه به تعریف فشار داریم :

$$\text{فشار} = \frac{\text{نیرو}}{\text{سطح}} = \frac{12000\text{ N}}{8\text{m}^2} = 1500\text{ Pa}$$

به طور مشابه در حالت (ب) داریم :

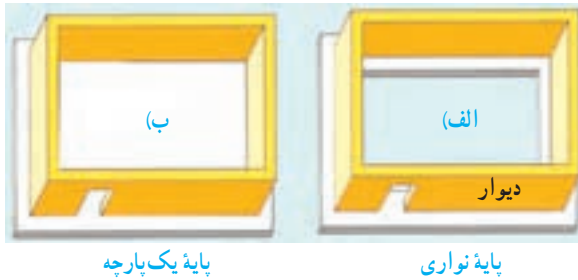
$$\text{فشار} = \frac{\text{نیرو}}{\text{سطح}} = \frac{12000\text{ N}}{4\text{m}^2} = 3000\text{ Pa}$$

همان‌طور که انتظار داشتیم با کاهش سطح، فشار افزایش یافته است.

## خود را بیازمایید

برای تحمل وزن یک ساختمان، دیوارهای آن را روی پایه‌های بتونی، می‌سازند. در شکل زیر، دو نوع پایه متفاوت که معماران در این مورد به کار می‌برند، نشان داده شده است.

الف) اگر سطح کل پایه نواری، نصف سطح پایه یک پارچه باشد، در این صورت فشاری را که از طرف



دیوارهای ساختمان به هریک از دو پایه وارد می‌شود باهم مقایسه کنید.

ب) برای ساختن ساختمان روی زمین نرم، کدامیک از پایه‌های نشان داده شده، مناسب‌تر است؟ علت انتخاب خود را توضیح دهید.

## فکر کنید



۱- یکی از توصیه‌هایی که همواره باید جدی بگیریم، این است که روی سطح یک استخر یخ‌زده یا دریاچه یخ‌زده راه نرویم زیرا فشاری که وزن ما ایجاد می‌کند، ممکن است برای شکستن یخ کافی باشد. با توجه به تعریف فشار توضیح دهید چرا امدادگر از یک نردبان بزرگ برای حرکت روی سطح یک دریاچه یخ‌زده، استفاده کرده است.



۲- چرا گرفتن پونز بین دو انگشت و فشردن آن می‌تواند سبب آسیب رساندن به یکی از انگشت‌ها شود (شکل روبه‌رو)?

## فعالیت

ابتدا جرم خود را به کمک ترازو اندازه بگیرید و وزن خود را حساب کنید. سپس سطح تماس کفشی که پوشیده‌اید را با زمین اندازه بگیرید. سرانجام به کمک رابطه (۱):  
(الف) مقدار فشاری که پاهای شما به زمین وارد می‌کنند را به دست آورید.  
(ب) اگر روی یک پای خود بایستید چه فشاری به زمین وارد می‌کنید?



بلز پاسکال (۱۶۲۳-۱۶۶۲) ریاضیدان، فیزیکدان و فیلسوف فرانسوی، هنوز سه سال بیشتر نداشت که مادرش را از دست داد و تحت آموزش پدرش قرار گرفت. در ۱۹ سالگی کار روی ساخت اولین ماشین حساب مکانیکی را شروع کرد و تا سه سال پس از آن ۲۰ نمونه کامل شده از این ماشین حساب ها را ساخت. پاسکال با وجود اینکه فقط ۳۹ سال زندگی کرد، خدمات زیادی به پیشرفت ریاضی و علوم نمود. یکای فشار به افتخار او، پاسکال (Pa) انتخاب شده است.

### فشار در مایع ها



شکل ۳

وقتی یکی از انگشتان خود را جلوی آبی که از شیلنگ بیرون می آید بگیرید، فشار آب را احساس می کنید (شکل ۳). همچنین وقتی به قسمت عمیق استخری بروید فشار آب را روی بدن و به خصوص پرده گوش خود احساس می کنید. برای آشنایی با برخی از عوامل مؤثر در فشار مایع ها، ابتدا آزمایش زیر را انجام دهید.

### آزمایش کنید

**هدف:** بررسی فشار در مایع ها

**وسایل و مواد لازم:** بطری آب (۱/۵ و ۲ لیتری)، پایه (مثلاً یک یا دو قطعه آجر)، یک ظرف نسبتاً بزرگ،

نوار چسب کاغذی

**روش اجرا:**

۱- مطابق شکل سه سوراخ کوچک در بطری ۱/۵ لیتری ایجاد کنید و سوراخ ها را با نوار چسب کاغذی بپوشانید.

۲- بطری را از آب پر کنید و ظرف خالی را زیر آن قرار دهید.

۳- مسیری را که پیش بینی می کنید فوران های آب از سوراخ های ایجاد شده روی بطری طی می کنند روی



(الف)



(ب)



(ب)

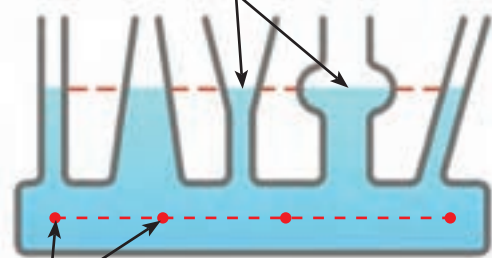
شکل (ب) رسم و استدلال خود را بیان کنید.

۴- در پوش بطری را باز کنید و نوارچسب کاغذی را به آرامی از آن جدا کنید. نتیجه مشاهده خود را با آنچه روی شکل (ب) رسم کردید مقایسه کنید.

۵- مطابق شکل (پ) آزمایش را با دو بطری ۱/۵ و ۲ لیتری انجام دهید. توجه کنید که سوراخ‌ها را به طور مشابه و در ارتفاع یکسان روی هر دو بطری ایجاد کنید. همچنین سطح آب در هر دو بطری مساوی باشد.

۶- با توجه به نتایج آزمایش‌های شکل (الف) و (پ) توضیح دهید فشار درون مایع چگونه با افزایش عمق تغییر می‌کند.

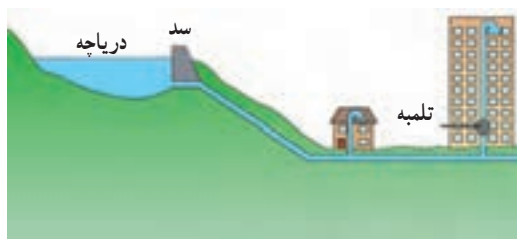
سطح آزاد مایع



شکل ۴- هر چند لوله‌ها شکل و حجم متفاوتی دارند ولی فشار مایع در نقاط هم تراز یکسان است. نقاط هم تراز

سطح آزاد مایع: همان‌طور که با انجام آزمایش کنید بالا دیدید فشار مایع در یک عمق مشخص از سطح مایع، بدون توجه به اندازه بطری‌ها، یکسان است. برای بررسی بیشتر این موضوع، ظرف‌های مرتبط شکل ۴ را ببینید. اگر مایعی درون یکی از آنها بریزید، مایع در ظرف‌های مختلف جریان می‌یابد تا اینکه سطح آزاد مایع در تمامی ظروف یکسان شود.

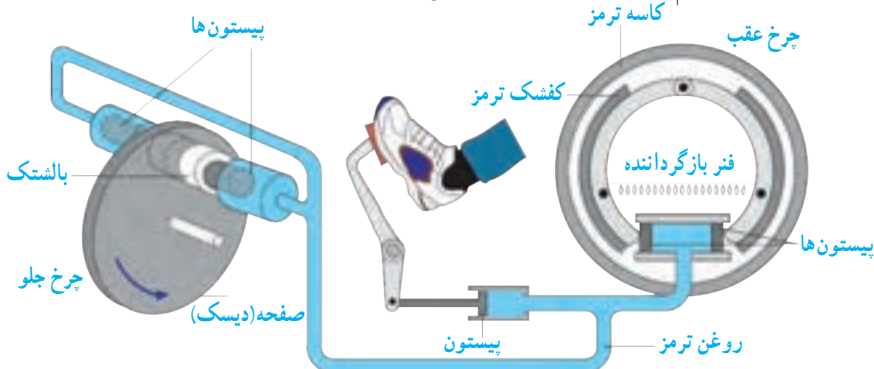
### فکر کنید



شکل روبه‌رو طرحی از سامانه آب‌رسانی یک منطقه مسکونی را نشان می‌دهد. با توجه به آنچه تاکنون در این فصل فراگرفته‌اید، نقش تلمبه (پمپ) را در ساختمان چندین طبقه توضیح دهید.

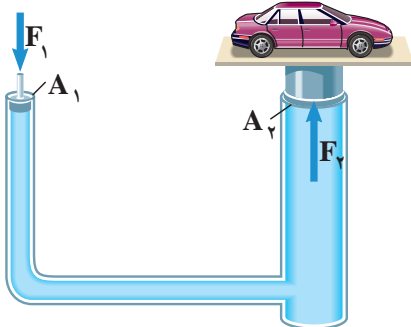


**اصل پاسکال:** یکی از مهم‌ترین ویژگی‌ها درباره فشار مایع‌ها این است که اگر بر بخشی از مایع که درون ظرفی محصور است فشار وارد کنیم این فشار، بدون ضعیف شدن به بخش‌های دیگر مایع و دیواره‌های ظرف منتقل می‌شود. این ویژگی مایع‌ها، **اصل پاسکال** نامیده می‌شود. شکل ۵ اجزای تشکیل دهنده ترمز هیدرولیکی خودرو را نشان می‌دهد که بر مبنای اصل پاسکال کار می‌کند. وقتی راننده پدال ترمز را فشار می‌دهد، این فشار توسط روغن ترمز به پیستون‌ها، کفشک‌ها و بالشتک‌ها منتقل می‌شود. کفشک‌ها به کاسه ترمز عقب و بالشتک‌ها به صفحه‌ای که به چرخ جلو متصل است نیرو وارد کرده و سرانجام سرعت خودرو کاهش می‌یابد.



شکل ۵- کاربرد اصل پاسکال در ترمزهای هیدرولیکی

## فکر کنید



شکل ۶ طرحی ساده از یک بالابر هیدرولیکی را نشان می‌دهد که معمولاً در تعمیرگاه‌های خودرو از آن استفاده می‌کنند. این بالابرها براساس اصل پاسکال کار می‌کنند و رابطه زیر در محل پیستون‌های آن برقرار است:

$$\frac{F_1}{A_1} = \frac{F_2}{A_2}$$

شکل ۶- طرح ساده شده‌ای از یک بالابر هیدرولیکی

## فشار در گازها

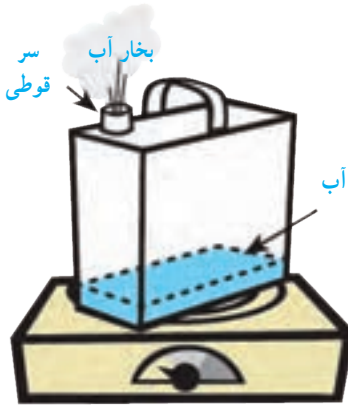
برای شما نیز ممکن است بارها اتفاق افتاده باشد که هرگاه بیش از حد مجاز، هوا را به درون بادکنکی دمیده باشید بادکنک ترکیده باشد. این تجربه ساده نشان می‌دهد که گازها نیز مانند مایع‌ها فشار وارد می‌کنند.

## آزمایش کنید

هدف: بررسی آثار فشار هوا (۱)

وسایل و مواد لازم: قوطی حلبی، منبع گرما

روش اجرا:



۱- کمی آب درون قوطی بریزید و آن را روی منبع گرما قرار دهید.

۲- مدتی (حدود ۲ الی ۳ دقیقه) صبر کنید تا مقداری بخار آب از سر قوطی خارج شود.

۳- قوطی را از روی منبع گرما بردارید. سر قوطی را با درب مخصوص آن محکم ببندید (مراقب انگشت‌های خود باشید!).

۴- پیش‌بینی کنید چه اتفاقی می‌افتد. استدلال خود را برای این پیش‌بینی بیان کنید.

۵- چند دقیقه صبر کنید تا قوطی خنک شود. نتیجه مشاهده خود را توضیح دهید. آیا نتیجه آزمایش با پیش‌بینی شما سازگار بود؟

## فعالیت



(ب)



(الف)

یک نی را مطابق شکل (الف) داخل یک بطری محتوی آب قرار دهید. درحالی که نی درون بطری قرار دارد مطابق شکل (ب) دهانه بطری را با لب‌های خود به‌طور کامل بگیرید و درون بطری بدمید. آنچه را مشاهده می‌کنید، با توجه به آثار فشار هوا و همچنین اصل پاسکال توضیح دهید.

اطراف کره زمین و تا ارتفاع معینی، هوا وجود دارد. شکل ۷ یک ستون فرضی از مولکول‌های هوا را نشان می‌دهد. هرچه از سطح زمین بالاتر روم فشار هوا کمتر می‌شود. به همین دلیل فشار هوا در مناطق کوهستانی کمتر از فشار هوا در مناطق ساحلی است. فشار هوا در زندگی روزمره ما اثرهای فراوانی دارد. برای مثال وقتی می‌خواهید آبمیوه درون یک قوطی را به کمک نی بنوشید از آثار فشار هوا استفاده می‌کنید.

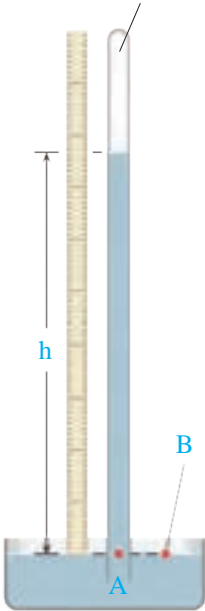


شکل ۷- هوا در سطح زمین متراکم‌تر از ارتفاع‌های بالاتر است.



## آیا می دانید

این قسمت تقریباً چیزی وجود ندارد و خلأ است.



با استفاده از این واقعیت که فشار در نقاط هم تراز یک مایع یکسان است، می توان فشارسنج ساده ای ساخت که برای اندازه گیری فشار هوا به کار رود. شکل روبه رو یک فشارسنج ساده جیوه ای را نشان می دهد. یک لوله شیشه ای به طول حدود ۸۰ تا ۱۰۰ سانتی متر، که یک سر آن بسته است را انتخاب می کنیم. لوله را پر از جیوه کرده و پس از خارج کردن هوای درون جیوه، با انگشت دهانه آن را می بندیم. سپس آن را وارونه کرده و به طور قائم در یک ظرف جیوه فرو می بریم. با برداشتن انگشت، مشاهده می کنیم که سطح جیوه در لوله تا آنجا پایین می آید که فشار در نقطه A برابر فشار هوا در نقطه B شود. ارتفاع ستون جیوه (h) معیاری از فشار هوا در محل آزمایش است. این ارتفاع در سطح دریا حدود ۷۶ سانتی متر است.

توریچلی (۱۶۴۷-۱۶۰۸ میلادی)، فیزیکدان ایتالیایی، نخستین کسی بود که با انجام این آزمایش ساده، نشان داد که هوا فشار دارد. وی همچنین با اندازه گیری ارتفاع ستون جیوه توانست فشار هوا را در کنار دریا و بالای کوه اندازه گیری کند. (هشدار: جیوه و بخار آن سمی است. توصیه می شود این آزمایش فقط در آزمایشگاه و با رعایت استانداردهای لازم انجام شود.)

## آزمایش کنید

**هدف:** بررسی آثار فشار هوا (۲)

**وسایل و مواد لازم:** بطری شیشه ای، درپوش تک سوراخه و درپوش دو سوراخه، قیف و ظرف

محتوی آب

**روش اجرا:**



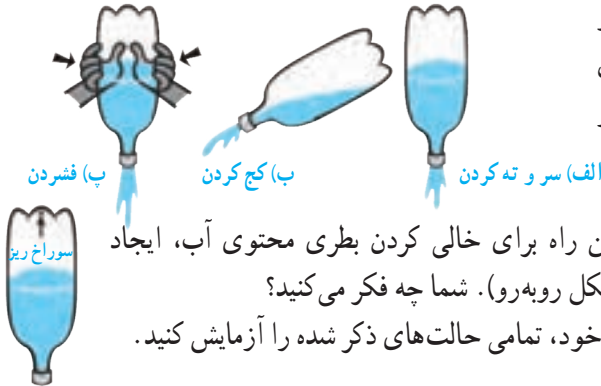
۱- پیش بینی کنید با ریختن آب درون قیف شکل الف چه اتفاقی می افتد. استدلال خود را بیان کنید.

۲- اکنون آزمایش کنید. مطابق شکل الف به آرامی آب را درون قیف بریزید. چه اتفاقی می افتد؟ به دقت مشاهده کنید و سعی کنید آنچه را که اتفاق می افتد توضیح دهید.

۳- اگر به جای درپوش تک سوراخه، از درپوش دوسوراخه استفاده کنیم (شکل ب)، پیش بینی کنید چه اتفاقی می افتد.

۴- آزمایش را به کمک درپوش دوسوراخه انجام دهید و سعی کنید آنچه را که اتفاق می افتد توضیح دهید.

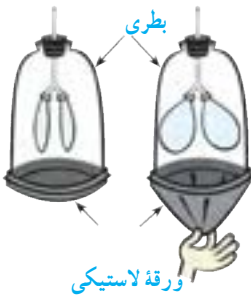
## فکر کنید



با توجه به شکل‌های روبه‌رو سریع‌ترین راه برای خالی کردن یک بطری پلاستیکی که تا نیمه از آب پر شده، کدام است؟

دانش‌آموزی می‌گوید سریع‌ترین راه برای خالی کردن بطری محتوی آب، ایجاد سوراخی ریز در ته آن است (شکل روبه‌رو). شما چه فکر می‌کنید؟ برای بررسی درستی پاسخی‌های خود، تمامی حالت‌های ذکر شده را آزمایش کنید.

## فعالیت



در علوم سال هفتم با نحوه کار شش‌ها آشنا شدید. همانطور که دیدید آنها شبیه بادکنک، داخل حفره سینه ما پر و خالی می‌شوند. اما چه چیزی باعث پر و خالی شدن آنها می‌شود؟ نقش فشار هوا در این خصوص چیست؟ شما می‌توانید پاسخ این پرسش‌ها را با ساختن مدلی از شش، مورد بررسی قرار دهید (شکل روبه‌رو).

## آیا می‌دانید

یکی از معروف‌ترین آزمایش‌های مربوط به فشار هوا را اوتو فون گریکه، شهردار یکی از شهرهای آلمان و مخترع پمپ خلأ در سال ۱۶۵۴ میلادی انجام داد. فون گریکه دو نیمکره با قطری حدود ۵۰ سانتی‌متر را، کنار هم گذاشت تا کره‌ای تشکیل دهند. او اتصال‌های هوا بندی شده را با یک واشر چرمی آغشته به روغن درست کرد. وقتی با پمپ خلأ کره را از هوا تخلیه کرد، مطابق شکل حتی دو گروه اسب نیز نتوانستند دو نیمکره را از هم جدا کنند!

