

حد و پیوستگی

۵

فصل

- ۱ مفهوم حد و فرایندهای حدی
- ۲ حدهای یک طرفه (حد چپ و حد راست)
- ۳ قضایای حد
- ۴ محاسبه حد توابع کسری (حالت $\frac{0}{0}$)
- ۵ پیوستگی

مفهوم حد و فرایندهای حدی

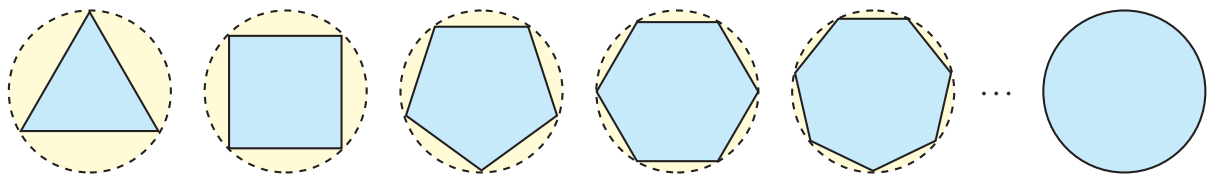


بیشتر پدیده‌های طبیعی و مسائل محیط پیرامون را می‌توان مدل‌سازی نمود و مدل ریاضی بسیاری از این پدیده‌ها، به صورت یک تابع درمی‌آید.

گاهی اوقات لازم است، برای تحلیل یک پدیده، رفتار تابع متناظر آن را در نزدیکی یک نقطه مورد ارزیابی قرار دهیم. مفهوم «حد» ابزار مناسبی است که می‌تواند در تحلیل رفتار تابع به ما کمک شایانی بنماید.

فعالیت

در شکل زیر، شعاع دایره‌ها، برابر ۱ واحد است.



۱ با افزایش اضلاع چندضلعی‌های محاط در دایره، مساحت چندضلعی به مساحت چه شکلی نزدیک می‌شود؟

۲ مساحت دایره‌ای به شعاع ۱ چقدر است؟

۳ اگر مقدار تقریبی عدد π تا رقم اعشار را برابر $\pi = 3.14159$ در نظر بگیریم و مساحت n ضلعی منتظم واقع در درون دایره را با A_n نشان دهیم، جدول زیر مقادیر A_n را به ازای برخی $n \in \mathbb{N}$ نشان می‌دهد:

n	۳	۴	۵	۶	۷	۸	۹	۱۰	۲۰۰	۳۰۰	۴۰۰	۵۰۰	۱۰۰۰
A_n	۱/۲۹۹۰۳	۲	۲/۳۷۷۶۴	۲/۵۹۸۰۷	۲/۷۳۶۰۸	۲/۸۲۸۴۲	۲/۸۹۲۵۴	۲/۹۳۸۹۲	۳/۱۴۱۰۷	۳/۱۴۱۳۶	۳/۱۴۱۴۶	۳/۱۴۱۵۰	۳/۱۴۱۵۷

۴ با توجه به این جدول، هرچه تعداد اضلاع چندضلعی‌های داخل دایره زیاد می‌شود، جملات دنباله A_n (مساحت n ضلعی درون دایره) به عدد... که برابر مساحت دایره است نزدیک می‌شوند.

مساحت چندضلعی‌های منتظم درون دایره (محاطی) را به هر اندازه که بخواهیم، می‌توانیم به مساحت دایره نزدیک کنیم، به شرط آنکه تعداد اضلاع را به اندازه کافی زیاد کنیم.

خواندنی

عدد π (پی) سرگذشتی حداقل ۳۷۰۰ ساله دارد. پی یکی از مشهورترین عددها در دنیای ریاضی است و با نماد π ، یکی از حروف الفبای یونانی نشان داده می‌شود. ساده‌ترین و بهترین راه معرفی π این است:

$$\pi = \frac{\text{محیط دایره}}{\text{قطر دایره}}$$

π یک عدد گنگ است و در طول این ۳۷ قرن، دانشمندان زیادی سعی کرده‌اند مقدار دقیق آن را حساب کنند. قدیمی‌ترین محاسبه به دست آمده، به ۱۷۰۰ سال قبل از میلاد مربوط می‌شود. این محاسبات روی بایروسی نوشته شده است که در حال حاضر، در موزه‌ای در «مسکو» نگهداری می‌شود. حدود ۲۴۰ سال قبل از میلاد، ارشمیدس اولین روش کلاسیک را برای تعیین مقدار تقریبی عدد π ارائه داد.

ارشمیدس با استفاده از چندضلعی‌های محاطی و محیطی درون و بیرون یک دایره به شعاع واحد به محاسبه تقریبی عدد π پرداخت. او با ضلعی منتظم شروع و مرتباً تعداد اضلاع را دو برابر کرد و با استفاده از ۹۶ ضلعی‌های منتظم محیطی و محاطی مقدار π را با تقریب بسیار خوبی ($3.1415 < \pi < 3.1418$) به دست آورد.



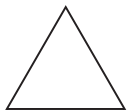
غیاث‌الدین جمشید کاشانی معروف به «الکاشی» در کتاب رساله محیطیه π را تا ۱۷ رقم پس از ممیز حساب کرده است.

اگر می‌خواهید عدد π را تا ده رقم اعشار به خاطر بسپارید تعداد حروف کلمات، در بیت دوم این شعر به شما کمک خواهد کرد:

گر کسی از تو بپرسد ره دانستن π	پاسخی ده که هنرمند تو را آموزد
خرد و دانش و آگاهی دانشمندان	ره سرنمزل مقصود بما آموزد
۳ ۱ ۴ ۱ ۵ ۹	۲ ۶ ۵ ۳ ۵

$$\pi = 3.1415926535 \dots$$

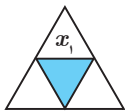
فعالیت



یک مثلث متساوی‌الاضلاع به طول ضلع ۲ را در نظر بگیرید، اندازه محیط این مثلث برابر ۶ می‌باشد.

۱ مطابق شکل، وسط اضلاع را به هم وصل می‌کنیم تا مثلث جدیدی ایجاد شود، اندازه ضلع مثلث جدید را x_1 و اندازه محیط آن را P_1 می‌نامیم.

در این صورت داریم: $x_1 = \dots$ و $P_1 = \dots$



۲ اگر عمل وصل کردن وسط ضلع‌های مثلث‌های جدید را ادامه دهیم و در مرحله n ام طول ضلع مثلث به وجود آمده را x_n و محیط آن را با P_n نمایش دهیم، با توجه به شکل‌های زیر، جدول داده شده را تکمیل کنید:

			x_n	۱	$\frac{1}{2}$	$\frac{1}{4}$	$\frac{1}{8}$...	$\frac{1}{2^n}$
(۱)	(۲)	(۳)	P_n	۳	$\frac{3}{2}$	$\frac{3}{4}$...	

۳ اندازه اضلاع مثلث‌ها، به چه عددی نزدیک می‌شوند؟

۴ اندازه محیط این مثلث‌ها، به چه عددی نزدیک می‌شوند؟

در فعالیت قبل، اگر طول ضلع اولیه را x در نظر بگیریم و f تابعی باشد که محیط مثلث را برحسب ضلع آن بیان می‌کند، آن‌گاه داریم $f(x) = 3x$.

همان‌طور که مشاهده کردیم، وقتی طول ضلع مثلث‌ها (مقدار متغیر x) به عدد صفر نزدیک می‌شود، محیط مثلث‌ها، یعنی مقادیر تابع f ، نیز به عدد صفر نزدیک می‌شوند.

❖ **مثال:** رفتار تابع f ، با ضابطه $f(x) = \frac{x^2 - 4}{x - 2}$ را در اطراف نقطه $a = 2$ بررسی نمایید.

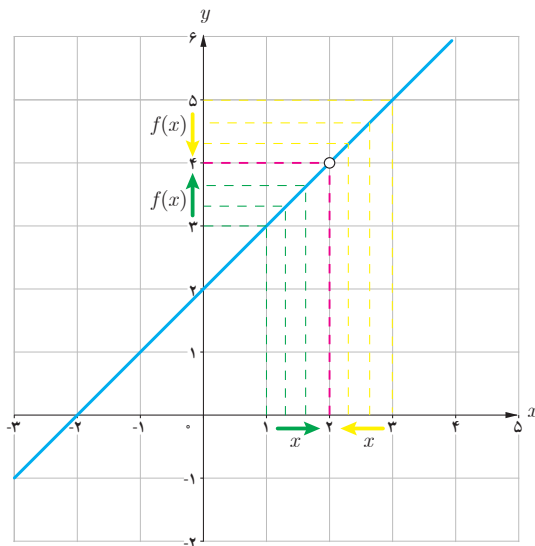
❖ **حل:** تابع f ، به ازای هر عدد حقیقی x به جز $x = 2$ تعریف شده است. به ازای هر $x \neq 2$ ، ضابطه تابع را می‌توان ساده کرد و به صورت زیر نوشت:

$$f(x) = \frac{(x-2)(x+2)}{x-2} = x+2$$

در جدول زیر، مقادیر تابع f را به ازای برخی مقادیر کوچک‌تر از ۲، که به تدریج از سمت چپ به عدد ۲ نزدیک می‌شوند، و نیز برخی مقادیر بزرگ‌تر از ۲، که به تدریج از سمت راست به ۲ نزدیک می‌شوند، محاسبه کرده‌ایم:

	➔ از چپ به عدد ۲ نزدیک می‌شود					2	← از راست به عدد ۲ نزدیک می‌شود				
x	۱	۱/۵	۱/۹	۱/۹۹	۱/۹۹۹	→ ۲	← ۲/۰۰۰۱	۲/۰۰۱	۲/۰۱	۲/۵	۳
$f(x)$	۳	۳/۵	۳/۹	۳/۹۹	۳/۹۹۹	→ ?	← ۴/۰۰۰۱	۴/۰۰۱	۴/۰۱	۴/۵	۵
	➔ $f(x)$ به عدد ۴ نزدیک می‌شود						← $f(x)$ به عدد ۴ نزدیک می‌شود				

با توجه به جدول فوق، مشاهده می‌کنیم که، با نزدیک شدن x به عدد ۲ (از راست و از چپ) مقادیر $f(x)$ ، به عدد ۴ نزدیک می‌شوند.



درستی این مطلب را از روی نمودار تابع نیز می‌توان دید:
نمودار تابع f ، خط راست $y = x + 2$ است که یک نقطه از آن، یعنی نقطه $(2, 4)$ حذف شده است.

با وجود اینکه مقدار تابع در نقطه ۲ تعریف نشده است ولی با توجه به نمودار تابع، وقتی x را با مقادیر بزرگ‌تر و یا کوچک‌تر از ۲ (اما مخالف ۲) به عدد ۲ نزدیک می‌کنیم، مقادیر تابع f به عدد ۴ نزدیک می‌شوند. به عبارت دیگر وقتی $x \rightarrow 2$ (یعنی x به سمت ۲ میل می‌کند)، مقادیر تابع f به عدد ۴ نزدیک می‌شوند. در این صورت می‌گوییم، حد تابع f وقتی x به ۲ نزدیک می‌شود برابر ۴ است و می‌نویسیم:

$$\lim_{x \rightarrow 2} f(x) = 4$$

در مثال بالا، رفتار تابعی مانند f را در اطراف نقطه‌ای مانند a بررسی و مشاهده کردیم که وقتی متغیر x به a نزدیک می‌شود مقادیر تابع f نیز به یک عدد مشخص، نزدیک می‌شوند. این مفهوم را «حدگیری» از تابع f در نقطه a می‌نامیم.

توابع f ، g و h با ضابطه‌های $f(x) = x+3$ ، $g(x) = \frac{x^2-9}{x-3}$ و $h(x) = \begin{cases} x+3 & x \neq 3 \\ 4 & x = 3 \end{cases}$ را در نظر بگیرید:

۱ مقادیر زیر را در صورتی که تعریف شده باشند به دست آورید:

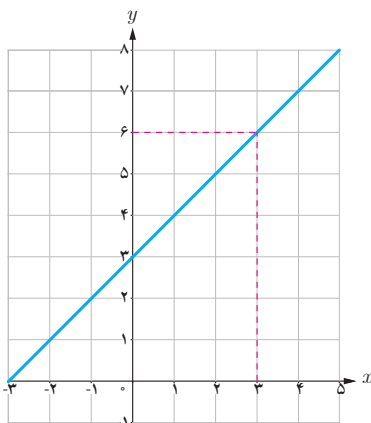
$$f(3) = \dots \quad g(3) = \dots \quad h(3) = \dots$$

۲ با تکمیل جدول زیر، حدس بزنید که وقتی مقادیر x را به عدد ۳ نزدیک می‌کنیم، مقادیر توابع f ، g و h هر کدام به چه عددی نزدیک می‌شوند.

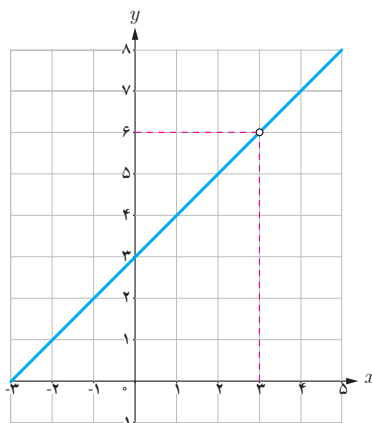
x	۲/۹	۲/۹۹	۲/۹۹۹	۲/۹۹۹۹	→ ۳	← ۳/۰۰۰۰۱	۳/۰۰۰۱	۳/۰۰۱	۳/۰۱	۳/۱
$f(x)$	۵/۹	۵/۹۹	۵/۹۹۹	۵/۹۹۹۹	→ ?	← ۶/۰۰۰۰۱	۶/۰۰۰۱	۶/۰۰۱	۶/۰۱	۶/۱
$g(x)$	→ ?	←
$h(x)$	→ ?	←

۳ نمودارهای توابع f ، g و h به صورت زیر رسم شده است.

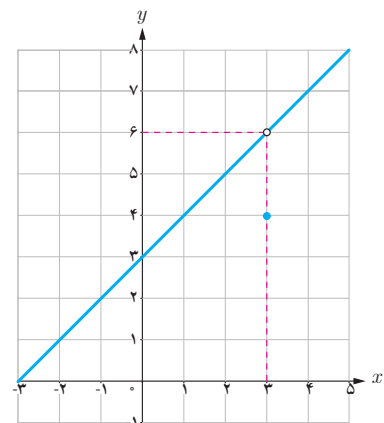
از روی نمودار، توضیح دهید که وقتی مقادیر x را به ۳ نزدیک می‌کنیم، مقادیر $f(x)$ ، $g(x)$ و $h(x)$ هر کدام به چه عددی نزدیک می‌شوند.



نمودار f



نمودار g



نمودار h

۴ حد هر سه تابع وقتی x به عدد ۳ نزدیک می‌شود برابر ... است به عبارت دیگر:

$$\lim_{x \rightarrow 3} f(x) = \dots \quad \lim_{x \rightarrow 3} g(x) = \dots \quad \lim_{x \rightarrow 3} h(x) = \dots$$

۵ با توجه به جدول صفحه قبل و نمودار و ضابطه سه تابع، تفاوت‌ها و شباهت‌های این سه تابع را بیان کنید.

از کار در کلاس قبل نتیجه می‌گیریم که:

الف) ممکن است یک تابع در نقطه a تعریف نشده باشد، اما حد این تابع وقتی x به a نزدیک می‌شود موجود باشد. (مانند تابع g در نقطه ۳)

ب) ممکن است یک تابع در نقطه a تعریف شده باشد و در این نقطه دارای حد نیز باشد، ولی مقدار این حد با مقدار تابع در a برابر نباشد. (مانند تابع h در نقطه ۳).

در حقیقت با اینکه سه تابع داده شده از نظر مقدار در نقطه ۳ با هم متفاوت‌اند و حتی تابع g در نقطه ۳ تعریف نشده است ولی در اطراف نقطه ۳ رفتار کاملاً یکسانی دارند، یعنی حد هر سه تابع وقتی x به ۳ نزدیک می‌شود برابر با ۶ است.

با توجه به مفهوم حد، به نظر می‌رسد برای آنکه بتوان مقادیر متغیر را از دو طرف (چپ و راست) به عددی مانند a ، نزدیک نمود، کافی است تابع مورد نظر در یک بازه باز شامل a تعریف شده باشد. البته در محاسبه حد تابع در نقطه a ، رفتار تابع در دو طرف نقطه a اهمیت دارد، پس لزومی ندارد خود a در دامنه تابع باشد. بنابراین لازم است به تعریف همسایگی یک نقطه که یکی از مفاهیم اساسی برای تعریف حد تابع در یک نقطه می‌باشد بپردازیم:

تعریف

اگر x_0 یک عدد حقیقی باشد، هر بازه باز شامل x_0 را یک همسایگی x_0 می‌نامیم. بنابراین اگر $x_0 \in (a, b)$ ، آن‌گاه بازه (a, b) یک همسایگی x_0 است.



اگر نقطه x_0 را از این بازه حذف کنیم، مجموعه $(a, b) - \{x_0\}$ را همسایگی محذوف x_0 می‌نامیم.



به همین ترتیب:

اگر $r > 0$ ، در این صورت بازه $(x_0, x_0 + r)$ را یک همسایگی راست و بازه $(x_0 - r, x_0)$ را یک همسایگی چپ x_0 می‌نامیم.

۱ یک همسایگی، یک همسایگی محذوف، یک همسایگی راست و یک همسایگی چپ برای ۳، مثال بزنید.

۲ آیا بازه (۲,۳) یک همسایگی ۲ می‌باشد؟ چرا؟

تعریف حد یک تابع

فرض کنیم تابع f در یک همسایگی عدد a (به جز احتمالاً در خود a) تعریف شده باشد. می‌گوییم «حد تابع f وقتی x به a نزدیک می‌شود برابر عدد حقیقی L است»، هرگاه مقادیر تابع f را به هر اندازه دلخواه بتوان به L نزدیک کرد، به شرط آنکه متغیر x (با مقادیر مخالف a از دو طرف) به قدر کافی به a نزدیک شود.

$$\lim_{x \rightarrow a} f(x) = L$$

در این صورت می‌نویسیم:
عدد L را حد تابع f در a می‌نامیم.

۱ نمودار تابعی مانند f را رسم کنید که در همسایگی راست نقطه ۲- تعریف شده

باشد ولی در همسایگی چپ آن تعریف نشده باشد.

۲ نمودار تابعی را رسم کنید که در نقطه ۱ دارای حد باشد ولی حد آن با مقدار

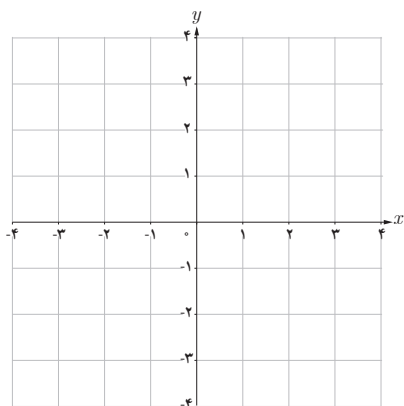
تابع در این نقطه برابر نباشد.

۳ نمودار دو تابع f و g را طوری رسم کنید که هر دو در یک همسایگی نقطه ۳

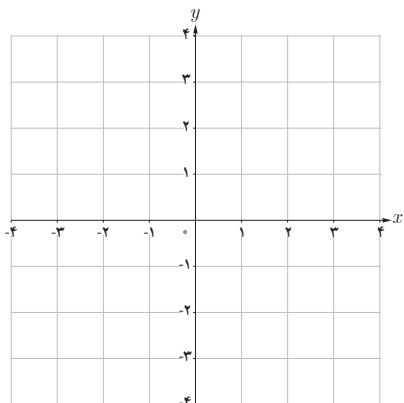
تعریف شده باشند و $f(3) \neq g(3)$.

۴ نمودار دو تابع f و g را طوری رسم کنید که هر دو در نقطه ۲ دارای حد

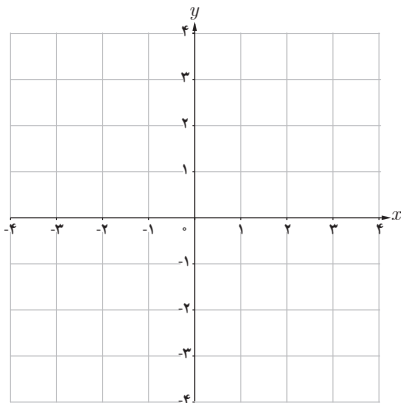
یکسان باشند و f در ۲ تعریف شده باشد اما تابع g در ۲ تعریف نشده باشد.



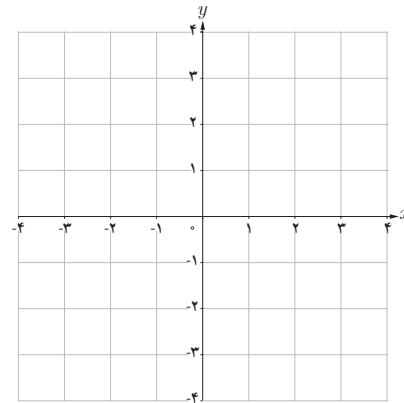
(۱)



(۲)



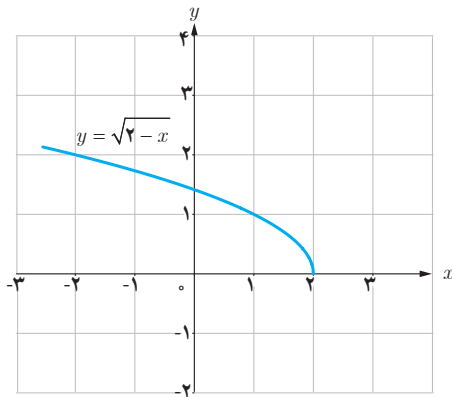
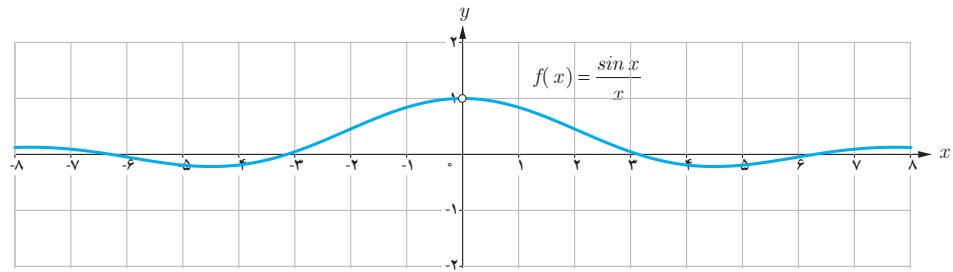
(۳)



(۴)

x	$\frac{\sin x}{x}$
± 1	$\circ/۸۴۱۴۷۰۹۸$
$\pm ۰/۵$	$\circ/۹۵۸۸۵۱۰۸$
$\pm ۰/۴$	$\circ/۹۷۳۵۴۵۸۶$
$\pm ۰/۳$	$\circ/۹۸۵۰۶۷۳۶$
$\pm ۰/۲$	$\circ/۹۹۳۳۴۶۶۵$
$\pm ۰/۱$	$\circ/۹۹۸۳۳۴۱۷$
$\pm ۰/۰۵$	$\circ/۹۹۹۵۸۳۳۹$
$\pm ۰/۰۱$	$\circ/۹۹۹۹۸۳۳۳$
$\pm ۰/۰۰۵$	$\circ/۹۹۹۹۹۵۸۳$
$\pm ۰/۰۰۱$	$\circ/۹۹۹۹۹۹۸۳$

۵ تابع f با ضابطه $f(x) = \frac{\sin x}{x}$ در نقطه صفر تعریف نشده است. در جدول روبه‌رو برخی مقادیر این تابع در اطراف صفر داده شده است. با توجه به جدول و نمودار تابع f ، مقدار $\lim_{x \rightarrow 0} \frac{\sin x}{x}$ را به دست آورید. (محور x ها برحسب رادیان است).

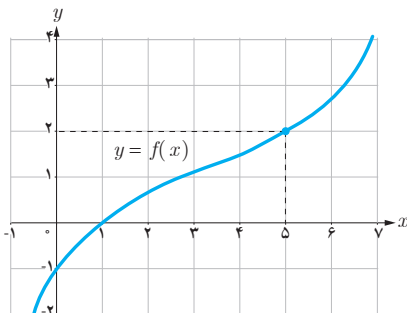


❁ مثال: آیا تابع $f(x) = \sqrt{2-x}$ در نقطه $x=2$ حد دارد؟ چرا؟

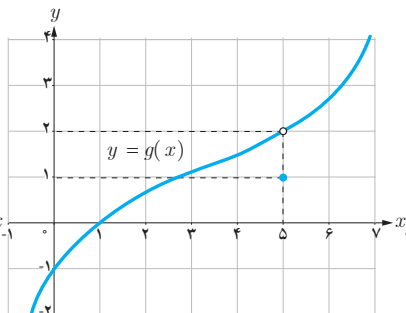
❁ حل: می‌دانیم دامنه تابع به صورت $D_f = (-\infty, 2]$ می‌باشد. چون تابع f در هیچ همسایگی محذوف ۲، تعریف نشده است (مقادیر بیشتر از ۲ در دامنه تابع نیست) بنابراین، تابع f در نقطه $x=2$ حد ندارد.

تمرین

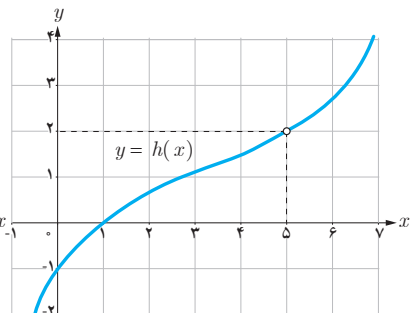
۱ نمودار سه تابع f ، g و h به صورت زیر داده شده است. مقدار حد این توابع را در نقطه $x=5$ ، مشخص کنید.



$$\lim_{x \rightarrow 5} f(x) = \dots$$

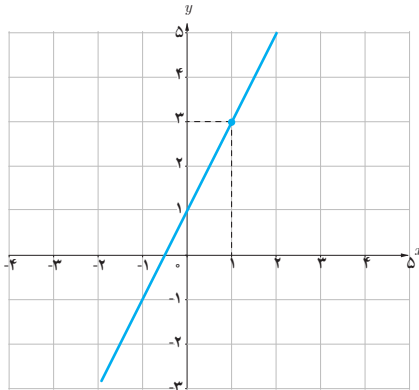


$$\lim_{x \rightarrow 5} g(x) = \dots$$

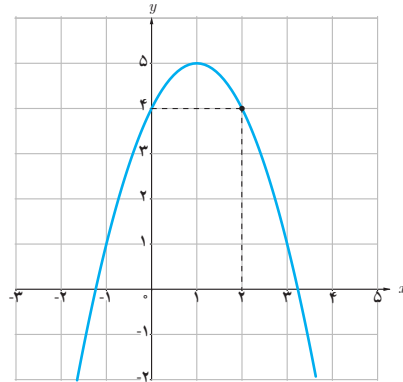


$$\lim_{x \rightarrow 5} h(x) = \dots$$

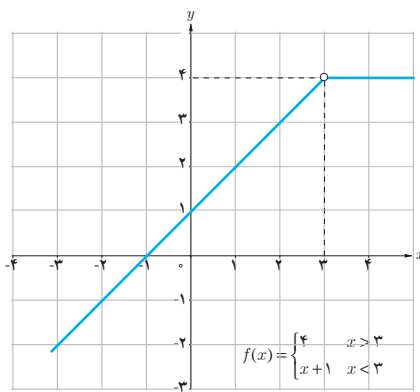
۲ با استفاده از نمودار، مقدار حد توابع زیر را، در صورت وجود، در نقاط داده شده به دست آورید.



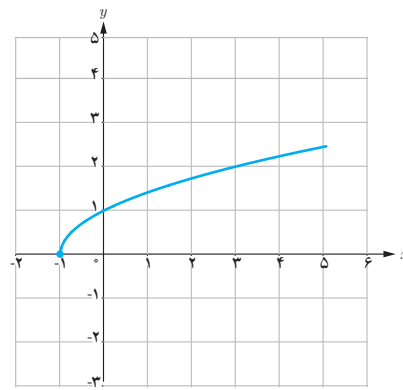
$$\lim_{x \rightarrow 1} (2x + 1) =$$



$$\lim_{x \rightarrow 2} (-x^2 + 2x + 4) =$$



$$\lim_{x \rightarrow 3} f(x) =$$



$$\lim_{x \rightarrow -1} \sqrt{x + 1} =$$

۳ با تکمیل هر یک از جدول‌های زیر، مقدار حد هر تابع را در نقطه مورد نظر بیابید.

الف) $\lim_{x \rightarrow 0} (-2x + 4) = \dots$

x	-1	-0/9	-0/1	-0/0.1	$\rightarrow 0$	$0 \leftarrow$	0/0.1	0/0.1	0/1	0/5	1
$f(x)$	$\rightarrow ?$	\leftarrow

ب) $\lim_{x \rightarrow -1} f(x) = \dots$ ، $f(x) = \begin{cases} x - 4 & x \neq -1 \\ 3 & x = -1 \end{cases}$

x	-2	-1/5	-1/1	-1/0.1	-1/0.01	$\rightarrow -1$	$-1 \leftarrow$	-0/999	-0/99	-0/9	-0/8
$f(x)$	$\rightarrow ?$	\leftarrow

۴ تابع f با ضابطه $f(x) = \begin{cases} 3x-1 & x > 2 \\ x+3 & x < 2 \end{cases}$ را در نظر بگیرید :

الف) آیا تابع f در نقطه $x=2$ ، تعریف شده است؟

ب) با رسم نمودار f و یا نوشتن جدول مقادیر f در همسایگی محذوف ۲ مقدار $\lim_{x \rightarrow 2} f(x)$ را به دست آورید.

۵ تابع g با ضابطه $g(x) = \begin{cases} -1 & x \in \mathbb{Z} \\ 2 & x \notin \mathbb{Z} \end{cases}$ را در نظر بگیرید :

الف) نمودار g را در فاصله $[-4, 2]$ رسم کنید.

ب) با استفاده از نمودار g ، حدود زیر را محاسبه کنید.

$$\lim_{x \rightarrow 1} g(x) = \dots$$

$$\lim_{x \rightarrow \sqrt{2}} g(x) = \dots$$

۶ تابع f با ضابطه $f(x) = \frac{\sqrt{1-x^2}}{x}$ را در نظر بگیرید :

الف) دامنه تابع f را به دست آورید.

ب) دامنه تابع شامل همسایگی محذوف کدام نقطه است؟

پ) آیا این تابع در همسایگی $0/9$ تعریف شده است؟

ت) آیا تابع f در همسایگی چپ $x=1$ تعریف شده است؟ در همسایگی راست $x=1$ چگونه؟

۷ اگر بازه $(x-1, 2x+3)$ یک همسایگی ۲ باشد، مجموعه مقادیر x را به دست آورید.

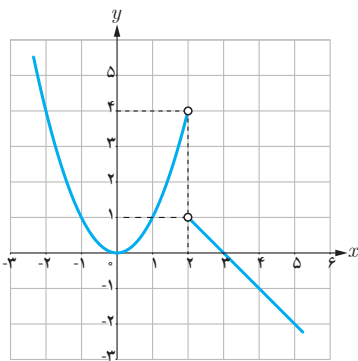
۲

درس

حدهای یک طرفه (حد چپ و حد راست)

در درس قبل دیدیم که تابع $f(x) = \sqrt{2-x}$ در نقطه ۲ حد ندارد. (چون در هیچ همسایگی راست ۲ تعریف نشده است). ولی با توجه به اینکه دامنه این تابع بازه $(-\infty, 2]$ می باشد می توانیم رفتار تابع را در همسایگی چپ ۲ بررسی نماییم. گاهی لازم است، رفتار تابع را وقتی متغیر x با مقادیر بزرگتر از a به a نزدیک می شود یا وقتی متغیر x با مقادیر کوچکتر از a به a نزدیک می شود بررسی و توصیف نماییم.

فعالیت



نمودار تابع است: $f(x) = \begin{cases} -x + 3 & x > 2 \\ x^2 & x < 2 \end{cases}$ به صورت روبه‌رو

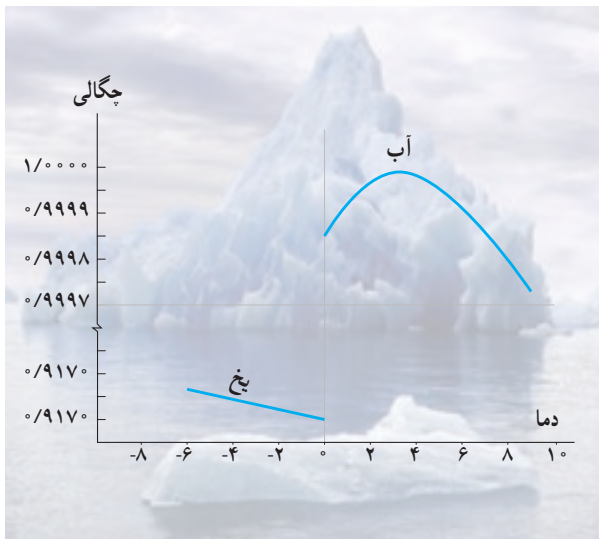
الف) اگر متغیر x با مقادیر بزرگتر از ۲ به ۲ نزدیک شود آن گاه مقادیر $f(x)$ به عدد... نزدیک می شوند.

ب) اگر x با مقادیر کوچکتر از ۲ به ۲ نزدیک شود آن گاه مقادیر $f(x)$ به عدد... نزدیک می شوند.

پ) آیا تابع f در نقطه $x=2$ حد دارد؟

خواندنی

حتماً متوجه شده‌اید که یخ همیشه بر روی آب شناور است. توده یخ هرچقدر بزرگ باشد، باز هم در آب غرق نمی‌شود؛ مانند کوه‌های بزرگ یخ که بر روی آب دریاها و اقیانوس‌ها شناورند. آیا می‌دانید چرا یخ در آب غرق نمی‌شود؟
به‌طور کلی وقتی مایعی به شکل جامد درمی‌آید، منقبض می‌شود و مولکول‌هایش به هم نزدیک‌تر می‌شوند. به همین دلیل حجم ماده، کم می‌شود و چگالی آن افزایش می‌یابد. بنابراین مواد در حالت جامد سنگین‌تر از زمانی‌اند که به شکل مایع درآمده‌اند.
ولی آب مایعی است که خاصیت غیرعادی دارد. آب پس از انجماد به جای منقبض شدن، منبسط می‌شود؛ در نتیجه حجمش افزایش می‌یابد. تراکم یخ نه دهم آب است؛ به عبارت دیگر از نه لیتر آب ده لیتر یخ به دست می‌آید. به همین جهت وزن یخ، کمتر از آب هم حجمش است. به این ترتیب وقتی یخ درون آب قرار می‌گیرد، تنها نه دهم آن در آب فرو می‌رود و $\frac{1}{10}$ دیگرش بر روی آب شناور می‌ماند.
نمودار چگالی آب و یخ بر حسب دما به صورت روبه‌رو است:



در فعالیت صفحه قبل، مشاهده کردیم که وقتی از سمت راست (با مقادیر بزرگ‌تر از ۲) به ۲ نزدیک می‌شویم، مقادیر تابع به عدد ۱ نزدیک می‌شوند و اگر از سمت چپ (با مقادیر کمتر از ۲) به ۲ نزدیک شویم مقادیر تابع به عدد ۴ نزدیک می‌شوند. چون این دو مقدار با هم مساوی نیستند، پس وقتی x در یک همسایگی محذوف ۲ به عدد ۲ نزدیک می‌شود، مقادیر $f(x)$ به عدد مشخصی نزدیک نمی‌شوند و در نتیجه این تابع در ۲ حد ندارد.

تعریف حد راست :

اگر تابع f در یک همسایگی راست نقطه‌ای مانند a تعریف شده باشد می‌گوییم حد راست تابع f در نقطه $x=a$ برابر عدد L_1 است هرگاه مقادیر تابع f را به هر اندازه دلخواه بتوان به L_1 نزدیک کرد، به شرط آنکه متغیر x (از سمت راست) به قدر کافی به a ، نزدیک شود.

$$\lim_{x \rightarrow a^+} f(x) = L_1 \quad \text{در این صورت می‌نویسیم :}$$

تعریف حد چپ :

اگر تابع f در یک همسایگی چپ نقطه‌ای مانند a تعریف شده باشد می‌گوییم حد چپ تابع f در نقطه $x=a$ برابر عدد L_2 است هرگاه مقادیر تابع f را به هر اندازه دلخواه بتوان به L_2 نزدیک کرد، به شرط آنکه متغیر x (از سمت چپ) به قدر کافی به a ، نزدیک شود.

$$\lim_{x \rightarrow a^-} f(x) = L_2 \quad \text{در این صورت می‌نویسیم :}$$

اگر تابعی در یک همسایگی محذوف نقطه‌ای مانند a ، تعریف شده باشد، آن‌گاه با توجه به مفهوم حد راست و حد چپ می‌توان گفت :

حد تابع f در نقطه $x=a$ وجود دارد اگر و تنها اگر حد چپ و راست تابع f در $x=a$ موجود و با هم برابر باشند.

نتیجه

اگر حد چپ و حد راست f در نقطه $x=a$ ، دو مقدار متمایز باشند آن‌گاه تابع f در نقطه $x=a$ ، حد ندارد.

۱ با توجه به نمودار f ، حدهای خواسته شده را، در صورت وجود، به دست آورید.

$$\lim_{x \rightarrow 2^+} f(x) \dots$$

$$\lim_{x \rightarrow 2^-} f(x) \dots$$

$$\lim_{x \rightarrow 2} f(x) \dots$$

$$\lim_{x \rightarrow -1^-} f(x) \dots$$

$$\lim_{x \rightarrow -1^+} f(x) \dots$$

$$\lim_{x \rightarrow -1} f(x) \dots$$

$$\lim_{x \rightarrow -3^+} f(x) \dots$$

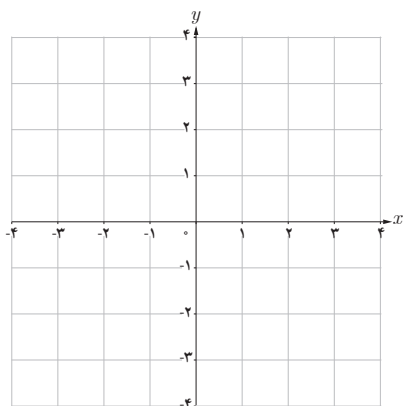
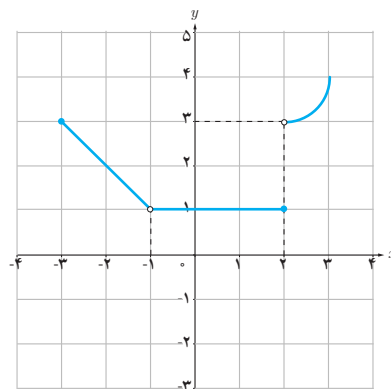
$$\lim_{x \rightarrow -3^-} f(x) \dots$$

$$\lim_{x \rightarrow -3} f(x) \dots$$

$$\lim_{x \rightarrow 1^-} f(x) \dots$$

$$\lim_{x \rightarrow 1^+} f(x) \dots$$

$$\lim_{x \rightarrow 1} f(x) \dots$$



(الف)

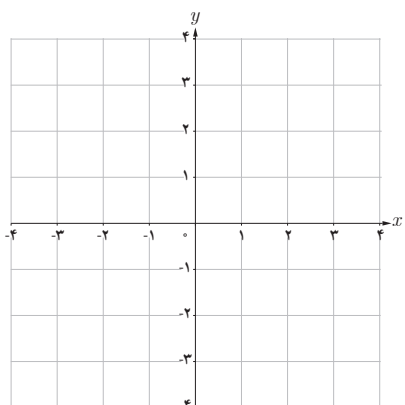
۲ نموداری از یک تابع رسم کنید که:

الف) در یک همسایگی محذوف ۲ تعریف شده باشد و در این نقطه حد داشته باشد.

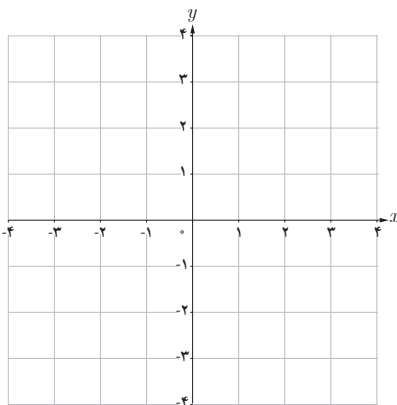
ب) در یک همسایگی محذوف ۲ تعریف شده باشد ولی در این نقطه حد نداشته باشد.

پ) در یک همسایگی ۲ تعریف شده باشد و در این نقطه حد نداشته باشد.

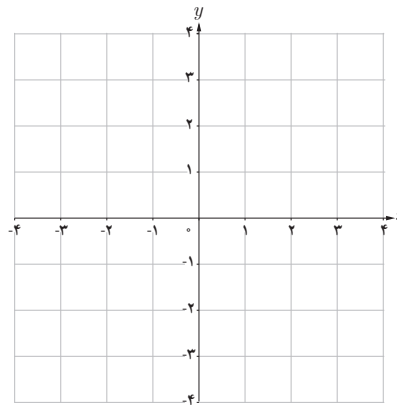
ت) در یک همسایگی ۲ تعریف شده باشد و در این نقطه حد داشته باشد ولی حد آن با مقدار تابع در نقطه ۲، یکسان نباشد.



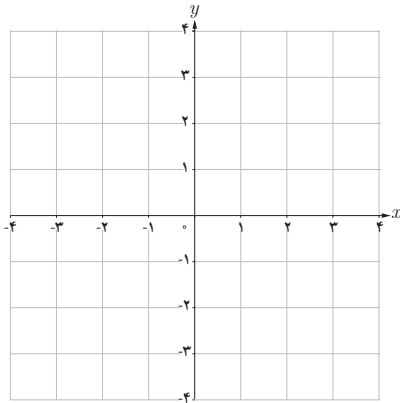
(ت)



(پ)



(ب)



۱ نمودار تابع $f(x)=[x]$ را در فاصله $[-1, 2]$ رسم کنید.

۲ اگر x از طرف چپ به عدد ۱ نزدیک شود، آن گاه مقادیر

$f(x)$ به عدد ... نزدیک می‌شوند، بنابراین:

$$\lim_{x \rightarrow 1^-} f(x) = \dots$$

۳ حد راست تابع f در نقطه $x=1$ را به دست آورید.

۴ آیا تابع f در نقطه $x=1$ حد دارد؟ چرا؟

در فعالیت قبل مشاهده کردیم که در بازه $(1, 2)$ که یک همسایگی راست ۱ می‌باشد نمودار تابع $f(x)=[x]$ بر نمودار تابع ثابت

$$g(x)=1 \text{ منطبق است و داریم } \lim_{x \rightarrow 1^+} [x] = \lim_{x \rightarrow 1^+} g(x) = 1$$

به همین ترتیب، در $(0, 1)$ که یک همسایگی چپ ۱ می‌باشد نمودار تابع $f(x)=[x]$ بر نمودار تابع ثابت $h(x)=0$ منطبق است و

$$\text{داریم } \lim_{x \rightarrow 1^-} [x] = \lim_{x \rightarrow 1^-} h(x) = 0$$

اگر دو تابع f و g در یک همسایگی راست نقطه‌ای مانند a با هم برابر باشند و حد راست یکی از آنها در a وجود داشته باشد آن گاه حد راست تابع دیگر نیز در a وجود دارد و مقدار این دو حد با هم برابرند، یعنی:

$$\text{اگر } \lim_{x \rightarrow a^+} f(x) = L \text{ آن گاه } \lim_{x \rightarrow a^+} g(x) = L$$

به طریق مشابه، دو تابعی که در یک همسایگی چپ نقطه a با هم برابرند مقدار حد چپ آنها در نقطه a (در صورت وجود) یکسان است.

بنابراین، دو تابع که در یک همسایگی نقطه a (به جز احتمالاً خود a) با هم برابر باشند مقدار حد آنها در نقطه a (در صورت وجود) یکسان است.

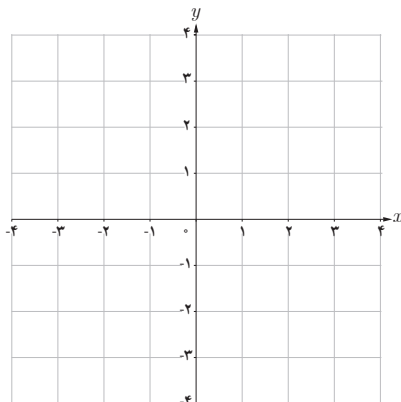
❁ **مثال:** مقدار حد راست تابع $f(x) = \frac{[x]}{x}$ را در نقطه $x=0$ به دست آورید.

❁ **حل:** می‌دانیم روی بازه $(0, 1)$ مقدار $[x]$ برابر صفر است، پس روی بازه $(0, 1)$ تابع f تابع ثابت $g(x)=0$ برابر است

بنابراین:

$$\lim_{x \rightarrow 0^+} \frac{[x]}{x} = \lim_{x \rightarrow 0^+} g(x) = 0$$

- ۱ تابع f با ضابطه $f(x) = \frac{|x|}{x}$ را در نظر بگیرید:
- الف) با استفاده از تعریف قدر مطلق، تابع f را به صورت دوضابطه‌ای بنویسید.
- ب) نمودار تابع f را رسم کنید.
- پ) با استفاده از نمودار f ، حد چپ و حد راست تابع در صفر را به دست آورید.
- ت) آیا تابع f در نقطه صفر حد دارد؟ چرا؟



تمرین

- ۱ نمودار تابع f به صورت زیر است. حدهای زیر را در صورت وجود به دست آورید.

الف) $\lim_{x \rightarrow 0} f(x)$

ب) $\lim_{x \rightarrow 2} f(x)$

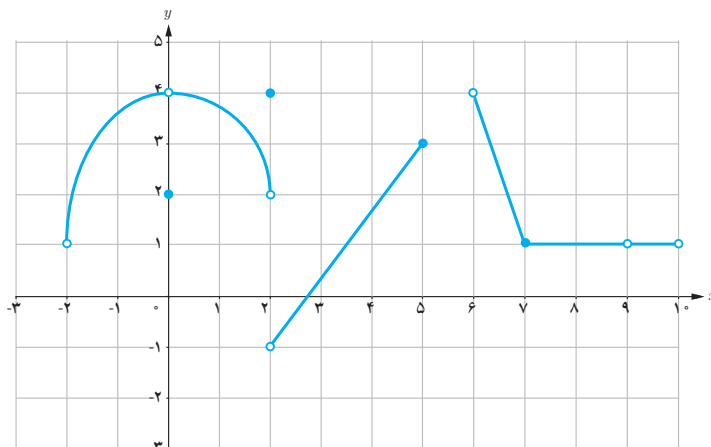
پ) $\lim_{x \rightarrow 5} f(x)$

ت) $\lim_{x \rightarrow 6^-} f(x)$

ث) $\lim_{x \rightarrow 2^+} f(x)$

ج) $\lim_{x \rightarrow 8} f(x)$

ح) $\lim_{x \rightarrow 9} f(x)$



۲ با رسم نمودار تابع $f(x) = \begin{cases} 2x+1 & x > 0 \\ x^2 + 2x & x < 0 \end{cases}$ به سؤالات زیر پاسخ دهید :

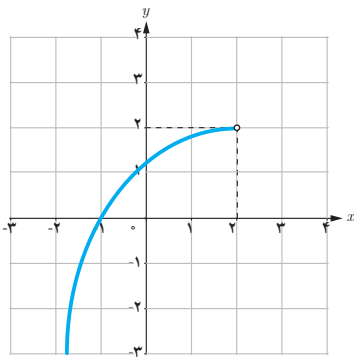
الف) اگر x از طرف چپ به عدد صفر نزدیک شود آن گاه مقادیر $f(x)$ به عدد... نزدیک می‌شوند، بنابراین :

$$\lim_{x \rightarrow 0^-} f(x) = \dots$$

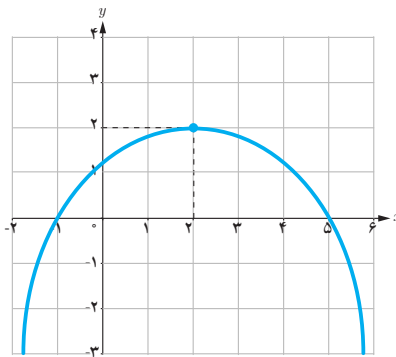
ب) حد راست تابع f در نقطه $x=0$ را به دست آورید.

پ) آیا تابع f در نقطه $x=0$ حد دارد؟ چرا؟

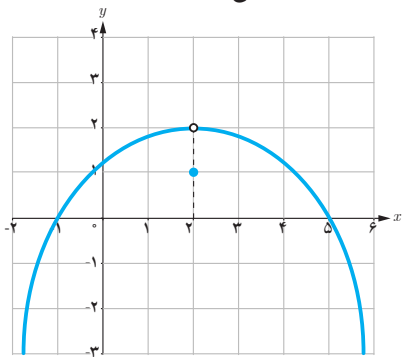
۳ با توجه به نمودارهای توابع داده شده در زیر، هر کدام از گزاره‌های پایین صفحه در مورد چند تا از این توابع برقرار است؟ در هر مورد توابع را مشخص کنید.



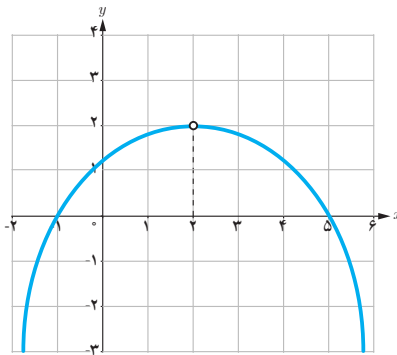
(ب)



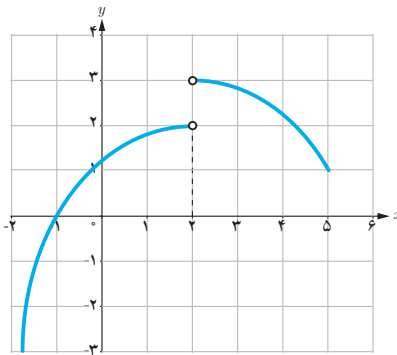
(ب)



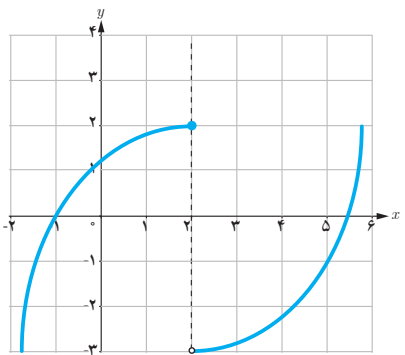
(الف)



(ج)



(ت)



(ت)

- تابع در همسایگی محذوف ۲ تعریف شده و در این نقطه حد دارد.
- تابع در همسایگی ۲ تعریف شده و در این نقطه حد دارد ولی مقدار حد با مقدار تابع در این نقطه برابر نیست.
- تابع در همسایگی چپ ۲ تعریف شده و در این نقطه حد ندارد.
- تابع در همسایگی ۲ تعریف شده و در این نقطه حد دارد و حد آن برابر مقدار تابع در این نقطه است.
- تابع در نقطه ۲ تعریف نشده ولی در این نقطه حد دارد.
- تابع در همسایگی راست ۲ تعریف شده ولی در این نقطه حد ندارد.

۴ با توجه به دامنه تابع، در مورد حد چپ تابع f با ضابطه $f(x) = \sqrt{x^2 - x}$ در نقطه $x=1$ چه می توان گفت؟

۵ با توجه به دامنه تابع، در مورد حد راست تابع $f(x) = \frac{x}{[x]-2}$ در نقطه $x=2$ چه می توان گفت؟

۶ با رسم نمودار تابع $f(x) = -(x-1)^2 + 2$ ، حدود زیر را مشخص کنید.

الف) $\lim_{x \rightarrow 1} [f(x)]$

ب) $\left[\lim_{x \rightarrow 1} f(x) \right]$

([] نماد جزء صحیح است)

۷ با رسم نمودار تابع $f(x) = |x|$:

الف) مقدار $\lim_{x \rightarrow 0} |x|$ را به دست آورید.

ب) اگر $a \in \mathbb{R}$ یک عدد دلخواه باشد آیا تساوی $\lim_{x \rightarrow a} |x| = |a|$ برقرار است؟