

درس
۸

کارها آسان می شود (۱)



فراز و نوید سوار الاکلنگ هستند. فراز دوست دارد با نوید، که از او سنگین تر است، بازی کند اما مثل اینکه مشکلی وجود دارد. آنها نمی‌توانند به راحتی با هم بازی کنند. برای حل مشکل آنها چه راه‌هایی را پیشنهاد می‌کنید؟



روی الاکلنگ، محل نشستن نوید و فراز چگونه باید باشد تا آن دو بتوانند با هم بازی کنند؟ برای پاسخ دادن به پرسش بالا، در گروه خود کاوش کنید.

کاوشگری

وسایل و مواد لازم:



دو لیوان یک بار مصرف

خط کش به طول ۵۰ سانتی‌متر




دو عروسک با جرم‌های مختلف




پاک‌کن

۱- وسط خط‌کش را روی پاک‌کن (تکیه‌گاه) قرار دهید. محل پاک‌کن را تغییر ندهید.



- ۲- دو عروسک با جرم‌های مختلف را در دو لیوان یک بار مصرف یکسان بگذارید.
- ۳- این دو لیوان را در فاصله‌های یکسان از تکیه‌گاه قرار دهید؛ چه چیزی مشاهده می‌کنید؟
- ۴- لیوان سنگین‌تر را از تکیه‌گاه دور کنید؛ چه مشاهده می‌کنید؟
- ۵- لیوان سنگین را کم‌کم به تکیه‌گاه نزدیک کنید تا بالاتر از لیوان سبک‌تر قرار گیرد.
- ۶- مشاهده‌های گروه خود را در جدول زیر یادداشت کنید.

مراحل فعالیت	شکل خط کش با پاک‌کن و عروسک‌ها	فاصله‌ی لیوان سبک از پاک‌کن (به سانتی‌متر)	فاصله‌ی لیوان سنگین از پاک‌کن (به سانتی‌متر)
۱		۱۵	۱۵
۲		۱۵	
۳		۱۵	

- با توجه به نتایج این فعالیت، توضیح دهید که فراز چگونه می‌تواند مشکل بازی با نوید را حل کند.
- در این فعالیت، چه چیزی را ثابت نگه داشتیم و چه چیزی را تغییر دادیم؟

کاوشگری



اگر نوید و فراز در فاصله‌ای یکسان از تکیه‌گاه نشسته باشند، در صورتی که محل نشستن نوید تغییر نکند، چگونه می‌توانند به بازی ادامه دهند؟ مراحل پژوهش گروه خود را به‌طور کامل یادداشت کنید و گزارش دهید.

الاکلنگ یک اهرم است. هر اهرم یک میله و یک تکیه‌گاه دارد و با آن می‌توان اجسام را جابه‌جا کرد. در یک اهرم، هر چه جسم به تکیه‌گاه نزدیک‌تر شود، برای بلند کردن آن به نیروی کمتری نیاز است.

وسایل و مواد لازم:



دو لیوان یک بار مصرف



پاک‌کن

دفتر یادداشت و مداد



خط کش ۵۰ سانتی متری




یک بسته گیره‌ی کاغذ

۱- وسط خط کش ۵۰ سانتی متری را روی پاک‌کن (تکیه‌گاه) قرار دهید.

۲- لیوان‌ها را در فاصله‌ی ۱۵ سانتی متری از تکیه‌گاه قرار دهید.

۳- در یکی از لیوان‌ها ۴ گیره‌ی کاغذ قرار دهید.

۴- در لیوان دیگر، آن‌قدر گیره‌ی کاغذ قرار دهید تا خط کش کاملاً به حالت افقی (تعادل) قرار گیرد. تعداد گیره‌ها را در جدول یادداشت کنید.



لیوان سمت چپ		لیوان سمت راست	
تعداد گیره‌ها	فاصله تا تکیه‌گاه به سانتی‌متر	تعداد گیره‌ها	فاصله تا تکیه‌گاه به سانتی‌متر
۴	۱۵	۴	۱۵
۸			

۵- در یکی از لیوان‌ها تعداد گیره‌ها را دو برابر کنید؛ چه اتفاقی می‌افتد؟

• برای به تعادل رسیدن خط کش چه راه‌هایی را پیشنهاد می‌کنید؟ آنها را آزمایش کنید و نتیجه را گزارش دهید.

• بین فاصله‌ی لیوان‌ها از تکیه‌گاه و تعداد گیره‌ها چه ارتباطی وجود دارد؟

وسایل و مواد لازم:



دو لیوان یک بار مصرف



یک بسته گیره‌ی کاغذ



پاک‌کن



مدادتراش



خط کش ۵۰ سانتی متری

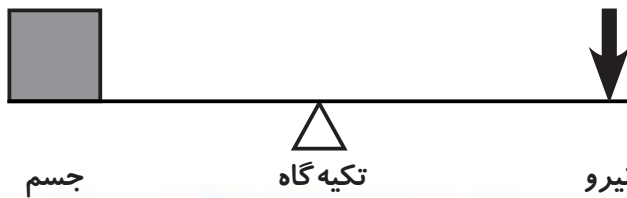
چگونه می‌توانید با اهرمی که دارید، جرم جسم‌هایی مانند مدادتراش و پاک‌کن را اندازه‌گیری کنید؟

- ۱- لیوان‌ها را در فاصله‌ی مساوی از تکیه‌گاه قرار دهید.
- ۲- در یکی از لیوان‌ها یک مدادتراش بگذارید. در لیوان دیگر آن قدر گیره‌ی کاغذ بریزید که خط کش به تعادل برسد. چند گیره لازم است تا خط کش به تعادل برسد؟
- ۳- به جای مدادتراش، یک پاک‌کن بگذارید و مرحله‌ی ۲ را تکرار کنید.

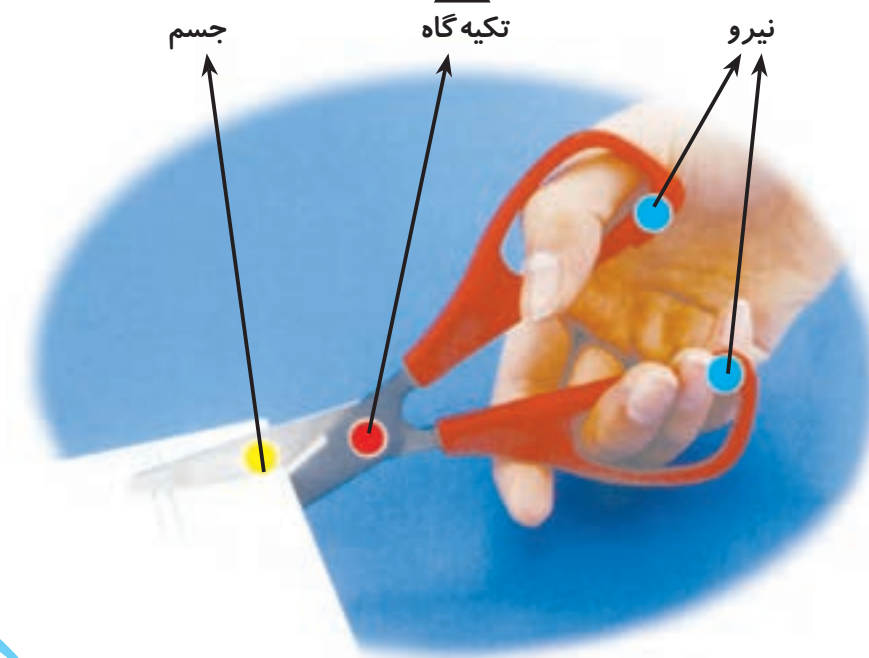
اگر جرم هر گیره‌ی کاغذ ۲ گرم باشد، جرم مدادتراش و جرم پاک‌کن چند گرم می‌شود؟



وسایلهایی مانند الاکلنگ و ترازو، اهرم هستند. قیچی، میخ‌کش و منگنه نیز مانند اهرم عمل می‌کنند. هر اهرم از سه قسمت تشکیل شده است:



- ۱- محل وارد شدن نیرو
- ۲- محل قرار گرفتن جسم
- ۳- محل تکیه‌گاه



کاربرد اهرم‌ها

اهرم‌ها در زندگی روزانه‌ی ما کاربردهای فراوانی دارند. در شکل زیر ابزار و وسایلی را می‌بینید که مانند اهرم عمل می‌کنند.



گفت و گو

درباره‌ی کاربرد هر یک از این اهرم‌ها و اینکه چگونه انجام کارها را آسان می‌کنند، در گروه خود گفت‌وگو کنید.

فعالیت

ابزارهای گوناگون مانند شکل بالا را به کلاس بیاورید و با آنها کار کنید. محلّ تکیه‌گاه (●)، محلّ جسم (●) و محلّ نیرو (●) را در هر ابزار مشخص کنید. این اهرم‌ها را در سه گروه مانند جدول زیر طبقه‌بندی کنید.

نیرو بین جسم و تکیه‌گاه	جسم بین تکیه‌گاه و نیرو	تکیه‌گاه بین جسم و نیرو
		

به نظر شما، فرغون و میخ کش که هر دو اهرم هستند، در کدام ستون جدول قرار می‌گیرند؟

