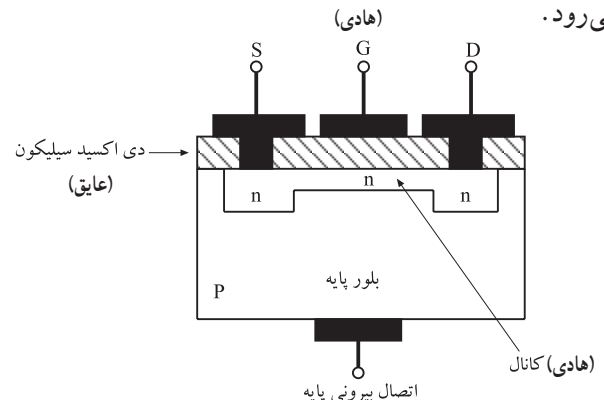


در شکل ۲-۱۰۱ تعداد دقیق خطوط ورودی و خروجی این RAM را مشاهده می کنید. خط CS^۱ یا خط انتخاب کننده تراشه، تراشه یا حافظه خاصی را در داخل RAM انتخاب می کند. خط R/W^۲ ورودی خواندن و نوشتن است. این خط تعیین می کند اطلاعات خوانده یا نوشته شود.

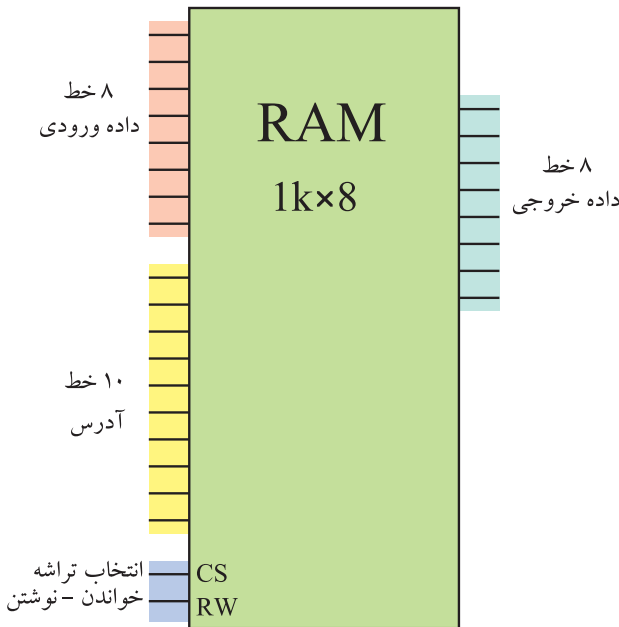
حافظه RAM به دو شکل استاتیک و دینامیک موجود است: در نمای بلوکی شکل ۲-۱۰۲ انواع RAM نشان داده شده است.

● **RAM / استاتیک:** در RAM استاتیک مانند شکل ۲-۱۰۳ از فلیپ فلاپ برای ذخیره اطلاعات دو دویی استفاده می شود. این نوع RAM تا زمانی که ولتاژ تغذیه به آن وصل است اطلاعات را نگه می دارد ولی با قطع ولتاژ تغذیه اطلاعات آن پاک می شود و از بین می رود. کار با حافظه RAM استاتیک آسان و زمان خواندن و نوشتن در آن کوتاه است. مزایای RAM استاتیک در بلوک دیاگرام شکل ۲-۱۰۴ نشان داده شده است.

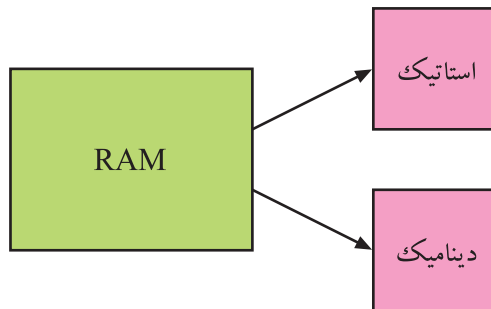
● **RAM دینامیک:** در حافظه RAM دینامیک اطلاعات دو دویی به صورت شارژ الکتریکی در خازن ترانزیستور یا MOSFET ذخیره می شود. شکل ۲-۱۰۵ ساختمان داخلی MOSFET را نشان می دهد. چون انرژی ذخیره شده در خازن به مرور از بین می رود باید هر چند میلی ثانیه، شارژ آن را بازسازی کرد. از مزایای RAM دینامیک مصرف توان کم و تعداد زیاد سلول حافظه در یک تراشه را می توان نام برد. در RAM دینامیک نیز با قطع برق و ولتاژ تغذیه، اطلاعات آن پاک می شود و از بین می رود.



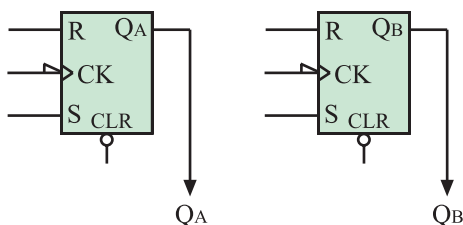
شکل ۲-۱۰۵ - ساختمان داخلی MOSFET - دو هادی و یک عایق تشکیل خازن را می دهند.



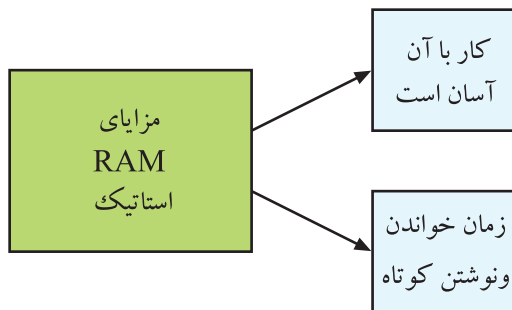
شکل ۲-۱۰۱ - خطوط ورودی و خروجی و کنترل در یک RAM



شکل ۲-۱۰۲ - انواع RAM



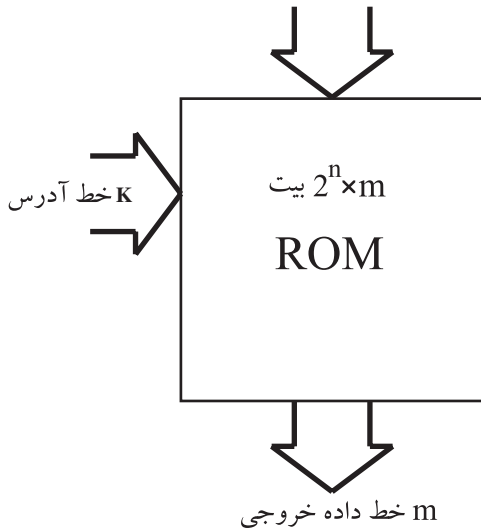
شکل ۲-۱۰۳ - نماد بلوکی مداری فلیپ فلاپ



شکل ۲-۱۰۴ - مزایای RAM استاتیک

۸-۵-۲ حافظه فقط خواندنی^۱ (ROM): این حافظه

برای ذخیره دائمی اطلاعات دو دویی به کار می‌رود. محتوای این حافظه ثابت و غیر قابل تغییر است. خاموش کردن دستگاه یا قطع برق هیچ تأثیری بر اطلاعات موجود در حافظه ROM ندارد. اطلاعات این حافظه توسط شرکت سازنده در آن قرار می‌گیرد. بنابراین ROM را می‌توان مانند کاغذی تایپ شده در نظر گرفت که به‌طور عادی نمی‌توان اطلاعات نوشته شده روی آن را پاک کرد. در شکل ۱۰۶-۲ بلوک دیاگرام یک حافظه ROM که توسط کارخانه سازنده برنامه‌ریزی شده است، نشان داده شده است.

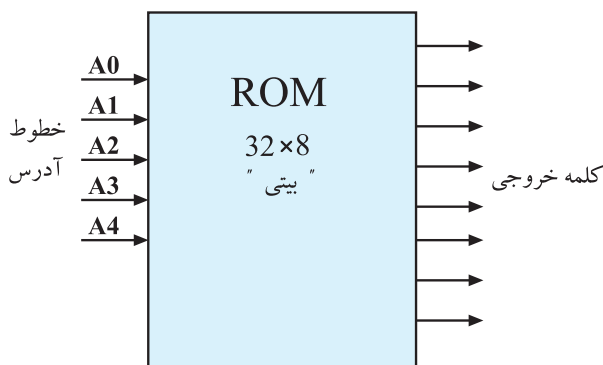


شکل ۱۰۶-۲ بلوک دیاگرام یک حافظه ROM

نکته مهم

n بیت در ورودی را آدرس می‌نامند.
m بیت موجود در خروجی یک کلمه است.

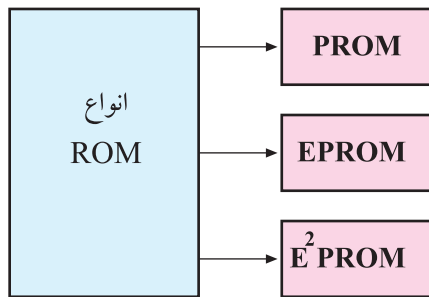
اندازه حافظه ROM به‌وسیله 2^n کلمه که هر کلمه **m** بیت است مشخص می‌شود.



شکل ۱۰۷-۲ بلوک دیاگرام ROM با حافظه ۸ × ۳۲ بیتی

شکل ۱۰۷-۲ یک ROM با حافظه ۸ × ۳۲ بیتی را

نشان می‌دهد. این حافظه دارای ۳۲ × ۲^۵ کلمه است و هر کلمه آن هشت بیت دارد که در ۸ خط خروجی قرار می‌گیرد. ۵ خط یا آدرس در ورودی ROM وجود دارد.



شکل ۱۰۸-۲ انواع ROM

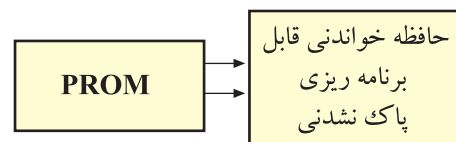
۹-۵-۲ انواع ROM: طبق شکل ۱۰۸-۲ انواع

ROM را می‌توان به شرح زیر تقسیم‌بندی کرد.

● **PROM**^۱: در این نوع ROM فقط یک بار می‌توان اطلاعات را در حافظه نوشت. بعد از ثبت شدن اطلاعات در حافظه، دیگر نمی‌توان اطلاعات ذخیره شده را تغییر داد و از بین برد. برای نوشتن کلمات در آدرس‌های موردنظر در حافظه ROM از دستگاه برنامه‌ریز PROM استفاده می‌شود. برنامه‌ریزی در PROM فقط یک بار انجام می‌گیرد. در صورتی که نیاز به تغییر اطلاعات باشد باید PROM جدیدی را دوباره برنامه‌ریزی کرد. شکل ۱۰۹-۲ یک آی‌سی PROM را نشان می‌دهد.



شکل ۱۰۹-۲ یک آی‌سی PROM




● **EPROM**^۲: این نوع PROM قابل پاک کردن است.

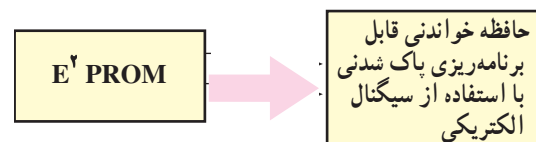
وقتی یک EPROM برای مدتی تحت تأثیر نور ماوراء بنفش قرار گیرد پاک می‌شود، یعنی تمام اطلاعات و بیت‌های ۰ و ۱ ذخیره شده در آن از بین می‌رود. می‌توان بعد از پاک شدن، این حافظه را دوباره برنامه‌ریزی کرد. برای برنامه‌ریزی و نوشتن اطلاعات مجدد در این حافظه به دستگاهی به نام برنامه‌ریز EPROM^۳ نیاز است. شکل ۱۱۰-۲ آی‌سی‌های EPROM را نشان می‌دهد.

● **EEP-ROM (E² PROM)**^۴: این نوع حافظه مشابه

حافظه EPROM است با این تفاوت که برای پاک کردن آن از سیگنال الکتریکی استفاده می‌شود.



شکل ۱۱۰-۲ آی‌سی‌های EPROM



۱- PROM = Programmable ROM = PROM ۲- EPROM = Erasable - PROM = ROM قابل برنامه ریزی

۳- EP-ROM Programmer ۴- EEP-ROM = Electrical Erasable PROM = برنامه ریز EPROM

PROM قابل پاک کردن

PROM قابل پاک کردن الکتریکی

۲-۶- سیستم‌های میکرو کنترل و کاربرد آن در گیرنده‌های رنگی جدید

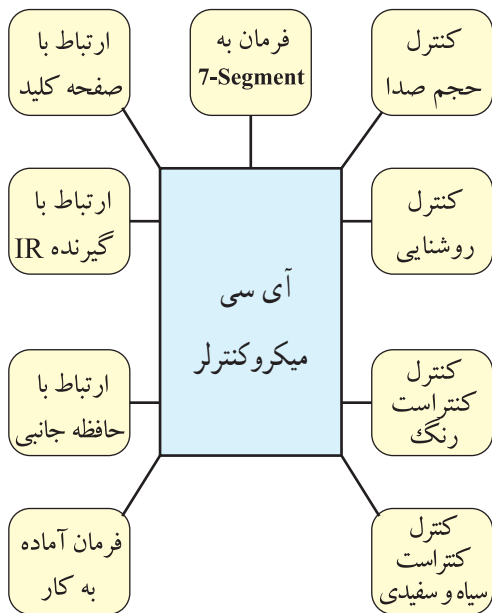
۲-۶-۱- بررسی کلی: کلیه کارهای کنترلی در یک تلویزیون به عهده آی‌سی میکروکنترلر آن است. اعمال کنترلی نظیر، نمایش عملیات روی صفحه در تلویزیون‌های OSD^۱، روشن کردن نمایشگر هفت قطعه‌ای^۲ در تلویزیون‌های فاقد OSD، کنترل تله تکست، ساعت، تایمر، روشنایی، کنتراست تصویر و حجم صدا از انواع موارد قابل کنترل در تلویزیون است. نقشه بلوکی شکل ۲-۱۱۱ بخش‌های مختلف را در یک گیرنده نشان می‌دهد که آی‌سی میکروکنترلر گیرنده باید بتواند روی این بخش‌ها عمل کنترل را انجام دهد.

۲-۶-۲- راه‌های ارسال فرامین به آی‌سی میکروکنترلر: آی‌سی میکروکنترلر از راه‌های مختلف فرامین کنترل را دریافت می‌کند و پس از پردازش روی این فرامین، آن‌ها را به اجرا درمی‌آورد. این راه‌ها عبارتند از:

● دریافت فرامین از طریق کنترل از راه دور (ریموت کنترل)
 شکل ۲-۱۱۲ یک دستگاه کنترل از راه دور را نشان می‌دهد.

● دریافت فرامین از صفحه کلید جلوی گیرنده. شکل ۲-۱۱۳ صفحه کلید جلوی گیرنده را نشان می‌دهد.

● دریافت فرامین از طریق مدارهای مختلف داخل گیرنده



شکل ۲-۱۱۱- بخش‌هایی که یک میکروکنترلر با آن‌ها در ارتباط است



شکل ۲-۱۱۲- یک دستگاه ریموت کنترل



شکل ۲-۱۱۳- صفحه کلید جلوی گیرنده

۱- OSD = On - Screen display

۲- 7 - Segment قطعه ۷

۲-۷- آی سی میکروکنترلر تلویزیون گروندیک شاسی cuc۴۴۰۰

۲-۷-۱- معرفی آی سی میکروکنترلر: آی سی

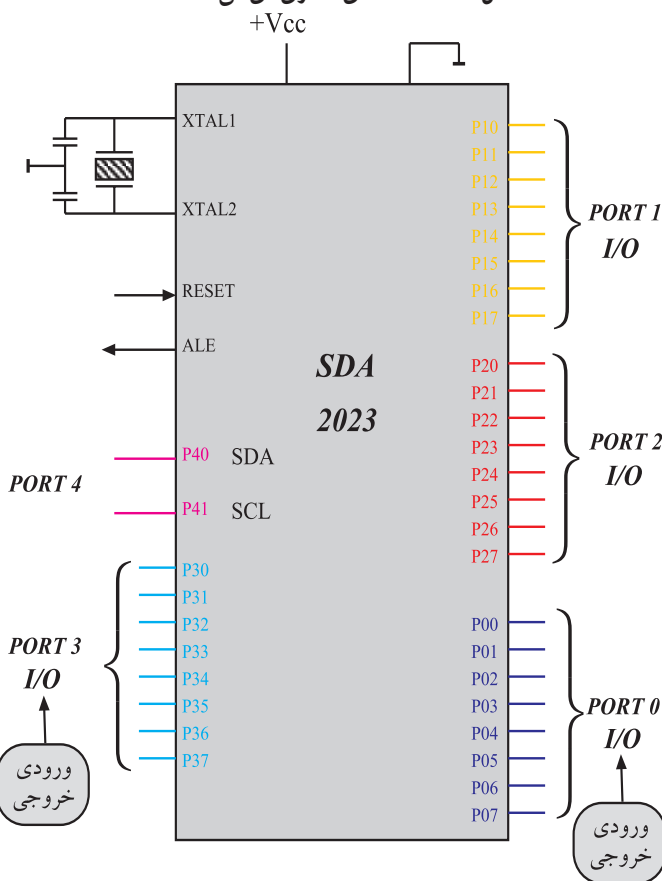
میکروکنترلر در شاسی تلویزیون گروندیک مدل cuc۴۴۰۰ با شماره ۸۱۱ و شماره ی فنی SDA۲۰۲۳ مشخص شده است. این آی سی دارای چهل پایه و به صورت دو ردیفه است. شکل ۲-۱۱۴ نمای ظاهری این آی سی را نشان می دهد.



شکل ۲-۱۱۴- نمای ظاهری آی سی ۸۱۱

آی سی SDA۲۰۲۳ یک ریز پردازنده^۱ از خانواده ۸۰۵۱

است. ۸۰۵۱ درکارهای کنترلی بیشترین کاربرد را دارد. این میکروکنترلر یک ریز پردازنده ۸ بیتی است که در آن ۴ کیلو بایت حافظه ROM، ۱۲۸ بایت حافظه RAM، دو عدد شمارنده مستقل ۱۶ بیتی و مدار نوسان ساز داخلی وجود دارد. علاوه بر موارد بالا به ۶۴ کیلو بایت حافظه خارجی نیز می تواند دسترسی داشته باشد. ۳۴ خط ورودی و خروجی آن شامل ۴ درگاه^۲ ۸ بیتی است. شکل ۲-۱۱۵، ۴ درگاه این آی سی را نشان می دهد.



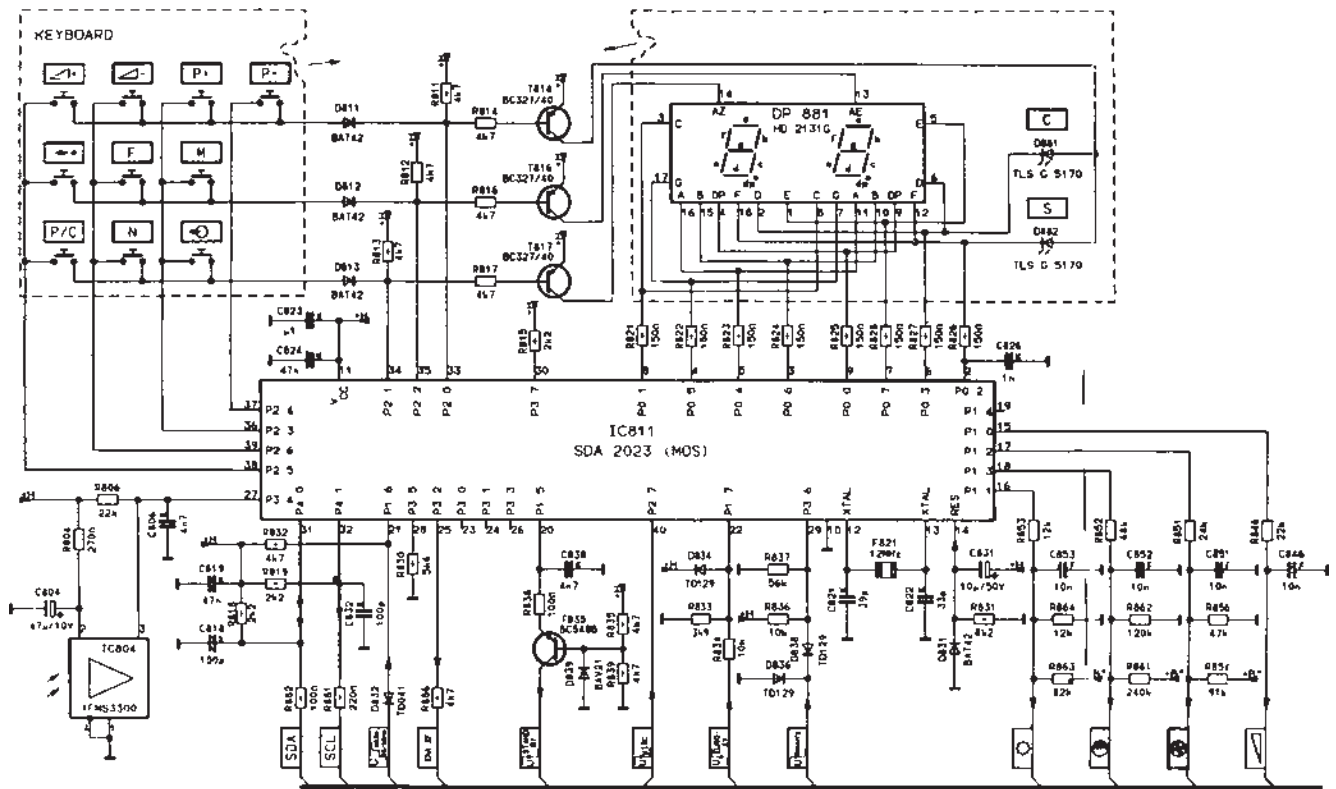
شکل ۲-۱۱۵- درگاه های ۸۱۱ IC

۱- ریز پردازنده = Microprocessor

۲- درگاه = PORT

۲-۷-۲ مدار بخش کنترل تلویزیون گروندیک:

مدار واحد کنترل تلویزیون گروندیک شاسی °۴۴ cuc به صورت شکل ۱۱۶-۲ است.



شکل ۱۱۶-۲ واحد کنترل تلویزیون گروندیک

در ادامه بحث به شرح عملکرد پایه‌های آی‌سی ۸۱۱ که آی‌سی پردازنده تلویزیون است و مدارهای جانبی مرتبط با پایه‌های آن می‌پردازیم.

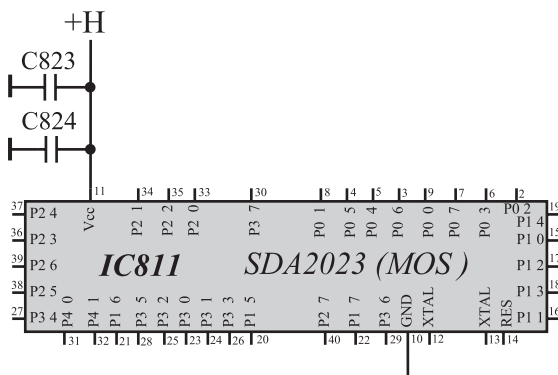
تمرین عملی ۱: در این قسمت نقشه را مورد بررسی قرار دهید. شماره‌ی اجزا و ارتباط آن‌ها را با هم تا حدودی به‌خاطر بسپارید تا در ادامه بحث دچار مشکل نشوید.

۲-۷-۳ تغذیه آی‌سی: تغذیه آی‌سی واحد کنترل

از H که ۵ ولت است تأمین می‌شود. به پایه شماره‌ی ۱۱ اتصال دارد. پایه شماره‌ی ۱۰ زمین است. شکل ۱۱۷-۲ پایه‌های تغذیه آی‌سی را نشان می‌دهد.

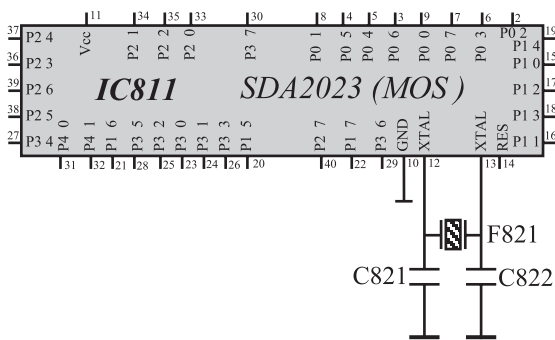
۲-۷-۴ اسیلاتور آی‌سی: کلیه میکروکنترلرها

دارای اسیلاتور داخلی هستند. این اسیلاتور به‌عنوان مولد پالس ساعت cpu محسوب می‌شود. برای راه‌اندازی اسیلاتور داخلی،



شکل ۱۱۷-۲ پایه‌های تغذیه آی‌سی

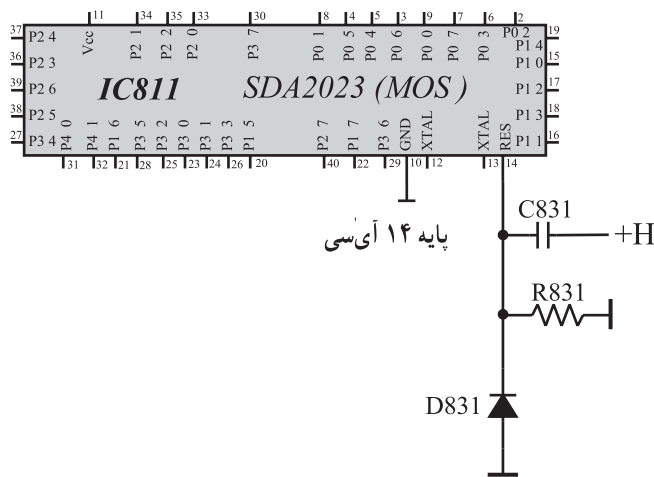
بین پایه ۱۲ و ۱۳ این آی سی، یک کریستال با شماره F۸۲۱ و فرکانس کار ۱۲MHZ قرار دارد. پایه های ۱۲ و ۱۳ توسط خازن به زمین اتصال می یابد. کریستال و خازن، اجزای مدار هماهنگی نوسان ساز را تشکیل می دهند. شکل ۱۱۸-۲ اجزای مدار هماهنگی را که به پایه های ۱۲ و ۱۳ متصل است نشان می دهد.



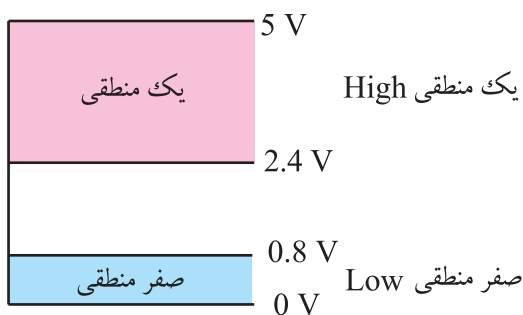
شکل ۱۱۸-۲ اجزای مدار هماهنگی اسیلاتور که به پایه های ۱۲ و ۱۳ اتصال دارد.

۵-۷-۲- ریست شدن آی سی: در لحظه روشن

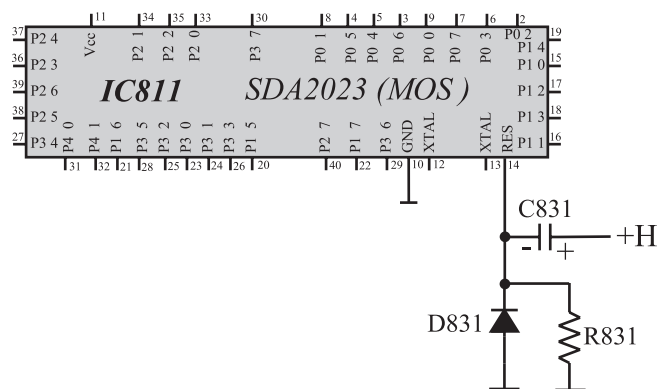
شدن دستگاه، لازم است اطلاعات قبلی از حافظه RAM آی سی پاک شود تا آی سی آماده پذیرش دستورهای جدید باشد. این عمل با «ریست» شدن آی سی اتفاق می افتد. پایه ۱۴ آی سی پایه ریست است. شکل ۱۱۹-۲ پایه ۱۴ آی سی و قطعات متصل به آن را نشان می دهد. این پایه در حالت عادی در وضعیت Low قرار دارد. Low حالت منطقی (O) است که تراز ولتاژی بین ۰ تا ۰/۸ ولت دارد. برای ریست شدن آی سی لازم است پایه ۱۴ آی سی میکروکنترلر، برای لحظه ای کوتاه در وضعیت high قرار گیرد. high حالت منطقی (۱) است که در این آی سی ولتاژی بین ۲/۴ تا ۵ ولت دارد. شکل ۱۲۰-۲ دو تراز منطقی ۰ و ۱ را نشان می دهد. شکل ۱۲۱-۲ نحوه ی اتصال مدار ریست را به آی سی نشان می دهد.



شکل ۱۱۹-۲ پایه ۱۴ آی سی پایه ریست است.

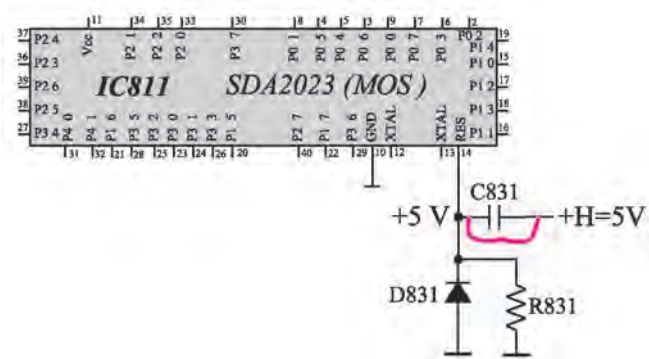


شکل ۱۲۰-۲ حالت ۰ و ۱ منطقی



شکل ۱۲۱-۲ مدار ریست

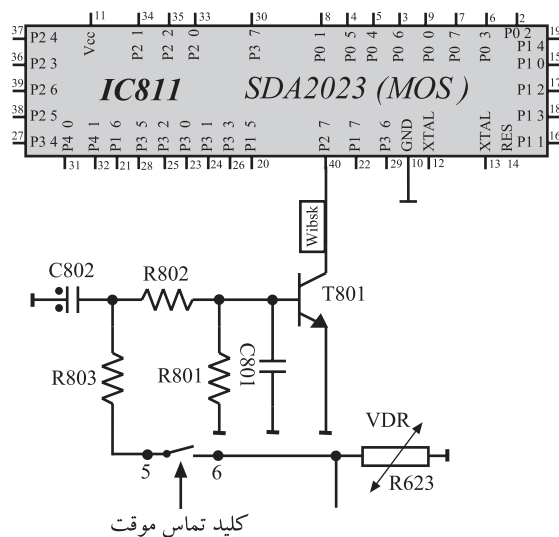
در ابتدا وقتی ولتاژ تغذیه H. به مدار وصل می شود خازن C831 دشارژ است و برای لحظه ای کوتاه همه ی ولتاژ H روی R831 افت می کند و سبب می شود پایه ۱۴ آی سی در وضعیت high قرار گرفته و آی سی Reset شود (شکل ۱۲۲-۲). با شارژ خازن، ولتاژ دو سر R831 کاهش می یابد تا سرانجام صفر می شود و پایه ۱۴ در وضعیت Low قرار می گیرد. D831 از اعمال هرگونه ولتاژ منفی به پایه ۱۴ جلوگیری می کند.



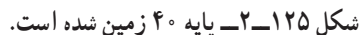
شکل ۱۲۲-۲- در ابتدا خازن مانند سیم اتصال کوتاه است و ۵ ولت در دو سر R831 افت می کند

۶-۷-۲- عملکرد کلید تماس موقت^۱ و راه اندازی

گیرنده روی برنامه ۱: پایه ۴۰ آی سی میکروکنترلر در حالت عادی در وضعیت high قرار دارد. با روشن شدن تلویزیون از طریق کلید قطع و وصل (ON-Off) در لحظه وصل کلید، پایه ۴۰ در وضعیت Low قرار می گیرد. آی سی میکروکنترلر با بررسی پایه ۴۰ و Low بودن آن متوجه روشن شدن تلویزیون به وسیله کلید ON-Off می شود و تلویزیون را روی برنامه ۱ راه اندازی می کند. اگر پایه ۴۰ در وضعیت Low قرار نگیرد با روشن شدن تلویزیون، دستگاه در وضعیت آماده به کار^۲ قرار می گیرد. شکل ۱۲۳-۲ پایه ۴۰ آی سی و مدار مرتبط با آن را نشان می دهد.



شکل ۱۲۳-۲- پایه ۴۰ آی سی کنترل و مدار مرتبط با آن



هنگام فشار دادن کلید ON-Off، کلید تماس موقت، دو کنتاکت ۵ و ۶ را وصل می‌کند. با اتصال این دو کنتاکت، ولتاژ دو سر VDR (R۶۲۳) از طریق R۸۰۳ توسط مقاومت‌های R۸۰۲ و R۸۰۱ تقسیم ولتاژ می‌شود و بیس ترانزیستور T_{۸۰۱} را بایاس می‌کند.

ولتاژ بایاس، $T_{A_{0.1}}$ را هادی می‌کند و آن را به اشباع می‌برد و پایه ۴۰ آی‌سی را Low می‌کند. شکل ۱۲۵-۲ نشان می‌دهد چگونه پایه ۴۰ زمین شده است. با برداشتن دست از روی کلید ON-Off، کنتاکت تماس موقت باز می‌شود و $T_{A_{0.1}}$ قطع شده و پایه ۴۰ آی‌سی به وضعیت high برمی‌گردد.

زمان کل اجرا: ۳۰ ساعت

کارهای عملی در این مجموعه برای دستگاه تلویزیون گروندیک cuc۴۴۰۰ تنظیم شده است. در صورتی که شاسی مدرن دیگری در اختیار دارید می‌توانید کارهای عملی را بر مبنای آن شاسی تنظیم کنید.

۲-۸- کار عملی

۲-۸-۱- هدف کلی: بررسی عملکرد واحد کنترل

تلویزیون رنگی و نحوه‌ی عیب‌یابی آن

۲-۸-۲- خلاصه آزمایش: ابتدا با اندازه‌گیری ولتاژ

و بررسی سیگنال پایه‌های آی‌سی میکروکنترلر، با طرز کار و مقادیر ولتاژ صحیح پایه‌های واحد کنترل آشنا خواهیم شد. سپس با ایجاد عیب روی مدار، اثر عیب روی صوت و تصویر و مقادیر ولتاژها را بررسی می‌کنیم و سرانجام به رفع عیب ایجاد شده می‌پردازیم.

۲-۸-۳- وسایل و تجهیزات مورد نیاز

■ اسیلوسکوپ

■ پترن ژنراتور رنگی

■ تلویزیون رنگی گروندیک

■ گسترده تلویزیون رنگی (در صورت موجود بودن)

■ منبع تغذیه (شکل ۲-۱۲۶)



شکل ۲-۱۲۶- منبع تغذیه



شکل ۲-۱۲۷- نوعی مولتی‌متر

■ مولتی‌متر (شکل ۲-۱۲۷)



دم‌باریک



هویه



قلع



سیم‌چین

شکل ۱۲۸-۲- وسایل عمومی آزمایشگاه

■ وسایل عمومی آزمایشگاه الکترونیک نظیر سیم‌چین، دم‌باریک، هویه و قلع (شکل ۱۲۸-۲)

■ دستگاه کنترل از راه دور تلویزیون رنگی

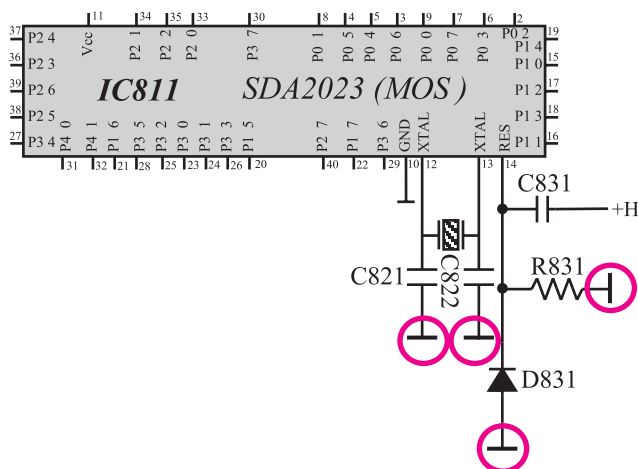
■ نقشه تلویزیون رنگی

۴-۸-۲- دستورهای مهم و نکات حفاظت و ایمنی:

■ در صورت موجود بودن گسترده تلویزیون رنگی، بهتر است مربی برخی آزمایش‌های واحد کنترل را روی گسترده انجام دهد و در خلال انجام آزمایش هنرجویان را به دقت در اجرای آزمایش و دستورهای حفاظتی و رعایت نکات ایمنی توجه دهد. ■ لازم است تدریس مطالب تئوری و اجرای آزمایش و کار عملی مطابق با الگوی ارائه شده در کتاب انجام گیرد.

در صورت موجود بودن گسترده آموزشی تلویزیون رنگی ابتدا آزمایش‌ها توسط مربی روی گسترده انجام گیرد.

تدریس مطابق الگوی کتاب اما شناسی و نوع دستگاه می‌تواند متفاوت باشد ولی باید شناسی مدرن باشد.



شکل ۱۲۹-۲- شاسی ایزوله

■ اندازه‌گیری همه ولتاژها در مدار نسبت به شاسی ایزوله

انجام می‌شود. در شکل ۱۲۹-۲ شاسی ایزوله نشان داده شده است.

■ برای جلوگیری از آسیب دیدن فیبر مدار چاپی تلویزیون،

در صورتی که مربی صلاح بداند می‌توانید عیوب را روی گسترده تلویزیون ایجاد کنید.

■ قطع کردن قطعات و لحیم‌کاری روی شاسی تلویزیون

باید با دقت کامل انجام شود تا به مس روی مدار چاپی یا به قطعه موردنظر آسیب نرسد.

■ هر قطعه‌ای را که قطع می‌کنید بعد از اتمام آزمایش و

انجام کار عملی، آن قطعه را مجدداً وصل کنید. زیرا تلویزیون باید همواره برای مرحله بعدی آزمایش آماده باشد.

۲-۹- کار عملی شماره ۱: نقشه خوانی و شناسایی قطعات

با توجه و اجرای دقیق نکات مطرح شده در قسمت های ۲-۸-۱ تا ۲-۸-۴ به آزمایش های زیر بپردازید.

جدول ۲-۲۱

شماره فنی قطعه	شماره ی قطعه روی نقشه	نام قطعه مورد نظر	شماره ردیف
		کنتاکت های تماس موقت کلید ON - Off	۱
		VDR	۲
		ترازیستور فرمان دهنده از کلید تماس موقت	۳
		آی سی گیرنده IR	۴
		کریستال	۵
		ترازیستور برای آماده به کار	۶
		کریستال	۷
		آی سی حافظه جانبی	۸
		ترازیستور فرمان دهنده C و S	۹
		ترازیستور فرمان دهنده آند رقم اول	۱۰
		ترازیستور فرمان دهنده آند رقم دوم	۱۱
		واحد نمایش	۱۲
		دیود نمایش دهنده علامت C	۱۳
		دیود نمایش دهنده علامت S	۱۵

۲-۹-۱- با توجه به نقشه و شناسی تلویزیون گروندیک جای قطعات داده شده جدول ۲-۲۱ را شناسایی کنید. شماره ی اختصاصی هر قطعه و شماره ی فنی آن را از روی نقشه پیدا کنید و در جدول بنویسید.

۲-۹-۲- مراحل را تکرار کنید تا با قطعات روی شناسی و مدار کاملاً آشنا شوید.

مدت اجرا: ۱ ساعت



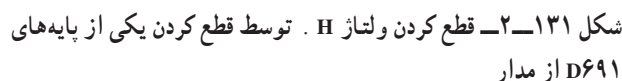
با توجه به نکات مطرح شده در قسمت‌های ۱-۸-۲ الی ۴-۸-۲ به اجرای آزمایش‌های زیر بپردازید.

۳-۱-۲- تلویزیون را در حالت آماده به کار قرار دهید.
ولتاژ تغذیه آی سی را اندازه بگیرید و یادداشت کنید.

۴-۱-۲- تلویزیون را خاموش کنید.

volt	. پایه ۱۱ در حال دریافت برنامه
------	--------------------------------

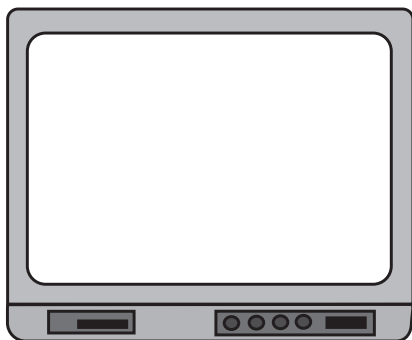
volt	. پایه ۱۱ در حالت آماده به کار
------	--------------------------------



۷-۱۰-۲- وضعیت صوت و تصویر را بررسی کنید.
وضعیت تصویر را در شکل ۱۳۲-۲ رسم کنید.

وضعت صوت =





شکل ۲-۱۳۴ وضعیت تصویر

۲-۱۱-۴ وضعیت صوت و تصویر را بررسی نموده و وضعیت تصویر را در شکل ۲-۱۳۴ رسم کنید.

وضعیت صوت =

پاسخ:

۲-۱۱-۵ توسط دستگاه کنترل از راه دور یا صفحه کلید تلویزیون فرمانی صادر کنید، آیا فرمان اجرا می شود؟ علت را بررسی کنید.

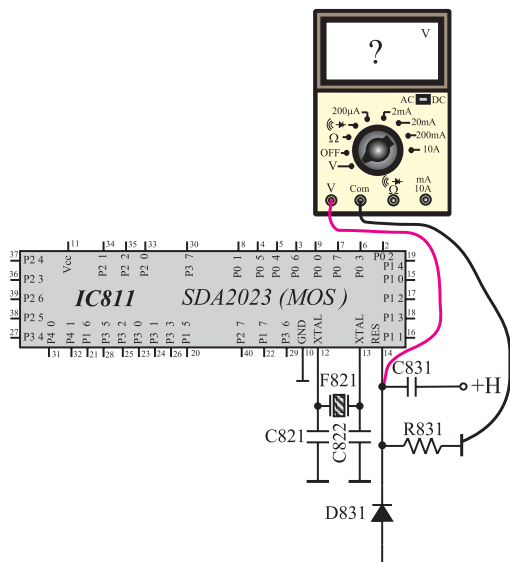
۲-۱۱-۶ پایه خازن را به مدار وصل کنید.

۲-۱۱-۷ تلویزیون را آزمایش کنید.

مدت اجرا: ۱ ساعت

۲-۱۲ کار عملی شماره ۴: بررسی عملکرد پایه ریست آی سی میکروکنترلر

با توجه به نکات مطرح شده در ردیف های ۲-۸-۱ الی ۲-۸-۴ به اجزای آزمایش های زیر بپردازید.



شکل ۲-۱۳۵ اتصال ولت متر به پایه ۱۴

۲-۱۲-۱ تلویزیون را روشن کنید و آن را روی کانال با برنامه تنظیم کنید.

۲-۱۲-۲ ولتاژ پایه ۱۴ آی سی میکروکنترلر را مطابق شکل ۲-۱۳۵ با ولت متر اندازه بگیرید.