

بِسْمِ اللَّهِ الرَّحْمَنِ الرَّحِيمِ

اللَّهُمَّ صَلِّ عَلَى مُحَمَّدٍ وَآلِ مُحَمَّدٍ وَعَجِّلْ فَرَجَهُمْ



ریاضی (۲)

کلیه رشته‌های شاخه فنی و حرفه‌ای و کاردانش

پایه یازدهم دوره دوم متوسطه





وزارت آموزش و پرورش
سازمان پژوهش و برنامه‌ریزی آموزشی



نام کتاب:

ریاضی (۲) - ۲۱۱۱۴۱

پدیدآورنده:

سازمان پژوهش و برنامه‌ریزی آموزشی

مدیریت برنامه‌ریزی درسی و تألیف:

دفتر تألیف کتاب‌های درسی فنی و حرفه‌ای و کاردانش

شناسه افزوده برنامه‌ریزی و تألیف:

افشار بهمنی، زیبا فانی، مالک مختاری، شهرناز بخشعلی‌زاده، ناصر بروجردیان، احمدرضا حقیقی، زین‌العابدین

دهقانی‌ایبانه و محسن کیلاشکی (اعضای شورای برنامه‌ریزی)

نسیم اصغری، شهرناز بخشعلی‌زاده، ناصر بروجردیان، زین‌العابدین دهقانی‌ایبانه، سیدمحمد میرمعینی و

نرگس یافتیان (اعضای گروه تألیف) - رضا باغ‌شیخی، مهدی بهمنی و سیدعقیل حسینیان (مشاوران تألیف) -

عزت‌الله خیرالله (ویراستار ادبی)

مدیریت آماده‌سازی هنری:

اداره کل نظارت بر نشر و توزیع مواد آموزشی

شناسه افزوده آماده‌سازی:

جواد صفری (مدیر هنری) - طاهره حسن‌زاده (طراح جلد) - سمیه قنبری (صفحه‌آرا) -

ربابه قاسمی (تصویرگر)

نشانی سازمان:

تهران: خیابان ایرانشهر شمالی - ساختمان شماره ۴ آموزش و پرورش (شهیدموسوی)

تلفن: ۸۸۸۳۱۱۶۱-۹، دورنگار: ۸۸۳۰۹۲۶۶، کد پستی: ۱۵۸۴۷۴۷۳۵۹

وب‌گاه: www.irtextbook.ir و www.chap.sch.ir

ناشر:

شرکت چاپ و نشر کتاب‌های درسی ایران: تهران - کیلومتر ۱۷ جاده مخصوص کرج - خیابان ۶۱ (دارو پخش)

تلفن: ۴۴۹۸۵۱۶۱-۵، دورنگار: ۴۴۹۸۵۱۶۰، صندوق پستی: ۳۷۵۱۵-۱۳۹

چاپخانه:

شرکت چاپ و نشر کتاب‌های درسی ایران «سهامی خاص»

سال انتشار و نوبت چاپ:

چاپ هشتم ۱۴۰۳

کلیه حقوق مادی و معنوی این کتاب متعلق به سازمان پژوهش و برنامه‌ریزی آموزشی وزارت آموزش و پرورش است و هرگونه استفاده از کتاب و اجزای آن به صورت چاپی و الکترونیکی و ارائه در پایگاه‌های مجازی، نمایش، اقتباس، تلخیص، تبدیل، ترجمه، عکس برداری، نقاشی، تهیه فیلم و تکثیر به هر شکل و نوع بدون کسب مجوز از این سازمان ممنوع است و متخلفان تحت پیگرد قانونی قرار می‌گیرند.



ملت شریف ما اگر در این انقلاب بخواهد پیروز شود باید دست از آستین برآرد و به کار بپردازد. از متن دانشگاه‌ها تا بازارها و کارخانه‌ها و مزارع و باغستان‌ها تا آنجا که خود کفا شود و روی پای خود بایستد.
امام خمینی (قَدِّسَ سِرُّهُ)

۱	پودمان اول : تابع
۲	■ رابطه بین کمیت‌ها
۱۱	■ مفهوم تابع
۱۸	■ بازه‌ها
۲۲	■ نمادگذاری تابع‌ها
۲۶	■ نمایش‌های تابع: جدول و نمودار

۳۵	پودمان دوم: کاربرد تابع‌های خطی و درجه دوم در حل معادله‌ها و نامعادله‌ها
۳۶	■ تابع‌های خطی
۴۹	■ تابع‌های درجه دوم
۵۳	■ کاربرد تابع‌ها در حل معادله‌ها
۵۸	■ کاربرد تابع‌ها در حل نامعادله‌ها

۶۷	پودمان سوم: سواد نسبت‌های مثلثاتی زاویه
۶۸	■ زاویه چرخش
۷۴	■ واحد اندازه‌گیری زاویه: رادیان
۸۰	■ نسبت‌های مثلثاتی زاویه‌های دلخواه
۹۲	■ شیب خط و تانژانت زاویه‌ها

۹۹	پودمان چهارم: کاربرد لگاریتم
۱۰۰	■ لگاریتم
۱۱۰	■ خواص لگاریتم

۱۲۱	پودمان پنجم: آمار توصیفی
۱۲۲	■ خط بهترین برازش
۱۳۶	■ درون‌یابی و برون‌یابی
۱۴۳	■ میانه
۱۴۷	■ نمودار جعبه‌ای
۱۵۴	■ منابع

محتوای آموزشی شاخه فنی و حرفه‌ای به ۱۰ دامنه محتوایی تقسیم می‌شود. خوشه شایستگی‌های پایه فنی یکی از این دامنه‌هاست که شامل دروس ریاضی، فیزیک، شیمی و زیست‌شناسی است. از جوه تمایز دروس شایستگی‌های پایه فنی با علوم پایه، آموزش مبتنی بر شایستگی و ارزشیابی مبتنی بر شایستگی است. به این معنا که رسالت این دروس، رسیدن به شایستگی بهره‌گیری از علوم پایه در حرفه و زندگی است. از این‌رو تلاش شده تا در محتوا، بیش از پرداختن به انتزاع، به مضامین ملموس و تقویت استدلال و اگر در مخاطبان پرداخته شود و انتظار می‌رود دبیران فرهیخته، علمی اندیشیدن و تفکر فناورانه را در هنرجویان تقویت نمایند.

برای تسهیل و هم‌نوآوری ارزشیابی‌ها، استاندارد ارزشیابی مبتنی بر شایستگی در انتهای هر پودمان آورده شده است. ارزشیابی مبتنی بر شایستگی اگرچه ارزشیابی کتبی را به‌عنوان یک روش رد نمی‌کند اما تنها زمانی آن را مورد پذیرش می‌داند که حتی‌الامکان با ارزشیابی‌های فرایندی و پروژه محور ترکیب شود و آزمون آن نیز از سطح دانش فراتر رفته و درک و تحلیل ارزیابی‌شوندگان را محک بزند. برای آشنایی دبیران و هنرجویان گرامی، نمونه‌ای از الگوی ارزشیابی کتبی مبتنی بر شایستگی در هر پودمان آورده شده است

پویس (Scan) رمزینه‌های سریع پاسخ (QR code) در ابتدای هر پودمان، تدریس بخش‌های مختلف را به‌صورت کوتاه و کم‌حجم در اختیار قرار می‌دهد. امید است تا حرکت به سمت واقعیت افزوده در ارتقای کیفیت آموزشی مؤثر باشد.

دست در دست هم دهیم به مهر میهن خویش را کنیم آباد

دفتر تألیف کتاب‌های درسی و حرفه‌ای و کاردانش



نظر سنجی کتاب درسی

شمایی که این متن را می‌خوانید، یکی از آینده‌سازان کشور عزیزمان ایران هستید. حضور شما در شاخه فنی و حرفه‌ای به این معناست که به دنبال کسب شایستگی برای تأمین معاش حلال و ارتقای توانایی و شایستگی خود در زندگی هستید. این رسالت نیک و خطیر، نیازمند کسب توانایی انجام کار شایسته است. برای این منظور در دروس مبتنی بر شایستگی از جمله ریاضی، در هنگام یادگیری موضوعات مختلف در پی یافتن کاربرد و استدلال ریاضی برای وقایع زندگی باشید. به قول گالیله: «ریاضیات، زبان طبیعت است و برای شناخت طبیعت و آشنایی با قانون‌های حاکم بر آن، باید این زبان، یعنی ریاضیات را فرا گرفت.»

برای یادگیری بهتر حالت‌های مختلف ممکن یک مسئله، فکر کنید و پرسش‌گری را سرلوحه کار خود قرار دهید. با انجام فعالیت‌های کلاسی به شایسته‌ترین نحو ممکن، طرح پرسش‌های مناسب و خلاقانه، مشارکت در پیشبرد کلاس، کمک به یادگیری دیگران و استفاده از نرم‌افزارهای مختلف در ریاضیات ضمن ارتقای شایستگی خود، دبیر را در قضاوت بهتر از شایستگی‌هایتان یاری کنید. برای یادگیری بهتر، حتماً رمزینه‌های سریع پاسخ ابتدای هر پودمان را مشاهده کنید.

دفتر تألیف کتاب‌های درسی فنی و حرفه‌ای و کاردانش



پودمان اول

تابع



اگر پرتابه‌ای را به‌طور افقی پرتاب کنیم، پس از مدتی بر روی زمین سقوط می‌کند. هرچه سرعت اولیه پرتابه بیشتر باشد، پرتابه مدت بیشتری را در هوا باقی می‌ماند و محل سقوط بر روی زمین فاصله بیشتری تا محل پرتاب دارد.

فاصله محل سقوط پرتابه تا محل پرتاب وابسته به سرعت اولیه پرتابه است و می‌گویند این فاصله تابعی از سرعت اولیه پرتابه است. اما با توجه به گرد بودن زمین، با افزایش سرعت اولیه پرتابه (تقریباً ۷ کیلومتر در ثانیه)، ممکن است پرتابه هرگز بر زمین سقوط نکند.

اگر سرعت اولیه پرتابه از این مقدار بیشتر باشد، پرتابه با زمین برخورد نمی‌کند.

رابطه بین کمیت‌ها

امروز، کلاس ریاضی ما با نجوم شروع شد.

دبیر گفت: من در دوره دبیرستان به نجوم خیلی علاقه داشتم و درباره آن بسیار مطالعه می‌کردم. در کتاب‌های نجوم خوانده بودم که فاصله خورشید تا زمین 150 میلیون کیلومتر است و نور خورشید حدود 8 دقیقه و 20 ثانیه طول می‌کشد تا به زمین برسد. بعد از خورشید، نزدیک‌ترین ستاره به زمین، پروکسیما قنطورس^۱ (Proxima Centauri) نام دارد. نور این ستاره $4/2$ سال طول می‌کشد تا به زمین برسد. فاصله ستارگان از هم زیاد است و برای اندازه‌گیری آن از مقیاس بسیار بزرگی به نام سال نوری استفاده می‌شود. منظور از سال نوری، طول مسیری است که نور در یک سال طی می‌کند. برای مثال، فاصله پروکسیما قنطورس با زمین، $4/2$ سال نوری است. دورترین ستاره‌های دیده شده، $13/3$ میلیارد سال نوری با ما فاصله دارند.

آرش که از هنرجویان کنجکاو کلاس بود، با تعجب پرسید:

ما که نمی‌توانیم به این ستاره‌ها برویم؛ پس دانشمندان این فاصله‌ها را چگونه اندازه می‌گیرند؟ دبیر گفت: سؤال بسیار خوبی است. اما من یک سؤال آسان‌تر مطرح می‌کنم؛ معمولاً مساحت یک مربع را چگونه اندازه می‌گیرید؟

حمید گفت: طول ضلع مربع را اندازه می‌گیرم و سپس، آن را به توان دو می‌رسانم.

دبیر گفت: پس، مساحت مربع را به طور مستقیم اندازه‌گیری نمی‌کنید؛ بلکه از طریق طول ضلع آن، مساحتش را به دست می‌آورید.

حمید گفت: بله، مساحت مربع با طول ضلعش رابطه دارد، اما این مطلب چه ربطی به فاصله ستارگان دارد؟ دبیر گفت: صبر کنید به ارتباط این مطالب با فاصله‌های ستارگان هم می‌رسیم. آیا می‌توانید مورد دیگری هم پیدا کنید که نتوانید آن را به طور مستقیم اندازه‌گیری کنید ولی با اندازه‌گیری یک کمیت^۲ دیگر، اندازه آن را به دست آورید؟

صادق گفت: در جایی دیدم که ارتفاع از سطح دریا را با دماسنج اندازه می‌گیرند. دمایی که آب در آن به جوش می‌آید یعنی دمای جوش آب، در هر مکان با ارتفاع آن مکان از سطح دریا رابطه دارد. پس اگر دمای جوش آب را در مکانی اندازه‌گیری کنیم، ارتفاع آن مکان از سطح دریا را می‌توانیم به دست آوریم. دبیر گفت: برای اندازه‌گیری فاصله ستارگان تا زمین، آیا می‌توان از این روش استفاده کرد؟

۱- در بعضی از متون مربوط به ستاره‌شناسی این ستاره را پروکسیما سنتوری نام می‌برند.

۲- مفاهیمی مانند وزن و جرم و بار الکتریکی و فشار هوا و نظایر آنها را کمیت‌های فیزیکی و مفاهیمی مانند طول و مساحت و حجم و نظایر آنها را کمیت‌های هندسی می‌نامند. برخی از این کمیت‌ها با یکدیگر رابطه دارند و شناختن این ارتباطات بخش مهمی از کار علوم تجربی و ریاضی است.

آرش گفت: اگر بتوانیم کمیتی را بیابیم که با این فاصله‌ها ارتباط داشته باشد و بتوان آن را اندازه‌گیری کرد، شاید بتوانیم این فاصله‌ها را به دست آوریم.

دبیر گفت: به یک چراغ روشن دقت کنید. هر چه به آن نزدیک‌تر می‌شوید، نور بیشتری به شما می‌رسد و هر چه از آن دور‌تر می‌شوید، نور کمتری دریافت می‌کنید. آیا این مطلب به حل مسئله کمکی می‌کند؟

آرش گفت: یعنی میزان نوری که از چراغ به ما می‌رسد، با فاصله چراغ از ما مرتبط است. پس با اندازه‌گیری نوری که از ستارگان به ما می‌رسد، می‌توانیم فاصله آنها را به دست آوریم.

دبیر گفت: بله درست است. با اندازه‌گیری نوری که از ستارگان به ما می‌رسد، فاصله آنها با ما به دست می‌آید.

در دنیای واقعی، به کمیت‌های متعددی برخورد می‌کنیم که با هم ارتباط دارند؛ از این ارتباط می‌توان استفاده کرد و با داشتن مقدار یکی، دیگری را به دست آورد. برای درک بهتر مفهوم رابطه بین کمیت‌ها، در فعالیت (۱) ارتباط طول یک فنر و جرم جسمی را که به آن آویزان می‌شود، بررسی می‌کنیم.

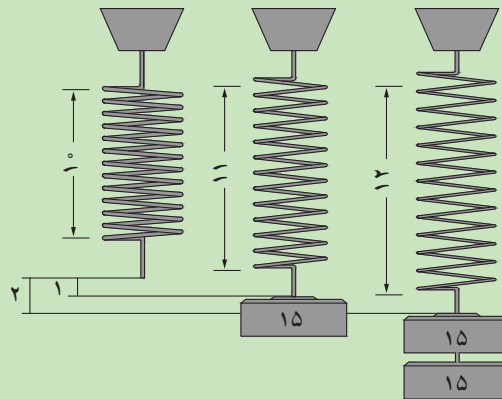




فنری در اختیار داریم که در حالت طبیعی طول آن ۱۰ سانتی‌متر است. به ازای هر ۱۵ گرم وزنه که به آن آویزان می‌کنیم، ۱ سانتی‌متر به طول آن اضافه می‌شود. حداکثر طول این فنر ۶۰ سانتی‌متر است و اگر بیش از این کشیده شود پاره می‌شود و یا دیگر به حالت اول برنمی‌گردد.

۱ الف) تأثیر جرم وزنه آویزان شده بر طول فنر را در یک جمله بنویسید.

ب) اگر به این فنر یک وزنه ۳۰۰ گرمی آویزان کنیم برای پیدا کردن طول فنر، چون به ازای هر ۱۵ گرم، ۱ سانتی‌متر به طول آن اضافه می‌شود، پس ابتدا ۳۰۰ را بر ۱۵ تقسیم می‌کنیم و سپس



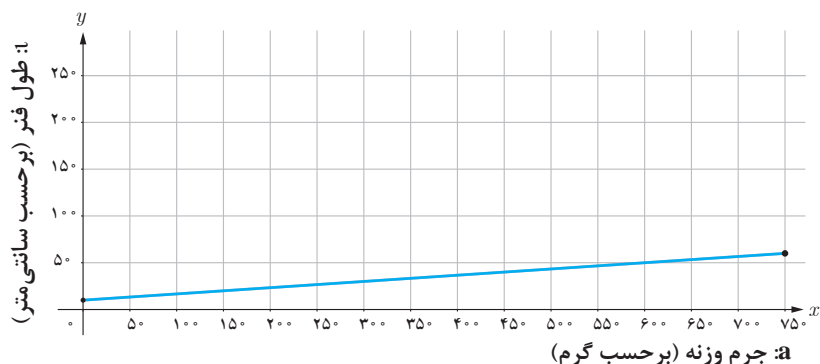
۲ در حالت کلی، اگر جرم وزنه آویزان شده را بر حسب گرم با a نشان دهیم و طول فنر را بر حسب سانتی‌متر با l نشان دهیم، رابطه‌ای بنویسید که مقدار l را بر حسب مقدار a بیان کند.

۳ حداکثر جرمی که می‌توانیم به این فنر آویزان کنیم، چقدر است؟ (راهنمایی: برای پیدا کردن حداکثر جرمی که می‌توانیم به این فنر آویزان کنیم، ابتدا باید حداکثر تغییر طول فنر را به دست آورد).

فعالیت (۱) نشان می‌دهد که اندازه طول فنر با اندازه جرم وزنه آویزان شده مرتبط است. جدول زیر اندازه طول فنر را به ازای چندین مقدار خاص برای جرم وزنه آویزان شده، نشان می‌دهد.

جرم وزنه آویزان شده (بر حسب گرم)	۰	۷۵	۱۵۰	۳۰۰	۴۵۰	۵۲۵	۶۰۰	۷۵۰
طول فنر کشیده شده (بر حسب سانتی‌متر)	۱۰	۱۵	۲۰	۳۰	۴۰	۴۵	۵۰	۶۰

اگر به ازای کلیه مقادیر برای جرم وزنه، مقدار طول فنر را در نظر بگیریم، نمودار این رابطه به صورت یک پاره‌خط طبق شکل زیر است که در آن محور افقی نشان‌دهنده جرم وزنه آویزان شده بر حسب گرم و محور عمودی نشان‌دهنده طول فنر بر حسب سانتی‌متر می‌باشد. جدول بالا، نقاطی از این پاره‌خط را نشان می‌دهد.



کمیت‌های مرتبط بسیاری وجود دارند. برای مثال، مساحت یک مربع و طول ضلع آن دو کمیت مرتبط هستند. در این حالت، اگر طول ضلع مربع را بدانیم، آنگاه می‌توانیم مساحت آن را به دست آوریم و برعکس، با داشتن مساحت مربع، طول ضلع آن نیز مشخص می‌شود.

مثال‌هایی از ارتباط بین کمیت‌ها را می‌توان در طبیعت و زندگی روزمره یافت: فشار هوا در هر نقطه و ارتفاع آن نقطه از سطح دریا، هزینه پرداخت شده بابت برق و میزان برق مصرف شده، قیمت بلیت اتوبوس‌های بین شهری و فاصله بین شهرها و غیره نمونه‌هایی از این ارتباط محسوب می‌شوند. سؤال مهمی که مطرح می‌شود این است که رابطه بین دو کمیت را چگونه باید بیان کنیم. در مثال (۱)، نمونه دیگری از ارتباط بین دو کمیت را می‌بینیم که درک بیشتری از رابطه بین کمیت‌ها را به ما می‌دهد.

مثال ۱

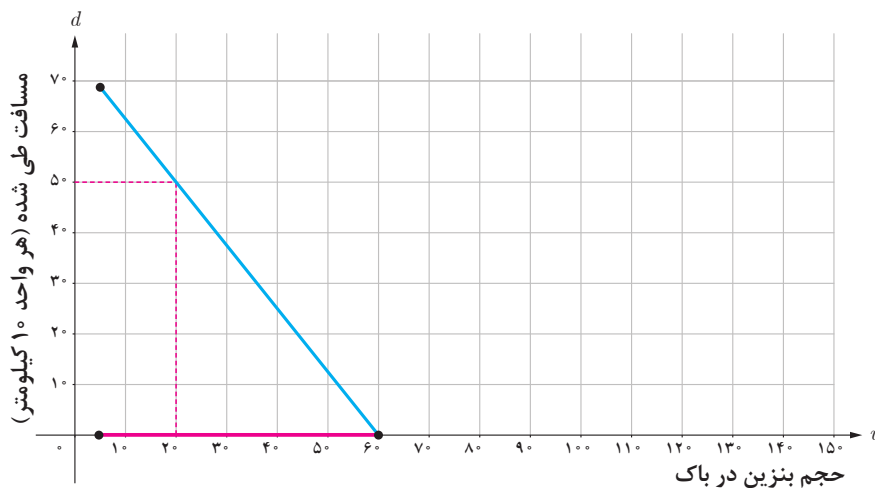
خودرویی را در نظر بگیرید که گنجایش ۶۰ لیتر بنزین را دارد. اگر این خودرو با سرعت ثابت استاندارد حرکت کند، برای طی کردن هر ۱۰۰ کیلومتر، ۸ لیتر بنزین مصرف می‌کند.^۱ باک این خودرو قبل از حرکت، پر شده است. مقدار بنزین باقی‌مانده در باک خودرو با مسافت طی شده رابطه دارد. توجه داشته باشید که هیچ خودرویی تمام بنزین باک خود را مصرف نمی‌کند و توصیه می‌شود برای وارد نشدن صدمه به سیستم سوخت‌رسانی، همیشه به اندازه ۸۰ کیلومتر پیمایش، بنزین در باک موجود باشد. در این مثال نتایج زیر را می‌توان مشاهده کرد:

- هر چه بنزین در باک $\dots\dots\dots$ کمتر شود، مسافتی که با خودرو طی شده است $\dots\dots\dots$ بیشتر می‌شود.
- اگر ۴۴ لیتر بنزین در باک خودرو باقی‌مانده باشد، خودرو $\dots\dots\dots$ ۲۰۰ کیلومتر مسافت را طی کرده است. زیرا، این خودرو به ازای هر لیتر بنزین، $\frac{100}{8} = 12.5$ کیلومتر مسافت را طی می‌کند.
- با توجه به توصیه‌ای که برای سالم نگه داشتن موتور شده است، حجم بنزین موجود در باک نباید به صفر برسد. طبق توصیه دفترچه راهنمای این خودرو، در باک باید حداقل ۵ لیتر بنزین وجود داشته باشد و حداکثر حجم باک نیز ۶۰ لیتر است.
- اگر مقدار بنزین باقی‌مانده در باک را بر حسب لیتر با v و مسافت طی شده را بر حسب کیلومتر با d نشان دهیم، رابطه‌ای که مقدار d را بر حسب v نشان می‌دهد، به صورت $d = 12.5(60 - v)$ است، زیرا این خودرو به ازای هر لیتر بنزین، ۱۲/۵ کیلومتر مسافت را طی می‌کند.
- جدول زیر مسافت طی شده را به ازای چند مقدار خاص برای حجم بنزین موجود در باک، نشان می‌دهد.

حجم بنزین در باک (بر حسب لیتر)	۵	۱۰	۲۰	۳۰	۴۵	۵۰	۶۰
مسافت طی شده (بر حسب کیلومتر)	۶۸۷/۵	۶۲۵	۵۰۰	۳۷۵	۱۸۷/۵	۱۲۵	۰

اگر به ازای کلیه مقادیر برای حجم بنزین موجود در باک (۵ تا ۶۰ لیتر)، مسافت طی شده را در نظر بگیریم، نمودار این رابطه به صورت یک پاره‌خط طبق شکل صفحه بعد است که محور افقی نشان‌دهنده حجم بنزین موجود در باک بر حسب لیتر و محور عمودی نشان‌دهنده مسافت طی شده بر حسب هر واحد ۱۰ کیلومتر می‌باشد. جدول بالا، نقاطی از این پاره‌خط را نشان می‌دهد.

۱- میزان مصرف بنزین خودرو در حال حرکت حتی با سرعت ثابت، تابع سرعت، ارتفاع از سطح دریا، شیب و کیفیت سطح جاده، فشار باد چرخ‌ها، وزن بار و کیفیت سوخت است.



● با توجه به نمودار، اگر ۲۰ لیتر بنزین در باک باقی مانده باشد، خودرو ۵۰۰ کیلومتر را طی کرده است.

این مثال نشان می‌دهد که برای شناخت رابطه بین مقدار بنزین باقی مانده و مسافت طی شده، کافی است بدانیم که حجم بنزین موجود در باک، چه مقادیری می‌تواند باشد و مسافت طی شده توسط خودرو چگونه از حجم بنزین موجود در باک محاسبه می‌شود. در واقع، برای شناخت رابطه بین دو کمیت، باید بدانیم که این کمیت‌ها چه مقدارهایی می‌توانند داشته باشند و شیوه محاسبه یکی بر حسب دیگری چیست.

رابطه بین کمیت‌ها در زمینه‌های بسیار متنوعی دیده می‌شود و لازم است بتوانیم در هر زمینه‌ای این رابطه‌ها را تشخیص دهیم.

کاردکلاس ۱



مفتولی به طول ۱۰۰ سانتی‌متر در اختیار داریم. قسمتی از آن را می‌بریم و با قطعه بریده شده یک مربع می‌سازیم. مساحت مربع به دست آمده با طول قطعه بریده شده رابطه دارد.



۱ آیا مساحت می‌تواند صفر باشد؟

۲ اگر طول قطعه بریده شده از مفتول را با x نشان دهیم، چه مقادیری می تواند باشد؟

$$\dots < x < \dots$$

۳ اگر طول قطعه بریده شده از مفتول ۸ سانتی متر باشد، مساحت مربع ساخته شده چند سانتی متر مربع است؟

.....

۴ اگر طول قطعه بریده شده از مفتول را با x و مساحت مربع ساخته شده با آن را با S نشان دهیم، رابطه ای بنویسید که مقدار S را بر حسب مقدار x بیان کند.

.....

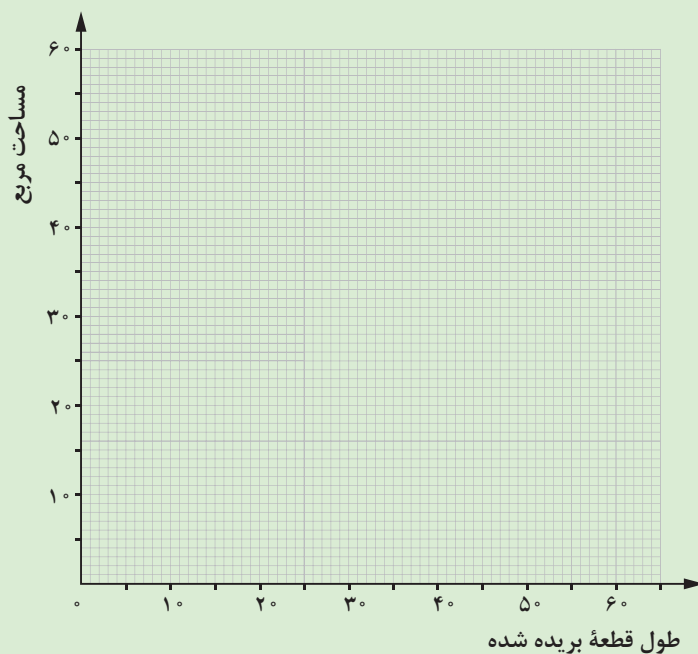
با توجه به پاسخ پرسش های بالا، به سؤال های زیر پاسخ دهید.

۵ جدول زیر، ارتباط بین طول قطعه بریده شده و مساحت مربع ساخته شده را نشان می دهد. این جدول را کامل کنید.

طول قطعه بریده شده (بر حسب سانتی متر)	۱	۴	۲۰	۳۲	۴۸	۶۰
مساحت مربع (بر حسب سانتی متر مربع)		۱			۱۴۴	

.....

۶ در شکل صفحه بعد، محور افقی طول قطعه بریده شده را بر حسب سانتی متر و محور عمودی، مساحت مربع ساخته شده را بر حسب سانتی متر مربع نشان می دهد. جدول بالا، نقاطی در این صفحه مختصات را نشان می دهد. ۴ نقطه اول جدول را در نمودار صفحه بعد بیاید و آنها را به طور تقریبی به هم وصل کنید.



۷ با توجه به نمودار، برای ساختن مربعی به مساحت ۴۰ سانتی متر مربع، چه مقدار از مفتول را باید ببریم؟ این مقدار را به کمک رابطه قسمت (۴) نیز به دست آورید و سپس مقایسه کنید.

.....

.....

۸ آیا پاسخ به سؤالات (۲) و (۴) برای شناخت رابطه بین مساحت مربع ساخته شده و طول قطعه بریده شده از مفتول کافی هستند؟

.....

.....



۱ کدام یک از گزینه‌های زیر دو کمیت مرتبط هستند؟ اگر دو کمیت مرتبط هستند، هر یک را نام‌گذاری کنید و رابطه بین این دو کمیت را با نام‌های انتخابی خود بنویسید.

الف) طول ضلع یک مربع و محیط آن؛
 ب) طول ضلع یک مربع و مساحت آن؛
 پ) محیط یک مثلث و طول بزرگ‌ترین ضلع آن؛
 ت) شعاع یک دایره و محیط آن؛
 ث) شعاع یک دایره و مساحت آن؛
 ج) مساحت یک مستطیل و محیط آن.

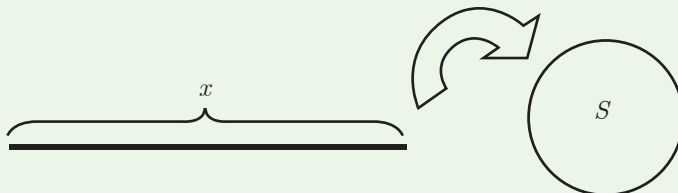
۲ آیا درجه حرارت یک مکان بر حسب سانتی‌گراد و فارنهایت مرتبط هستند؟ اگر مرتبط هستند، هر یک را نام‌گذاری کنید و رابطه بین آنها را بنویسید.

۳ وزن جلد کتابی (با حداکثر ۲۰۰ صفحه) برابر ۴۰ گرم و وزن هر ورق آن $\frac{1}{8}$ گرم است. رابطه‌ای بنویسید که به کمک آن بتوان وزن کتاب را بر حسب تعداد ورق‌های آن به دست آورد.

۴ راننده‌ای مسافت ۳۵۰ کیلومتری بین دو شهر را با سرعت ثابت ۷۰ کیلومتر بر ساعت در حال طی کردن است.

الف) آیا مقدار مسافتی که طی می‌کند (d) و زمان (t)، دو کمیت مرتبط هستند؟ اگر دو کمیت مرتبط هستند، چه رابطه‌ای بین آنها برقرار است؟
 ب) هر یک از این دو کمیت چه مقادیری را می‌توانند داشته باشند؟

۵ طنابی به طول ۱۰ متر در اختیار داریم. قطعه‌ای از آن را می‌بریم و با قطعه بریده شده یک حلقه دایره‌ای شکل می‌سازیم. مساحت حلقه دایره‌ای شکل به دست آمده با طول قطعه بریده شده رابطه دارد.



الف) آیا مساحت می‌تواند صفر باشد؟
 ب) طول قطعه بریده شده از طناب، چه مقادیری می‌تواند باشد؟

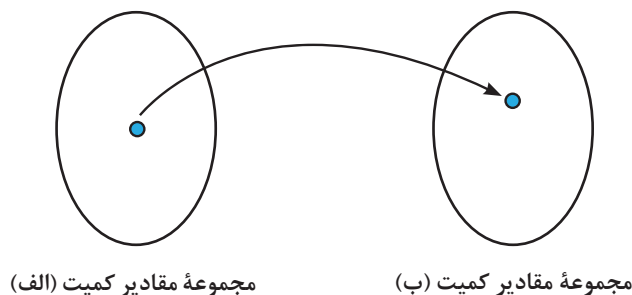
(پ) اگر طول قطعه بریده شده از طناب ۴ متر باشد، مساحت دایره ساخته شده چندمترمربع است؟
 (ت) اگر طول قطعه بریده شده از طناب را با x و مساحت دایره ساخته شده با آن را با S نشان دهیم، رابطه‌ای بنویسید که مقدار S را بر حسب مقدار x بیان کند.
 (ث) جدول زیر، ارتباط بین طول قطعه بریده شده و مساحت دایره ساخته شده را نشان می‌دهد. این جدول را کامل کنید (فرض کنید $\pi \approx 3$).

طول قطعه بریده شده	$\frac{1}{2}$	۲	۴	۶	۸
مساحت دایره	$\frac{1}{48}$	$\frac{1}{3}$			

۶ دو کمیت مرتبط به هم مثال بزنید. هر یک را نام‌گذاری کنید و در صورت امکان رابطه بین این دو کمیت را با نام‌های انتخابی خود بنویسید.

مفهوم تابع

اهمیت رابطه بین کمیت‌ها، ابتدا در فیزیک مشاهده شد و بیان ریاضی ارتباط کمیت‌ها، مفهوم تابع را به وجود آورد. تاکنون، چند کمیت مرتبط به هم را بررسی کردیم. اگر یکی از این کمیت‌ها را کمیت (الف) و دیگری را کمیت (ب) بنامیم، مثال‌ها به گونه‌ای بودند که با مشخص شدن مقدار کمیت (الف)، **یک مقدار معین** برای کمیت (ب) به دست می‌آمد.



این دسته از روابط بین کمیت‌ها، روابط خاصی هستند که در ریاضی با مفهومی به نام تابع بیان می‌شوند و **کمیت (ب) را تابعی از کمیت (الف)** می‌نامند. در واقع، وقتی که کمیتی مانند (ب) وابسته به کمیت دیگری مانند (الف) باشد، و به ازای هر مقداری از کمیت (الف)، مقدار معینی برای کمیت (ب) داشته باشیم، مفهوم تابع پیش می‌آید و می‌گوییم کمیت (ب) تابعی از کمیت (الف) است.



فرهاد گفت: منظور از این جمله که با مشخص شدن مقدار کمیت (الف)، یک مقدار معین برای کمیت (ب) به دست می‌آید، چیست؟

دبیر گفت: در فعالیت (۱) دیدیم که اگر یک وزنه a گرمی به فنر آویزان کنیم، طول آن برابر l خواهد شد و رابطه‌ای که بیانگر این واقعیت است به صورت $l = \frac{a}{15} + 10$ به دست آمد. در این رابطه با مشخص شدن جرم وزنه، یک مقدار معین برای طول فنر به دست می‌آید. مثلاً اگر یک وزنه ۷۵ گرمی به فنر آویزان کنیم، طول آن یک مقدار معین می‌شود. این مقدار معین برابر ۱۵ سانتی‌متر است. بنابراین، طول فنر تابعی از جرم وزنه می‌باشد.

فرهاد گفت: آیا مثال (۱) که در آن رابطه بین مسافت طی شده با مقدار بنزین باقی‌مانده در باک خودرو را بررسی کردیم، نیز همین‌طور است؟

دبیر گفت: بله. دیدیم که مسافت طی شده (d) با مقدار بنزین باقی‌مانده در باک خودرو (v) رابطه دارد و رابطه‌ای که بیانگر این واقعیت است به صورت $d = 12/5(60 - v)$ است. در این رابطه با مشخص شدن مقدار بنزین باقی‌مانده در باک، یک مقدار معین برای مسافت طی شده به دست می‌آید. مثلاً اگر حجم بنزین باقی‌مانده در باک ۳۰ لیتر باشد، مسافت طی شده، ۳۷۵ کیلومتر است. بنابراین، مسافت طی شده توسط خودرو، تابعی از حجم بنزین باقی‌مانده در باک است. آیا شما می‌توانید مثال دیگری ذکر کنید؟

فرهاد گفت: مساحت مربع تابعی از ضلع آن است، زیرا با مشخص شدن اندازه ضلع مربع، یک مقدار معین برای مساحت آن به دست می‌آید. مثلاً اگر اندازه ضلع مربع ۵ متر باشد، مساحت مربع مقدار معین ۲۵ متر مربع می‌باشد.

اگر دو کمیت (الف) و (ب) با یکدیگر مرتبط باشند و با مشخص شدن مقدار کمیت (الف)، یک مقدار معین برای کمیت (ب) به دست آید، در این صورت کمیت (ب) را تابعی از کمیت (الف) می‌نامند.



اگر دو کمیت (الف) و (ب) با هم ارتباط داشته باشند ولی با مشخص شدن مقدار کمیت (الف) نتوان یک مقدار معین برای کمیت (ب) به دست آورد؛ یعنی، با مشخص شدن مقدار کمیت (الف)، بیش از یک مقدار برای کمیت (ب) به دست آید این رابطه، تابع نیست.

مثال ۲

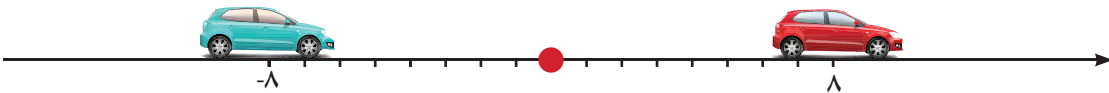
در کار در کلاس (۱) دیدیم که مساحت مربع ساخته شده (S) با طول قطعه بریده شده از مفتول (x) رابطه‌ای به صورت $S = \frac{x^2}{16}$ دارد. در این رابطه با مشخص شدن طول قطعه بریده شده، یک مقدار معین برای مساحت مربع ساخته شده به دست می‌آید. مثلاً اگر طول قطعه بریده شده ۸ سانتی‌متر باشد، مساحت مربع ساخته شده، مقدار معین ۴ سانتی‌متر مربع می‌باشد. بنابراین، مساحت مربع ساخته شده، تابعی از طول قطعه بریده شده است.

مثال ۳

فرض کنید خودرویی در جاده مستقیمی در حال حرکت است. این جاده را به صورت محور اعداد در نظر می‌گیریم. هر نقطه روی محور اعداد، با یک عدد حقیقی مشخص می‌شود که آن را مختص طولی آن نقطه می‌نامند. مثلاً در شکل زیر مختص طولی خودروی قرمز برابر ۲ و مختص طولی خودروی آبی برابر ۳- است. مختص طولی این خودرو، با فاصله آن تا مبدأ ارتباط دارد.



اگر فاصله خودرو تا مبدأ را کمیت (الف) و مختص طولی آن را کمیت (ب) بنامیم، با مشخص شدن مقدار کمیت (الف)، برای کمیت (ب) یک مقدار معین به دست نمی‌آید. مثلاً، اگر فاصله خودرو تا مبدأ ۸ واحد باشد، خودرو ممکن است دارای مختص طولی ۸- یا ۸ باشد. یعنی به طور قطع نمی‌توان یک مکان خاص مشخص را برای خودرو تعیین کرد. به عبارت دیگر، با داشتن فاصله خودرو تا مبدأ، برای مختص طولی آن یک مقدار معین به دست نمی‌آید، زیرا ممکن است مختص طولی خودرو، دو عدد قرینه هم باشد.



بنابراین، در این مثال، مختص طولی تابعی از فاصله خودرو تا مبدأ نخواهد بود. اما بر عکس، با مشخص شدن مختص طولی خودرو، فاصله آن تا مبدأ دقیقاً مشخص می‌شود. پس، در این مثال، کمیت (الف)، تابعی از کمیت (ب) خواهد بود. برای مثال، اگر مختص طولی خودرو برابر ۳- باشد، در این صورت فاصله آن از مبدأ مقدار معین ۳ است.





۱ در فعالیت (۱)، آیا جرم جسم آویزان شده، تابعی از طول فنر است؟ چرا؟

.....

.....

۲ در مثال (۱)، آیا مسافت طی شده توسط خودرو، تابعی از حجم بنزین مصرف شده است؟ چرا؟

.....

.....

در بررسی نمونه‌هایی از کمیت‌های مرتبط دیدیم که برای مشخص شدن تابعی که رابطه بین دو کمیت (الف) و (ب) را بیان می‌کند باید به دو سؤال اصلی زیر پاسخ دهیم:

۱ کمیت (الف) چه مقادیری می‌تواند داشته باشد؟

۲ با مشخص شدن یک مقدار برای کمیت (الف)، چگونه مقدار کمیت (ب) به دست می‌آید؟



فرض کنیم کمیت (ب) تابعی از کمیت (الف) باشد. مقادیری را که کمیت (الف) می‌تواند داشته باشد، دامنه این تابع می‌نامند و قانونی را که، مقادیر کمیت (ب) را بر حسب مقادیر کمیت (الف) به دست می‌دهد، قانون یا ضابطه این تابع می‌نامند.

مثال ۴

در کار در کلاس (۲) دیدیم که اگر l ، طول فنر کشیده شده با آویزان کردن یک وزنه a گرمی باشد، جرم وزنه، تابعی از طول فنر کشیده شده است. مقادیری که طول فنر می‌تواند داشته باشد از ۱۰ تا ۶۰ سانتی‌متر هستند. پس، دامنه این تابع $\{x \in \mathbb{R} \mid 10 \leq x \leq 60\}$ است. مقدار a بر حسب l از طریق تساوی $a = 15l - 150$ محاسبه می‌شود، پس قانون تابعی که جرم وزنه را بر حسب طول فنر بیان می‌کند، به صورت $a = 15l - 150$ است.



۱ در مثال (۱)، دامنه و قانون تابعی را بنویسید که مسافت طی شده توسط ماشین را بر حسب حجم بنزین باقی مانده در باک، بیان می کند.

.....

۲ در کار در کلاس (۱)، دامنه و قانون تابعی را بنویسید که مساحت مربع ساخته شده را بر حسب طول قسمت بریده شده از مفتول، بیان می کند.

.....



نیاز به بررسی روابط بین کمیت‌ها با رشد علوم آغاز شد. ابتدا نیوتن و گالیله برای توصیف حرکت اشیا، نیاز به یافتن رابطه بین زمان و مکان اشیا را احساس کردند. لایبنیتز ریاضی دان قرن هفدهم نیز برای توصیف یک منحنی در صفحه، نیاز به یافتن رابطه بین طول و عرض نقاط یک منحنی را احساس کرد. نهایتاً، بررسی روابط بین کمیت‌ها منجر به تعریف مفهوم تابع در ریاضی شد. اما رسیدن به مفهوم تابع چندان ساده نبود و با شروع از کارهای نیوتن و لایبنیتز تا رسیدن به یک مفهوم دقیق از تابع، بیش از سه قرن طول کشید (تاریخ ریاضی ایوز، جلد ۲).



نیوتن



لایبنیتز



۱ آیا دمای کلاس شما در یک روز معین، تابعی از زمان است؟ چرا؟

۲ دمای هوا در یک منطقه، در ارتفاعات مختلف از سطح دریا، متفاوت است و به ازای هر ۱۵۰ متر افزایش ارتفاع، ۱ درجه از دمای هوا کاسته می‌شود. آیا دمای یک منطقه تابعی از ارتفاع آن منطقه از سطح دریا است؟ چرا؟



۳ یک مغازه شیرینی فروشی ماهانه ۷ میلیون تومان بابت اجاره مغازه، آب، برق و دستمزد کارگران، به طور ثابت پرداخت می‌کند. تولید هر کیلوگرم شیرینی ۳۰۰۰ تومان هزینه مواد اولیه دارد. ظرفیت تولید شیرینی در این مغازه حداکثر ۲۵۰۰ کیلوگرم در ماه است. قیمت هر کیلوگرم شیرینی در بازار ۱۲۰۰۰ تومان است و تمام تولیدات مغازه به فروش می‌رسد. اگر x میزان تولید شیرینی باشد:



الف) درآمد این مغازه، تابعی از میزان تولید آن است، این تابع را با به دست آوردن دامنه و قانون آن مشخص کنید.

ب) هزینه ماهانه مغازه، تابعی از میزان تولید آن است، این تابع را با به دست آوردن دامنه و قانون آن مشخص کنید.

پ) سود مغازه، تابعی از میزان تولید آن است، این تابع را با مشخص کردن دامنه و قانون آن مشخص کنید.

۴ از منبع آبی با حجم ۵۰۰ لیتر برای پر کردن یک حوضچه استفاده می‌شود. اگر شیر آب منبع به طور کامل باز باشد، در هر دقیقه ۵ لیتر آب از آن خارج می‌شود.

الف) توضیح دهید که چرا حجم آب داخل حوضچه تابعی از زمان است.

ب) با فرض آنکه در لحظه صفر، حوضچه خالی است، قانون این تابع را با نوشتن حجم آب داخل حوضچه بر حسب زمان باز بودن شیر، بنویسید.

پ) دامنه این تابع را مشخص کنید.

۵ سنگی را به هوا پرتاب می‌کنیم و بعد از ۳ ثانیه به زمین برمی‌گردد. در این صورت کمیت ارتفاع سنگ از سطح زمین و کمیت زمان، باهم مرتبط هستند.

الف) چرا ارتفاع سنگ از سطح زمین تابعی از زمان است؟

ب) اگر زمان را بر حسب ثانیه اندازه بگیریم و مبدأ، زمان شروع پرتاب باشد، دامنه این تابع چیست؟

۶ فرض کنیم که x^2 مربع عدد حقیقی x باشد، آیا با مشخص بودن x^2 ، برای x یک مقدار معین در اعداد حقیقی به دست می‌آید؟ آیا یک عدد، تابعی از مربع آن است؟ چرا؟

بازه‌ها

گفتگو



حسین دربارهٔ تمرین‌های مربوط به تابع که شب قبل حل کرده بود، با دوستش صحبت می‌کرد؛ او به دوستش گفت: در حل تمرین‌های تابع و مرور درس به مجموعه‌ای که با $\{x \in \mathbb{R} \mid 10 \leq x \leq 60\}$ نمایش داده شده بود، برخورد کردم. به نظر آمد که چنین نمایشی کمی دشوار است. فکر می‌کنی می‌توانیم آن را ساده‌تر بنویسیم؟

احمد گفت: بهتر است سر کلاس ریاضی از دبیر سؤال کنیم.

حسین در کلاس از دبیر ریاضی پرسید: برای اینکه در ریاضی بتوانیم آسان‌تر صحبت کنیم، از نمادها و علائم استفاده می‌شود. آیا مجموعه‌هایی مانند $\{x \in \mathbb{R} \mid 10 \leq x \leq 60\}$ را می‌توان ساده‌تر نمایش داد؟ علی گفت: قبلاً وقتی می‌خواستیم اعداد طبیعی از ۱ تا ۶ را نمایش دهیم، آن را به صورت ۱، ۲، ۳، ۴، ۵، ۶ می‌نوشتیم. آیا برای اعداد حقیقی هم می‌توانیم این خلاصه‌سازی را داشته باشیم؟ دبیر گفت: برخی از زیر مجموعه‌های اعداد حقیقی کاربرد بیشتری دارند. برای آسان‌تر صحبت کردن دربارهٔ آنها سعی می‌شود ساده‌تر نمایش داده شوند.

زیرمجموعه‌هایی از اعداد حقیقی را که به صورت زیر است در نظر بگیرید.

$$\{x \in \mathbb{R} \mid a \leq x \leq b\}$$



نمایش آن روی محور به صورت روبه‌رو است.

نقطه‌های توپر نشان‌دهندهٔ آن است که a و b دو عضو از این مجموعه هستند. مجموعهٔ بالا را به صورت $[a, b]$ نشان می‌دهند و آن را بازهٔ بسته به ابتدای a و انتهای b یا به اختصار بازهٔ بستهٔ a تا b می‌نامند.

مثال ۵

بازه‌های $[0, 1]$ و $[-3, -1]$ را با نماد مجموعه نمایش دهید و روی یک محور نشان دهید.

$$[0, 1] = \{x \in \mathbb{R} \mid 0 \leq x \leq 1\}$$


$$[-3, -1] = \{x \in \mathbb{R} \mid -3 \leq x \leq -1\}$$



مثال ۶

کار در کلاس (۲) نشان داد که جرم وزنه، تابعی از طول فنر و دامنهٔ آن $\{x \in \mathbb{R} \mid 10 \leq x \leq 60\}$ است. پس دامنهٔ این تابع، بازه $[10, 60]$ است.

اگر از بازه بسته $[a, b]$ ابتدا و انتهای آن را خارج کنیم، آن را بازه باز به ابتدای a و انتهای b یا به اختصار بازه باز a تا b می‌نامند و با (a, b) نشان می‌دهند. به عبارت دیگر:

$$(a, b) = \{x \in \mathbb{R} \mid a < x < b\}$$


نقطه‌های توخالی نشان‌دهنده آن است که a و b متعلق به این مجموعه نیستند.

اگر از بازه بسته $[a, b]$ ابتدا یا انتهای آن را خارج کنیم، بازه نیم باز، نیم بسته به دست می‌آید. اگر ابتدای آن را خارج کنیم، آن را با $(a, b]$ نشان می‌دهند و آن را بازه باز در a و بسته در b می‌نامند. به عبارت دیگر:

$$(a, b] = \{x \in \mathbb{R} \mid a < x \leq b\}$$



نمایش این مجموعه روی محور به صورت روبه‌رو است:


اگر از بازه بسته $[a, b]$ ، انتهای آن را خارج کنیم، آن را با $[a, b)$ نشان می‌دهند و آن را بازه بسته در a و باز در b می‌نامند. به عبارت دیگر:

$$[a, b) = \{x \in \mathbb{R} \mid a \leq x < b\}$$




مثال ۷

الف) مجموعه اعداد حقیقی کوچک‌تر یا مساوی ۵ و بزرگ‌تر از ۱ را روی محور نشان دهید و با بازه نمایش دهید.

$$(1, 5] = \{x \in \mathbb{R} \mid 1 < x \leq 5\}$$


ب) بازه $[1, 4)$ را با نماد مجموعه نمایش دهید و روی یک محور نشان دهید.

$$[1, 4) = \{x \in \mathbb{R} \mid 1 \leq x < 4\}$$


۱ بازه‌های زیر را با نماد مجموعه نمایش داده و روی یک محور نشان دهید. سپس تعیین کنید $-\frac{3}{10}$ متعلق به کدام یک از بازه‌ها می‌باشد.

$$[2, 5]$$

$$(-1, 3)$$

$$(4, 7]$$

$$[-4, -2)$$

کارد کلاس ۴





۲ هر یک از مجموعه‌های زیر را روی یک محور نمایش داده و با نماد بازه‌ها نشان دهید.

$$\left\{x \in \mathbb{R} \mid \frac{-1}{3} < x < 2\right\}$$

$$\{x \in \mathbb{R} \mid 3 < x \leq 55\}$$

$$\{x \in \mathbb{R} \mid 1 \leq x < 10\}$$

$$\{x \in \mathbb{R} \mid -3 \leq x \leq 8\}$$

مجموعه‌های به صورت $\{x \in \mathbb{R} \mid a \leq x\}$ را نیز بازه نامیده و با $[a, +\infty)$ نمایش می‌دهند (توجه داشته باشید که در این علامت‌گذاری نماد $+\infty$ به عدد خاصی اشاره ندارد و نشانه هیچ عدد خاصی نیست).

ابتدای این بازه عدد a است ولی انتهای آن ندارد و آن را بازه بسته a تا مثبت بی‌نهایت می‌نامند.

$$[a, +\infty) = \{x \in \mathbb{R} \mid a \leq x\}$$

اگر a را از این بازه خارج کنیم آن را با $(a, +\infty)$ نشان می‌دهند و آن را بازه باز a تا مثبت بی‌نهایت می‌نامند. به عبارت دیگر:

$$(a, +\infty) = \{x \in \mathbb{R} \mid a < x\}$$

به همین ترتیب، مجموعه‌هایی به صورت $\{x \in \mathbb{R} \mid x \leq b\}$ را با $(-\infty, b]$ نمایش می‌دهند. انتهای این بازه عدد b است ولی ابتدایی ندارد و آن را بازه بسته از منفی بی‌نهایت تا b می‌نامند. به عبارت دیگر:

$$(-\infty, b] = \{x \in \mathbb{R} \mid x \leq b\}$$

اگر b را از این بازه خارج کنیم، آن را با $(-\infty, b)$ نشان می‌دهند و آن را بازه باز از منفی بی‌نهایت تا b می‌نامند. به عبارت دیگر:

$$(-\infty, b) = \{x \in \mathbb{R} \mid x < b\}$$



۱ بازه $[1, +\infty)$ را روی محور نمایش دهید.

۲ بازه $(-\infty, 1)$ را روی محور نمایش دهید.

۳ اجتماع این دو بازه را روی محور نمایش دهید. اجتماع این دو بازه، چه مجموعه‌ای است؟



۱ مجموعه‌های زیر را با بازه نمایش دهید و روی محور مشخص کنید.
الف) مجموعه اعداد حقیقی کوچک‌تر از -3 .

ب) مجموعه اعداد حقیقی بزرگ‌تر یا مساوی 2

پ) مجموعه اعداد حقیقی بین -3 و 5

۲ بازه‌های زیر را روی محور مشخص کنید.


الف) $(0, 3)$

ب) $[-1, 5)$

پ) $(-1, 4]$

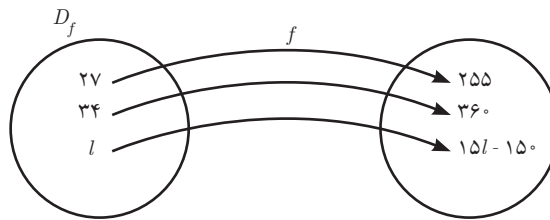
۳ مجموعه جواب نامعادله $2x - 5 > 1$ را با یک بازه نمایش دهید.

۴ جدول زیر را کامل کنید.

توصیف مجموعه	نمایش روی محور اعداد	نمایش با بازه	نمایش با نماد مجموعه
			$\{x \in \mathbb{R} \mid 0 \leq x < 2\}$
		$[1, 4)$	
			
مجموعه اعداد حقیقی کوچک‌تر یا مساوی 2			

نمادگذاری تابع‌ها

رابطه بین کمیت‌ها، به شکل‌های مختلفی برقرار می‌شود؛ بنابراین تابع‌های بسیاری وجود دارند. برای صحبت کردن در مورد تابع‌ها بهتر است برای هر تابع نامی انتخاب کنیم. مثلاً، در فعالیت فنر، جرم و وزن آویزان شده تابعی از طول فنر است، می‌توانیم این تابع را f بنامیم.^۱ در این صورت، دامنه این تابع را با D_f (بخوانید دامنه f یا دی اف)^۲ نشان می‌دهیم، پس $D_f = [10, 60]$ عدد ۲۷ در دامنه این تابع است و با جای‌گذاری ۲۷ در قانون تابع، $a = 15l - 150$ ، عدد $15 \times 27 - 150 = 255$ به دست می‌آید. مقداری را که با جای‌گذاری ۲۷ در قانون تابع به دست می‌آید با $f(27)$ (بخوانید اف ۲۷) نشان می‌دهند، پس $f(27) = 15 \times 27 - 150 = 255$ عدد ۳۴ نیز در دامنه این تابع است و با جای‌گذاری ۳۴ در قانون تابع، عدد $15 \times 34 - 150 = 360$ به دست می‌آید. مقداری را که با جای‌گذاری ۳۴ در قانون تابع به دست می‌آید با $f(34)$ نشان می‌دهند، پس: $f(34) = 15 \times 34 - 150 = 360$. اگر l عددی در D_f باشد (یعنی $l \in D_f$)، با اعمال قانون تابع f روی آن، مقدار $15l - 150$ به دست می‌آید و آن را با $f(l)$ (بخوانید اف ال) نشان می‌دهند، پس: $f(l) = 15l - 150$.



اگر $l \in D_f$ ، در این صورت l می‌تواند مقادیر مختلفی داشته باشد، به همین دلیل در عبارت $f(l)$ را متغیر تابع f می‌نامند. در مسئله فنر، از نماد l به عنوان متغیر این تابع استفاده کردیم ولی می‌توانیم از نام‌های دیگری هم استفاده کنیم. اگر از نماد x برای متغیر تابع f استفاده کنیم؛ در این صورت $f(x) = 15x - 150$ و $x \in D_f$. انتخاب نام متغیر یک تابع، اختیاری است و هر نمادی را می‌توان برای متغیر به کار برد. در نام‌گذاری توابع نیز می‌توان از نمادهای دیگری مانند g و h و غیره استفاده کرد. در این هنگام، برای احمد، سؤالی پیش آمد.

احمد گفت: در فعالیت (۱) که نام تابع را f گذاشتیم، اگر طول فنر l باشد، جرم جسم آویزان شده $f(l)$ است. با استفاده از قانون این تابع، من می‌توانم $f(70)$ را هم حساب کنم، اما عدد ۷۰ در دامنه این تابع نیست. پس معنای $f(70)$ چیست؟

گفتگو



۱- نماد f اول کلمه function است که در زبان انگلیسی به معنای تابع است.

۲- نماد D اول کلمه Domain است که به معنای محدوده‌ای معین است.

دبیر گفت: همان‌طور که گفتید، 70° در دامنه این تابع نیست و فنر مورد بحث در آن فعالیت، نمی‌تواند 70° سانتی‌متری شود، پس در این وضعیت $f(70)$ معنایی ندارد. احمد گفت: اما ما می‌توانیم با جای‌گذاری 70° در قانون تابع، $f(70)$ را حساب کنیم. پس، چرا می‌گویید معنایی ندارد؟

دبیر گفت: بله، این درست است که می‌توان به ازای $l=70^\circ$ مقداری را محاسبه کرد، ولی این تابع می‌خواهد وضعیت فنری را توصیف کند که حداکثر می‌تواند 60° سانتی‌متر شود، بنابراین این فنر هیچ‌گاه 70° سانتی‌متر نمی‌شود. پس برای این فنر مقدار $f(70)$ معنایی ندارد. اما اگر می‌خواستیم فنر دیگری را توصیف کنیم که همین خصوصیات را داشت، با این تفاوت که می‌توانست 70° سانتی‌متر هم بشود و مثلاً دامنه آن بازه $[90, 10]$ می‌بود، مقدار $f(70)$ معنادار بود و جرم جسم آویزان شده را نشان می‌داد.

نکته



در هر تابعی، مقدار تابع فقط برای مقادیر دامنه محاسبه می‌شود و حتی اگر مقادیر خارج از دامنه را بتوان در قانون تابع قرار داد و مقداری را برای آن محاسبه کرد، عدد محاسبه شده معنایی ندارد. به عبارت دیگر، اگر f یک تابع و x متغیر آن باشد، مقادیر $f(x)$ را فقط برای x هایی محاسبه می‌کنیم که این x ها در دامنه تابع باشند.

مثال ۸

تابع g با قانون $g(x) = 4x^2 - 5$ و دامنه $D_g = [-3, 6]$ را در نظر بگیرید. $g(-2)$ ، $g(\frac{1}{3})$ ، $g(3)$ ، $g(\sqrt{5})$ را محاسبه کنید. آیا $g(7)$ معنایی دارد؟ چرا؟

$$g(-2) = 4 \times (-2)^2 - 5 = 4 \times 4 - 5 = 11$$

$$g(3) = 4 \times 9 - 5 = 31$$

$$g\left(\frac{1}{3}\right) = 4 \times \left(\frac{1}{3}\right)^2 - 5 = \frac{4}{9} - 5 = \frac{-41}{9} = -4\frac{5}{9}$$

$$g(\sqrt{5}) = 4 \times (\sqrt{5})^2 - 5 = 20 - 5 = 15$$

$g(7)$ معنایی ندارد؛ زیرا 7 در دامنه این تابع نیست.



۱ الف) تابع به دست آمده در مثال (۱)، که مسافت طی شده توسط خودرو را بر حسب حجم بنزین موجود در باک بیان می‌کند، g بنامید. D_g را بنویسید. قانون تابع g چگونه نوشته می‌شود؟

.....

ب) مقدارهای $g(45)$ و $g(18)$ را بیابید. آیا مقدار $g(75)$ معنایی دارد؟ چرا؟

.....

پ) اگر متغیر این تابع را با t نشان دهیم، مجموعه‌ای که t در آن است چه نام دارد؟ قانون این تابع چگونه نوشته می‌شود؟

.....

ت) اگر متغیر این تابع را با v نشان دهیم، مجموعه‌ای که v در آن است چه نام دارد؟ قانون تابع چگونه نوشته می‌شود؟

.....

ث) دو تابع قسمت‌های (پ) و (ت) را از نظر قانون و دامنه مقایسه کنید. چه نتیجه‌ای می‌گیرید؟

.....

۲ الف) تابع به دست آمده در کار در کلاس (۱) که مساحت مربع ساخته شده بر حسب طول مفتول بریده شده را بیان می‌کند h نام‌گذاری کنید و D_h را بنویسید.

.....

ب) مقدارهای $h(5)$ و $h(12)$ را بیابید. آیا مقدار $h(200)$ معنایی دارد؟ چرا؟

.....

پ) اگر متغیر این تابع را با x نشان دهیم، مجموعه‌ای که x در آن است چه نام دارد؟ قانون این تابع چگونه نوشته می‌شود؟

.....

ت) اگر این تابع را با k و متغیر این تابع را با z نشان دهیم، قانون این تابع چگونه نوشته می‌شود؟ مجموعه‌ای را که z در آن است، مشخص کنید.

.....

ث) دو تابع قسمت‌های (پ) و (ت) را از نظر قانون و دامنه مقایسه کنید. چه نتیجه‌ای می‌گیرید؟

در این کار در کلاس، مشاهده می‌کنید که تغییر نام یک تابع یا متغیر آن، تأثیری در تابع ندارد و آن تابع را تغییر نمی‌دهد. اگر چه شکل بیان قانون یک تابع ممکن است عوض شود ولی تابع عوض نمی‌شود. مثلاً همه تابع‌های f ، g و h به ترتیب با قانون‌های $f(x) = x^2 + 1$ ، $g(x) = x^2 + 1$ ، $h(t) = t^2 + 1$ به یک تابع اشاره می‌کنند.



x	$x^2 - x + 2$	$f(x)$
-2	$f(-2) = \dots$
0
2

۱ جاهای خالی را برای تابع با قانون $f(x) = x^2 - x + 2$ و دامنه \mathbb{R} پر کنید.

۲ تابع g با قانون $g(x) = 4x^2 - 3x$ و دامنه $D_g = [-2, 3]$ را در نظر بگیرید. $g(-2)$ و $g\left(-\frac{4}{3}\right)$ را محاسبه کنید. آیا $g(4)$ معنایی دارد؟ چرا؟

۳ تابع f با دامنه \mathbb{R} و قانون $f(x) = x^2 - 4$ مفروض است. مقادیر خواسته شده را بیابید.

الف) $f(-2) =$ ب) $f\left(\frac{1}{2}\right) =$ پ) $f(\sqrt{2}) =$

۴ کرایه تاکسی وابسته به طول مسیر مسافر است. ورودیه تاکسی ۶۰۰ تومان است و به ازای هر ۱۰۰ متر، ۵۰ تومان کرایه گرفته می‌شود. قانون تابعی را به دست آورید که کرایه تاکسی را بر حسب مسافت طی شده بیان می‌کند. با توجه به آنکه تاکسی‌ها در روز حداکثر ۵۰۰ کیلومتر طی می‌کنند، دامنه این تابع را مشخص کنید. نامی برای این تابع و متغیر آن انتخاب کنید و دامنه و قانون این تابع را با نام‌های انتخابی خود بیان کنید.

۵ مستطیل‌هایی را در نظر بگیرید که طول آنها ۲ واحد بیشتر از عرض آنها است. مساحت این مستطیل‌ها تابعی از عرض آنها است. این تابع را g بنامید و متغیر آن را با l نمایش دهید. دامنه و قانون این تابع را بنویسید. آیا $g(-1)$ معنایی دارد؟

۶ سنگی را از بالای یک ساختمان ۲۵ متری رها می‌کنیم. طبق قوانین فیزیکی، ارتفاع این سنگ از سطح زمین تابعی از زمان است. اگر t ، زمان (بر حسب ثانیه) و $f(t)$ ، ارتفاع از سطح زمین (بر حسب متر) باشد. قانون این تابع به صورت $f(t) = -5t^2 + 25$ است. الف) سنگ در لحظه صفر ($t = 0$) رها شده است. با پیدا کردن زمان برخورد سنگ با زمین، دامنه این تابع را تعیین کنید.

ب) مقدارهای $f(1)$ و $f(2)$ را حساب کنید. این مقادیر چه چیزی را نشان می‌دهند؟
پ) آیا $f(3)$ و $f(-1)$ معنایی دارند؟ چرا؟

نمایش‌های تابع: جدول و نمودار

گفتگو



مسعود و احمد در پایان کلاس با دبیر خود دربارهٔ عدد π بحث می‌کردند. مسعود گفت: در کتابی خواندم که عدد π گنگ است و نمی‌توان آن را با یک عدد اعشاری نشان داد. اما می‌توان آن را با اعداد اعشاری تقریب زد.

احمد گفت: تقریبات اعشاری عدد π را با چه قانونی پیدا می‌کنند؟ دبیر گفت: در این مورد قانونی وجود ندارد ولی یک روش محاسبه وجود دارد که به کمک آن با رایانه تا چند میلیون رقم اعشار π را محاسبه کرده‌اند.

مسعود گفت: از چه روشی برای نمایش این رقم‌ها استفاده می‌کنیم؟ دبیر گفت: فعالیت زیر می‌تواند جوابی برای این پرسش فراهم کند.

فعالیت ۲



عدد π تا ده رقم اعشار برابر است با:

$$\pi \approx 3.1415926535$$

برای $n = 1, 2, 3, \dots, 10$ ، اگر $f(n)$ ، رقم n ام اعشاری π را نشان دهد، برای مثال داریم:

$$f(1) = 1, \quad f(2) = 4$$

۱ جاهای خالی را پر کنید.

$$f(6) = \dots \quad f(9) = \dots \quad f(10) = \dots \quad f(8) = \dots$$

۲ دامنهٔ این تابع را با یک مجموعه نشان دهید.

۳ جدول زیر را با توجه به دامنه داده شده کامل کنید.

n	۱	۲
$f(n)$	۱	۴

در فعالیت بالا تابعی را مشاهده کردیم که قانون خاصی نداشت و فقط روشی برای یافتن مقدار تابع داشتیم که نقش قانون تابع را بازی می‌کرد.

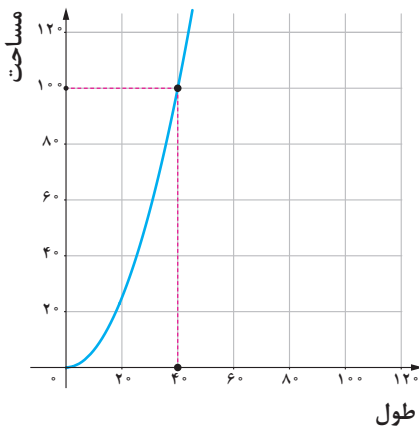
به کمک جدول یک تابع، می‌توان نموداری در صفحه رسم کرد. هر زوج از اعداد جدول که از اعداد دامنهٔ تابع (سطر اول) و مقدار تابع (سطر دوم) تشکیل شده است، نقطه‌ای در صفحه مختصات را مشخص می‌کند. مجموعه این نقاط، شکلی را در صفحه مشخص می‌کنند که نمودار تابع نامیده می‌شود. از طریق نمودار یک تابع، رفتار تابع را بهتر می‌توان تشخیص داد.

مثال ۹

اگر تابعی که در کار در کلاس (۱) به آن رسیدیم، را با h نشان دهیم دامنه این تابع $D_h = (0, 100]$ و برای $x \in D_h$ قانون آن $h(x) = \frac{x^2}{16}$ است جدول زیر را برای این تابع در نظر می‌گیریم.

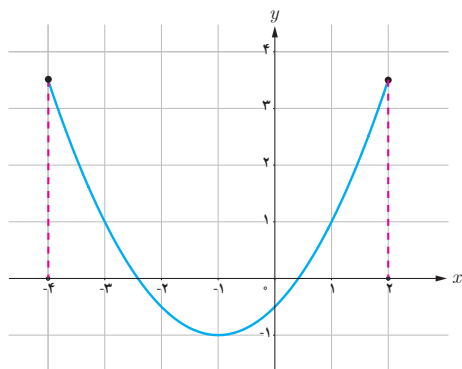
x	۴	۸	۱۶	۲۰	۳۶	۶۰	۸۰	۱۰۰
$h(x)$	۱	۴	۱۶	۲۵	۸۱	۲۲۵	۴۰۰	۶۲۵

از طریق این جدول مشخص می‌شود که با زیاد شدن مقدار متغیر، مقادیر تابع نیز زیاد می‌شوند. روشن است که این جدول‌ها را نمی‌توان به ازای تمام مقادیر دامنه نوشت و فقط از تعدادی متناهی از اعداد در دامنه می‌توان استفاده کرد. معمولاً عددهایی را در دامنه انتخاب می‌کنند که مشخص شدن مقدار تابع در این نقاط، برای تشخیص رفتار تابع (چگونگی تغییرات تابع) در سرتاسر دامنه کافی باشد.



تشخیص رفتار تابع از طریق جدول چندان آسان نیست و نمودار تابع، بهتر می‌تواند رفتار تابع را نشان دهد. همانند کار در کلاس (۱) دو محور عمود بر هم رسم می‌کنیم. محور افقی نشان‌دهنده طول قطعه بریده شده و محور عمودی نشان‌دهنده مساحت مربع ساخته شده است. جدول بالا، فقط برخی از نقاط این نمودار را نشان می‌دهد. شکل روبه‌رو بخشی از نمودار این تابع می‌باشد.

مثال ۱۰

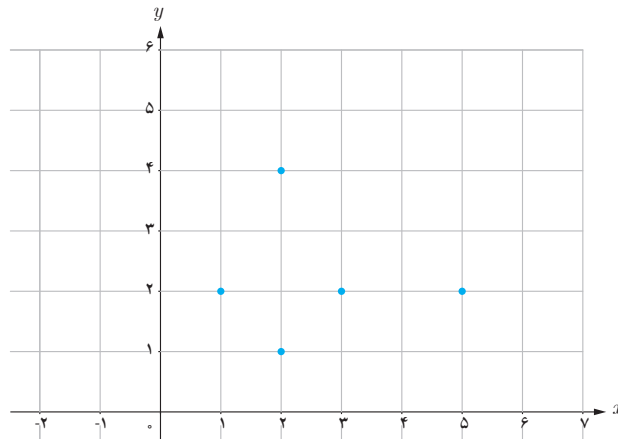


نمودار تابع f با دامنه $[-4, 4]$ رسم شده است.

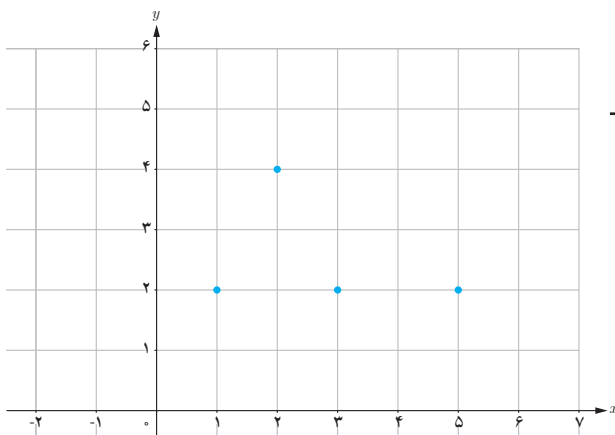
نقطه دلخواهی روی نمودار تابع در نظر بگیرید. از این نقطه خطی بر محور x عمود کنید. طول نقطه برخورد با محور افقی، یکی از مقادیر دامنه را نشان می‌دهد. اگر برای تمام نقطه‌های روی نمودار این عمل را انجام دهیم، همه مقادیر دامنه تابع به دست می‌آید.

مثال ۱۱

x و y به ترتیب مقادیر متناظر دو کمیت (الف) و (ب) هستند. نقاط مشخص شده در صفحه مختصات زیر، مقدارهای متناظر این دو کمیت را نشان می‌دهد. آیا کمیت (ب) تابعی از کمیت (الف) است؟ برای اینکه کمیت (ب) تابعی از کمیت (الف) باشد باید برای هر مقدار از کمیت (الف)، یک مقدار معین برای کمیت (ب) به دست آید. مطابق شکل، وقتی x برابر ۲ می‌باشد، دو مقدار ۱ و ۴ برای y وجود دارد. بنابراین کمیت (ب) تابعی از کمیت (الف) نمی‌باشد.

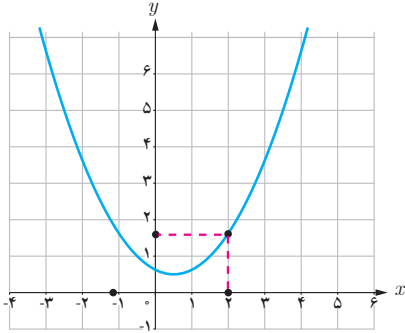


اگر نقطه به مختصات $\begin{bmatrix} 2 \\ 1 \end{bmatrix}$ را از نقاط روی نمودار حذف کنیم، نمودار زیر به دست می‌آید. مشاهده می‌شود که برای هر مقدار از x ، یک مقدار معین برای y به دست آید. پس در این حالت کمیت (ب) تابعی از کمیت (الف) است. اگر این تابع را با f نام‌گذاری کنیم در این صورت $D_f = \{1, 2, 3, 5\}$ و مقادیر تابع فقط برای مقادیر دامنه محاسبه می‌شود. یعنی $f(1) = 2, f(2) = 4, f(3) = 2, f(5) = 2$. جدول این تابع به صورت زیر است:



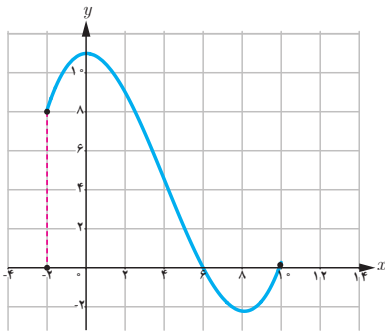
x	۱	۲	۳	۵
y	۲	۴	۲	۲

مثال ۱۲



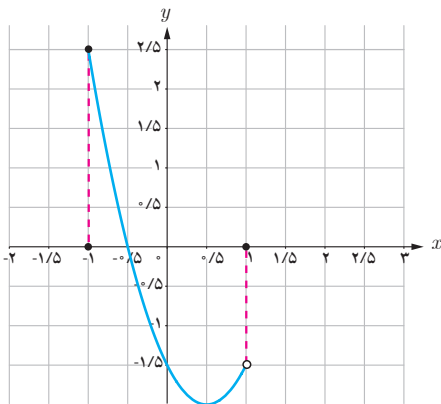
در روبه‌رو نمودار تابع h رسم شده است. از نقطه $x=2$ خطی بر محور x عمود کنید تا نمودار را قطع کند. از این نقطه خطی موازی محور x ها رسم کنید تا محور y ها را قطع کند. این نقطه چه چیزی را نشان می‌دهد؟ این نقطه همان مقدار تابع به ازای $x=2$ یعنی $h(2)$ است.

مثال ۱۳




نمودار تابع g به صورت زیر رسم شده است. الف) دامنه g را بیابید. ب) مقادیر تابع g را به ازای -2 ، -1 ، 6 و 7 بیابید. پ) آیا $g(11)$ معنایی دارد؟ چرا؟ الف) $D_g = [-2, 10]$ ب) $g(-2) = 8$ ، $g(-1) = 10$ ، $g(6) = 0$ ، $g(7) = -1/5$ پ) $g(11)$ معنایی ندارد زیرا عدد 11 در دامنه نیست.

مثال ۱۴



نمودار مقابل مربوط به تابع g است. اگر از تمام نقطه‌های روی نمودار بر محور x ها عمود کنیم، دامنه این تابع بازه $(-1, 1)$ به دست می‌آید.



خواجه نصیرالدین طوسی منجم، حکیم، متکلم و... دانشمند ایرانی است که در قرن ششم می‌زیسته است. وی رصدخانه و کتابخانه مراغه را تأسیس کرد که در آن حدود چهارصد هزار جلد کتاب وجود داشت.

مطالعه نجوم از دیرباز مورد توجه ایرانیان بوده است. یکی از جلوه‌های آن مطالعات دقیق درباره تعیین طول سال است، ستاره‌شناسان آریایی با ستاره‌ها و طلوع و غروب آن آشنا بوده‌اند، سال نو در ایران باستان با گذر خورشید از نقطه اعتدال بهاری آغاز می‌شد. در دوره اسلامی علم هیئت به‌عنوان یکی از شاخه‌های اصلی نجوم در دایره علوم اسلامی قرار گرفت و دانشمندان بزرگ اسلامی از جمله خواجه نصیرالدین طوسی در این زمینه مشغول به فعالیت شدند. تأسیس رصدخانه‌ها، تدریس علم نجوم و هیئت، ساخت ابزارهای نمایش زمان، اصلاح تقویم و... شاهدهایی از عظمت این علم در دوران اسلامی در ایران است.

فعالیت دانشمندان ایرانی در زمینه نجوم و اشکالاتی که مخصوصاً خواجه نصیرالدین طوسی و شاگردانش بر نظریه "زمین مرکزی" مربوط به بطلمیوس وارد کردند، زمینه فکری کوپرنیک ستاره‌شناس لهستانی - آلمانی را فراهم کرد تا مدل غیر بطلمیوسی "خورشید مرکزی" را ارائه کند در این نظریه خورشید را مرکز عالم در نظر گرفته و سایر اجرام آسمانی به دور آن می‌گردند. محاسبات مورد نیاز برای تنظیم مدل خورشید مرکزی وقت زیادی از دانشمندان را به خود اختصاص می‌داد. این مشکل زمینه‌های ابداع لگاریتم توسط ریاضی‌دان هم‌عصر کوپرنیک یعنی جان نپر را فراهم کرد.



۱ هر یک از جدول‌های زیر نمایش یک تابع با دامنه $\{-1, 0, 1, 2, 3\}$ می‌باشد. نمودار هریک را در صفحه مختصات رسم کنید. در صورت امکان، قانون تابع را بنویسید.

الف)

x	-1	0	1	2	3
y	-2	0	2	4	6

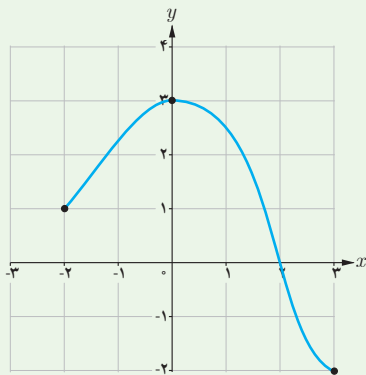
ب)

x	-1	0	1	2	3
y	1	0	1	4	9

۲ نمایش جدول تابع f با دامنه $\{-2, 0, 1, 2, 4\}$ به صورت زیر است:

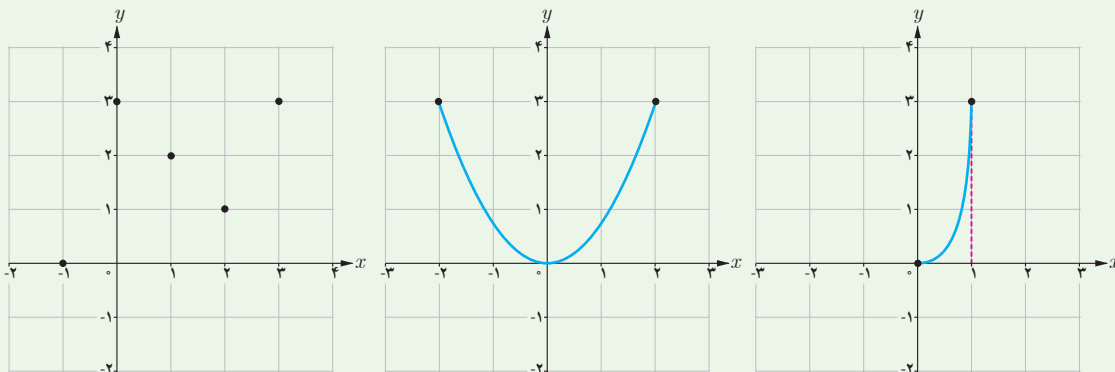
x	-2	0	1	2	4
$f(x)$	0	3	-1	3	1

الف) مقادیر $f(0)$ ، $f(1)$ ، $f(4)$ را بیابید.
ب) نمودار f را در صفحه مختصات رسم کنید.



۳ نمودار تابع g به صورت روبه‌رو است:
الف) با توجه به شکل، دامنه g را بنویسید.
ب) $g(2)$ ، $g(-2)$ و $g(0)$ را به دست آورید.
پ) آیا $g(4)$ معنایی دارد؟ چرا؟

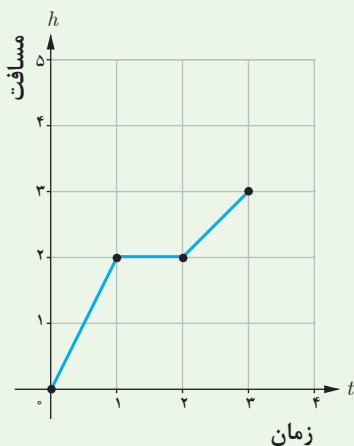
۴ سه تابع زیر را در نظر بگیرید. دامنهٔ هر یک از این تابع‌ها را بنویسید.



الف

ب

پ



۵ وضعیتی از زندگی روزمره را بنویسید که نمودار روبه‌رو نشان‌دهندهٔ آن وضعیت باشد.

۶ تابع g با دامنه $\{-2, -1, 0, 3\}$ را طوری رسم کنید که $g(-2) = 1$ و $g(0) = 2$.

۷ تابع دلخواه f با دامنه $[-1, 4]$ را طوری رسم کنید که $f(-1) = 1$ و $f(2) = -3$.

۸ تابع h با دامنه $[0, 3]$ و قانون $h(x) = 3x^2 + a$ را در نظر بگیرید.


الف) مقدار a را طوری بیابید که $h(1) = 2$.

ب) $h(2)$ را بیابید.

پ) آیا $h(4)$ معنایی دارد؟ چرا؟

استاندارد ارزشیابی مبتنی بر شایستگی پودمان اول

عنوان پودمان	شایستگی های مورد انتظار (واحدهای یادگیری)	استاندارد عملکرد (کیفیت)	سطح احراز شایستگی	شاخص تحقق
تابع	درک رابطه بین کمیت ها و شناخت مفهوم تابع شناخت بازه ها و کاربست آن در تابع	مدل سازی موقعیت ها و حل مسائل مرتبط با تابع	بالاتر از حد انتظار	اجرای شایسته فعالیت های مکمل که انجام آنها، نیل به حد بالاتر از انتظار در شایستگی را برای هنرآموز محرز نماید.
			در حد انتظار	فهم رابطه میان کمیت ها شناسایی روابط حاکم بر متغیرها در قالب یک تابع حل مسائل تابع
			پایین تر از حد انتظار	در صورتی که هنرجو حتی یکی از شاخص های در حد انتظار را محقق ننماید، پایین تر از حد انتظار ارزشیابی می شود.
لازم است تا کیفیت فرایند شایستگی (بر اساس انجام فعالیت های کلاسی، نظم، رعایت توصیه های زیست محیطی، ایمنی و بهداشت، مشارکت در فعالیت های آموزشی و تربیتی، ابتکار در تکالیف عملکردی درسی، مشارکت در فعالیت های گروهی و جمعی و...) در نظر گرفته شود.				
سطح شایستگی کسب شده در پودمان (بالاتر از حد انتظار، در حد انتظار، پایین تر از حد انتظار)				





پودمان دوم

کاربرد تابع‌های خطی و درجهٔ دوم در حل معادله‌ها و نامعادله‌ها



گونه‌ای از گیاه بامبو پس از آنکه به ارتفاع تقریبی ۲۰ سانتی‌متر می‌رسد، در هر ساعت به‌طور تقریبی، $\frac{3}{8}$ سانتی‌متر رشد می‌کند. یعنی در یک شبانه‌روز این گیاه حدود $\frac{91}{2}$ سانتی‌متر رشد می‌کند.

تابع های خطی

محمد علاقه زیادی به گیاهان و پرورش آنها داشت. او با کمک مادرش، در باغچه حیاط خانه شان، انواع گل و گیاه را کاشته بود و هر روز به آنها رسیدگی می کرد. او به اندازه رشد هر کدام از این گیاهان دقت می کرد. برخی از آنها در روزهای متوالی رشدهای متفاوت و برخی دیگر رشد یکنواختی داشتند. محمد به مادرش گفت: جالب است! نحوه رشد هر کدام از این گیاهان باهم فرق دارد.

مادر محمد که دبیر ریاضی بود به او گفت: دقیقاً همین طور است. پیشنهاد می کنم دو یا سه گیاه را انتخاب کنی و هر روز طول آنها را اندازه بگیری. در این صورت می توانی نحوه رشد طولی هر کدام را بهتر درک کنی.

محمد به مادرش گفت: اگر مدتی این کار را انجام دهم، آیا می توانم پیش بینی کنم هر کدام از آنها بعد از یک ماه چقدر رشد طولی خواهند کرد؟

مادرش گفت: بله، باید یک مدل ریاضی برای رفتار رشد طولی آنها بنویسی تا بتوانی مقدار رشد طولی آنها را در روزهای آینده پیش بینی کنی.

انجام فعالیت صفحه بعد می تواند پاسخی برای این سؤال فراهم سازد.

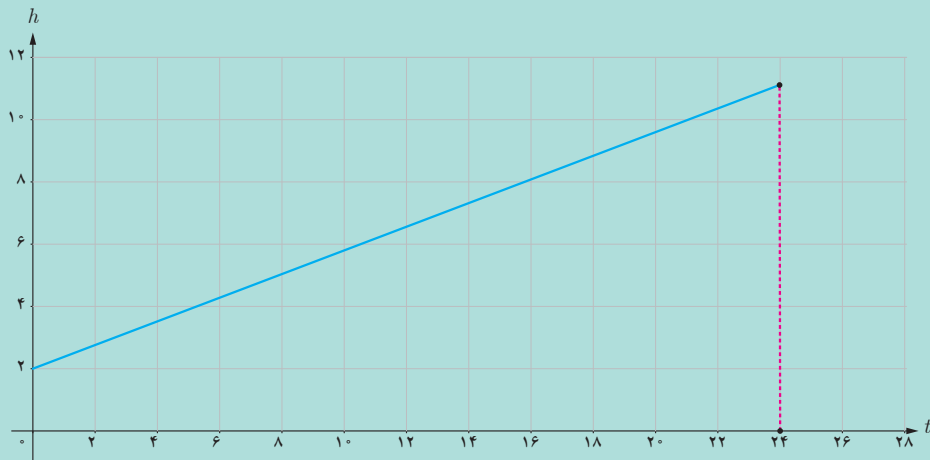




نوعی بامبو پس از آنکه به ارتفاع ۲۰ سانتی متر می‌رسد، به‌طور تقریبی در هر ساعت $\frac{3}{8}$ سانتی متر رشد می‌کند. ارتفاع بامبو تابعی از زمان است و اگر ارتفاع بامبو را (برحسب سانتی متر) پس از t ساعت با $h(t)$ نشان دهیم داریم: $h(t) = 20 + \frac{3}{8}t$. اگر رشد بامبو را در یک شبانه‌روز در نظر بگیریم، دامنه این تابع $[0, 24]$ خواهد بود. **۱** جدول زیر را کامل کنید و اختلاف مقادیر تابع را در داخل مربع‌ها بنویسید.

t (برحسب ساعت)	۰	۱	۲	۳	۴
h (برحسب سانتی متر)					

نمودار زیر، نمودار تابع $h(t) = 20 + \frac{3}{8}t$ را نشان می‌دهد.



۲ به ازای هر یک واحد افزایش مقدار t ، مقدار h چه تغییری می‌کند؟

.....

۳ رابطه بین دو کمیت h و t ، خطی است یا غیر خطی؟ چرا؟

.....

۴ $h(2)$ چه چیزی را نشان می‌دهد؟ $h(18)$ چطور؟

.....

۵ اگر $h(a) = 39$ ، a را پیدا کنید. این مقدار چه چیزی را نشان می‌دهد؟

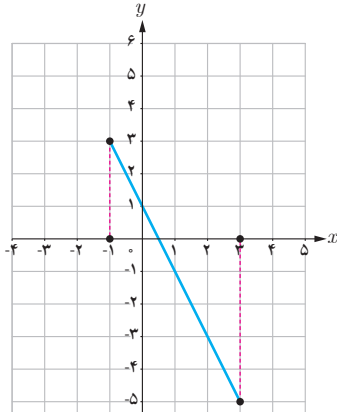
.....



همان طور که می بینید در فعالیت (۱)، h و t با هم رابطه خطی دارند و قانون تابعی که رابطه آنها را توصیف می کند، یک چند جمله ای درجه ۱ است. در این تابع به ازای هر ۱ واحد افزایش متغیر تابع، مقدار تابع $3/8$ واحد افزایش می یابد. نمودار این تابع، یک خط راست با شیب $3/8$ است.

تابع هایی را که بتوان با قانون $f(x) = ax + b$ (a و b دو عدد مشخص هستند) نوشت، **تابع های خطی** می نامند. دامنه این تابع ها می تواند \mathbb{R} یا هر زیر مجموعه ای از \mathbb{R} باشد. نمودار تابع های خطی با دامنه \mathbb{R} به صورت خط راست است. ویژگی اساسی تابع های خطی، آن است که به ازای هر ۱ واحد افزایش یا کاهش متغیر تابع، مقدار تابع به اندازه ثابتی تغییر می کند.

مثال ۱



تابع خطی $f(x) = -2x + 1$ را با دامنه $[-1, 3]$ در نظر بگیرید. مقدار تابع را در دو نقطه به طول های -1 و 3 به کمک قانون آن به دست آورید و نمودار آن را رسم کنید.

داریم $f(-1) = 3$ ، $f(3) = -5$ پس $\begin{bmatrix} -1 \\ 3 \end{bmatrix}$ و $\begin{bmatrix} 3 \\ -5 \end{bmatrix}$ دو نقطه از نمودار این تابع هستند و نمودار این تابع به شکل روبه رو است.

جدول زیر تعدادی از نقاط روی این خط را نشان می دهد.

x	-1	0	1	2	3
$-2x+1$	3	1	-1	-3	-5

$\begin{matrix} \swarrow & \searrow & \swarrow & \searrow \\ \boxed{-2} & \boxed{-2} & \boxed{-2} & \boxed{-2} \end{matrix}$

همان طور که مشاهده می شود، با هر ۱ واحد افزایش متغیر، مقدار تابع ۲ واحد کاهش می یابد و این نشان می دهد شیب خط -2 است.



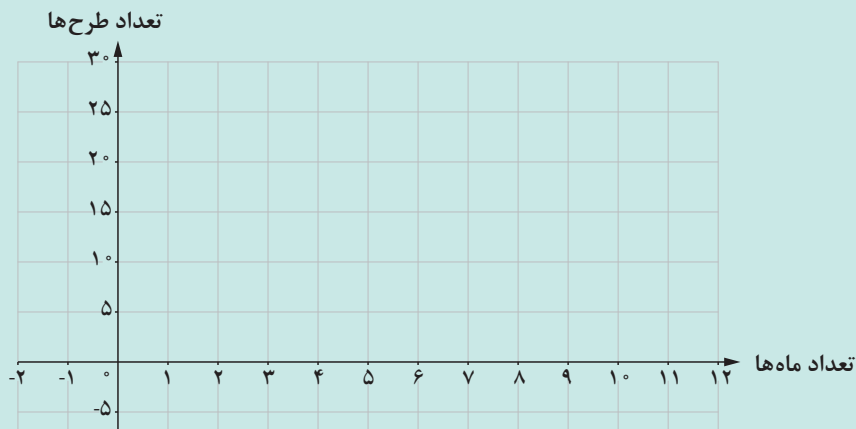
رضا علاقه زیادی به طراحی داشت. او تا سال قبل، ۵ طرح رسم کرده بود و تصمیم گرفت از این به بعد هر ماه ۲ طرح ارائه کند و این کار را تا ۱۲ ماه ادامه دهد.

۱ رضا قبل از این تصمیم، چند طرح داشت؟ او در آخر ماه اول چند طرح داشت؟ در آخر ماه پنجم چطور؟

۲ اگر تعداد ماه‌های سپری شده را با x و تعداد کل طرح‌ها پس از x ماه را با $f(x)$ نمایش دهیم، قانون تابع f و دامنه آن را بنویسید.

۳ مقادیر $f(0)$ ، $f(10)$ را به دست آورید و معنای آن را بیان کنید. آیا $f(-1)$ معنایی دارد؟

۴ اگر دامنه تابع را بازه $[0, 12]$ در نظر بگیریم، نمودار تابع را رسم کنید.



۵ اگر $f(a) = 17$ مقدار a را به دست آورید و معنای آن را بیان کنید.

با مرور آنچه که درباره تابع‌های خطی دیدیم، مشاهده می‌شود که در برخی از تابع‌های خطی، با افزایش مقدار متغیر، مقدار تابع به میزان ثابتی افزایش می‌یابد و در برخی دیگر به میزان ثابتی کاهش می‌یابد. آیا می‌توان تابع‌های خطی پیدا کرد که با افزایش یا کاهش مقدار متغیر، مقدار تابع تغییر نکند؟ در فعالیت زیر این نوع از تابع‌های خطی مورد بررسی قرار می‌گیرند.

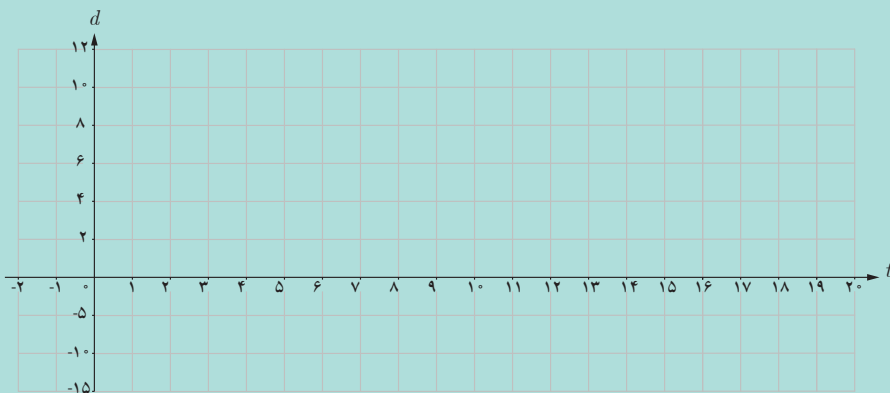


خودرویی از نقطه A شروع به حرکت می‌کند و پس از طی ۲ کیلومتر پشت چراغ قرمز می‌ایستد. مدت زمان چراغ قرمز ۲۰ ثانیه است.

- ۱ مقدار مسافت طی شده به وسیله خودرو از نقطه A ، پس از ۲ ثانیه توقف پشت چراغ قرمز چقدر است؟ پس از ۵ ثانیه چطور؟
- ۲ جدول زیر را کامل کنید.

t (زمان توقف بر حسب ثانیه)	۰	۲	۵	۱۰	۲۰
d (مسافت طی شده بر حسب کیلومتر)	-	-	-	-	-

۳ نمودار تابع را از زمان $t=0$ تا زمان $t=20$ رسم کنید.



۴ با تغییر زمان (t) ، مسافت طی شده (d) چه تغییری می‌کند؟

در بازه زمانی $[0, 20]$ که چراغ قرمز است و خودرو پشت چراغ قرمز متوقف است، گرچه زمان می‌گذرد، مسافت طی شده خودرو از نقطه A ، ۲ کیلومتر است و تغییری نمی‌کند. قانون این تابع خطی، به صورت $f(t) = 2$ است و نمودار آن پاره خطی به موازات محور x هاست. در این فعالیت تابعی را بررسی کردیم که به ازای تمام مقادیر دامنه، مقداری ثابت دارد. این نوع تابع‌ها، ساده‌ترین نوع توابع خطی هستند.

تعریف



تابعی را که به ازای تمام مقادیر متغیر، مقداری ثابت دارد، تابع ثابت می‌نامند.

اگر f یک تابع ثابت باشد قانون آن به صورت $f(x) = c$ می‌باشد که در آن c یک عدد مشخص است. نمودار تابع ثابت با دامنه \mathbb{R} خطی به موازات محور x ها (شیب صفر) است.

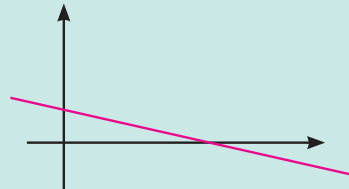

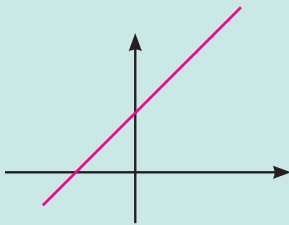
مثال ۲

معمولاً پس از ۲۲ سالگی رشد قد متوقف می‌شود. طول قد که تابعی از زمان است در بازه زمانی تقریبی ۲۲ سالگی تا حدود ۶۰ سالگی، تقریباً ثابت است. بنابراین طول قد افراد به عنوان تابعی بر حسب سن افراد، در این بازه، یک تابع ثابت است.

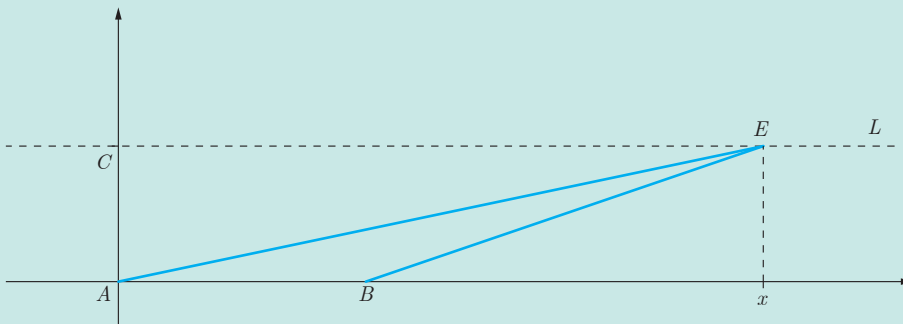
کار در کلاس ۲



۱ نمودارهای زیر چند تابع خطی را نشان می‌دهند. مشخص کنید کدام نمودار، مربوط به تابع ثابت است؟ دلیل خود را توضیح دهید.



۲ در صفحه مختصات زیر، مثلثی با رئوس $A = \begin{bmatrix} 0 \\ 0 \end{bmatrix}$ و $B = \begin{bmatrix} 3 \\ 0 \end{bmatrix}$ و $C = \begin{bmatrix} 0 \\ 2 \end{bmatrix}$ رسم کنید.



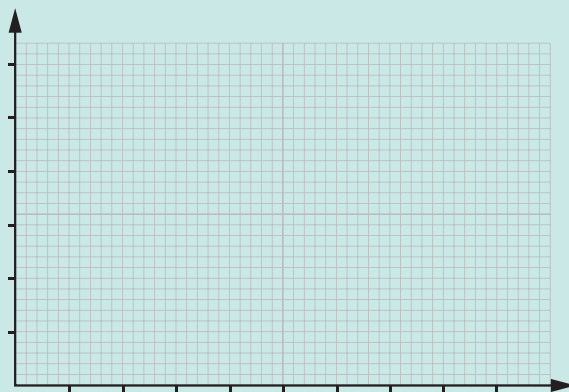
الف) در جدول زیر، x طول نقطه‌ای از خط L (مانند E) است و S (تابعی از x) مساحت مثلث ABE است. جدول زیر را کامل کنید و اختلاف مقادیر تابع را در داخل مربع‌ها بنویسید.

x	-۲	-۱	۰	۱	۲
$S(x)$

ب) قانون این تابع را بنویسید و توضیح دهید چرا S تابعی خطی از x است؟

.....

پ) با استفاده از جدول، نمودار تابع را رسم کنید.



می‌دانیم نمودار هر تابع خطی با دامنه \mathbb{R} یک خط راست است. نمودار تابع خطی $f(x) = ax + b$ با تغییر مقادیر a و b چگونه تغییر می‌کند؟ فعالیت روبه‌رو، می‌تواند پاسخی برای این سؤال فراهم کند.



تابع خطی $f(x) = ax + b$ را در نظر بگیرید. با استفاده از جئوجبرا مطابق دستورالعمل صفحه ۴۳، دو لغزنده برای a و b در نظر بگیرید.

۱ با ثابت نگه داشتن a و تغییر مقادیر b ، نمودار تابع چگونه تغییر می کند؟ وضعیت خط های به دست آمده، نسبت به هم چگونه است؟

۲ با ثابت نگه داشتن b ، به ازای مقادیر مختلف a ، نمودار تابع چگونه تغییر می کند؟

۳ اگر a مثبت باشد، زاویه خط با جهت مثبت محور طول ها چگونه است؟ اگر a منفی باشد، زاویه خط با جهت مثبت محور طول ها چگونه است؟

فعالیت بالا نشان می دهد که با ثابت ماندن a و تغییر b نمودار تابع، خط هایی هستند که با یکدیگر موازی هستند. اگر b افزایش یابد، این خط به موازات خود به بالا منتقل می شود و اگر b کاهش یابد، این خط به موازات خود به پایین منتقل می شود و با صفر شدن b ، خط از مبدأ می گذرد. با ثابت ماندن b و تغییر a خط هایی به دست می آیند که شیب های مختلفی دارند و همگی از یک نقطه می گذرند. اگر a مثبت باشد، زاویه خط با جهت مثبت محور طول ها، زاویه تند و اگر a منفی باشد این زاویه باز است.

مثال ۳

نمودار همه تابع های خطی با قانون $f(x) = ax + 3$ ، در چه نقطه ای مشترک هستند؟

تابع های خطی $f(x) = ax + 3$ را در نظر می گیریم.

برای مثال:

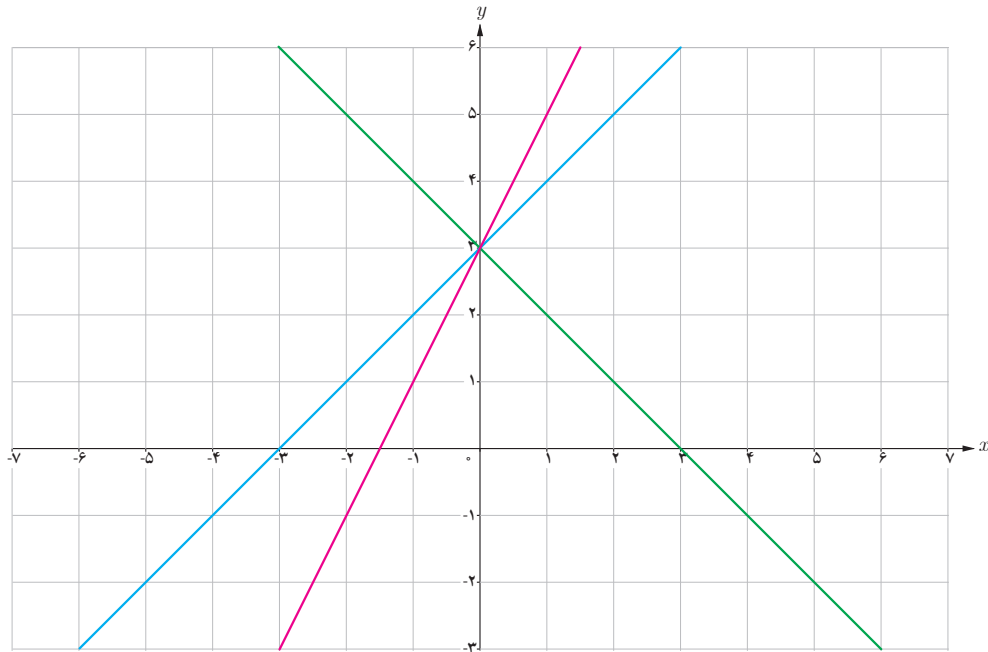
اگر $a = 1$ باشد، در این صورت قانون تابع $f(x) = x + 3$ است.

اگر $a = 2$ باشد، در این صورت قانون تابع $f(x) = 2x + 3$ است.

اگر $a = -1$ باشد، در این صورت قانون تابع $f(x) = -x + 3$ است.

مشاهده می کنیم که برای مقادیر مختلف a ، تابع های مختلفی به دست می آید. برای رسم نمودار این تابع ها به کمک جئوجبرا، ابتدا لغزنده ای به نام a تعریف می کنیم (مطابق دستورالعمل صفحه ۴۵). با کلیک راست روی نمودار، گزینه ردیابی را فعال می کنیم تا بتوانیم نمودار این تابع ها را همزمان مشاهده کنیم.

شکل زیر نمودار برخی از این تابع‌ها را نشان می‌دهد.



همان‌طور که مشاهده می‌کنیم نمودار این تابع‌ها، در نقطه $\begin{bmatrix} 0 \\ 3 \end{bmatrix}$ همدیگر را قطع می‌کنند. پس تمام این تابع‌های خطی از نقطه $\begin{bmatrix} 0 \\ 3 \end{bmatrix}$ می‌گذرد.

کاردرکلاس ۳



۱ وضعیت خط‌های به معادله $2y + 5x = C$ را به ازای مقادیر مختلف C ، توصیف کنید. شیب این خط‌ها چقدر است؟

.....

.....

۲ وضعیت خط‌های به معادله $2y + cx = 4$ را به ازای مقادیر مختلف C ، توصیف کنید. این خط‌ها از چه نقطه مشترکی می‌گذرند؟

.....

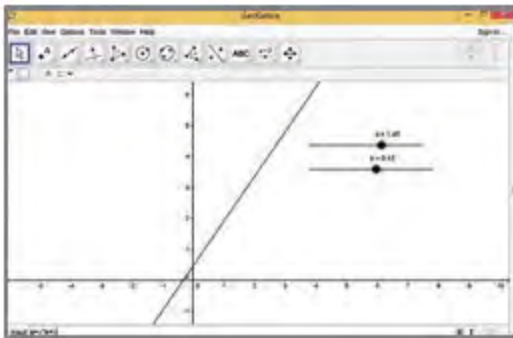
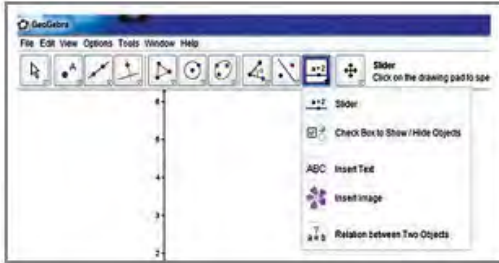
۳ آیا هر خطی در صفحه مختصات، نمودار یک تابع خطی است؟ چرا؟

.....

استفاده از نرم افزار

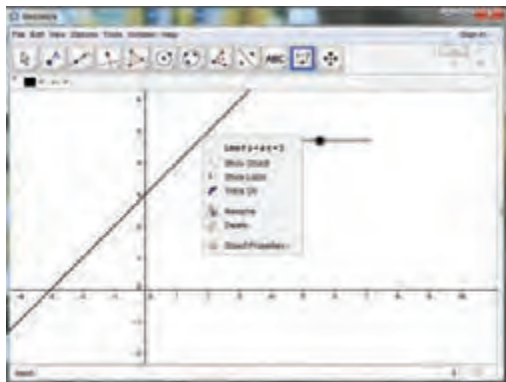
لغزنده در جئوجبرا

از نوار ابزار نرم افزار جئوجبرا دو Slider یا لغزنده به نام های a و b انتخاب کنید و دامنه تغییرات برای هر کدام تعریف کنید.



سپس در قسمت وارد کردن تابع، فرمول تابع را که شامل a و b است بنویسید.

برای تغییر مقدار a و b ، نقطه روی لغزنده را حرکت دهید.





ابوریحان بیرونی دانشمند و همه‌چیزدان، ریاضی‌دان، ستاره‌شناس، تقویم‌شناس، انسان‌شناس، هندشناس، تاریخ‌نگار، گاه‌نگار و طبیعی‌دان ایرانی (۴۲۹-۳۵۱ هـ ش) است. وی در مجموع بیش از ۱۰۰ جلد کتاب در زمینه‌های گوناگون نگاشته است. تألیفات او در ریاضیات شامل: «کیفیه رسوم الهند فی تعلم الحساب» و مقاله‌ای درباره استخراج کعب و وترها به وسیله خطوط منحنی است. کتاب او به نام «التفهیم الاوائل صناعة التنجیم»، از کتاب‌های مهم در ریاضیات و نجوم است. از دیگر کتب او: آثار الباقیه، قانون مسعودی و مقالید علم هیأت را می‌توان نام برد. به طور کلی، ۲۲ جلد کتاب در زمینه ریاضی و نجوم از او باقی مانده است. محاسبه تقریبی وتر یک درجه، عکس عدد پی و تدوین علم مثلثات کروی، برخی از اقدامات اوست.

به نوشته اسمیت: «ابوریحان بیرونی، از درخشانترین چهره‌های ریاضی در زمان خود بود و اروپاییان در معلومات ریاضی خود، مدیون او هستند.»

تصویر ابوریحان بیرونی از تمبر شرکت پُست اتحاد جماهیر شوروی به مناسبت هزارمین سالگرد تولد ابوریحان بیرونی در شکل مشاهده می‌شود.



۱ در زیر، جدول مقادیر مربوط به چهار تابع داده شده است. کدام جدول می تواند مربوط به یک تابع خطی باشد؟

x	-۲	-۱	۰	۱
$g(x)$	۵	-۱۰	-۲۵	-۴۰

x	-۲	-۱	۰	۱
$f(x)$	-۸	-۱	۰	۱

x	۰	۱	۲	۳
$k(x)$	۱	۳	۵	۷

x	-۲	-۱	۰	۱
$h(x)$	۵	۵	۵	۵

۲ علی در یک شرکت بیمه کار می کند. او ۱,۰۰۰,۰۰۰ تومان به عنوان حقوق پایه دریافت می کند و به ازای هر مشتری جدید که جذب می کند، ۵۰,۰۰۰ تومان به حقوقش اضافه می شود. الف) قانونی برای حقوق علی به عنوان تابعی از تعداد مشتری هایی که ماهانه جذب می کند، بنویسید.

ب) اگر او در یک ماه ۱۲ مشتری جدید برای شرکت جذب کرده باشد، میزان حقوق او در آن ماه چقدر خواهد بود؟

پ) چرا این تابع خطی است؟

ت) اگر علی بخواهد در یک ماه ۲,۰۰۰,۰۰۰ تومان حقوق بگیرد، در این ماه چند مشتری باید جذب کند؟

۳ آرمان سوار بر یک کشتی، در فاصله ۱۰ کیلومتری از ساحل قرار دارد و با سرعت ثابت ۳ کیلومتر بر ساعت از ساحل دور می شود. این حرکت ۵ ساعت ادامه داشته است.

الف) قانون و دامنه تابع مربوط به فاصله آرمان از ساحل (برحسب کیلومتر) را برحسب t (زمان برحسب ساعت) بنویسید.

ب) آرمان پس از ۲ ساعت در چه فاصله‌ای از ساحل خواهد بود؟

پ) چرا این تابع خطی است؟ شیب نمودار این تابع مثبت است یا منفی؟

۴) دمای هوا در شهر تهران در تابستان، در طول یک هفته، در ساعت ۱ ظهر، ۳۵ درجه سانتی‌گراد بوده است.

الف) جدول زیر را کامل کنید.

d (روز)	۱	۲	۳	۴	۵	۶	۷
t (دما برحسب درجه سانتی‌گراد)							

ب) دامنه و قانون این تابع را بنویسید.

پ) آیا این تابع، یک تابع ثابت است؟ چرا؟

ت) نمودار تابع را در دامنه‌اش رسم کنید.

۵) رابطه بین دو واحد اندازه‌گیری دما، درجه سانتی‌گراد (c) و درجه فارنهایت (F) با قانون $F(c) = \frac{9}{5}c + 32$ بیان می‌شود.

الف) مقدارهای $F(28)$ و $F(-40)$ را محاسبه کنید و معنای آن را بیان کنید.

ب) دمای صفر درجه سانتی‌گراد، معادل چند درجه فارنهایت است؟

پ) اگر $F(c) = 212$ ، مقدار c را حساب کنید. c چه چیزی را نشان می‌دهد؟

تابع‌های درجه دوم

گفتگو



صدرا در ایام تعطیلات تابستان به همراه خانواده‌اش به شهر تبریز سفر کرده بود. آنها با استفاده از یک دفترچه راهنما که از ایستگاه گردشگری شهر دریافت کرده بودند، هر روز از یک مکان تاریخی یا یک موزه دیدن می‌کردند. آن روز برای بازدید به مسجد کبود رفته بودند. صدرا تمام مدت به سقف مسجد خیره و محو زیبایی آن شده بود.

او به پدرش گفت: معماران چگونه توانسته‌اند انحنای گنبد را با این دقت ایجاد کنند. آیا معماران در زمان قدیم از ریاضیات مربوط به این معماری اطلاع داشته‌اند؟! پدرش به او گفت که بهتر است این سؤال را از دبیر ریاضی‌اش بپرسد. وقتی صدرا این موضوع را برای دبیرش تعریف کرد، دبیر ریاضی گفت: این منحنی‌ها از ساده‌ترین نوع منحنی‌ها در ریاضی هستند، که منحنی‌های درجه دوم نامیده می‌شوند. نمونه‌ای از این منحنی‌ها، نمودار $f(x) = x^2$ است.

تابع‌هایی را که بتوان قانون آنها را به صورت یک چندجمله‌ای درجه دوم نوشت، یک تابع درجه دوم می‌نامند. قانون یک تابع درجه دوم در حالت کلی به صورت $f(x) = ax^2 + bx + c$ است که در آن a و b و c اعداد حقیقی مشخصی هستند ($a \neq 0$). دامنه این تابع‌ها می‌توانند \mathbb{R} یا هر زیرمجموعه‌ای از \mathbb{R} باشند.

تعریف



مثال ۴

تابع‌های زیر نمونه‌هایی از تابع درجه ۲ با دامنه \mathbb{R} هستند.

$$(1) f(x) = 2x^2 + 3x + 1$$

$$(2) g(x) = -3x^2 + 5$$

$$(3) h(x) = 1/2x^2 - 5x + 2$$



اکنون می‌خواهیم بررسی کنیم که نمودار تابع‌های درجه دوم دلخواه چگونه است. با توجه به اینکه با نمودار تابع درجه دوم $y = x^2$ آشنا هستید، با نوشتن قانون $f(x) = ax^2 + bx + c$ به فرم $f(x) = k(x - q)^2 + p$ می‌توانیم نمودار هر تابع درجه ۲ دلخواه را بررسی و رسم کنیم. فعالیت زیر، شما را با شکل کلی نمودار تابع‌های درجه دوم آشنا خواهد کرد.

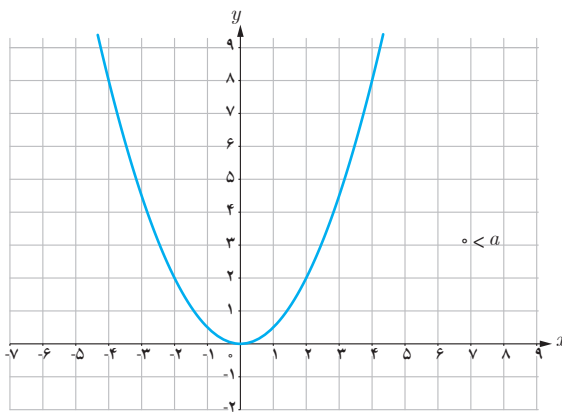
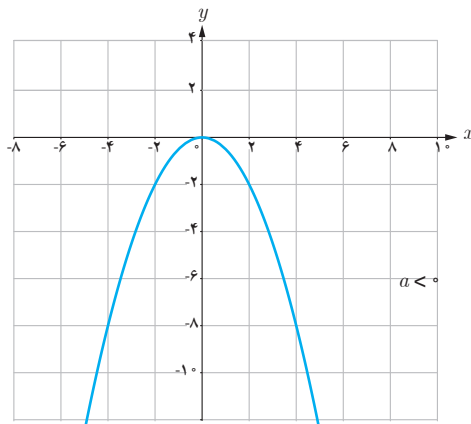
به کمک جئوجبرا نمودار تابع $y = x^2$ را رسم کنید و به سؤالات زیر پاسخ دهید. (در هر مرحله یک لغزنده تعریف کنید).

۱ نمودار تابع‌های درجه دوم $y = x^2 + p$ را به ازای مقادیر مختلف p رسم کنید. وضعیت نمودار تابع $y = x^2 + p$ را با نمودار تابع $y = x^2$ توصیف کنید.

۲ نمودار تابع‌های درجه دوم $y = (x - q)^2$ را به ازای مقادیر مختلف q رسم کنید. وضعیت نمودار تابع $y = (x - q)^2$ را با نمودار تابع $y = x^2$ توصیف کنید.

۳ نمودار تابع‌های درجه دوم $y = kx^2$ را به ازای مقادیر مختلف مثبت و منفی برای k رسم کنید. با تغییر علامت k از مثبت به منفی چه تغییری در نمودار ایجاد می‌شود؟

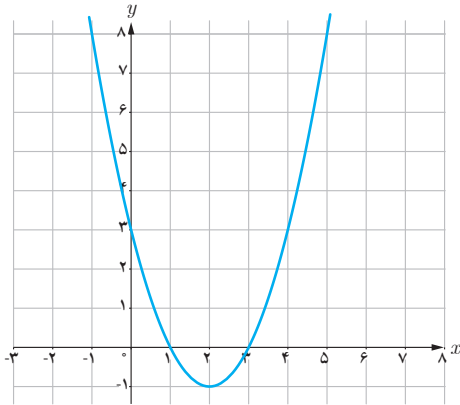
در فعالیت (۴)، با شکل کلی نمودار برخی از تابع‌های درجه دوم آشنا شدید. نمودار هر تابع درجه دوم از طریق نمودار تابع $y = ax^2$ با انتقال به پایین یا بالا (قسمت (۱)) و انتقال به چپ یا راست (قسمت (۲)) ساخته می‌شود. نمودار $y = ax^2$ برای حالت $0 < a$ و $a < 0$ در زیر آمده است.



مثال ۵

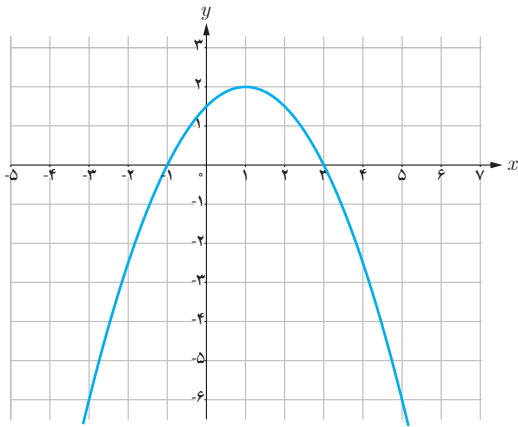
الف) نمودار تابع $y = (x-2)^2 - 1$ را رسم می‌کنیم.

نمودار این تابع همان نمودار تابع $y = x^2$ است که به اندازه ۲ واحد به سمت راست و به اندازه ۱ واحد به پایین منتقل شده است.



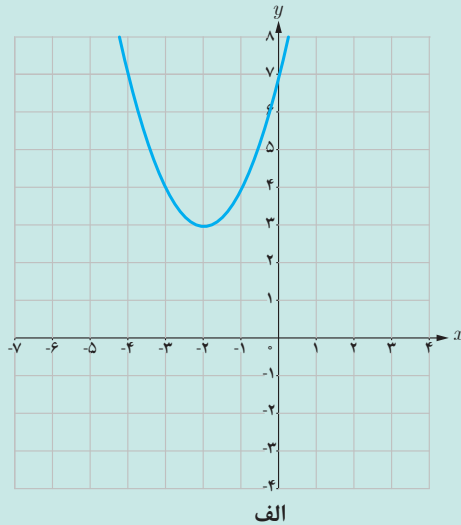
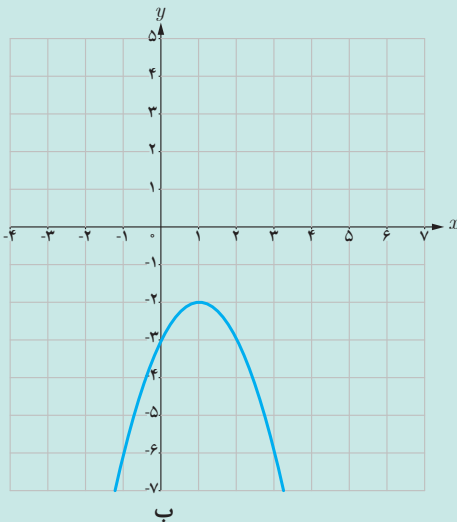
ب) اگر نمودار تابع درجه دوم $y = k(x-q)^2 + p$ به شکل زیر باشد، علامت k و مقدار p و q را تعیین کنید.

به سمت پایین بودن نمودار، نشان می‌دهد که $k < 0$. این شکل نشان می‌دهد که نمودار تابع $y = kx^2$ ، ۱ واحد به راست و ۲ واحد به بالا منتقل شده است، پس $q = 1$ و $p = 2$.



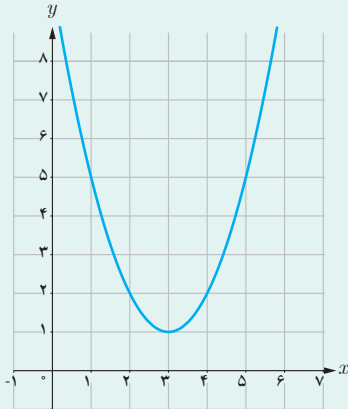
نمودارهای زیر مربوط به تابع درجه دوم $y = k(x-q)^2 + p$ می‌باشد، علامت k و مقدار p و q را تعیین کنید.

کاردکلاس ۴

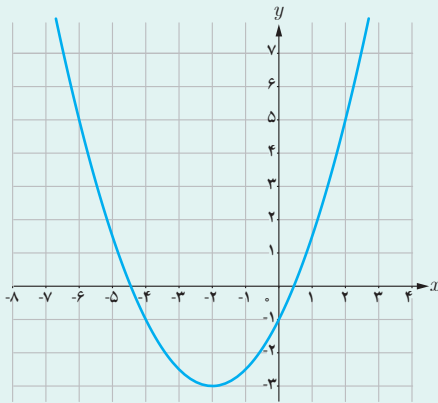




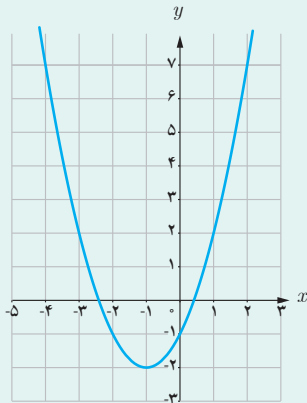
۱ نمودارهای زیر مربوط به تابع درجه دوم، $y=k(x-q)^2+p$ هستند. علامت k و مقدار q ، p را تعیین کنید.



ب



الف



۲ نمودار روبه‌رو مربوط به یک تابع درجه دوم است. مشخص کنید که کدام قانون، مربوط به این نمودار است.


$$\text{الف) } f(x) = (x-1)^2 + 1$$

$$\text{ب) } f(x) = (x-1)^2 - 1$$

$$\text{پ) } f(x) = (x+1)^2 + 2$$

$$\text{ت) } f(x) = (x+1)^2 - 2$$

۳ فرید بسکتبال بازی می‌کند. تصویر روبه‌رو یک پرتاب او را به سمت سبد نشان می‌دهد. صفحه مختصات طوری قرار داده شده است که مبدأ مختصات دقیقاً روی نقطه پرتاب توپ قرار گیرد. ارتفاع توپ از سطح زمین در هر لحظه یک تابع درجه دوم با قانون $h(x)=k(x-q)^2+p$ است. علامت k و p و q را تعیین کنید.



کاربرد تابع‌ها در حل معادله‌ها

گفتگو



برف شدیدی در حال باریدن بود. امیر و امین و چند نفر از هم‌کلاسی‌هایشان به همراه دبیر ریاضی خود قرار بود فردای آن روز به کوه بروند. پدر امیر که کوه‌نوردی حرفه‌ای بود به آنها قول داده بود که به همراه گروه، فردا به کوه بیاید تا گروه را راهنمایی کند. او به گروه توصیه کرد لباس گرم همراه داشته باشند. صبح زود، گروه در حال بالا رفتن از کوه بود که امیر گفت: من سردم شده است. پدرش به او گفت: بهتر است یکی از لباس‌هایی را که آورده‌ای بپوشی، هر چه بالاتر برویم، هوا سردتر می‌شود. امیر رو به دبیر ریاضی کرد و گفت: معلوم می‌شود دما به ارتفاع بستگی دارد. آیا دما، تابعی از ارتفاع است؟ دبیر گفت: بله همین‌طور است. در واقع به ازای هر ۱۵۰ متر افزایش ارتفاع، ۱ درجه از دمای هوا کاسته می‌شود. امین پرسید: آیا می‌توانیم بفهمیم در چه ارتفاعی، دمای هوا صفر درجه می‌شود؟ دبیر قول داد که در کلاس، راجع به این موضوع بیشتر بحث کنند.





اگر دما در سطح دریا ۱۵ درجه سانتی‌گراد باشد، در کوه دماوند رابطه بین دما (T) بر حسب درجه سانتی‌گراد و ارتفاع از سطح دریا (h بر حسب متر) با قانون $T(h) = 15 - \frac{h}{150}$ مشخص می‌شود. در اینجا T تابعی از h است و دامنه این تابع بازه $[0, 5610]$ است. (۵۶۱۰، ارتفاع قله دماوند بر حسب متر است)

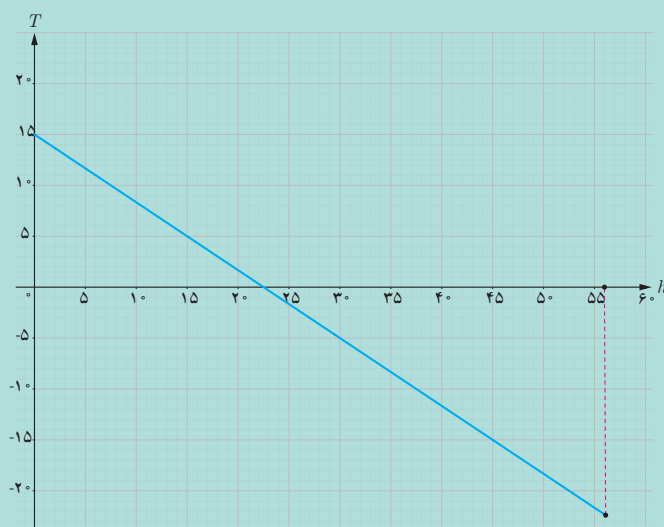
۱ $T(0)$ چه چیزی را نشان می‌دهد؟

۲ در ارتفاع ۱۸۰۰ متری از سطح دریا، دما چند درجه است؟

۳ نمودار تابع T در زیر رسم شده است. با توجه به نمودار به سؤال‌های زیر پاسخ دهید. روی محور افقی هر واحد را ۱۰۰ متر در نظر می‌گیریم. الف) تابع T ، از درجه است. ب) نمودار این تابع در چه نقطه‌ای محور افقی (ارتفاع) را قطع می‌کند؟ این نقطه چه چیزی را نشان می‌دهد؟

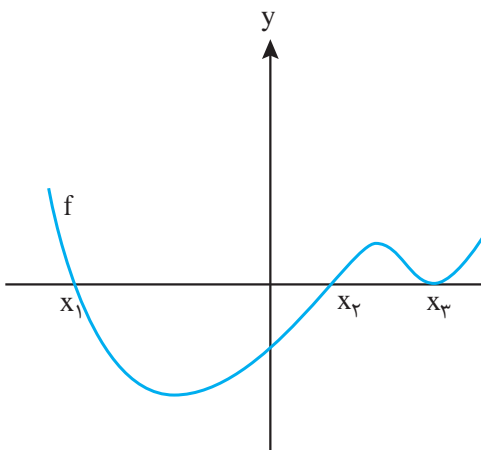
۴ جواب معادله $15 - \frac{h}{150} = 0$ را بیابید. جواب این معادله چه چیزی را نشان می‌دهد؟

۵ از مقایسه (۳) و (۴) چه نتیجه‌ای می‌گیرید؟



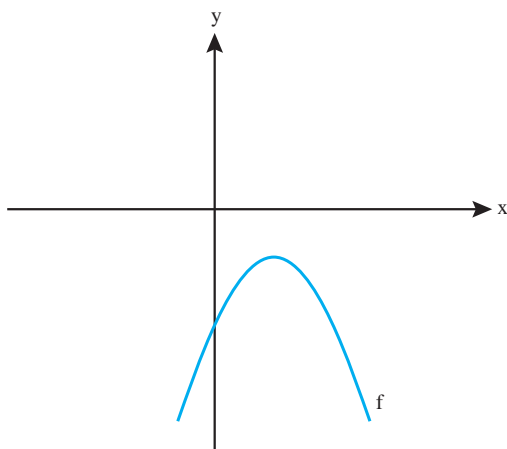
در فعالیت (۵) دیدیم که نمودار تابع T ، محور افقی را در نقطه $h = 225^\circ$ قطع می‌کند؛ یعنی دما، در ارتفاع 225° متری از سطح دریا، صفر درجه سانتیگراد است. همچنین دیدیم، برای پیدا کردن جواب معادله $0 = 15 - \frac{h}{150}$ ، کافی است طول نقطه برخورد نمودار تابع $T(h) = 15 - \frac{h}{150}$ با محور افقی را بیابیم.

در حالت کلی برای حل معادله $ax + b = 0$ می‌توان نمودار تابع $f(x) = ax + b$ را رسم کرد. طول محل برخورد نمودار این تابع با محور x همان جواب معادله $ax + b = 0$ است. همچنین، برای حل معادله درجه دوم $ax^2 + bx + c = 0$ می‌توان نمودار تابع $f(x) = ax^2 + bx + c$ را رسم کرد. طول محل‌های برخورد نمودار این تابع با محور x ها (در صورت وجود) همان جواب‌های معادله درجه دوم هستند.



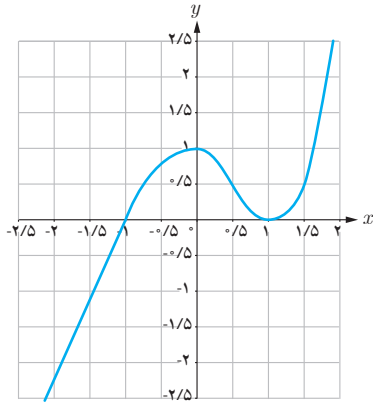
از این روش می‌توان برای حل همه معادله‌ها استفاده کرد. هر معادله‌ای را می‌توان به شکل کلی $f(x) = 0$ نوشت که در آن f تابعی با دامنه مشخص است. با رسم نمودار f ، محل‌های برخورد نمودار با محور x ها (در صورت وجود) جواب‌های معادله $f(x) = 0$ هستند. در شکل روبه‌رو، نقاط x_1 و x_2 و x_3 جواب‌های معادله $f(x) = 0$ هستند. اگر نمودار f محور x ها را قطع نکند، به این معناست که معادله $f(x) = 0$ جواب ندارد.

مثال ۶



معادله $0 = -x^2 + 2x - 2$ را به کمک رسم نمودار حل کنید. شکل روبه‌رو نمودار تابع $f(x) = -x^2 + 2x - 2$ را نشان می‌دهد. این نمودار محور طول‌ها را قطع نمی‌کند. پس معادله بالا جواب ندارد.

مثال ۷



معادله $x^3 - x^2 - x + 1 = 0$ را به کمک رسم نمودار حل کنید.

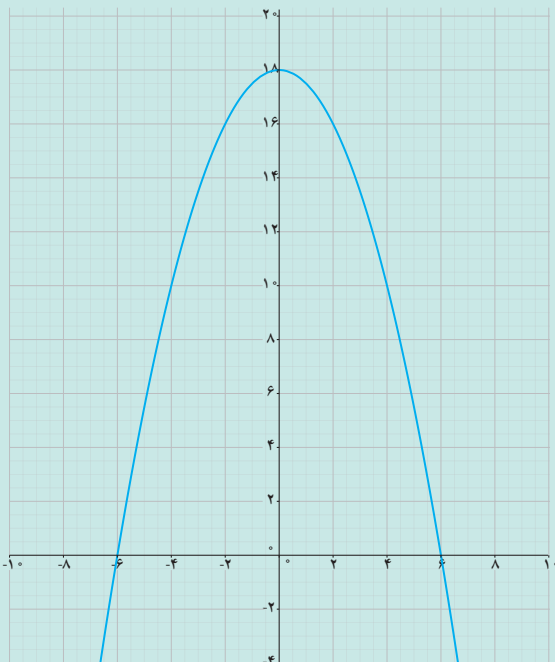
نمودار تابع $y = x^3 - x^2 - x + 1$ را به کمک جئوجبرا رسم می‌کنیم (شکل روبه‌رو).

این نمودار، محور طول‌ها را در نقاط ± 1 قطع می‌کند، پس جواب‌های آن معادله، ± 1 هستند.

کاردرکلاس ۵



آب از بالای آبخاری که ارتفاع آن ۱۸۰ متر است، به رودخانه می‌ریزد. تابع $h(t) = -5t^2 + 180$ ارتفاع یک قطره آب (بر حسب متر) از سطح رودخانه را بعد از t ثانیه از جدا شدن از بالای آبخار نشان می‌دهد. **۱** ارتفاع یک قطره آب از سطح رودخانه بعد از ۲ ثانیه، چقدر است؟



۲ نمودار تابع با قانون $h(t)$ و دامنه \mathbb{R} آورده شده است. (زمان را روی محور افقی و ارتفاع را روی محور عمودی، هر واحد ۱۰ متر، در نظر بگیرید.) نمودار این تابع در چه نقطه‌هایی محور t ها را قطع می‌کند؟ این نقطه‌ها چه چیزی را نشان می‌دهند؟

۳ جواب‌های معادله $-5t^2 + 180 = 0$ چه مقادیری هستند؟ کدام جواب در شرایط این مسئله قابل قبول نیست؟ دلیل خود را بیان کنید.

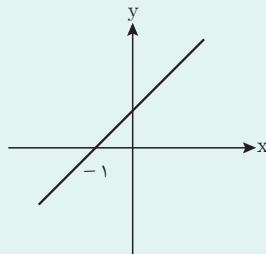
۴ دامنه تابع h را طوری تعیین کنید که قانون $h(t)$ ارتفاع قطره آب از سطح رودخانه را مشخص کند.



۱ اگر نمودار تابع f به شکل زیر باشد، جواب‌های معادله $f(x) = 0$ را بنویسید.



۲ شکل زیر نمودار خط به معادله $y = ax + 2$ است. با استفاده از شکل a را پیدا کنید.



۳ معادلات زیر را به کمک رسم نمودار با استفاده از جئوجبرا حل کنید.

الف) $3x - 6 = 0$ ب) $x^2 + 5x + 6 = 0$ ث) $x^3 - 3x^2 + 3x - 1 = 0$

ب) $-3x^2 - 2x = 16$ ت) $x^3 - x^2 = 4x + 1$ ج) $x^3 - 3x - 2 = 0$

۴ توپی را به هوا پرتاب می‌کنیم. ارتفاع آن از سطح زمین (بر حسب متر) تابعی از زمان (بر حسب ثانیه) است. اگر ارتفاع توپ را با h و زمان را با t نشان دهیم برای یک پرتاب خاص، قانون این تابع به صورت $h(t) = -5t^2 + 20t$ است. دامنه تابع $[0, 4]$ است.

در چه زمان‌هایی ارتفاع این توپ ۲ متر است؟ چند جواب به دست می‌آید؟ چرا؟

کاربرد تابع‌ها در حل نامعادله‌ها

یک مؤسسه خیریه با هدف کمک به ایتام و کودکان بی سرپرست فعالیت می‌کند. این مؤسسه به طور فصلی نمایشگاهی از دست سازها، برگزار می‌کند و درآمد حاصل از فروش آنها، را صرف این کودکان می‌کند.

در نمایشگاه سال قبل، درآمد حاصل از فروش یک نوع دست ساز، ۸ میلیون تومان بوده است. هیئت مدیره مؤسسه تصمیم گرفته است که در سال جاری، درآمد حاصل را به بیش از ۸ میلیون تومان برساند. بر اساس اطلاعات اقتصادی، رابطه بین قیمت این کالا و میزان کالای فروخته شده به صورت $x = 80000 - 200p$ است که در آن p قیمت کالا (بر حسب هزار تومان) و x تعداد کالای فروخته شده است.

آنها تصمیم دارند قیمت کالا را طوری تنظیم کنند تا درآمد حاصل از فروش به بیش از ۸ میلیون تومان برسد. با انجام فعالیت زیر می‌توانیم مدلی برای پاسخ‌گویی به این مسئله بسازیم.

گفتگو



فعالیت (۶)



۱ درآمد حاصل از فروش x کالا با قیمت p را با R نشان دهید و معادله درآمد را تشکیل دهید.

۲ رابطه بین قیمت کالا و میزان کالای فروخته شده به صورت $x = 80000 - 200p$ است. تابع درآمد را بر حسب p بنویسید.

۳ چندجمله‌ای قانون تابع درآمد بر حسب p از درجه چند است؟

۴ رابطه‌ای برای p بنویسید که در آن، درآمد حاصل از فروش دست سازها، بیشتر از ۸ میلیون تومان باشد.

همان طور که در فعالیت بالا دیدید، هدف مؤسسه، پیدا کردن رابطه‌ای بین قیمت کالا و درآمد حاصل از فروش است تا با قیمت‌گذاری مناسب، درآمدی بیش از ۸ میلیون تومان داشته باشد. مدل ریاضی این مسئله یک نامساوی است که با استفاده از آن می‌توان شرایط مطلوب مسئله را برقرار کرد. این گونه نامساوی‌ها را **نامعادله** می‌نامند.



نامساوی‌هایی به صورت $ax^2+bx+c \leq 0$ یا $ax^2+bx+c \geq 0$ را که در آنها a, b, c اعداد مشخصی هستند ($a \neq 0$) **نامعادله درجه دوم** می‌نامند. مقدارهایی از x که نامعادله را به یک نامساوی درست تبدیل می‌کنند، **جواب‌های نامعادله** می‌نامند.

مثال ۸

توپي از بالای ساختمانی به ارتفاع ۱۵ متر به هوا پرتاب شده است. ارتفاع این توپ از سطح زمین، به عنوان تابعی از زمان (t بر حسب ثانیه) در یک پرتاب خاص با تابع $h(t) = -5t^2 + 12t + 15$ بیان شده است. اگر بخواهیم زمان‌هایی را که ارتفاع توپ بیش از ۱۸ متر است به دست آوریم، باید نامعادله $18 < -5t^2 + 12t + 15$ را تشکیل دهیم که می‌توان آن را به صورت $-5t^2 + 12t - 3 > 0$ نوشت. جواب‌های این نامعادله همان زمان‌هایی است که ارتفاع توپ بیش از ۱۸ متر است.



در یک شرکت سازنده تلفن همراه، رابطه بین قیمت فروش تلفن همراه (p)، (بر حسب صد هزار تومان) و تعداد تلفن همراه فروخته شده (x)، از رابطه $p = 15 - 0.25x$ به دست می‌آید.

۱ مقدار x را بر حسب p بنویسید.

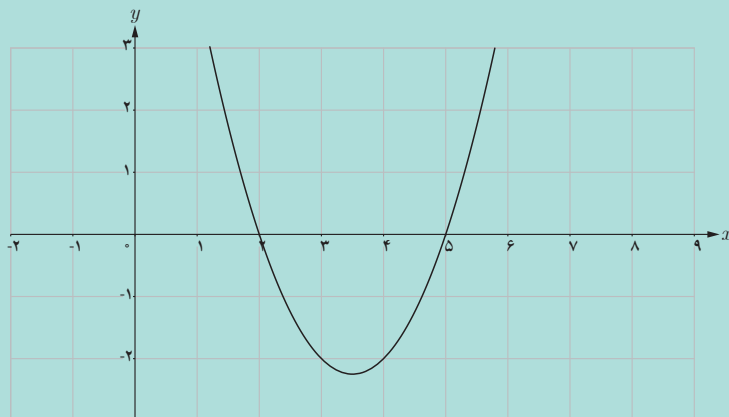
۲ درآمد حاصل از فروش تعداد x کالا ($R(p)$) را بر حسب p بنویسید.

۳ نامعادله‌ای بنویسید که نشان دهد برای چه مقدارهای p ، درآمد حاصل از فروش، بیشتر از ۴۰۰ میلیون است.

همان طور که مشاهده می‌کنید مدل ریاضی برخی از مسائلی که با آن روبه‌رو می‌شویم به صورت نامعادله است و برای حل مسئله لازم است نامعادله را حل کنیم. در بخش قبل دیدیم که محل‌های برخورد نمودار تابع $y = f(x)$ با محور طول‌ها (در صورت وجود)، جواب‌های معادله $f(x) = 0$ هستند. یعنی برای حل معادله $f(x) = 0$ ، می‌توانیم از نمودار تابع f کمک بگیریم. فعالیت صفحه بعد نشان می‌دهد برای حل نامعادله‌ها نیز می‌توان از نمودار تابع‌ها استفاده کرد.



تابع $f(x) = x^2 - 7x + 1$ را با دامنه \mathbb{R} در نظر بگیرید. نمودار آن در زیر رسم شده است.



۱ طول نقاط محل برخورد نمودار تابع با محور x ها، چه چیزی را نشان می‌دهند؟

.....

۲ با استفاده از نمودار، جواب‌های معادله $f(x) = 0$ را به دست آورید.

.....

۳ آن قسمت از نمودار تابع را که بالای محور x ها قرار گرفته است، رنگی (پررنگ) کنید. و جمله زیر را کامل کنید:

عرض نقاط رنگی (کوچک‌تر از صفر / بزرگ‌تر از صفر) است.

۴ به ازای چه مقادیری از دامنه، مقدار تابع مثبت است؟ این مقادیر از دامنه را به صورت بازه نمایش دهید.

.....

۵ مجموعه جواب‌های نامعادله $x^2 - 7x + 1 > 0$ با مجموعه به دست آمده در (۴) چه رابطه‌ای دارد؟ توضیح دهید.

.....

۶ آن قسمت از نمودار تابع را که پایین محور x ها قرار گرفته است با رنگ دیگری مشخص کنید.

.....

۷ به ازای چه مقادیری از دامنه، مقدار تابع منفی است؟ این قسمت از دامنه را با استفاده از بازه‌ها بنویسید.

.....

۸ آیا مجموعه جواب‌های نامعادله $x^2 - 7x + 1 < 0$ همان مجموعه به دست آمده در (۷) است؟ توضیح دهید.

.....

همان طور که در فعالیت (۷) می بینید، برای x هایی که نمودار تابع بالای محور x هاست، داریم $f(x) > 0$ ؛ پس مجموعه این x ها دقیقاً همان مجموعه جواب های نامعادله $f(x) > 0$ است. به طور مشابه، برای x هایی که نمودار تابع، پایین محور x ها است مقدار $f(x)$ منفی است و $f(x) < 0$. پس مجموعه این x ها دقیقاً همان مجموعه جواب های نامعادله $f(x) < 0$ است. نمودار تابع $f(x) = x^2 - 7x + 1$ محور x ها را در نقاطی به طول ۲ و ۵ قطع می کند. نمودار این تابع در بازه (۲, ۵) زیر محور x ها است و این بازه دقیقاً همان مجموعه جواب های نامعادله $x^2 - 7x + 1 < 0$ است. همچنین، نمودار این تابع، در مجموعه $(-\infty, 2) \cup (5, +\infty)$ بالای محور x ها است و این مجموعه دقیقاً همان مجموعه جواب های نامعادله $x^2 - 7x + 1 > 0$ است.

در حالت کلی برای حل نامعادله $f(x) > 0$ که f یک تابع است، ابتدا نمودار تابع $y = f(x)$ را رسم می کنیم. سپس، آن قسمت از نمودار تابع را که بالای محور x ها است مشخص می کنیم. آن x هایی از دامنه f که به ازای آنها، نمودار تابع بالای محور x ها است مجموعه جواب های نامعادله $f(x) > 0$ است.

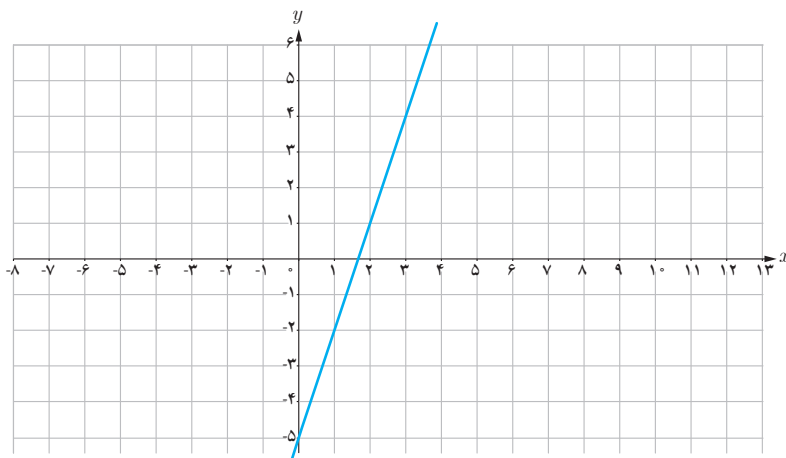
به طور مشابه، برای حل نامعادله $f(x) < 0$ ، ابتدا نمودار تابع $y = f(x)$ را رسم می کنیم. سپس، آن قسمت از نمودار تابع را که پایین محور x ها است را مشخص می کنیم. آن x هایی از دامنه f که به ازای آنها نمودار تابع، پایین محور x ها است مجموعه جواب های نامعادله $f(x) < 0$ می باشد.

مجموعه جواب های نامعادله های به صورت $f(x) \geq 0$ (یا $f(x) \leq 0$) علاوه بر مجموعه جواب های نامعادله $f(x) > 0$ یا $f(x) < 0$ ، طول نقاط برخورد نمودار تابع با محور x ها را هم شامل می شود.

مثال ۹

نامعادله $x - 4 > 2x - 1$ را با رسم نمودار حل کنید.

ابتدا با انتقال جملات به یک طرف، نامعادله را به شکل $3x - 5 > 0$ می نویسیم. سپس، نمودار تابع $f(x) = 3x - 5$ را که دامنه آن \mathbb{R} است رسم می کنیم.

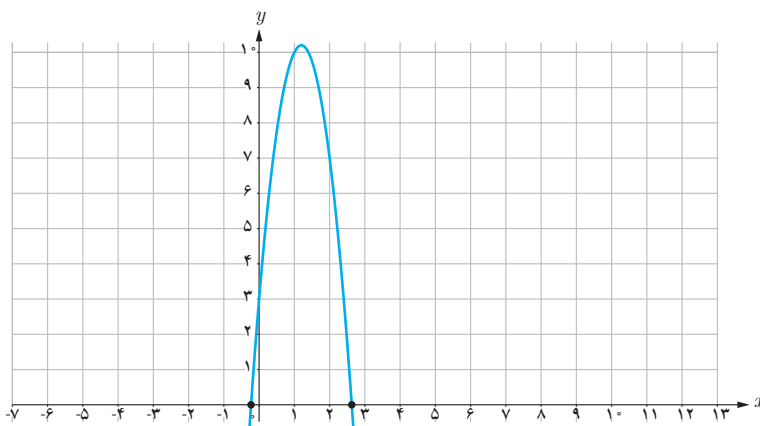


این خط در نقطه‌ای به طول $x = \frac{5}{3}$ ، محور x ها را قطع می‌کند و در بازه $(\frac{5}{3}, +\infty)$ بالای محور x ها است. پس، مجموعه جواب‌های نامعادله $3x - 5 > 0$ عبارت است از $(\frac{5}{3}, +\infty)$.

مثال ۱۰

نامعادله $-5t^2 + 12t + 5 \geq 2$ را حل کنید.

ابتدا نامعادله را به صورت $-5t^2 + 12t + 3 \geq 0$ می‌نویسیم. سپس، نمودار تابع $f(t) = -5t^2 + 12t + 3$ را که دامنه آن \mathbb{R} است به کمک جنوجبرا رسم می‌کنیم.



جنوجبرا، محل تقریبی برخورد نمودار این تابع با محور x ها را در نقاط به طول تقریبی 0.23 و 2.63 نشان می‌دهد. در بازه بین این نقاط نمودار تابع بالای محور x ها است، پس مجموعه جواب این نامعادله، بازه $[-0.23, 2.63]$ است.

مستطیل‌هایی را در نظر بگیرید که طول آنها ۸ سانتی‌متر بیشتر از عرض آنها است. عرض این مستطیل‌ها چه مقادیری باید داشته باشند تا مساحت آنها از ۲۵ سانتی‌متر مربع کمتر باشد.

.....

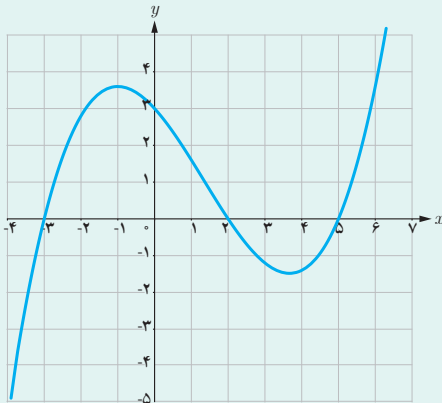
.....

کاردرکلاس ۷

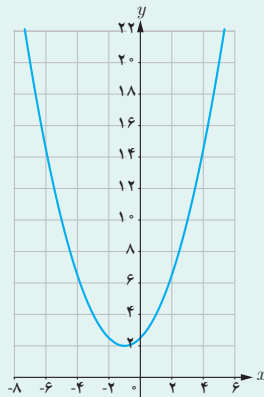




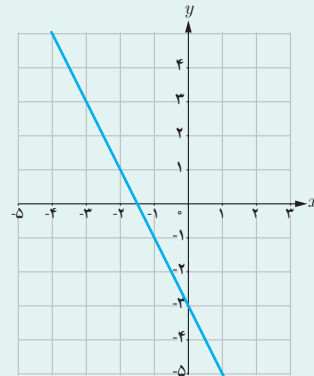
۱ در زیر نمودارهای چهار تابع رسم شده است. در هر مورد، مجموعه جواب‌های نامعادله $f(x) \geq 0$ را مشخص کنید.



پ



ب



الف

۲ نامعادله‌های زیر را حل کنید.

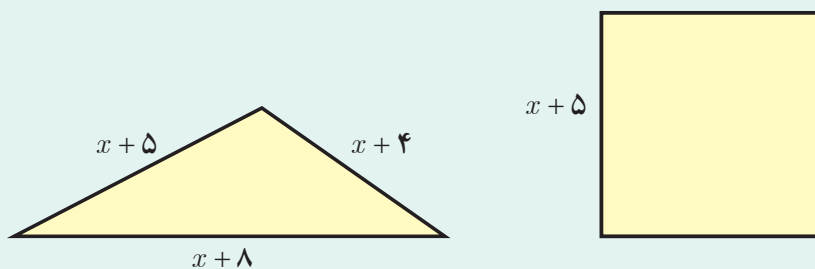
$$\text{پ) } -x^2 + 4x + 3 \geq -2$$

$$\text{ب) } 3x^2 - 5x - 1 > 0$$

$$\text{الف) } 2x - 3 < 0$$

۳ پرتابه‌ای به طور عمودی به هوا پرتاب می‌شود. ارتفاع این پرتابه از سطح دریا (برحسب متر) به صورت تابعی از زمان (برحسب ثانیه) با رابطه $h(t) = -5t^2 + 100t$ داده شده است. مشخص کنید در چه بازه زمانی، ارتفاع این پرتابه بیش از ۲۰۰ متر خواهد بود.

۴ مقدار x را طوری بیابید که اندازه محیط مثلث از اندازه مساحت مربع کمتر باشد.



۵ علی به تازگی یک کارگاه تولید قطعات یدکی راه اندازی کرده است. درآمد حاصل از فروش کالا به قیمت p (برحسب تومان) از قانون $R(p) = -1000p^2 + 50000p$ به دست می‌آید. به ازای چه مقادیری برای p ، میزان درآمد شرکت بیش از ۱۰,۰۰۰,۰۰۰ است؟



هدایت غریزی زنبور عسل: مهندسی طبیعت

کندوی زنبور عسل نمونه بارزی از طراحی و استحکام است. ساختار کندو به گونه‌ای است که بیشترین فضا برای جمع‌آوری شیره را دارا می‌باشد. محاسبات ریاضی دانان نشان داده است که شش ضلعی مناسب‌ترین شکل هندسی برای دستیابی به این ویژگی است. زنبورها با الهام از وحی الهی، قوانین هندسی را رعایت نموده و پناهگاهی امن برای خود طراحی می‌کنند. یافته‌های انسان از دیرباز از به‌کارگیری و مدل‌سازی پدیده‌های خلقت حکایت دارد. امروزه ساختار کندوی عسل، الهام‌بخش الگوی آجرهای کم‌وزن و در عین حال با استحکام است. همچنین از بافتی مشابه شانه عسل در ساخت لاستیک‌های مخصوص زمستان یا تخته اسنوبورد استفاده می‌شود.



خداوند متعال این حقیقت علمی را این‌چنین به زنبور عسل الهام فرموده است: و پروردگار تو به زنبور عسل الهام کرد: از کوه‌ها، درخت‌ها و بناها خانه‌هایی برای خود بگیر؛ سپس از تمام ثمرات (و شیرۀ گل‌ها) بخور و راه‌های پروردگارت را به اطاعت ببیما. آنگاه از درون آنها، شربتی رنگارنگ خارج می‌شود که در آن، شفا و درمان برای مردم است. به‌راستی در این امر، برای مردم اندیشمند نشانه‌ای است.

سورة نحل آیات ۶۸ و ۶۹

تحقیقات بسیاری درباره الگوهای ریاضی موجود در مسیر حرکت زنبورها و دیگر ابعاد زندگی آنها انجام شده است. ساده‌ترین رابطه ریاضی که می‌توان مشاهده کرد، رابطه بین تعداد حجره



یا سلول‌ها (شش ضلعی‌ها) با شماره حلقه‌های دور یک سلول است که با یک تابع چندجمله‌ای از درجه ۲ نمایش داده می‌شود. اگر n شماره حلقه باشد، $Q(n) = 3n^2 - 3n + 1$ تابعی است که به کمک آن می‌توان تعداد حجره‌ها را پیدا کرد.

استاندارد ارزشیابی مبتنی بر شایستگی پودمان دوم

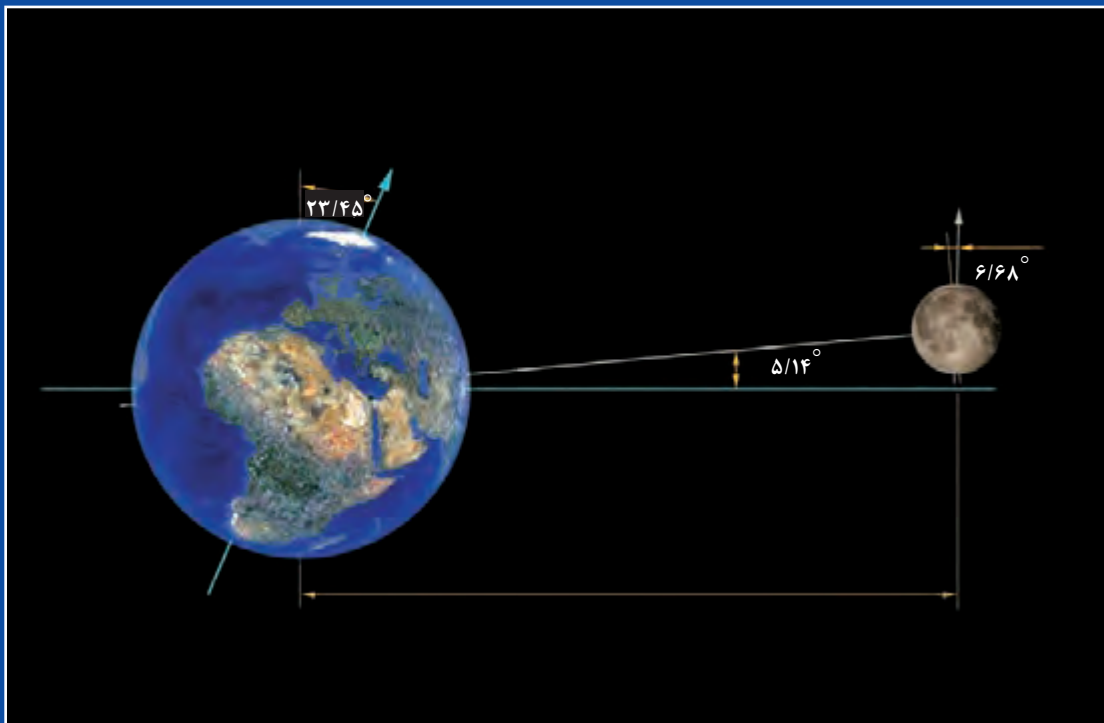
عنوان پودمان	شایستگی‌های مورد انتظار (واحدهای یادگیری)	استاندارد عملکرد (کیفیت)	سطح احراز شایستگی	شاخص تحقق
کاربرد تابع‌های خطی و درجه دوم در حل معادله‌ها و نامعادله‌ها	فهم تابع خطی و تابع درجه دوم سواد کاربرد تابع‌ها در حل معادله و نامعادله	مدل‌سازی و حل مسائل مرتبط با تابع خطی و درجه دوم و کاربرد آنها در حل معادله و نامعادله	بالاتر از حد انتظار	اجرای شایسته فعالیت‌های مکمل که انجام آنها، نیل به حد بالاتر از انتظار در شایستگی را برای هنرآموز محرز نماید.
			در حد انتظار	حل مسائل معادله و نامعادله به کمک تابع خطی و درجه دوم
			پایین‌تر از حد انتظار	در صورتی که هنرجو حتی یکی از شاخص‌های در حد انتظار را محقق ننماید، پایین‌تر از حد انتظار ارزشیابی می‌شود.
<p>لازم است تا کیفیت فرایند شایستگی (بر اساس انجام فعالیت‌های کلاسی، نظم، رعایت توصیه‌های زیست‌محیطی، ایمنی و بهداشت، مشارکت در فعالیت‌های آموزشی و تربیتی، ابتکار در تکالیف عملکردی درسی، مشارکت در فعالیت‌های گروهی و جمعی و...) در نظر گرفته شود.</p>				
<p>سطح شایستگی کسب شده در پودمان (بالاتر از حد انتظار، در حد انتظار، پایین‌تر از حد انتظار)</p>				





پودمان سوم

سواد نسبت‌های مثلثاتی زاویه‌ها



حرکات چرخشی در طبیعت بسیار رخ می‌دهند و برای تبیین ریاضی آنها لازم است مفهوم زاویه‌ها را گسترش دهیم و نسبت‌های مثلثاتی را برای آنها تعریف کنیم.



دیروز، مجید به همراه خانواده خود به شهر بازی رفته بود. در آنجا چرخ و فلک بزرگی بود که مجید و بقیه جوان ترها سوار یکی از کابین های آن شدند. بقیه روی نیمکت نشستند و از پایین آنها را تماشا می کردند. چرخ و فلک برای پیاده و سوار کردن افراد گاهی می ایستاد و سپس حرکت می کرد. پدر مجید که روی نیمکت نشسته بود آنها را گم کرد. او با تلفن همراه خود با مجید تماس گرفت تا بداند آنها کجا هستند. مجید نمی دانست چگونه موقعیت خود را بیان کند تا پدرش جای او را پیدا کند. او با خود فکر کرد که چگونه می توان موقعیت کابین های چرخ و فلک را توصیف کرد.

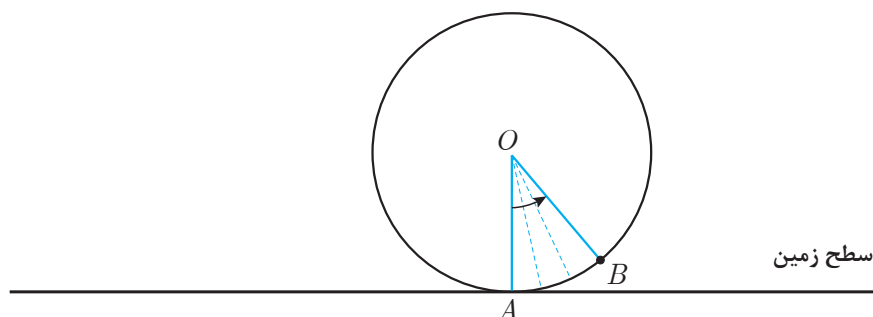
روز بعد، او این سؤال را در کلاس درس ریاضی مطرح کرد. دبیر از هنرجویان خواست تا در این مورد فکر کنند و نظر خود را بیان کنند.

آرمان گفت: به نظر من دانستن ارتفاع کابین از سطح زمین مهم است. ما می توانیم در هر لحظه با مشخص کردن ارتفاع کابین، موقعیت آن را مشخص کنیم.

سعید گفت: ولی من فکر نمی کنم فقط با داشتن ارتفاع کابین بتوان موقعیت آن را مشخص کرد، ممکن است کابین در سمت چپ یا راست چرخ و فلک باشد؛ یعنی، برخی کابین ها با اینکه ارتفاع یکسان دارند، جایشان متفاوت است. شاید بهتر باشد مسافت طی شده کابین روی مسیر دایره ای را اندازه گیری کنیم. اگر مسافت طی شده از نقطه شروع معلوم باشد، موقعیت کابین هم مشخص می شود.

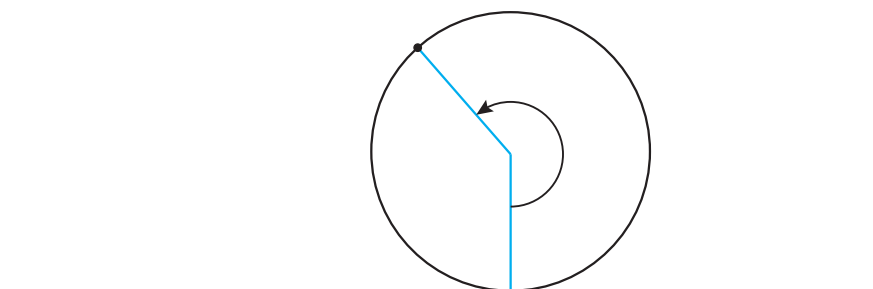
دبیر گفت: بله، با مشخص شدن مسافت طی شده، موقعیت کابین کاملاً مشخص می شود؛ مثلاً اگر شعاع دایره چرخ و فلک 10 متر باشد و مسافت طی شده از نقطه شروع 10π متر باشد، معلوم می شود کابین به بالاترین نقطه خود رسیده است و اگر مسافت طی شده 20π متر باشد، معلوم می شود کابین یک دور کامل زده و به نقطه شروع برگشته است. ولی یافتن مسافت طی شده دشوار است. آیا راه ساده تری برای

توصیف موقعیت کابین می توان پیدا کرد؟
 حمید گفت: فکر کنم اگر زاویه طی شده توسط کابین را بدانیم، می توانیم مسافت طی شده را بیابیم.
 دبیر گفت: منظورت از زاویه طی شده چیست؟
 حمید گفت: اگر اجازه دهید، شکل آن را روی تخته بکشم و از روی شکل توضیح دهم.



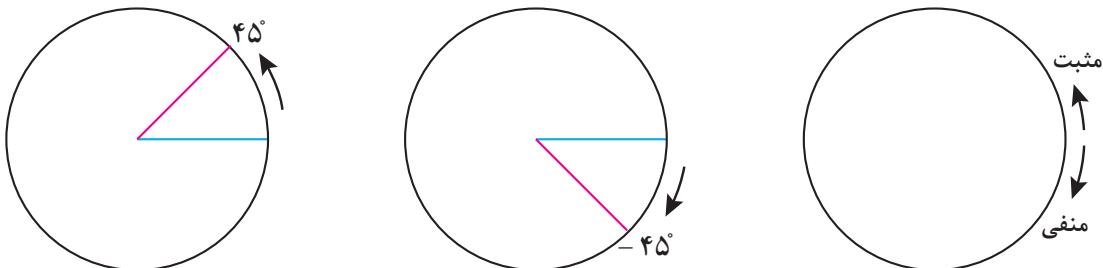
می توانیم تصور کنیم چرخ و فلک همانند یک دایره و یک کابین آن مانند نقطه‌ای از این دایره (نقطه B) است. اگر شعاع ثابتی را در نظر بگیریم که از مرکز دایره (نقطه O) به نقطه شروع حرکت (نقطه A) وصل شده باشد، زاویه بین دو شعاع OA و OB را می توانیم زاویه طی شده، با حرکت از A به B در نظر بگیریم. در شروع حرکت، این دو شعاع بر هم منطبق اند و زاویه بین آنها را می توان صفر در نظر گرفت و رفته رفته با حرکت کابین، اندازه این زاویه بیشتر می شود.

دبیر گفت: خیلی خوب است. اندازه گیری این زاویه ساده تر از اندازه گیری مسافت طی شده است. (چرا؟) آیا می توان مستقیماً از همین زاویه برای مشخص کردن موقعیت کابین استفاده کرد؟
 سعید گفت: بله، دانستن اندازه زاویه طی شده برای مشخص کردن موقعیت کابین کافی است، فقط یک مشکل وجود دارد. بعد از آنکه کابین بیش از یک نیم دور بزند (بیش از 180° درجه)، زاویه بین این دو شعاع چه معنایی دارد؟ (مانند شکل زیر)

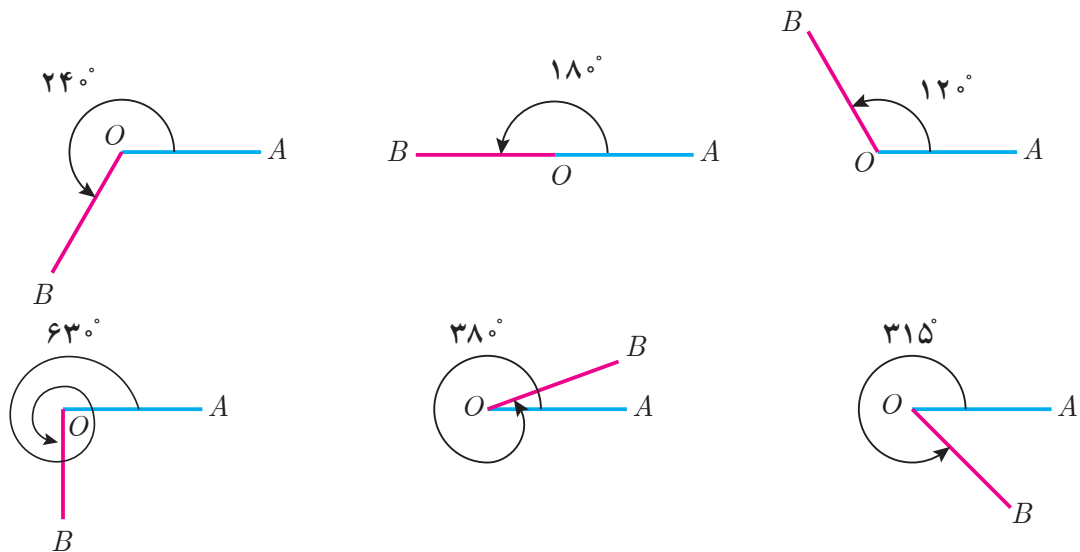


دبیر گفت: زاویه هایی که با چرخش ایجاد می شوند، می توانند از 180° درجه هم بیشتر شوند و هر مقداری باشند. این زاویه ها را **زاویه چرخش** می نامند؛ مثلاً با چرخش به اندازه یک دور کامل، زاویه چرخش، 360° درجه خواهد بود.

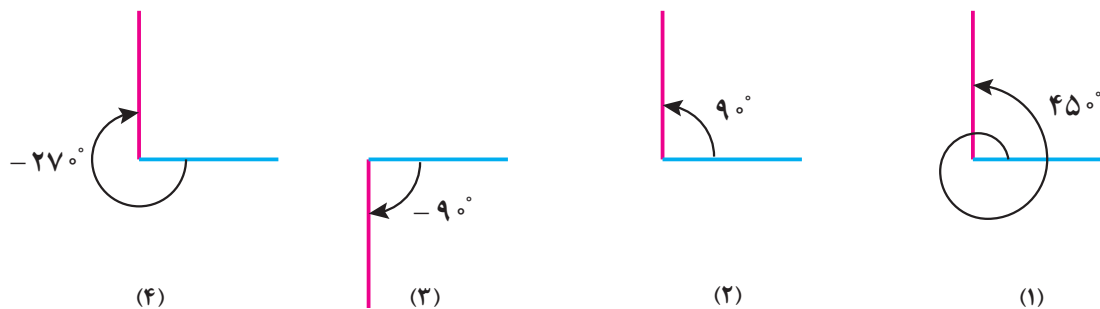
مجید گفت: وقتی چرخ و فلک یک دور زده است، باید بگوییم 360° درجه چرخیده‌ایم. اما، اگر چرخ و فلک دورهای بیشتری بزند، زاویه چرخش چقدر خواهد بود؟
 حمید گفت: فکر کنم به ازای هر دور باید 360° درجه چرخش حساب کنیم؛ یعنی ۲ دور چرخش برابر 720° درجه چرخش و اگر ۱۰ دور زده باشیم باید بگوییم 3600° درجه چرخیده‌ایم.
 مجید گفت: وقتی سوار چرخ و فلک بودیم چند بار چرخ و فلک در جهت برعکس نیز حرکت کرد، زاویه چرخش در جهت برعکس را چگونه حساب کنیم؟ آیا می‌توانیم اندازه زاویه چرخش در جهت برعکس را عددی منفی در نظر بگیریم؟
 دبیر گفت: بله، منفی در نظر گرفتن اندازه زاویه چرخش در جهت برعکس بسیار طبیعی است و ما می‌توانیم زاویه‌های با مقدار منفی هم داشته باشیم. درست مثل محور اعداد که یک جهت را جهت مثبت و خلاف آن را جهت منفی در نظر گرفتیم، در اینجا نیز یک جهت چرخش را جهت مثبت و جهت خلاف آن را جهت منفی می‌نامند.
 مجید گفت: چه جالب! اما کدام جهت را مثبت و کدام جهت را منفی در نظر بگیریم؟
 دبیر گفت: انتخاب جهت چرخش مثبت یا منفی قراردادی است. طبق قرارداد، در یک صفحه، چرخش در جهت خلاف حرکت عقربه‌های ساعت را **مثبت** و چرخش در جهت موافق حرکت عقربه‌های ساعت را **منفی** در نظر می‌گیرند.



زاویه‌های با مقدار منفی را زاویه منفی می‌نامند و دو زاویه را که مقدار آنها قرینه یکدیگرند، دو زاویه قرینه می‌نامند؛ مثلاً دو زاویه با مقدارهای 45° و -45° ، قرینه یکدیگرند.
 زاویه را می‌توان به عنوان چرخش یک نیم خط نسبت به یک نیم خط دیگر هم در نظر گرفت. در شکل‌های صفحه بعد، نیم خط OA ثابت است و نیم خط OB حول نقطه O در حال چرخش در جهت مثبت است. در این شکل‌ها، مقدار زاویه چند چرخش خاص بر حسب درجه نشان داده شده است. توجه داشته باشید که زاویه چرخش یک مفهوم فقط هندسی نیست و در آن از مفهوم حرکت و جهت حرکت نیز استفاده می‌شود.

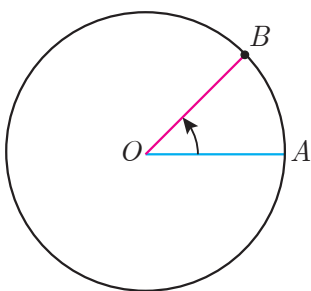


اگر جهت چرخش، منفی (موافق حرکت عقربه‌های ساعت) باشد، مقدار زاویه‌های چرخش را به صورت منفی در نظر می‌گیریم؛ برای مثال در شکل‌های زیر، مقدار زاویه‌های چرخش (۳) و (۴) که در جهت منفی هستند، عددی منفی است.



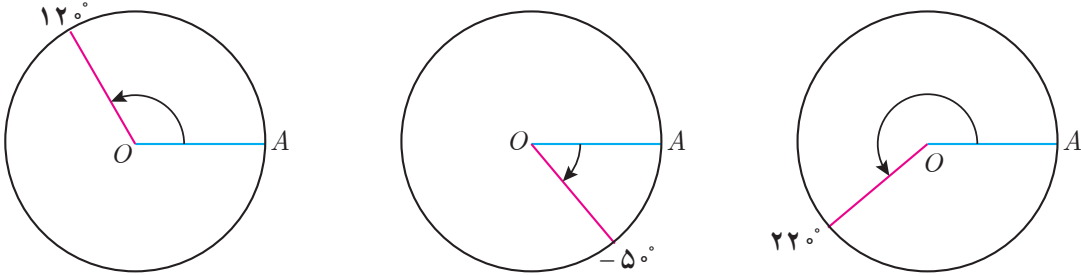
توجه داشته باشید که برای مشخص شدن زاویه چرخش بین دو نیم‌خط، دانستن وضعیت قرار گرفتن آن دو نیم‌خط کافی نیست و باید معلوم باشد کدام نیم‌خط در کدام جهت و چند دور چرخش کرده است؛ برای مثال در حالت‌های (۱) و (۲) و (۴) وضعیت قرارگرفتن نیم‌خط‌ها مانند یکدیگر است، ولی هر کدام زاویه‌های چرخش متفاوتی دارند.

مفهوم زاویه چرخش را در یک دایره نیز می‌توان توصیف کرد. اگر یک دایره و روی آن نقطه‌ای به‌عنوان مبدأ حرکت مانند A در نظر بگیریم، با حرکت یک نقطه مانند B از این مبدأ (مانند شکل روبه‌رو)، شعاع OB حول نقطه O چرخش می‌کند و زاویه‌ای با شعاع OA می‌سازد. مقدار این زاویه را زاویه چرخش نقطه B از مبدأ A می‌نامند. پس هرگونه حرکت نقطه B روی دایره، یک زاویه چرخش را معین می‌کند و هر زاویه چرخشی، نقطه‌ای متناظر روی دایره خواهد داشت.

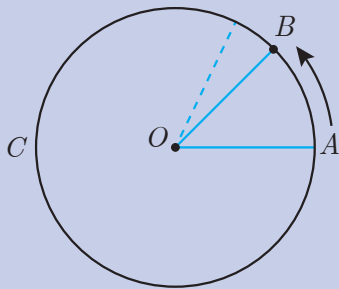


مثال ۱

نقاط متناظر زاویه‌های 120° درجه و 50° - درجه و 220° درجه در شکل‌های زیر مشخص شده‌اند.



کار در کلاس ۱



دوچرخه‌سواری در یک مسیر دایره‌ای شکل، از نقطه A طبق شکل روبه‌رو، با سرعت ثابت شروع به حرکت می‌کند و چندین بار این دایره را دور می‌زند. او یک دور این دایره را در ۳ دقیقه طی می‌کند.

۱ دوچرخه‌سوار، $\frac{1}{4}$ این دایره را در چند دقیقه طی می‌کند؟ مکان او را روی دایره بالا با یک نقطه مشخص کنید.

۲ اگر دوچرخه‌سوار پس از ۲۰ ثانیه ($\frac{1}{3}$ دقیقه) به نقطه B رسیده باشد، زاویه بین دو شعاع OA و OB چند درجه است؟

۳ این دوچرخه‌سوار پس از ۳ دقیقه و ۲۰ ثانیه در چه نقطه‌ای از دایره قرار می‌گیرد؟

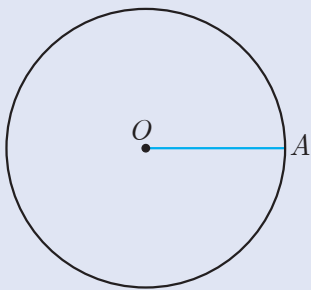
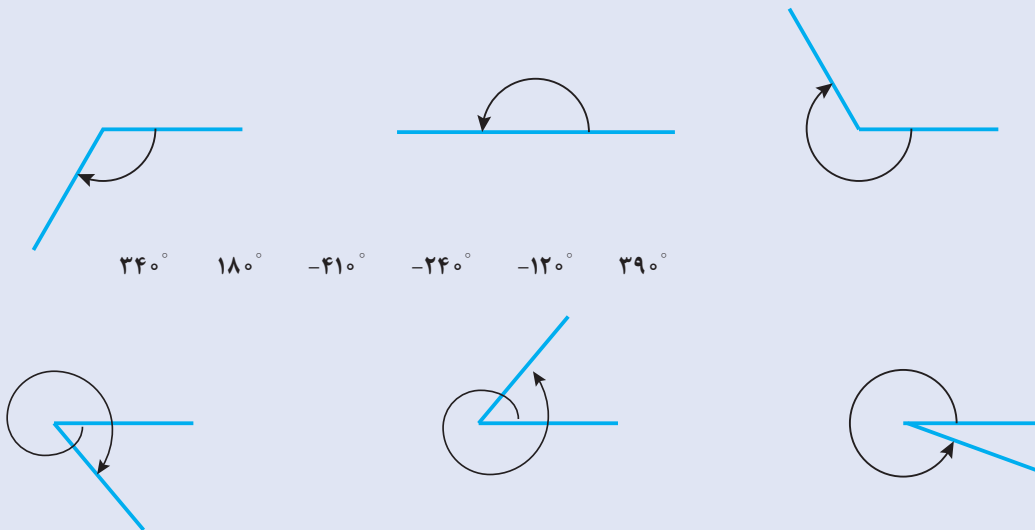
۴ اگر یک دوربین فیلم‌برداری از مرکز دایره به دوچرخه‌سوار نگاه کند، در هر دقیقه چند درجه چرخش می‌کند؟

۵ جدول زیر را تکمیل کنید. در هر زمان، مکان دوچرخه را روی شکل نشان دهید و وضعیت او را توصیف کنید.

زمان حرکت دوچرخه بر حسب دقیقه	۲	۴	۵	۶/۵	۷	۱۳
زاویه چرخش دوربین						



۱ در شکل‌های زیر چند زاویه چرخش رسم شده‌اند. زاویه‌های چرخش داده شده را به شکل‌های صحیح آن وصل کنید.



۲ در دایره مقابل، نقطه A مبدأ در نظر گرفته شده است. نقاط متناظر زاویه‌های 5° و 145° و 300° و 460° و -60° و -180° درجه را روی این دایره نشان دهید.

۳ وضعیت دو نیم‌خط که زاویه چرخش آنها صفر درجه است چگونه است؟

۴ اگر دونه‌ای ۵ بار روی یک مسیر دایره‌ای شکل در جهت مثبت بدود، زاویه چرخش او نسبت به نقطه شروع چند درجه است؟

۵ یک دایره و یک مبدأ روی آن انتخاب کنید. نقاط متناظر دو زاویه چرخش 120° و -120° درجه را روی آن بیابید. از لحاظ هندسی، این نقاط چه وضعیتی نسبت به هم دارند. دو زاویه قرینه دیگر مثال بنویسید و وضعیت نقاط متناظر آنها نسبت به هم را توصیف کنید. آیا این وضعیت برای هر دو زاویه که قرینه هم باشند برقرار است؟

واحد اندازه‌گیری زاویه: رادیان

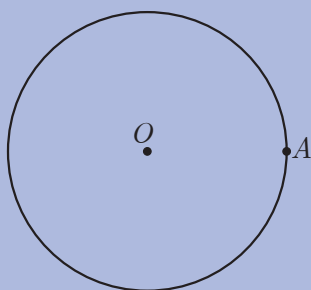
در مسئله تعیین موقعیت کابین‌های یک چرخ و فلک، سعید پیشنهاد کرده بود که مسافت طی شده توسط کابین برای شناختن موقعیت کابین به کار برده شود. او یاد گرفت که میزان زاویه چرخش کابین برای دانستن موقعیت کابین کافی است، ولی نکته مهمی نظر او را جلب کرد.

سعید گفت: به نظر می‌رسد مسافت طی شده توسط کابین و زاویه چرخش آن، با هم رابطه دارند و با داشتن هر کدام می‌توان دیگری را حساب کرد. رابطه بین این دو کمیت را چگونه به دست آوریم؟ دبیر گفت: بله این دو کمیت، متناسب مستقیم هستند و فعالیت زیر می‌تواند رابطه بین این دو کمیت را مشخص کند.

گفتگو



فعالیت ۱



دایره‌ای را به شعاع r در نظر بگیرید و روی آن نقطه A را به عنوان مبدأ در نظر بگیرید. ۱ اگر از مبدأ، در جهت مثبت، شروع به حرکت کنیم، پس از طی یک دور کامل، زاویه چرخش چند درجه است؟ مسافت طی شده چقدر است؟

۲ به ازای هر یک درجه زاویه چرخش، مسافت طی شده چقدر است؟

۳ اگر D ، زاویه چرخش بر حسب درجه و L ، مسافت طی شده باشد، نسبت $\frac{L}{D}$ چقدر است؟

۴ رابطه‌ای بنویسید که D را بر حسب L بیان کند و رابطه‌ای بنویسید که L را بر حسب D بیان کند.

فعالیت (۱) نشان می‌دهد که زاویه چرخش یک نقطه از یک دایره و کمان طی شده توسط آن نقطه، دو کمیت متناسب مستقیم هستند. بنابر این، نسبت $\frac{L}{D}$ ، که D زاویه چرخش نقطه و L طول کمان طی شده آن نقطه است، مقداری ثابت است. در یک دایره به شعاع r ، چرخش به اندازه 360° درجه،

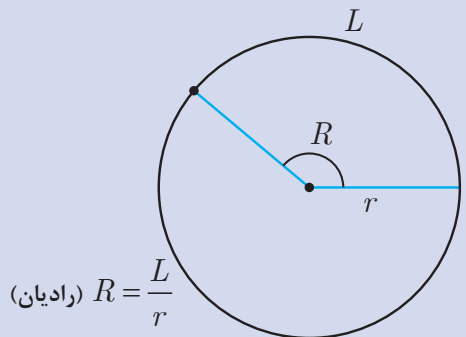
۱- مسیر حرکت روی یک دایره، کمانی از آن دایره است و مسیر طی شده را کمان طی شده می‌نامند.

معادل کل محیط دایره، یعنی $2\pi r$ است، پس $\frac{L}{D} = \frac{2\pi r}{360}$. بنابراین، می‌توانیم بنویسیم:

$$\frac{L}{r} = \frac{\pi}{180} D \quad \text{و} \quad D = \frac{180}{\pi} \times \frac{L}{r}$$

این تساوی‌ها نشان می‌دهند که $\frac{L}{r}$ (نسبت طول کمان طی‌شده به شعاع دایره) مضربی از اندازه زاویه است.

با مشخص بودن $\frac{L}{r}$ ، زاویه چرخش کاملاً معین است. بنابراین، می‌توان $\frac{L}{r}$ را به‌عنوان واحد دیگری برای اندازه‌گیری زاویه در نظر گرفت. این واحد اندازه‌گیری را **رادیان** می‌نامند.



اگر نقطه‌ای از یک دایره به شعاع r ، کمانی به طول L را در جهت مثبت طی کند، مقدار $\frac{L}{r}$ را اندازه زاویه چرخش آن نقطه، بر حسب رادیان می‌نامند. برای زاویه‌های منفی، $-\frac{L}{r}$ را مقدار آن زاویه بر حسب رادیان می‌نامند.



دایره‌ای که شعاع آن ۱ واحد است، **دایره واحد** نامیده می‌شود. در دایره واحد، طول کمان طی شده، همان اندازه زاویه چرخش بر حسب رادیان است. در تساوی‌های زیر:

$$\frac{L}{r} = \frac{\pi}{180} D \quad \text{و} \quad D = \frac{180}{\pi} \times \frac{L}{r}$$

$\frac{L}{r}$ همان اندازه زاویه بر حسب رادیان است. اگر اندازه یک زاویه بر حسب رادیان را با R و اندازه آن زاویه بر حسب درجه را با D نشان دهیم، این تساوی‌ها به صورت زیر در می‌آیند.

$$D = \frac{180}{\pi} R \quad \text{و} \quad R = \frac{\pi}{180} D$$

این تساوی‌ها نشان می‌دهند، ضریب تبدیل رادیان به درجه $\frac{180}{\pi}$ و ضریب تبدیل درجه به رادیان $\frac{\pi}{180}$ است.

مثال ۲

۱۸۰ درجه معادل چند رادیان است؟

راه حل اول: چرخش به اندازه ۱۸۰ درجه، معادل پیمودن نصف محیط دایره با شعاع واحد (دایره واحد) است که برابر π واحد است. پس ۱۸۰ درجه، معادل π رادیان یعنی تقریباً $3/14$ رادیان است. راه حل دوم: با استفاده از رابطه بین واحد رادیان و درجه داریم:

$$R = \frac{\pi}{180} \times D = \frac{\pi}{180} \times 180 = \pi \approx 3/14$$

مثال ۳

۱ رادیان، چند درجه است؟

با استفاده از رابطه بین واحدهای درجه و رادیان داریم:

$$D = \frac{180}{\pi} \times R = \frac{180}{\pi} \times 1 \approx \frac{180}{3/14} \approx 57/3$$

یعنی، ۱ رادیان تقریباً معادل ۵۷ درجه است.

مثال ۴

۱ درجه معادل چند رادیان است؟

با استفاده از رابطه بین واحدهای درجه و رادیان داریم:

$$R = \frac{\pi}{180} \times 1 \approx \frac{3/14}{180} \approx 0/017$$

پس، هر درجه، تقریباً معادل ۰/۰۱۷ رادیان است.

حالا که دو واحد متفاوت برای اندازه‌گیری زاویه‌ها در اختیار داریم باید در بیان اندازه زاویه‌ها، واحد به کار رفته ذکر شود؛ مثلاً زاویه ۴۰ درجه و زاویه ۴۰ رادیان، دو زاویه متفاوت هستند. ۴۰ رادیان برابر $40 \times \frac{180}{\pi}$ درجه، یعنی تقریباً ۲۲۹۲ درجه است. همچنین π رادیان با π درجه متفاوت است؛ زیرا π رادیان معادل ۱۸۰ درجه است و π درجه تقریباً $3/14$ درجه است.

معمولاً در زاویه‌هایی که برحسب رادیان بیان می‌شوند، نماد π به کار می‌رود؛ مثلاً زاویه ۳۰ درجه برحسب رادیان، $\frac{\pi}{6}$ رادیان است. به همین دلیل در بیان اندازه یک زاویه، اگر نماد π در آن باشد، منظور آن است که واحد زاویه، رادیان است؛ مگر آنکه صریحاً گفته شود که واحد زاویه درجه است.

مثال ۵

زاویه $\frac{\pi}{۲}$ یعنی $\frac{\pi}{۲}$ رادیان که معادل ۹۰ درجه است. زاویه $\frac{۵\pi}{۶}$ یعنی $\frac{۵\pi}{۶}$ رادیان که معادل ۱۵۰ درجه است. زیرا:

$$\frac{\pi}{۲} \times \frac{۱۸۰}{\pi} = ۹۰ \quad \text{و} \quad \frac{۵\pi}{۶} \times \frac{۱۸۰}{\pi} = ۱۵۰$$

کاردکلاس ۲



۱ زاویه‌های ۳۰ و ۴۵ و ۶۰ و ۹۰ درجه را بر حسب رادیان بنویسید.

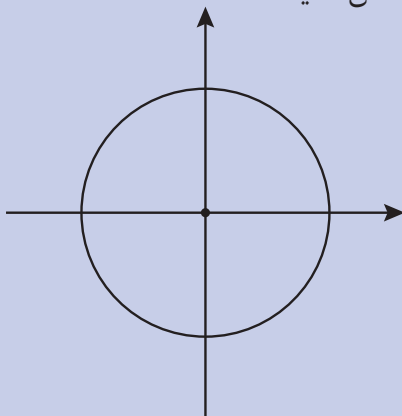
.....

۲ در جدول زیر تعدادی زاویه بر حسب درجه و رادیان داده شده است. معادل آنها را بر حسب واحد دیگر بیابید و جدول را کامل کنید.

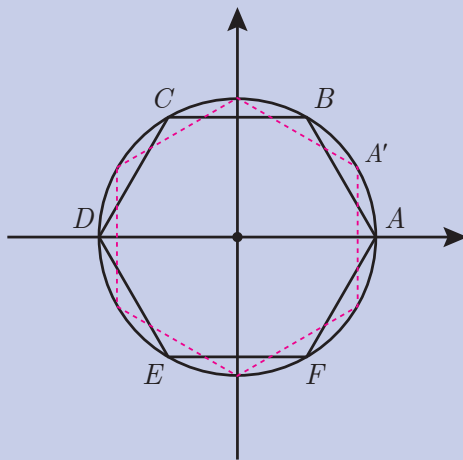
درجه	۵۵		-۲۷۰	۳۶۰۰	
رادیان		$\frac{۱۱\pi}{۳}$			$-\frac{۱۵\pi}{۴}$

.....

۳ نقاط متناظر زاویه‌های $\frac{۷\pi}{۳}$ ، ۰ ، $-\frac{\pi}{۳}$ ، ۲π ، $\frac{\pi}{۲}$ ، $\frac{۳\pi}{۲}$ ، $-\pi$ ، π ، $\frac{-۵\pi}{۶}$ ، $\frac{\pi}{۶}$ را روی دایره زیر (بدون تبدیل به درجه) مشخص کنید.



۴ در شکل زیر یک شش ضلعی منتظم را داخل دایره رسم کرده‌ایم به گونه‌ای که یکی از رأس‌های آن روی نقطه متناظر زاویه صفر است (نقطه A).
 الف) بقیه رئوس این چندضلعی، متناظر چه زاویه‌هایی (بر حسب درجه) هستند؟



ب) اگر شش ضلعی بالا به اندازه 30° درجه در جهت مثبت دوران کند به طوری که رأس A به A' انتقال یابد، رئوس این چندضلعی جدید متناظر چه زاویه‌هایی هستند؟

واحد درجه برای اندازه‌گیری زاویه‌ها، یک واحد قراردادی است. اگر زاویه راست را به 90° قسمت مساوی تقسیم کنیم، هر قسمت را 1° درجه می‌نامند. شاید این سؤال پیش بیاید که چرا به 100° قسمت مساوی تقسیم نکنیم؟ البته این کار را می‌کنند و با تقسیم زاویه راست به 100° قسمت مساوی، هر قسمت را 1° گراد می‌نامند که واحد دیگری برای اندازه‌گیری زاویه است؛ اما طول کمان طی شده در دایره واحد، مقداری طبیعی وابسته به زاویه است و به همین دلیل واحد مناسب‌تری است و در جایی که به رابطه بین طول کمان دایره و زاویه کمان نیاز داریم با این واحد جدید رابطه بهتری به دست می‌آید.

خواندنی

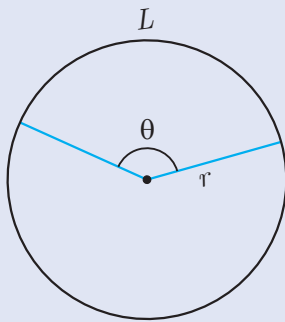




۱ زاویه‌های ۱۵، ۱۹۰، ۵۳۰، و ۱۰۰۰- درجه را بر حسب رادیان بنویسید.

۲ زاویه‌های $\frac{\pi}{7}$ ، $\frac{4\pi}{3}$ ، $-\frac{8\pi}{3}$ ، $\frac{-14\pi}{5}$ را بر حسب درجه بنویسید.

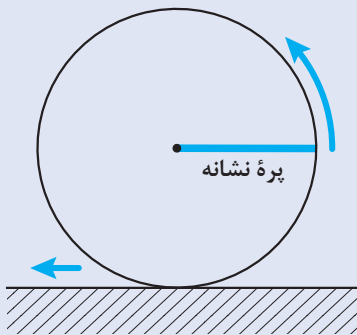
۳ اگر یک نیم‌خط بعد از چرخش روی حالت اول خود منطبق شود، توضیح دهید زاویه چرخش آن بر حسب رادیان چه مقادیری می‌تواند باشد؟



۴ در یک دایره به شعاع r ، اگر زاویه یک کمان بر حسب رادیان، θ باشد، طول این کمان بر حسب r و θ چقدر است؟

۵ در یک چرخ و فلک به شعاع ۱۰ متر، اگر یک کابین نسبت به حالت اولیه خود، به اندازه ۱ رادیان چرخیده باشد، چه مسافتی را طی کرده است؟ اگر مسافت طی شده توسط کابین ۷۰ متر باشد، زاویه چرخش کابین بر حسب رادیان و درجه چقدر است؟

۶ طول پره‌های یک چرخ، ۰/۵ متر است. این چرخ را روی زمین بدون لغزش می‌چرخانیم. با مثبت در نظر گرفتن جهت چرخش،



الف) پس از طی ۱۰۰ متر مسافت، زاویه چرخش پره نشانه نسبت به حالت اولیه‌اش (بر حسب درجه و رادیان) چقدر است؟

ب) اگر یکی از پره‌ها ۳۰۰۰ درجه چرخش کرده باشد، چرخ چند متر طی کرده است؟

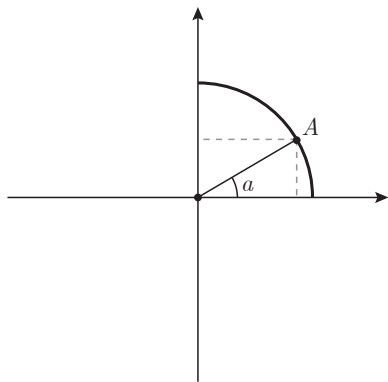
پ) تحقیق کنید که کیلومترشمار ماشین، مسافت طی شده را چگونه نشان می‌دهد؟

نسبت‌های مثلثاتی زاویه‌های دلخواه

گفتگو



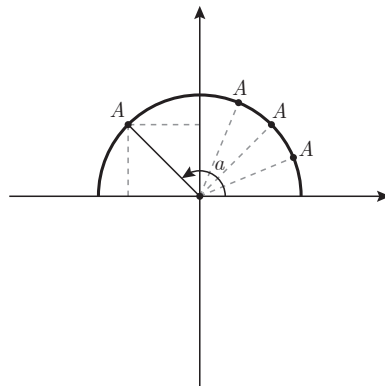
با یادگیری مفهوم زاویهٔ چرخش، برای مونا سوآلی پیش آمد. مونا گفت: سال گذشته، نسبت‌های مثلثاتی زاویه‌های تند به کمک مثلث‌های قائم‌الزاویه تعریف شدند. آیا نسبت‌های مثلثاتی سینوس، کسینوس و تانژانت زاویه‌های دلخواه هم قابل تعریف هستند؟ برای زاویهٔ باز که نمی‌توان مثلث قائم‌الزاویه رسم کرد، در این حالت، نسبت‌های مثلثاتی زاویه‌های باز چگونه قابل تعریف است و چه معنایی خواهند داشت؟



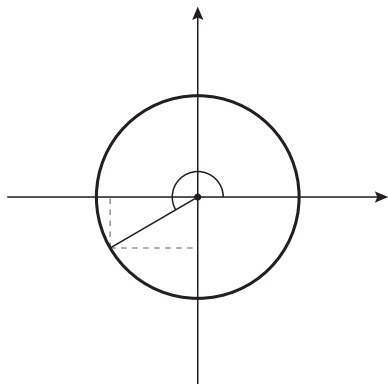
دبیر گفت: سال گذشته، تعبیر نسبت‌های مثلثاتی زاویه‌های تند را در یک ربع دایره بررسی کردیم. شاید از طریق تعبیر نسبت‌های مثلثاتی در یک ربع دایره، بتوانید برای این پرسش جوابی بیابید. بهتر است مجدداً مفهوم نسبت‌های مثلثاتی زاویه تند را در یک ربع دایره بررسی کنید. در صفحهٔ مختصات، یک ربع دایرهٔ واحد مانند شکل روبه‌رو رسم کنید و روی آن نقطهٔ A و زاویهٔ تند α را در نظر بگیرید.

آیا می‌توانید بین نسبت‌های مثلثاتی زاویهٔ تند α و مختصات نقطهٔ متناظر آن (A)، رابطه‌ای بیابید؟ مونا گفت: با توجه به مثلث‌های قائم‌الزاویه‌ای که در شکل دیده می‌شوند، طول نقطهٔ A همان $\cos \alpha$ و عرض نقطهٔ A همان $\sin \alpha$ است.

دبیر گفت: حال فرض کنید به جای ربع دایرهٔ واحد، یک نیم‌دایرهٔ واحد داشته باشیم. اگر نقطهٔ A حرکت کند و از ربع اول دایره به ربع دوم برود، چه اتفاقی برای نسبت‌های مثلثاتی زاویهٔ α و مختصات نقطهٔ A می‌افتد؟

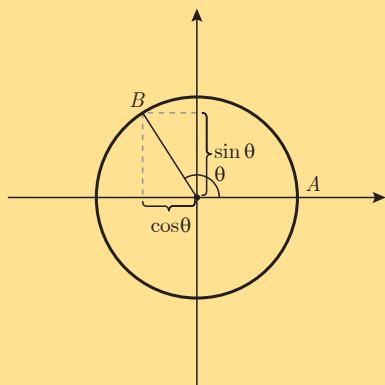


سارا گفت: تا زمانی که در ربع اول دایره هستیم، کسینوس و سینوس زاویهٔ α به ترتیب، همان طول و عرض نقطهٔ A هستند. اما، وقتی وارد ربع دوم می‌شویم، برای نسبت‌های مثلثاتی زاویه‌های باز، هنوز



تعریفی نداریم، ولی مختصات نقاط متناظر این زاویه‌ها را می‌توانیم حساب کنیم. آیا می‌شود همانند زاویه‌های تند در ربع اول، مختصات نقاط متناظر زاویه‌های باز را به عنوان کسینوس و سینوس این زاویه‌ها تعریف کنیم؟
 مونا گفت: ولی طول نقاط متناظر زاویه‌های باز، منفی است. آیا کسینوس یک زاویه می‌تواند منفی باشد؟
 دبیر گفت: بله، حدس سارا درست است و ریاضی‌دان‌ها، سینوس و کسینوس زاویه‌های باز را به همین شکل تعریف می‌کنند و منفی شدن سینوس یا کسینوس زاویه‌ها مشکلی ندارد.

مونا گفت: آیا برای بقیه زاویه‌های چرخش هم می‌توان همین تعریف را به کار برد؟
 معلم گفت: بله، برای هر زاویه چرخش در دایره واحد، طول نقطه متناظر آن را کسینوس آن زاویه و عرض آن را سینوس آن زاویه، تعریف می‌کنند.



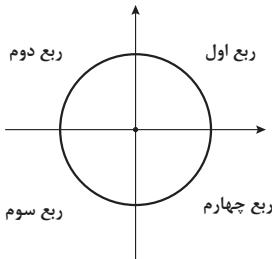
در صفحه مختصات، دایره واحد به مرکز مبدأ مختصات را در نظر می‌گیریم. نقطه A به مختصات $\begin{bmatrix} 1 \\ 0 \end{bmatrix}$ را به عنوان مبدأ برای اندازه‌گیری زاویه در نظر می‌گیریم. اگر نقطه متناظر زاویه چرخش θ باشد، طول B را $\cos\theta$ و عرض B را $\sin\theta$ می‌نامند.

از آنجا که کسینوس یک زاویه، طول نقطه متناظر آن زاویه و سینوس یک زاویه، عرض نقطه متناظر آن زاویه است، محور افقی را محور کسینوس‌ها و محور عمودی را محور سینوس‌ها می‌نامند. در این حالت در شکل بالا، دایره واحد به مرکز مبدأ مختصات را دایره مثلثاتی می‌نامند و نقطه $\begin{bmatrix} 1 \\ 0 \end{bmatrix}$ مبدأ اندازه‌گیری زاویه‌ها است.

مثال ۶

برای زاویه‌های خاص 0° ، 90° ، 180° و 270° درجه که به ترتیب نقاط متناظر آنها دارای مختصات
 هستند، نتیجه می‌شود: $\begin{bmatrix} 0 \\ 1 \end{bmatrix}$ ، $\begin{bmatrix} 0 \\ -1 \end{bmatrix}$ و $\begin{bmatrix} -1 \\ 0 \end{bmatrix}$ ، $\begin{bmatrix} 1 \\ 0 \end{bmatrix}$

θ نسبت مثلثاتی	0°	90° یا $\frac{\pi}{2}$ رادیان	180° یا π رادیان	270° یا $\frac{3\pi}{2}$ رادیان
$\sin\theta$	0	1	0	-1
$\cos\theta$	1	0	-1	0



معمولاً دایره مثلثاتی را به چهار قسمت تقسیم می‌کنند و طبق شکل مقابل این چهار قسمت را ربع‌های اول، دوم، سوم و چهارم دایره مثلثاتی می‌نامند.

مثال ۷

نقطه متناظر با زاویه $2/23$ رادیان در کدام ربع قرار دارد؟

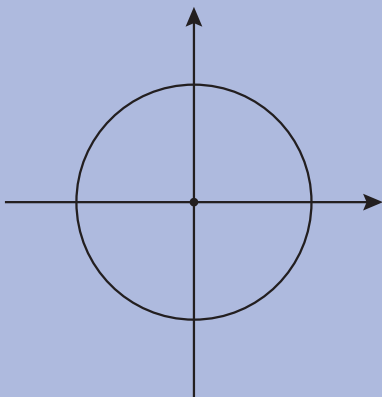
با توجه به آنکه $\frac{3}{2} = \frac{3/14}{2} \approx \frac{\pi}{2}$ و $\pi \approx 3/14$ ، داریم: $\frac{\pi}{2} < 2/23 < \pi$ و نقطه متناظر این زاویه در ربع دوم است.

مونا پرسید: سال گذشته، نسبت‌های مثلثاتی زاویه‌های تند را با رسم مثلث‌های قائم‌الزاویه به دست می‌آوردیم. اما، نسبت‌های مثلثاتی زاویه‌های باز را چگونه حساب کنیم؟
 دبیر گفت: با انجام فعالیت زیر می‌توانید سینوس و کسینوس زاویه‌های باز را حساب کنید.

گفتگو



فعالیت ۲



۱ فرض کنید θ یک زاویه تند بر حسب رادیان باشد، $\pi - \theta$ چه نوع زاویه‌ای است؟

۲ با رسم شکل، وضعیت نقاط متناظر دو زاویه θ و $\pi - \theta$ روی دایره مثلثاتی را نسبت به هم و محور سینوس‌ها مشخص کنید.

۳ سینوس این دو زاویه چه رابطه‌ای با هم دارند؟

۴ کسینوس این دو زاویه چه رابطه‌ای با هم دارند؟

برای هر زاویه تند θ (برحسب رادیان)، زاویه $\pi - \theta$ باز است و نقاط متناظر آنها روی دایره مثلثاتی نسبت به محور سینوس‌ها قرینه یکدیگرند. بنابراین:

$$\cos(\pi - \theta) = -\cos\theta, \quad \sin(\pi - \theta) = \sin\theta$$

نکته



البته این تساوی‌ها برای هر زاویه دلخواه θ نیز برقرارند. به کمک این تساوی‌ها، می‌توانید سینوس و کسینوس زاویه‌های باز را حساب کنید. توجه داشته باشید که در محاسبات با زاویه‌ها، همواره از یک واحد استفاده کنید؛ یا همه زاویه‌ها باید برحسب درجه باشند، یا همه زاویه‌ها باید برحسب رادیان باشند.

مثال ۸

سینوس و کسینوس زاویه ۱۵° درجه را حساب کنید. این زاویه باز به صورت $۱۵^\circ = ۱۸^\circ - ۳^\circ$ است، پس

$$\sin ۱۵^\circ = \sin(۱۸^\circ - ۳^\circ) = \sin ۳^\circ = \frac{1}{2}$$

$$\cos ۱۵^\circ = \cos(۱۸^\circ - ۳^\circ) = -\cos ۳^\circ = -\frac{\sqrt{3}}{2}$$

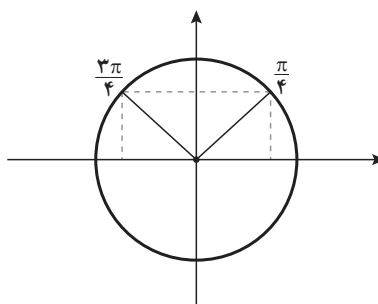
مثال ۹

سینوس و کسینوس زاویه $\frac{3\pi}{4}$ را حساب کنید.

این زاویه، یک زاویه باز است و نقطه متناظر آن در ربع دوم قرار دارد و داریم $\frac{3\pi}{4} = \pi - \frac{\pi}{4}$. پس نقطه متناظر با این زاویه، قرینه نقطه متناظر با زاویه $\frac{\pi}{4}$ نسبت به محور عمودی (محور سینوس‌ها) است. بنابراین:

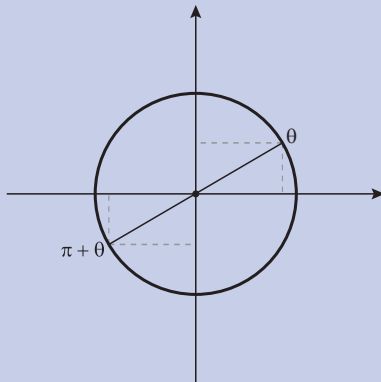
$$\sin \frac{3\pi}{4} = \sin\left(\pi - \frac{\pi}{4}\right) = \sin \frac{\pi}{4} = \frac{\sqrt{2}}{2}$$

$$\cos \frac{3\pi}{4} = \cos\left(\pi - \frac{\pi}{4}\right) = -\cos \frac{\pi}{4} = -\frac{\sqrt{2}}{2}$$





برای محاسبه سینوس و کسینوس زاویه‌های دیگر نیز می‌توان تساوی‌های مشابهی را به دست آورد.



۱ اگر زاویه‌ای در ربع اول دایره مثلثاتی باشد، نقطه متناظر زاویه $\pi + \theta$ در کدام ربع قرار دارد؟

.....

۲ وضعیت نقاط متناظر زاویه‌های θ و $\pi + \theta$ نسبت به هم چگونه است؟

.....

۳ طول و عرض این نقاط چه رابطه‌ای با هم دارند؟

.....

۴ نسبت‌های مثلثاتی این دو زاویه چه رابطه‌ای با هم دارند؟

.....

از پاسخ به سؤال‌های بالا نتیجه می‌شود که برای یک زاویه تند مانند θ داریم:

$$\sin(\pi + \theta) = -\sin \theta, \quad \cos(\pi + \theta) = -\cos \theta$$

نکته



البته این تساوی‌ها برای هر زاویه دلخواه θ نیز برقرارند.

مثال ۱۰

سینوس و کسینوس زاویه $\frac{7\pi}{6}$ را به دست آورید.

داریم: $\frac{7\pi}{6} = \pi + \frac{\pi}{6}$ ، پس نقطه متناظر این زاویه در ربع سوم قرار دارد. بنابراین:

$$\sin \frac{7\pi}{6} = \sin\left(\pi + \frac{\pi}{6}\right) = -\sin \frac{\pi}{6} = -\frac{1}{2}$$

$$\cos \frac{7\pi}{6} = \cos\left(\pi + \frac{\pi}{6}\right) = -\cos \frac{\pi}{6} = -\frac{\sqrt{3}}{2}$$

مثال ۱۱

سینوس و کسینوس زاویه ۲۴° درجه را حساب کنید.
 داریم: $۲۴^\circ = ۱۸^\circ + ۶^\circ$ ، پس نقطه متناظر این زاویه در ربع سوم است.

$$\sin ۲۴^\circ = \sin(۱۸^\circ + ۶^\circ) = -\sin ۶^\circ = -\frac{\sqrt{۳}}{۲}$$

$$\cos ۲۴^\circ = \cos(۱۸^\circ + ۶^\circ) = -\cos ۶^\circ = -\frac{۱}{۲}$$

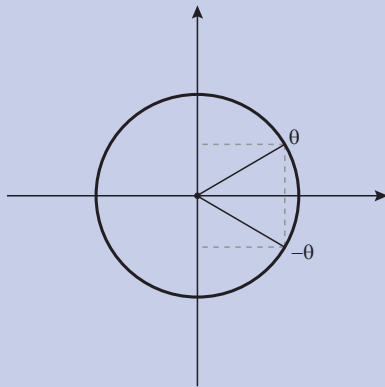
مونا پرسید: سینوس و کسینوس زاویه‌های منفی را چگونه حساب کنیم؟

دبیر گفت: کافی است ببینیم نقاط متناظر زاویه‌های θ و $-\theta$ در یک دایره مثلثاتی، چه وضعیتی نسبت به هم دارند.

گفتگو



کاردرکلاس ۴



۱ اگر زاویه‌ای در ربع اول دایره مثلثاتی باشد، نقطه متناظر زاویه $-\theta$ در کدام ربع قرار دارد؟

۲ وضعیت نقاط متناظر زاویه‌های θ و $-\theta$ نسبت به هم چگونه است؟

۳ طول و عرض این نقاط چه رابطه‌ای با هم دارند؟

۴ نسبت‌های مثلثاتی این دو زاویه چه رابطه‌ای با هم دارند؟

از پاسخ به سؤال‌های بالا نتیجه می‌شود که برای یک زاویه تند θ ، $\cos\theta$ و $\cos(-\theta)$ با هم مساوی‌اند ولی سینوس آنها قرینه یکدیگرند و داریم:

$$\sin(-\theta) = -\sin\theta, \cos(-\theta) = \cos\theta$$

نکته



البته این تساوی‌ها برای هر زاویه دلخواه θ نیز برقرارند.

مثال ۱۲

سینوس و کسینوس زاویه 30° درجه را حساب کنید.
داریم:

$$\sin(-30^\circ) = -\sin 30^\circ = -\frac{1}{2}, \quad \cos(-30^\circ) = \cos 30^\circ = \frac{\sqrt{3}}{2}$$

مثال ۱۳

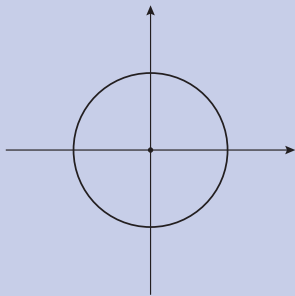
سینوس و کسینوس زاویه $\frac{-5\pi}{6}$ را حساب کنید. داریم:

$$\sin \frac{-5\pi}{6} = -\sin \frac{5\pi}{6} = -\sin(\pi - \frac{\pi}{6}) = -\sin \frac{\pi}{6} = -\frac{1}{2}$$

$$\cos \frac{-5\pi}{6} = \cos \frac{5\pi}{6} = \cos(\pi - \frac{\pi}{6}) = -\cos \frac{\pi}{6} = -\frac{\sqrt{3}}{2}$$

همچنین،

کارد کلاس ۵



۱ در شکل مقابل، نقاط متناظر زاویه‌های داده شده در جدول را روی دایره مثلثاتی مشخص کنید، سپس جدول را کامل کنید.

θ	$\frac{\pi}{3}$	$\frac{\pi}{3} + 2\pi$	$\frac{\pi}{3} + 4\pi$	$\frac{\pi}{3} - 2\pi$	$\frac{\pi}{3} - 4\pi$
نسبت مثلثاتی					
$\sin \theta$					
$\cos \theta$					

۲ اگر به یک زاویه مانند θ (بر حسب رادیان)، مضرب صحیحی از 2π را اضافه یا کم کنیم، نقطه متناظر زاویه جدید و θ چه وضعیتی نسبت به هم دارند؟

۳ با ذکر دلیل، نتیجه بگیرید اگر به زاویه‌ای (بر حسب رادیان)، مضارب صحیح 2π را اضافه یا کم کنیم، نسبت‌های مثلثاتی آن تغییر نمی‌کنند.

۴ سینوس و کسینوس زاویه‌های $\frac{14\pi}{3}$ و $\frac{-25\pi}{6}$ رادیان را حساب کنید.

اگر به یک زاویه (بر حسب رادیان)، مضرب صحیحی از 2π را اضافه یا کم کنیم، نقاط متناظر این دو زاویه بر هم منطبق‌اند. به همین دلیل، نسبت‌های مثلثاتی آنها با هم برابرند، زیرا نسبت‌های مثلثاتی یک زاویه، مختصات نقطه متناظر آن است.

سارا پرسید: تا اینجا فقط نسبت‌های مثلثاتی سینوس و کسینوس زاویه‌های دلخواه را تعریف کردیم و یاد گرفتیم چگونه مقدار آنها را پیدا کنیم. اما، تانژانت این زاویه‌ها چگونه تعریف می‌شود؟ دبیر گفت: فعالیت زیر به ما کمک می‌کند تانژانت زاویه‌های دلخواه را تعریف کنیم.

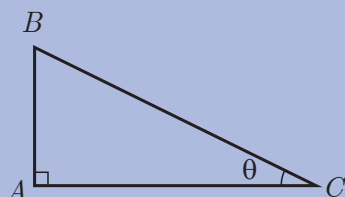
گفتگو



فعالیت ۳



مثلث قائم‌الزاویه ABC را با زاویه تند θ در نظر بگیرید.



۱ طول ضلع AB را بر حسب $\sin\theta$ بنویسید.

.....

۲ طول ضلع AC را بر حسب $\cos\theta$ بنویسید.

.....

۳ در این مثلث، $\tan\theta$ را بر حسب $\sin\theta$ و $\cos\theta$ به دست آورید.

.....

۴ به کمک رابطه‌ای که در (۳) به دست آوردید، برای تعریف تانژانت زاویه‌های دلخواه پیشنهادی ارائه کنید.

.....

فعالیت (۳) نشان می‌دهد که برای زاویه‌های تند مانند θ داریم: $\tan\theta = \frac{\sin\theta}{\cos\theta}$. این تساوی را برای زاویه‌های دلخواه تعمیم می‌دهند و تانژانت یک زاویه دلخواه α به صورت زیر تعریف می‌شود:

$$\tan \alpha = \frac{\sin \alpha}{\cos \alpha}$$

از آنجا که سینوس و کسینوس زاویه‌های دلخواه قبلاً تعریف شده‌اند، تساوی بالا، تانژانت زاویه‌های دلخواه را تعریف می‌کند. فقط برای زاویه‌هایی که کسینوس آنها صفر است، تانژانت آن زاویه‌ها تعریف نمی‌شود؛ مثلاً برای زاویه‌های $\frac{\pi}{2}$ و $\frac{3\pi}{2}$ (رادیان) که کسینوس آنها صفر است، تانژانت تعریف نمی‌شود.

تعریف



اگر α زاویه‌ای باشد که $\cos \alpha \neq 0$ بنا به تعریف $\tan \alpha = \frac{\sin \alpha}{\cos \alpha}$

مثال ۱۴

تانژانت زاویه‌های ۳۳° درجه و $\frac{۴\pi}{۳}$ رادیان را حساب کنید.

$$\tan ۳۳^\circ = \frac{\sin ۳۳^\circ}{\cos ۳۳^\circ} = \frac{\sin(۳۶^\circ - ۳^\circ)}{\cos(۳۶^\circ - ۳^\circ)} = \frac{\sin(-۳^\circ)}{\cos(-۳^\circ)} = \frac{-\sin ۳^\circ}{\cos ۳^\circ} = \frac{-\frac{۱}{۲}}{\frac{\sqrt{۳}}{۲}} = -\frac{\sqrt{۳}}{۳}$$

$$\tan \frac{۴\pi}{۳} = \frac{\sin \frac{۴\pi}{۳}}{\cos \frac{۴\pi}{۳}} = \frac{\sin(\pi + \frac{\pi}{۳})}{\cos(\pi + \frac{\pi}{۳})} = \frac{-\sin(\frac{\pi}{۳})}{-\cos(\frac{\pi}{۳})} = \frac{-\frac{\sqrt{۳}}{۲}}{-\frac{۱}{۲}} = \sqrt{۳}$$

کوشیار گیلانی

کیا ابوالحسن کوشیاربن لَبان باشهری گیلانی یا دیلمی (حدود ۹۴۰-۱۰۱۰ میلادی / ۳۹۰-۳۲۰ هجری شمسی) ریاضی‌دان و ستاره‌شناس و طراح ابزارهای اخترشناسی از اهالی گیلان بود.

کتاب اخترشناسی او «زیج جامع» نام دارد. در این کتاب طول اوج خورشید و جدول مختصات ستارگان ثابت را محاسبه کرده است. کوشیار دیلمی از نخستین کسانی بود که تابع ظل (تانژانت) را به کار برد. شرح کامل دستگاه شصت‌گانی (نوشتن اعداد بر مبنای شصت) و نوشتن اعداد صحیح و کسری از کارهای اوست. کوشیار معاصر و همنشین ابوریحان بیرونی بود. سعدی در باب چهارم بوستان او را «دانای گردن‌فراز» خوانده‌است. لقب کیا در نام او در گیلان و طبرستان برای سیاست‌مردان و دانشمندان بزرگ به کار می‌رفته است. متأسفانه از چهره او توصیفی در دست نبوده و تصویری از او رسامی نشده است.

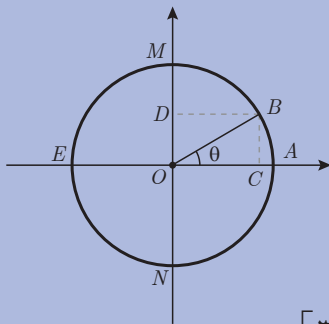
خواندنی



گفتگو



سارا پرسید: سینوس و کسینوس زاویه‌های دلخواه چه اعدادی می‌توانند باشند؟
 مونا گفت: از سال گذشته یاد می‌آید که سینوس و کسینوس زاویه‌های تند، اعدادی در بازه (۰, ۱) بودند.
 اما سینوس و کسینوس زاویه‌های دلخواه، مختصات نقاط روی دایره واحد هستند، پس می‌توانند اعداد منفی نیز باشند.
 دبیر گفت: برای پاسخ به سؤال سارا، بهتر است از طریق محور سینوس‌ها و محور کسینوس‌ها آن را بررسی کنیم.



یک دایره مثلثاتی مانند شکل روبه‌رو را در نظر بگیرید. در این شکل B نقطه متناظر زاویه θ ، BC عمود بر محور کسینوس‌ها و BD عمود بر محور سینوس‌ها است.

وقتی θ در بازه‌های $\left[0, \frac{\pi}{2}\right]$ و $\left[\frac{\pi}{2}, \pi\right]$ و $\left[\pi, \frac{3\pi}{2}\right]$ و $\left[\frac{3\pi}{2}, 2\pi\right]$ تغییر می‌کند، مکان نقطه C روی محور کسینوس‌ها و نقطه D روی محور سینوس‌ها را توصیف کنید. مقادیرهای $\cos \theta$ و $\sin \theta$ در چه بازه‌ای قرار دارند؟ جدول را مانند مثال کامل کنید.

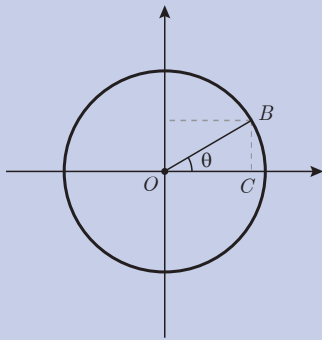
مقدار زاویه θ	در بازه $\left[0, \frac{\pi}{2}\right]$	در بازه $\left[\frac{\pi}{2}, \pi\right]$	در بازه $\left[\pi, \frac{3\pi}{2}\right]$	در بازه $\left[\frac{3\pi}{2}, 2\pi\right]$
مکان نقطه C	روی پاره‌خط OA قرار دارد.	روی پاره‌خط OE قرار دارد.		
مقدار $\cos \theta$	در بازه $[0, 1]$ قرار دارد.	در بازه $[-1, 0]$ قرار دارد.		
مکان نقطه D				
مقدار $\sin \theta$				

این فعالیت نشان می‌دهد سینوس و کسینوس زاویه‌های دلخواه، اعدادی در بازه $[-1, 1]$ هستند. سال گذشته دیدیم که تانژانت زاویه‌های تند هر عدد مثبتی می‌تواند باشد. برای زاویه‌های دلخواه که در ربع دوم و چهارم قرار می‌گیرند، مقادیر تانژانت منفی است و می‌توانیم ببینیم که مقدار تانژانت این زاویه‌ها هر مقدار منفی می‌تواند باشد. بنابر این، هر عدد حقیقی (مثبت، منفی یا صفر) به صورت تانژانت یک زاویه خواهد بود.

در محاسبات با نسبت‌های مثلثاتی، گاهی نیازمند محاسبه توان‌هایی از آنها هستیم. برای سادگی، عبارت $(\sin \theta)^2$ را به صورت $\sin^2 \theta$ می‌نویسیم؛ به همین ترتیب برای توان‌های بالاتر نیز، عبارت‌هایی مانند $(\sin \theta)^5$ را به صورت $\sin^5 \theta$ می‌نویسیم. برای سایر نسبت‌های مثلثاتی نیز از این قرارداد استفاده می‌کنیم؛ مثلاً منظور از عبارت $\tan^3 \theta$ ، توان سوم $\tan \theta$ است.

مثال ۱۵

$\sin 30^\circ = \sin 90^\circ$ و $\sin^2 30^\circ = (\sin 30^\circ)^2 = \left(\frac{1}{2}\right)^2 = \frac{1}{4}$
 توجه داشته باشید که عبارت $\sin^2 \theta$ با عبارت $\sin \theta^2$ فرق دارد. منظور از $\sin \theta^2$ ، سینوس زاویه θ^2 است و منظور از $\sin^2 \theta$ ، توان دوم $\sin \theta$ است.



۱ زاویه تند θ را در ربع اول دایره مثلثاتی در شکل روبه‌رو در نظر بگیرید.
 با استفاده از مثلث قائم‌الزاویه OCB ، درستی تساوی زیر را نشان دهید.

$$\sin^2 \theta + \cos^2 \theta = 1$$

۲ تساوی بالا برای سایر زاویه‌ها نیز برقرار است. درستی این تساوی را برای چند زاویه در ربع‌های دیگر بررسی کنید.

۳ اگر θ زاویه‌ای در ربع دوم باشد به طوری که $\sin \theta = \frac{3}{5}$ ، سایر نسبت‌های مثلثاتی θ را به دست آورید.

کاردرکلاس ۶



۱ در جدول‌های زیر مشخص کنید که هر کدام از زاویه‌های داده شده در کدام ربع از دایره مثلثاتی قرار دارند.

زاویه θ بر حسب درجه	-80°	140°	280°	363°
مکان زاویه θ				

زاویه θ بر حسب رادیان	$-\frac{3\pi}{4}$	$\frac{2\pi}{5}$	$\frac{7\pi}{3}$	$\frac{12\pi}{5}$
مکان زاویه θ				

مسائل





۲ با تعیین مکان زاویه $-\frac{5\pi}{4}$ تعیین کنید کدام یک از گزینه‌های زیر صحیح است.

الف) $0 < \sin(-\frac{5\pi}{4})$ و $0 < \cos(-\frac{5\pi}{4})$.

ب) $0 < \sin(-\frac{5\pi}{4})$ و $\cos(-\frac{5\pi}{4}) < 0$

پ) $\sin(-\frac{5\pi}{4}) < 0$ و $0 < \cos(-\frac{5\pi}{4})$

ت) $\sin(-\frac{5\pi}{4}) < 0$ و $\cos(-\frac{5\pi}{4}) < 0$

۳ جدول زیر را با مشخص کردن علامت نسبت‌های مثلثاتی زاویه‌ها کامل کنید. در هر مورد مثالی بزنید.

θ علامت نسبت مثلثاتی	ربع اول	ربع دوم	ربع سوم	ربع چهارم
$\sin \theta$				
$\cos \theta$				
$\tan \theta$				

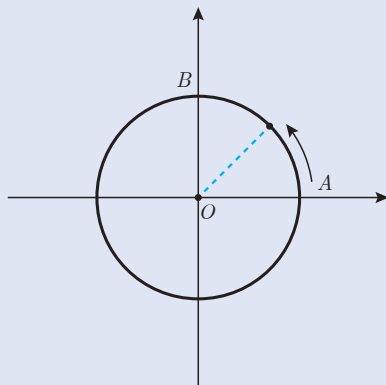
۴ مقادیر زیر را حساب کنید.

پ) $(\sin 15^\circ + \cos 15^\circ)^2$

ت) $\cos 15^\circ + \sin 15^\circ$

الف) $\sin^2 60^\circ$

ب) $\tan^2 30^\circ$



۵ دوچرخه‌سواری روی یک مسیر دایره‌ای به شعاع 50 متر از نقطه A شروع به حرکت می‌کند و در هر ثانیه 2 متر طی می‌کند.

الف) زاویه چرخش این دوچرخه سوار در هر ثانیه چند رادیان است؟

ب) اگر دوچرخه‌سوار پس از 30 دقیقه حرکت بایستد، در کدام ربع از دایره ایستاده است؟

۶ زاویه θ در ربع سوم است و $\cos \theta = -\frac{1}{5}$ ، سایر نسبت‌های مثلثاتی θ را به دست آورید.

۷ اگر برای زاویه θ داشته باشیم $\sin \theta = \frac{-2}{3}$ ، آیا می‌توان سایر نسبت‌های مثلثاتی θ را به دست آورد؟ چرا؟ چه اطلاعات دیگری را هم باید بدانیم؟

۸ نشان دهید برای زاویه دلخواه θ تساوی‌های زیر برقرارند.

$$\tan(\pi - \theta) = -\tan \theta , \tan(\pi + \theta) = \tan \theta , \tan(-\theta) = -\tan \theta$$

۹ دو زاویه مشخص کنید که تانژانت آنها -1 است.

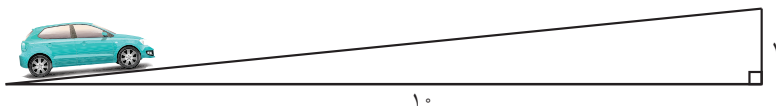
شیب خط و تانژانت زاویه‌ها



سعید به تازگی از سفر به یکی از مناطق کوهستانی کشور بازگشته بود. او گفت جاده سربالایی و سرازیری‌های بسیاری داشت و در کنار جاده میزان سربالایی و سرازیری جاده با علامتی مانند روبه‌رو نشان داده شده بود.

سعید در کلاس ریاضی پرسید: عددهای روی این تابلو چه چیزی را نشان می‌دهند؟ دبیر گفت: این علامت به معنای نسبت ۱ به ۱۰ است و در اینجا یعنی به ازای هر

۱۰ واحد حرکت افقی، ارتفاع از سطح زمین ۱ واحد افزایش می‌یابد. پس می‌توانیم وضعیت سربالایی جاده را با شکل زیر مدل‌سازی کنیم.



دبیر ادامه داد: در این حالت می‌گویند: شیب این جاده $\frac{1}{10}$ است.

سعید گفت: اما $\frac{1}{10}$ همان تانژانت زاویه‌ای است که جاده با خط افق می‌سازد. بنابراین شیب جاده همان تانژانت زاویه‌ای است که جاده با خط افق می‌سازد.

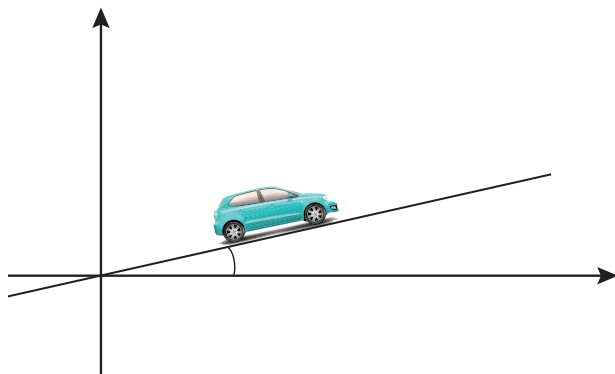
سعید ادامه داد: در ریاضی برای خط‌هایی که در یک صفحه مختصات رسم شده‌اند نیز مفهوم شیب تعریف شده است. آیا بین شیب جاده و شیب خط، رابطه‌ای وجود دارد؟

دبیر گفت: باید این دو مفهوم را بررسی کنیم تا ببینیم آیا رابطه‌ای بین آنها وجود دارد یا نه.

سعید گفت: شیب یک خط به معادله $y = ax + b$ ، عدد a است، اما شیب جاده، تانژانت یک زاویه است. این دو مقدار چه ارتباطی با هم می‌توانند داشته باشند؟

گفتگو



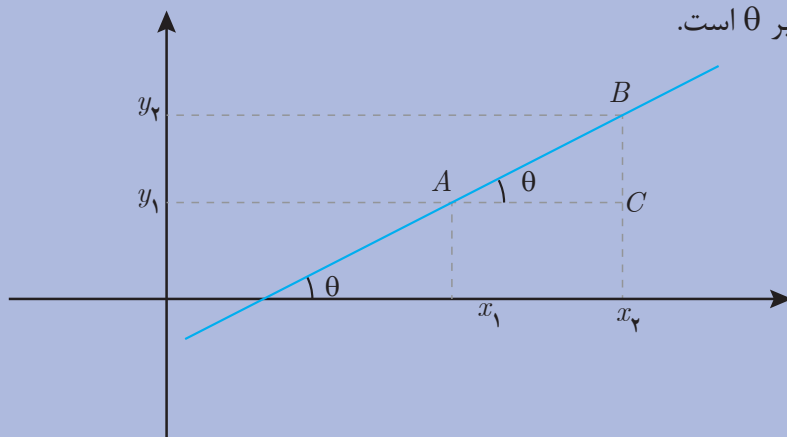


دبیر گفت: اگر مسیر یک جاده را همانند یک خط و خط افق را همانند محور افقی یک صفحه مختصات در نظر بگیریم، وضعیت جاده و خط کاملاً مشابه هم خواهند بود. سعید گفت: طبق این شکل، شیب جاده، تانژانت زاویه بین خط و محور افقی است. آیا شیب خط نیز همین مقدار است؟ دبیر گفت: فعالیت زیر می تواند پاسخ سؤال سعید را مشخص کند.

فعالیت ۵



یک خط دلخواه به معادله $y = ax + b$ با شیب مثبت ($a > 0$) در نظر بگیرید. فرض کنید A با مختصات $\begin{bmatrix} x_1 \\ y_1 \end{bmatrix}$ و B با مختصات $\begin{bmatrix} x_2 \\ y_2 \end{bmatrix}$ ، دو نقطه از این خط هستند و زاویه این خط با محور طول ها برابر θ است.



۱ شیب این خط را بر حسب مختصات نقاط A و B بنویسید.

۲ در مثلث قائم الزاویه ABC طول اضلاع AC و BC را بر حسب مختصات A و B به دست آورید.

۳ در مثلث قائم الزاویه ABC ، تانژانت زاویه θ را بر حسب مختصات A و B به دست آورید.

۴ از (۱) و (۳) چه رابطه‌ای بین شیب این خط و زاویه آن با محور افقی به دست می آورید؟

این فعالیت نشان می‌دهد که برای یک خط با شیب مثبت، تانژانت زاویه تند بین این خط و محور x ‌ها همان شیب خط است.

مثال ۱۶

خط به معادله $y = x + 2$ با محور x ‌ها زاویه 45° درجه می‌سازد زیرا، شیب این خط عدد ۱ است و زاویه تندی که تانژانت آن ۱ است، 45° درجه است.

مثال ۱۷

معادله خطی را بنویسید که با محور x ‌ها زاویه 60° درجه بسازد و محور y ‌ها را در نقطه 2 قطع کند.

شیب این خط برابر تانژانت 60° درجه، یعنی $\sqrt{3}$ است. می‌دانیم معادله خط با شیب m که از نقطه

می‌گذرد به صورت $y = ax + b$ است. پس معادله این خط عبارت است از:

$$y = \sqrt{3}x + 2$$

پس از آنکه برای خط‌های با شیب مثبت، یکسان بودن شیب خط و تانژانت زاویه بین خط و محور x ‌ها مشخص شد، نکته دیگری توجه سعید را جلب کرد.

سعید گفت: برخی خط‌ها در صفحه مختصات شیب منفی دارند. آیا در چنین وضعیتی هم می‌توانیم شیب

این خط‌ها را برابر تانژانت یک زاویه بدانیم؟

حمید گفت: تانژانت زاویه‌های باز، منفی است. شاید بتوانیم برای یک خط با شیب منفی، یک زاویه باز بیابیم که تانژانت آن برابر شیب آن خط باشد.

سعید گفت: آیا زاویه بین خط‌های با شیب منفی و محور x ‌ها یک زاویه باز است؟

دبیر گفت: باید تعریف دقیق‌تری از زاویه بین یک خط و محور طول‌ها داشته باشیم. در شکل صفحه بعد

خط d محور طول‌ها را در نقطه‌ای مانند A قطع می‌کند. نیم‌خط Ax را در جهت مثبت، حول نقطه A

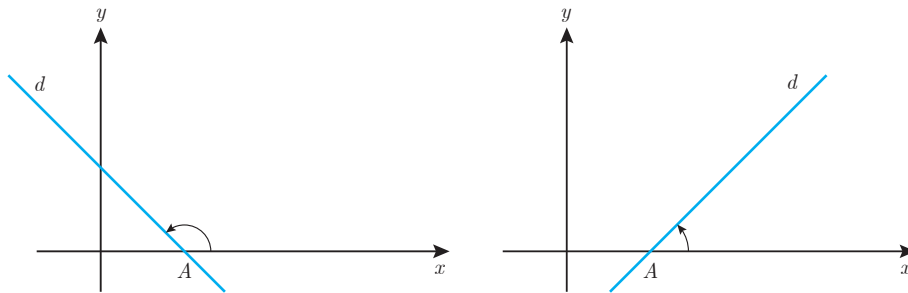
دوران می‌دهیم تا بر d منطبق شود. اندازه چرخش Ax را زاویه بین خط d و محور طول‌ها می‌نامند. در

حالتی که خط d محور طول‌ها را قطع نکند، با آن موازی است و زاویه بین خط d و محور طول‌ها، صفر در

نظر گرفته می‌شود.

گفتگو





حمید گفت: با این تعریف، زاویه خط‌های با شیب مثبت با محور طول‌ها، تند و زاویه خط‌های با شیب منفی با محور طول‌ها، باز است. شاید تانژانت این زاویه نیز همان شیب خط باشد.
دبیر گفت: حدس خوبی زدی. با انجام فعالیت زیر می‌توانید درستی این حدس را بررسی کنید.

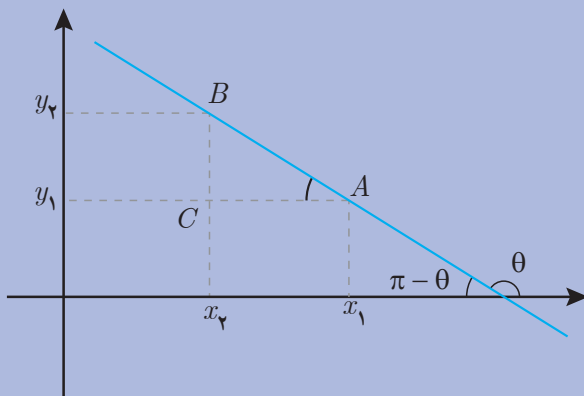
فعالیت ۶



یک خط دلخواه را به معادله $y = ax + b$ با شیب منفی ($a < 0$) در نظر بگیرید. فرض کنید

A با مختصات $\begin{bmatrix} x_1 \\ y_1 \end{bmatrix}$ و B با مختصات $\begin{bmatrix} x_2 \\ y_2 \end{bmatrix}$ ، دو نقطه از این خط هستند و زاویه این خط با

محور طول‌ها برابر زاویه باز θ است.



۱ شیب این خط را بر حسب مختصات نقاط A و B بنویسید.

۲ در مثلث قائم‌الزاویه ABC طول اضلاع AC و BC را بر حسب مختصات A و B به دست آورید.

۳ در مثلث قائم‌الزاویه ABC ، تانژانت زاویه $\pi - \theta$ (زاویه A) را بر حسب مختصات A و B به دست آورید.

۴ از (۱) و (۳) چه رابطه‌ای بین شیب این خط و $\tan(\pi - \theta)$ به دست می‌آورید؟

۵ با استفاده از (۴) چه رابطه‌ای بین شیب خط و تانژانت زاویه بین خط و محور طول‌ها به دست می‌آورید؟

از فعالیت‌های (۵) و (۶) نتیجه می‌شود که شیب هر خطی (مثبت یا منفی)، برابر تانژانت زاویه آن خط با محور طول‌ها است.

برای هر خط d با شیب m که با محور طول‌ها زاویه θ می‌سازد داریم: $\tan\theta = m$

نکته



مثال ۱۸

معادله خطی را که از مبدأ می‌گذرد و با محور طول‌ها زاویه باز $\frac{5\pi}{6}$ می‌سازد، بنویسید. ابتدا تانژانت این زاویه را که شیب این خط است محاسبه می‌کنیم. با استفاده از رابطه $\tan(\pi - \theta) = -\tan\theta$ داریم:

$$\tan \frac{5\pi}{6} = \tan\left(\pi - \frac{\pi}{6}\right) = -\tan \frac{\pi}{6} = -\frac{\sqrt{3}}{3}$$

پس معادله این خط عبارت است از: $y = -\frac{\sqrt{3}}{3}x$

مثال ۱۹

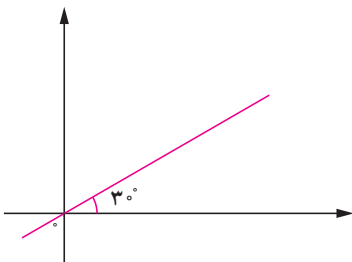
نمودار خط به معادله $y = \frac{\sqrt{3}}{3}x + 2$ را بدون نقطه‌یابی رسم کنید.

می‌دانیم $\tan 30^\circ = \frac{\sqrt{3}}{3}$ پس ابتدا خطی رسم می‌کنیم که با

محور x زاویه 30° بسازد.

با توجه به اینکه عرض از مبدأ این خط، ۲ است از نقطه $\begin{bmatrix} 0 \\ 2 \end{bmatrix}$

خطی به موازات این خط رسم می‌کنیم.



مثال ۲۰

زاویه خط به معادله $y = 2$ با محور طول‌ها چقدر است؟
این خط موازی محور طول‌ها است و زاویه آن با محور طول‌ها صفر است. همچنین شیب آن صفر است و تانژانت زاویه بین این خط و محور طول‌ها نیز صفر است.

کار در کلاس ۷



۱ زاویه بین خط به معادله $y = \sqrt{3}x + \sqrt{2}$ و محور طول‌ها، چند رادیان است؟

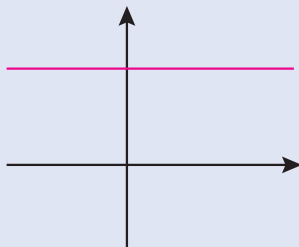
۲ معادله خطی را بنویسید که با محور طول‌ها زاویه 150° درجه بسازد و از نقطه $\begin{bmatrix} 0 \\ -1 \end{bmatrix}$ بگذرد.

۳ شیب خط $y = -4$ چقدر است؟ زاویه بین خط $y = -4$ و محور طول‌ها چقدر است؟

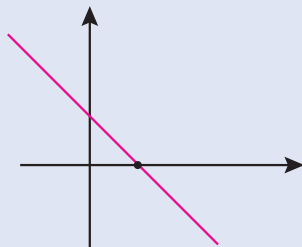
مسائل



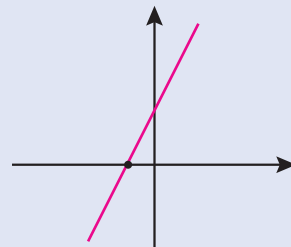
برای حل مسائل این صفحه در صورت نیاز از نقاله و ماشین حساب استفاده کنید.
۱ در شکل‌های زیر زاویه بین خط و محور طول‌ها و شیب خط را به دست آورید.



الف



ب



پ

۲ معادله خطی را بنویسید که با محور طول‌ها زاویه 20° درجه بسازد و از نقطه $\begin{bmatrix} -1 \\ -2 \end{bmatrix}$ بگذرد.

۳ خطی که از دو نقطه $\begin{bmatrix} 1 \\ 5 \end{bmatrix}$ و $\begin{bmatrix} -1 \\ 2 \end{bmatrix}$ می‌گذرد چه زاویه‌ای با محور طول‌ها می‌سازد؟

۴ خط به معادله $\sqrt{3}x - 3y = 4$ در چه نقطه‌ای محور طول‌ها را قطع می‌کند و چه زاویه‌ای با آن می‌سازد؟

۵ از برخورد سه خط با معادله‌های $y = \sqrt{3}x$ و $y = -x + 5$ و $y = 0$ (محور طول‌ها)، یک مثلث ساخته می‌شود. این مثلث را رسم کنید و زاویه‌های این مثلث را بر حسب رادیان به دست آورید.

۶ خط‌های به معادله $3x - 5y = C$ با هم (موازی‌اند/ متقاطع‌اند). زاویه این خط‌ها با محور طول‌ها بر حسب درجه و رادیان به طور تقریبی چقدر است؟

استاندارد ارزشیابی مبتنی بر شایستگی پودمان سوم

عنوان پودمان	شایستگی‌های مورد انتظار (واحدهای یادگیری)	استاندارد عملکرد (کیفیت)	سطح احراز شایستگی	شاخص تحقق
سواد نسبت‌های مثلثاتی زاویه‌ها	فهم زاویه چرخش و واحدهای اندازه‌گیری زاویه	مدل‌سازی و حل مسائل مرتبط با نسبت‌های مثلثاتی زاویه‌ها	بالاتر از حد انتظار	اجرای شایسته فعالیت‌های مکمل که انجام آنها، نیل به حد بالاتر از انتظار در شایستگی را برای هنرآموز محرز نماید.
	محاسبه نسبت‌های مثلثاتی زاویه‌ها		در حد انتظار	حل مسائل مرتبط با مفهوم زاویه چرخش تبدیل واحدهای اندازه‌گیری زاویه نسبت‌های مثلثاتی زاویه‌ها رابطه بین شیب خط و تانژانت زاویه‌ها
			پایین‌تر از حد انتظار	در صورتی که هنرجو حتی یکی از شاخص‌های در حد انتظار را محقق ننماید، پایین‌تر از حد انتظار ارزشیابی می‌شود.
لازم است تا کیفیت فرایند شایستگی (براساس انجام فعالیت‌های کلاسی، نظم، رعایت توصیه‌های زیست‌محیطی، ایمنی و بهداشت، مشارکت در فعالیت‌های آموزشی و تربیتی، ابتکار در تکالیف عملکردی درسی، مشارکت در فعالیت‌های گروهی و جمعی و...) در نظر گرفته شود.				
سطح شایستگی کسب شده در پودمان (بالاتر از حد انتظار، در حد انتظار، پایین‌تر از حد انتظار)				



پودمان چهارم

کاربرد لگاریتم



دانشمندان اخیراً موفق به کشف دورترین کهکشان در محدوده شناخته شده جهان هستی شدند. این کهکشان که $MACS\ 0647\text{-}JD$ نام‌گذاری شده، تقریباً $13/3$ میلیارد سال نوری با ما فاصله دارد و از نظر اندازه، جزء کوچکی از کهکشان راه شیری است. به گفته دانشمندان، با توجه به سرعت نور در فضا، آنچه که اکنون ما از زمین می‌بینیم، متعلق به زمانی است که دنیا تنها 420 میلیون سال سن داشته است. شاید جالب باشد بدانید که سن فعلی جهان حدود $13/75$ میلیارد سال است. کار با این گونه اعداد بزرگ وقت و انرژی زیادی از دانشمندان را به خود اختصاص می‌داد؛ اختراع لگاریتم تا قبل از ظهور رایانه کمک مؤثری در تسهیل این محاسبات داشته است. امروزه لگاریتم در حسابداری، شیمی، فیزیک و... مورد استفاده قرار می‌گیرد.




امروز دبیر با ورود به کلاس گفت:

«چه کسی می‌داند کدام موضوع از ریاضیات است که به گفتهٔ لاپلاس طول عمر اختر شناسان را چند برابر کرده است؟»

او همچنین گفت: به نظر من این موضوع نه تنها طول عمر اختر شناسان، بلکه طول عمر دریانوردان، بازرگانان، شیمی‌دانان، ریاضی‌دانان، و زمین شناسان و همهٔ انسان‌های کرهٔ زمین را چند برابر کرده است. طرح این سؤال موجب تعجب هنرجویان شده بود و همه کنجکاو بودند که این چه موضوعی از ریاضی است که موجب افزایش طول عمر می‌شود.

مریم گفت: تاکنون فکر می‌کردم موضوع‌هایی که در زمینهٔ افزایش طول عمر کار می‌شود مربوط به حوزهٔ زیست‌شناسی است، برای من جالب است بدانم ارتباط این موضوع با ریاضی چیست.

دبیر گفت: این موضوع در بسیاری از شاخه‌های علوم نیز کاربرد دارد و برای آشنایی با این موضوع بهتر است فعالیت صفحهٔ بعد را انجام دهید.



نزدیک ترین ستاره به زمین که فقط در نیمکره جنوبی قابل رؤیت است پروکسیما قنطورس و نزدیک ترین ستاره که از همه نقاط زمین قابل رؤیت است شباهنگ (سیروس) است.

۱ فاصله زمین از خورشید تقریباً ۱۲۹۱۴۰۱۶۳ کیلومتر و فاصله ستاره پروکسیما قنطورس تا زمین تقریباً ۱۷۷۱۴۷ برابر فاصله زمین تا خورشید است. برای تعیین فاصله این ستاره تا زمین باید از کدام چهار عمل اصلی استفاده کرد؟ حدس می‌زنید برای انجام این عمل چقدر زمان نیاز دارید؟

۲ ستاره شباهنگ (سیروس) در فاصله تقریباً ۶۸۶۳۰۳۷۷۳۶۴۸۸۳ کیلومتری از زمین است، اگر بخواهیم بدانیم فاصله ستاره شباهنگ از زمین چند برابر فاصله خورشید تا زمین است چه عملی باید انجام دهید؟ حدس می‌زنید زمان انجام این عمل چقدر است؟

n	3^n	حاصل
۰	3^0	۱
۱	3^1	۳
۲	3^2	۹
۳	3^3	۲۷
⋮	⋮	⋮
۱۱	3^{11}	۱۷۷۱۴۷
۱۲	3^{12}	۵۳۱۴۴۱
⋮	⋮	⋮
۱۷	3^{17}	۱۲۹۱۴۰۱۶۳
۱۸	3^{18}	۳۸۷۴۲۰۴۸۹
⋮	⋮	⋮
۲۷	3^{27}	۷۶۲۵۵۹۷۴۸۴۹۸۷
۲۸	3^{28}	۲۲۸۷۶۷۹۲۴۵۴۹۶۱
۲۹	3^{29}	۶۸۶۳۰۳۷۷۳۶۴۸۸۳

۳ با استفاده از جدول مقابل که در آن توان‌هایی از ۳ محاسبه شده است، جاهای خالی را کامل کنید و حاصل را با استفاده از ضرب اعداد توان‌دار بنویسید.

$$129140163 \times 177147 = 3^{\dots} \times 3^{\dots} = 3^{\dots}$$

$$68630377364883 \div 129140163 = 3^{\dots} \div 3^{\dots} = 3^{\dots}$$

۴ با استفاده از قسمت قبل و جدول مقابل به سؤال‌های (الف) و (ب) پاسخ دهید.

(الف) فاصله پروکسیما قنطورس از زمین چقدر است؟
 (ب) فاصله ستاره شباهنگ (سیروس) چند برابر فاصله خورشید تا زمین است؟

۵ محاسبه مستقیم ساده‌تر است یا استفاده از جدول؟ زمان انجام کدام روش کمتر است؟

در این فعالیت دیدیم که برای ضرب و تقسیم دو عدد بزرگ، اگر بتوان آنها را به صورت اعداد توان‌دار (با پایه مساوی) نوشت آنگاه با جمع و تفریق توان‌های آنها به نتیجه مورد نظر خواهیم رسید. استفاده از این تکنیک که به جای ضرب و تقسیم اعداد بزرگ، با جمع و تفریق اعداد کوچک‌تر کار می‌کنیم موجب افزایش سرعت و کاهش زمان محاسبات می‌شود و از اشتباهاتی که در محاسبه مربوط به اعداد بزرگ است جلوگیری می‌کند. به نظر می‌رسد جمله معروف لاپلاس نیز به این دلیل بوده که برای انجام این محاسبات، وقت و نیروی بسیار زیادی از دانشمندان تلف می‌شده است و این روش باعث شده که دانشمندان وقت خود را با محاسبات حجیم هدر ندهند.

استفاده از اعداد توان‌دار و توجه به توان آنها برای انجام محاسبات، موجب پیدایش مفهومی به نام **لگاریتم** در ریاضی شده است. در فعالیت (۱) با توجه به تساوی $177147 = 3^{11}$ ، برای انجام عمل ضرب به جای عدد 177147 از عدد 11 (که توان در 3^{11} می‌باشد) استفاده شده است. بنا به تعریف عدد 11 را **لگاریتم** 177147 در مبنای 3 می‌نامند.

مثال ۱

الف) تساوی $8 = 2^3$ نمایش عدد 8 به صورت یک عدد توان‌دار با پایه 2 است؛ بنابراین 3 را لگاریتم 8 در مبنای 2 می‌نامند.

ب) اگر عدد 1000 را به صورت یک عدد توان‌دار با پایه 10 بنویسیم، داریم، $1000 = 10^3$ بنابراین لگاریتم 1000 در مبنای 10 عدد 3 است.

پ) عدد 64 ، توان سوم عدد 4 است، یعنی $64 = 4^3$ ، بنابراین لگاریتم 64 در مبنای 4 عدد 3 است.

۱ جاهای خالی را با عبارت مناسب پر کنید.

الف) از $81 = 3^4$ نتیجه می‌شود: لگاریتم در مبنای عدد 4 است.

ب) لگاریتم 10000 در مبنای 10 عدد است؛ زیرا $10000 = 10^4$.

پ) ... $4^2 =$ نشان می‌دهد: لگاریتم در مبنای 4 عدد است.

۲ عدد 64 را به صورت یک عدد توان‌دار با پایه 2 نوشته و با استفاده از آن لگاریتم 64 در مبنای 2 را بنویسید.

کاردرکلاس ۱



با معرفی لگاریتم این سؤال مطرح خواهد شد که آیا می‌توان هر عدد حقیقی را به‌عنوان مبنای لگاریتم در نظر گرفت؟ فعالیت بعد مناسب بودن عدد 1 به‌عنوان مبنای بررسی می‌کند.



تساوی‌های $1^0 = 1$ و $\sqrt[3]{1} = 1$ و $1^2 = 1$ و $1^3 = 1$ و $\frac{1}{1^3} = 1$ و $1^{-3} = 1$ و $1^4 = 1$ و ... را در نظر بگیرید،

۱ در تساوی $1^{\dots} = 1$ به جای نقطه چین چه اعدادی می‌توان قرار داد؟

۲ آیا می‌توان عدد a را طوری پیدا کرد که: $1^a = 2$. به عبارت دیگر آیا لگاریتم ۲ در مبنای ۱ قابل تعریف است؟

۳ آیا عدد a را می‌توان طوری یافت که در تساوی: $1^a = 3$ صدق کند. به عبارت دیگر آیا لگاریتم ۳ در مبنای ۱ قابل تعریف است؟

۴ آیا عددی غیر از ۱ را می‌توان به صورت عددی توان‌دار با پایه ۱ نوشت؟ چرا؟

۵ با توجه به نتایج بالا، فکر می‌کنید می‌توان عدد ۱ را به عنوان مبنای لگاریتم انتخاب کرد؟ چرا؟

فعالیت بالا نشان می‌دهد عدد ۱ را نمی‌توان به عنوان مبنا برای لگاریتم در نظر گرفت. تعریف لگاریتم در حالت کلی به شکل زیر است.

اگر a یک عدد حقیقی مثبت مخالف ۱ باشد و اعداد حقیقی b و c به گونه‌ای باشند که: $b = a^c$ آنگاه c را لگاریتم b در مبنای a می‌نامند و با $\log_a b$ نشان می‌دهند. یعنی $\log_a b = c$



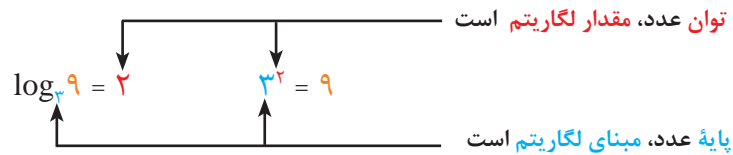
در تعریف لگاریتم، مبنا همواره عددی مثبت و مخالف ۱ در نظر گرفته می‌شود، زیرا توان‌رسانی به توان اعداد دلخواه فقط با پایه مثبت قابل تعریف است.

در نماد $\log_a b$ ، عدد b توان a نیست، بلکه a مبنای لگاریتم است، به عبارت دیگر: $\log_a b \neq \log a^b$



مثال ۲

در تساوی $۳^۲ = ۹$ ، عدد ۹ به صورت یک عدد توان دار با پایه ۳ نمایش داده شده است؛ بنابراین ۲ برابر است با لگاریتم ۹ در مبنای ۳ و می‌نویسیم: $\log_۳ ۹ = ۲$ یعنی:



مثال ۳

در توان‌رسانی با اعداد گویا دیدیم برخی اعداد رادیکالی را (که زیر رادیکال عددی نامنفی باشد) می‌توان به صورت عددی با توان گویا نوشت. مثلاً $\sqrt{۱۰} = ۱۰^{\frac{۱}{۲}}$ ، بنابراین لگاریتم $\sqrt{۱۰}$ در مبنای ۱۰ برابر با $\frac{۱}{۲}$ یا $۰/۵$ است و می‌نویسیم:

$$\log_{۱۰} \sqrt{۱۰} = ۰/۵$$

لگاریتم در بسیاری از شاخه‌های علوم نظیر نجوم، فیزیک، زمین‌شناسی، شیمی، ریاضی و همچنین در حسابداری و مسائل مالی کاربرد فراوانی دارد. استفاده از این مفهوم و به کارگیری خواص آن در حل مسائل مربوط به این شاخه‌ها، گسترده‌تر از محاسبات مربوط به ضرب و تقسیم اعداد بسیار بزرگ یا بسیار کوچک می‌باشد.

مثال ۴

نوعی باکتری را در نظر بگیرید که در هر واحد زمانی ۲ برابر می‌شود، اگر با ۱ گرم از این نوع باکتری شروع کنیم مقدار این باکتری‌ها پس از ۱ واحد زمانی ۲^۱ گرم و پس از ۲ واحد زمانی ۲^۲ گرم خواهد بود. اگر بخواهیم بدانیم پس از چند واحد زمانی مقدار باکتری‌ها ۸ گرم خواهد شد، لازم است بدانیم چه توانی از ۲ مساوی ۸ است و این همان $\log_۲ ۸$ می‌باشد. به همین ترتیب $\log_۲ ۱۶$ مقدار زمانی که لازم است تا این باکتری‌ها به ۱۶ گرم برسد را نشان می‌دهد.



۱ هر سطر جدول زیر، تساوی‌های متناظر را نشان می‌دهد، جدول را کامل کنید.

تساوی برحسب عدد توان‌دار	تساوی برحسب لگاریتم
$5^3 = 125$	$\log_5 125 = \dots$
$7^2 = \dots$	$\log_7 \dots = \dots$
$3^{\dots} = 81$	$\log_3 81 = \dots$
$4^{\dots} = 64$	$\log_4 64 = 3$
$2^5 = \dots$	\dots
$b^3 = 2/1$	\dots
\dots	$\log_7 27 = \dots$
$\sqrt[3]{8} = 8^{\frac{1}{3}} = 2$	$\log_8 2 = \dots$
\dots	$\log_a 4 = 3/3$

۲ عدد ۲۵ را به صورت یک عدد توان‌دار با پایه ۵ نوشته و با استفاده از آن حاصل $\log_5 25$ را بنویسید.

یک سؤال مهم آن است که آیا می‌توان از همه اعداد لگاریتم گرفت؟ یعنی آیا اعدادی وجود دارند که لگاریتم آنها تعریف نشده باشد؟ فعالیت زیر پاسخ این سؤال را فراهم می‌کند.



۱ اگر $b = 4^c$ ، جدول زیر را کامل کنید.

c	-۲	-۱	$-\frac{1}{2}$	۰	$\frac{1}{2}$	۱	۲
b	$\frac{1}{16}$	$\frac{1}{2}$	۲

۲ آیا در سطر دوم جدول عددی منفی وجود دارد؟ درباره علامت b چه می توان گفت؟

.....

۳ با توجه به اینکه تساوی $b = 4^c$ نشان می دهد $\log_4 b = c$ ، درباره علامت b در $\log_4 b$ چه می توان گفت؟

.....

۴ اگر در پایه به جای ۴، عدد ۳ باشد با یک مثال درستی نتیجه ای که از قسمت قبل به دست آورده اید را بررسی کنید.

.....

۵ اگر a عددی مثبت و مخالف ۱ باشد و $b = a^c$ درباره علامت b چه می توان گفت؟ درباره علامت b در $\log_a b$ چه می توان گفت؟ آیا از عدد منفی می توان لگاریتم گرفت؟

.....

با انجام فعالیت (۳) ملاحظه می کنید اعداد مثبت به هر توانی برسند حاصل، همواره عددی مثبت خواهد بود. یعنی هیچ توانی از یک عدد مثبت، عددی منفی نمی باشد، بنابراین:

فقط اعداد مثبت لگاریتم دارند، یعنی عبارت $\log_a b$ برای $b > 0$ تعریف می شود.





۱ با توجه به ویژگی‌های توان رسانی اعداد، جملات زیر را کامل کنید.

برای هر عدد مثبت و مخالف ۱ مانند a :

الف) با توجه به $a^1 = a$ ، داریم $\log_a a = \dots$

ب) از $a^0 = 1$ نتیجه می‌شود: $\log_a 1 = \dots$

پ) با در نظر گرفتن $a^{-n} = \frac{1}{a^n}$ می‌توان گفت: $\log_a \frac{1}{a^n} = \dots$

ت) اگر $b = a^c$ ، آنگاه $\log_a b = c$. بنابراین: $\log_a a^c = \dots$

مثال ۵

عبارت‌های زیر برقرار هستند:

الف) $\log_4 4 = 1$ زیرا $4^1 = 4$ (ب) $\log_{\sqrt{3}} \sqrt{3} = 1$ (پ) $\log_5 1 = 0$ زیرا $5^0 = 1$ (ت) $\log_{0.4} 1 = 0$

ث) با توجه به اینکه $10^{-3} = \frac{1}{10^3} = \frac{1}{1000} = 0.001$ داریم $\log_{10} 0.001 = -3$.

ج) از $4^{-1} = \frac{1}{4} = \frac{25}{100} = 0.25$ نتیجه می‌شود: $\log_4 0.25 = -1$.

معمولاً برای نمایش لگاریتم در مبنای ۱۰ مبنای لگاریتم را نمی‌نویسند. پس $\log b = \log_{10} b$.
 با توجه به تعریف لگاریتم می‌توان دید که لگاریتم اعدادی که توان‌های صحیح یا گویایی از مبنای لگاریتم می‌باشند به سادگی قابل محاسبه است، اما محاسبه لگاریتم سایر اعداد چگونه انجام می‌شود؟
 مثلاً برای محاسبه $\log_{10} 9$ باید توانی از ۱۰ را پیدا کنیم که مساوی عدد ۹ باشد، واضح است که این عدد به سادگی قابل محاسبه نیست اما با استفاده از ماشین حساب می‌توان تقریب اعشاری این عدد را پیدا کرد.

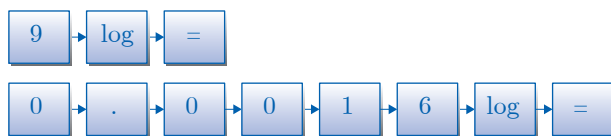
استفاده از ماشین حساب

با استفاده از ماشین حساب حاصل

لگاریتم‌های زیر را به دست آورید.

الف) $\log 9$

ب) $\log 0.0016$





ابوجعفر محمدبن موسی خوارزمی (۲۲۶-۱۸۰ ه.ش) ریاضیدان، ستاره‌شناس، جغرافی‌دان، فیلسوف و مورخ و همه‌چیزدان ایرانی در دوران خلیفه منصور عباسی و خلیفه مهدی عباسی بود. وی بیشتر عمر خود را در بغداد زیست و از اعضای دارالحکمه بود. شهرت وی در ریاضیات، به‌ویژه جبر است. سیستم اعدادی که امروز در دنیا از صفر تا به ۹ مورد استفاده قرار می‌گیرد برای اولین بار در کتاب خوارزمی مشاهده شده است. اعداد لاتین، همان اعداد خوارزمی هستند که براساس تعداد زوایا توسط خوارزمی ابداع شدند و غربی‌ها آن را جایگزین اعداد بدوی یونانی نمودند. آسی کرومبی در کتاب «از آگوستن تا گالیله:

علم در قرون وسطی» می‌گوید: پذیرش این نظام (اعداد اسلامی) در جهان مسیحیت، یکی از پیشرفت‌های بزرگ در علم اروپایی محسوب می‌شود. جایگزینی این اعداد با اعداد رومی، به‌جهت تسهیل نمودن عمل محاسبات، زمینه‌ساز بسیاری از پیشرفت‌های اروپاییان گردید. بعد از کتاب «الجبر و المقابله» دومین اثر خوارزمی که نامش را جاودان ساخت، همان کتاب آموزشی فن محاسبه بود. این کتابچه نیز به اسپانیا آورده و در اوایل قرن دوازدهم میلادی به لاتین برگردانده شد. ترجمه آن از عربی به لاتین با این جمله آغاز می‌گردد: چنین گفت الگوریتمی (الخوارزمی)، بگذار خدا را شکر گوئیم، سرور و حامی ما. یعنی واژه الگوریتم در ریاضیات همان نام خوارزمی است. جورجی زیدان در این خصوص می‌گوید: تأثیر خوارزمی در اروپا به قدری بود که دانشمندان مغرب زمین از کلمه الخوارزم، لفظ الگوریتم را اقتباس کردند. «فیلیپ هیتی»^۱ می‌گوید: نام او (خوارزمی) به شکل الگوریتم در اروپا معادل فن محاسبه تلقی شد.

عدد صفر تا قرن سیزدهم میلادی مجهول بود تا این که خوارزمی آن را کشف کرد و خود کلمه zero (صفرو) کلمه‌ای عربی است. فلیپ هیتی ورود آن را به زندگی روزانه انسان به منزله بزرگترین خدمتی می‌داند که دانش مسلمانان به دنیای غرب کرده است.

نکته جالب دیگر این که اصطلاح X به‌عنوان ناشناخته، در کتاب خوارزمی به کار برده شده و خوارزمی کلمه شیء (=چیز) را برای مجهول به کار گرفته است. این کلمه به صورت Xei وارد زبان اسپانیایی شد و بعدها به اختصار به X بدل شد. او کسی بود که علامات اعشاری را برای نخستین بار به کار برد.



۱ جاهای خالی را با عبارات مناسب پر کنید:

(الف) از $4^3 = 64$ نتیجه می‌شود: لگاریتم 64 در مبنای $\dots\dots\dots$ عدد $\dots\dots\dots$ است.

(ب) لگاریتم 32 در مبنای 2 عدد $\dots\dots\dots$ است؛ زیرا $2^5 = 32$.

(پ) از $2^{\frac{1}{3}} = \sqrt[3]{2}$ نتیجه می‌شود: لگاریتم $\sqrt[3]{2}$ در مبنای 2 عدد $\dots\dots\dots$ است.

(ت) با توجه به اینکه $7^4 = 2401$ داریم: $\log_7 2401 = \dots$

(ث) با توجه به $8^{-\frac{1}{3}} = \frac{1}{2}$ ، می‌توان گفت: $\log_8 \frac{1}{2} = \dots$

(ج) تساوی‌های $10^{-3} = \frac{1}{10^3} = \frac{1}{1000} = \frac{1}{1000}$ نشان می‌دهند: $\log_{10} 0.001 = \dots$

۲ مانند قسمت (الف) تساوی شامل لگاریتم متناظر با هر قسمت را بنویسید.

(الف) $16 = 4^2 \leftrightarrow \log_4 16 = 2$ (ب) $0.0001 = 10^{-4}$ (پ) $0.125 = 2^{-3}$

(ت) $2/1 = a^x$ (ث) $4/3 = 2^x$ (ج) $9 = (\frac{1}{3})^{-2}$ (چ) $(2401)^{\frac{1}{4}} = 7$

۳ در هر کدام از موارد زیر یک تساوی شامل لگاریتم داده شده است، مانند قسمت (الف)

تساوی شامل عدد توان دار متناظر با هر کدام را بنویسید.

(الف) $\log_4 64 = 6 \leftrightarrow 2^6 = 64$ (ب) $\log_3 (\frac{1}{9}) = -2$ (پ) $\log_6 3 = 6$

(ت) $\log_b C = 2$ (ث) $\log_3 2 = x$ (ج) $\log_{32} 2 = \frac{1}{5}$

۴ حاصل لگاریتم‌های زیر را به دست آورید:

(الف) $\log_7 49 = \dots$ (ب) $\log_5 125 = \dots$ (پ) $\log_7 128 = \dots$

(ت) $\log_7 \frac{1}{8} = \dots$ (ث) $\log_{10} 0.0001 = \dots$

۵ با استفاده از ماشین حساب، حاصل لگاریتم‌های زیر را تا دو رقم اعشار بنویسید:

(الف) $\log 50 \approx \dots$ (ب) $\log 12 \approx \dots$ (پ) $\log 2 \approx \dots$

۶ نوعی باکتری را در نظر بگیرید که وزن آنها پس از 1 واحد زمانی 4 برابر می‌شود.

(الف) پس از چند واحد زمانی، وزن 1 گرم از این باکتری‌ها 64 گرم خواهد شد؟

(ب) پس از چند واحد زمانی، وزن این باکتری‌ها 32 گرم خواهد شد؟

۷ در هر مورد زیر، یک تساوی شامل عددی توان دار و تساوی لگاریتمی متناظر با آن را طوری

بنویسید که حاصل، لگاریتم عددی با ویژگی خواسته شده باشد.

(الف) عدد طبیعی (ب) عدد صحیح منفی (پ) عدد گویا

خواص لگاریتم

گفتگو



اگر به کلام لاپلاس، در خصوص نقش لگاریتم در انجام محاسبات با اعداد بزرگ و آشنایی با مفهوم لگاریتم توجه کرده باشید، شاید این سؤال به ذهن شما نیز رسیده باشد که:

« چگونه برای ضرب و تقسیم اعداد بزرگ از لگاریتم استفاده می کنند؟ »

دبیر پرسید: با توجه به فعالیت (۱) که در خصوص فاصله ستارگان و برای معرفی لگاریتم مطرح شد، آیا کسی می تواند پاسخ سؤال فوق را حدس بزند؟

مریم گفت: در فعالیت (۱) برای ضرب دو عدد بزرگ ابتدا آنها را به صورت دو عدد توان دار نوشتیم. سپس توان های آنها را با هم جمع کرده و مقدار عدد توان دار جدید را به دست آوردیم. بنابراین، با استفاده از جدول مقادیر توان های ۳، عمل ضرب اعداد، به جمع توان های آنها تبدیل شد.

دبیر گفت: بله، بنابراین شما به جای ضرب و تقسیم اعداد توان دار، توان های آنها را جمع و تفریق کردید. با توجه به مفهوم لگاریتم، این توان ها چه هستند؟

مریم گفت: این توان ها، لگاریتم آن اعداد در مبنای ۳ بودند. یعنی برای انجام محاسبه مورد نیاز، لگاریتم ها را جمع یا تفریق کردیم.

دبیر گفت: پاسخ نهایی سؤال شما مربوط به خواص لگاریتم است. فعالیت زیر یکی از خواص مهم لگاریتم را نشان می دهد.

فعالیت ۴



۱ جدول زیر را کامل کنید.

b	c	$\log b$	$\log c$	bc	$\log bc$
۱۰	۱۰۰	۱	۱۰۰۰	۳
۱۰۰۰۰	۱۰۰۰	۳	۷
۰/۱	۱۰۰	-۱	$۱۰^{-۳}$
$\sqrt{۱۰}$	$\sqrt{۱۰}$	۱
۱۰^x	۱۰^y	x	۱۰^{x+y}

۲ در هر سطر چه رابطه ای بین اعداد ستون های $\log b$ و $\log c$ و ستون $\log bc$ وجود دارد؟

.....

۳ این رابطه را به صورت یک جمله بیان نمایید و آن را با زبان ریاضی بنویسید.

.....

فعالیت (۴) نشان می‌دهد که لگاریتم حاصل ضرب دو عدد با مجموع لگاریتم‌های آن دو عدد برابر است. این یکی از خواص مهم لگاریتم است و در حالت کلی داریم:

$$\log bc = \log b + \log c \quad \text{برای } b, c > 0 \text{ داریم:}$$

نکته



این رابطه برای لگاریتم‌هایی که مبنای غیر از ۱۰ دارند نیز برقرار است.

مثال ۶

با استفاده از این خاصیت لگاریتم، می‌توانیم بدون آنکه دو عدد را ضرب کنیم لگاریتم حاصل ضرب آنها را به دست آوریم.

$$\text{الف) } \log 100 \sqrt[5]{10} = \log (100 \times \sqrt[5]{10}) = \log 100 + \log \sqrt[5]{10} = 2 + \log 10^{\frac{1}{5}} = 2 + \frac{1}{5} = \frac{11}{5}$$

$$\text{ب) } \log 2 + \log 5 = \log (2 \times 5) = \log 10 = 1$$

$$\text{پ) } \log 125 + \log 4 + \log 2 = \log (125 \times 4 \times 2) = \log 1000 = 3$$

اکنون که با لگاریتم و یکی از خاصیت‌های آن آشنا شده‌ایم، می‌توانیم مسئله مربوط به فعالیت (۱) را به کمک لگاریتم حل کنیم.

مثال ۷

فاصله زمین از خورشید با دقت بیشتر ۱۴۹۶۸۰۰۰۰ کیلومتر و فاصله ستاره پروکسیما قنطورس تا زمین با دقت بیشتر ۲۶۸۶۰۶ برابر فاصله زمین تا خورشید است. برای به دست آوردن فاصله این ستاره تا زمین باید حاصل ضرب ۲۶۸۶۰۶ × ۱۴۹۶۸۰۰۰۰ را حساب کنیم. انجام این ضرب مشکل است ولی محاسبه لگاریتم آن آسان است. کافی است که لگاریتم این دو عدد را حساب کنیم و با هم جمع کنیم. بنابراین ابتدا لگاریتم این دو عدد را به کمک ماشین حساب به دست می‌آوریم:

$$\log 268606 \approx 5/4 \quad \text{و} \quad \log 149680000 \approx 8/2$$

با استفاده از خاصیت لگاریتم داریم:

$$\log (149680000 \times 268606) = \log 149680000 + \log 268606 \approx 8/2 + 5/4 = 13/6$$

$$\text{پس: } \log (149680000 \times 268606) \approx 13/6$$

چون مبنای این لگاریتم 10 بوده است، خواهیم داشت:

$$149680000 \times 268606 \approx 10^{13/6}$$

با استفاده از ماشین حساب داریم: $10^{13/6} \approx 39810717055349$.

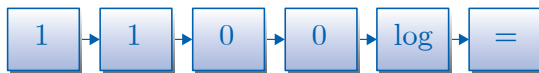
بنابراین فاصله مورد نظر تقریباً 39810717055349 کیلومتر است.

این شیوه محاسبه را برای محاسبه حاصل ضرب هر دو عدد بزرگ یا کوچکی می‌توان به کار برد.

استفاده از ماشین حساب

با استفاده از ماشین حساب، $\log 100 + \log 1000$ و $\log(100 + 1000)$ را با تقریب تا دو رقم اعشار به دست آورید و در مربع علامت مساوی (=) یا نامساوی (\neq) قرار دهید:

$$\log(100 + 1000) \square \log 100 + \log 1000$$



در حالت کلی: برای $a, b > 0$ داریم: $\log(a + b) \neq \log a + \log b$

نکته



کارد کلاس ۴



۱ حاصل لگاریتم‌های زیر را به دست آورید.

الف) $\log 4 + \log 25 =$

ب) $\log 100 \sqrt{10} =$

پ) $\log \sqrt[3]{20} + \log \sqrt[3]{2} + \log \sqrt[3]{25} =$

۲ فاصله دورترین ستاره‌ای که با چشم غیر مسلح قابل رؤیت است از زمین، $10^{11} \times 5056119722$ برابر فاصله زمین از خورشید است. فاصله این ستاره از زمین را با استفاده از ماشین حساب به دست آورید.

دیدیم که لگاریتم حاصل ضرب دو عدد مثبت با مجموع لگاریتم‌های آنها برابر است. در مورد لگاریتم تقسیم دو عدد، چه رابطه‌ای برقرار است؟ فعالیت صفحه بعد به بررسی این مطلب می‌پردازد.



۱ جدول زیر را کامل کنید.

b	c	$\log b$	$\log c$	$\frac{b}{c}$	$\log \frac{b}{c}$
۱۰۰۰	۱۰	۳	۱۰۰
۱۰۰	۱۰
۰/۱	۱۰۰	-۱	10^{-3}
$100\sqrt{10}$	$10\sqrt{10}$	$\frac{3}{2}$
10^x	10^y	x	10^{x-y}

۲ در هر سطر چه رابطه‌ای بین اعداد ستون‌های $\log b$ و $\log c$ و ستون $\log \frac{b}{c}$ وجود دارد؟

این رابطه را به صورت یک جمله بیان کنید و آن را با زبان ریاضی بنویسید.

فعالیت (۵) نشان می‌دهد که لگاریتم تقسیم دو عدد با لگاریتم مقسوم منهای لگاریتم مقسوم علیه برابر است، در حالت کلی داریم:

$$\log \frac{b}{c} = \log b - \log c \quad \text{برای } b, c > 0$$

نکته



این خاصیت، برای لگاریتم‌هایی که مبنای غیر از ۱۰ دارند نیز برقرار است.

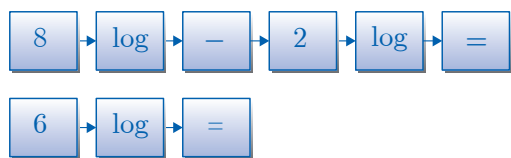
مثال ۸

الف) با توجه به $\log 5 \approx 0.7$ و $\log 20 \approx 1.3$ مقدار تقریبی $\log 4$ را به دست می‌آوریم:

$$\log 4 = \log \frac{20}{5} = \log 20 - \log 5 \approx 0.6$$

$$\text{ب) } \log \frac{1}{100} = \log 1 - \log 100 = 0 - 2 = -2$$

استفاده از ماشین حساب



با استفاده از ماشین حساب، $(\log 8 - \log 2)$ و $\log (8-2)$ را با تقریب دو رقم اعشار به دست آورید و در مربع، علامت مناسب مساوی (=) یا نامساوی (\neq) قرار دهید.

$$\log(8-2) \square \log 8 - \log 2$$



در حالت کلی: برای $a, b > 0$ داریم: $\log(a-b) \neq \log a - \log b$



۱ حاصل لگاریتم‌های زیر را به دست آورید.

الف) $\log 20 - \log 2 =$ ب) $\log 0.001 = \log \frac{1}{1000} = \dots$

۲ با تکمیل نقطه چین‌ها، نتیجه فعالیت (۵) را با استفاده از خاصیت لگاریتم ضرب دو عدد به دست آورید (b و $c > 0$).

$$\log(bc) = \log\left(\frac{bc}{c}\right) = \log\left(\frac{b}{c} \times c\right) = \log\left(\frac{b}{c}\right) + \dots$$

$$\log\left(\frac{b}{c}\right) = \dots - \dots$$

بنابراین:

از رابطه $(a^m)^n = a^{mn}$ می‌توان استفاده کرد و خاصیت دیگری از لگاریتم را به دست آورد.

۱ جدول زیر را تکمیل کنید.



b	n	b^n	$\log b$	$\log b^n$
۱۰	۵
۱۰۰	۲	۲
۰/۱	۳	-۱
$\sqrt{10}$	۴
10^x	n	$(10^x)^n = 10^{nx}$	x

۲ در هر سطر، چه رابطه‌ای بین اعداد ستون‌های n و $\log b$ و عدد ستون $\log b^n$ وجود دارد؟ این رابطه را به صورت یک جمله بیان کنید و آن را با زبان ریاضی بنویسید.

.....

فعالیت بالا نشان می‌دهد که لگاریتم b^n برابر است با n برابر لگاریتم b . در حالت کلی داریم:

نکته



برای $b > 0$ و هر عدد حقیقی x داریم: $\log b^x = x \log b$

ویژگی بالا برای لگاریتم‌هایی که مبنای غیر از ۱۰ دارند نیز برقرار است.

مثال ۹

به کمک خواص لگاریتم، عبارت‌های زیر را به صورت یک لگاریتم بنویسید و در صورت امکان ساده کنید ($a, b, c > 0$):

الف) $3 \log \sqrt[3]{5} + 2 \log \sqrt{2} = \log(\sqrt[3]{5})^3 + \log(\sqrt{2})^2 = \log 5 + \log 2 = \log(5 \times 2) = \log 10 = 1$

ب) $\frac{1}{4} \log a + 2 \log b - 5 \log c = \log a^{\frac{1}{4}} + \log b^2 - \log c^5 = \log \frac{\sqrt[4]{a} b^2}{c^5}$

مثال ۱۰

عبارت‌های زیر را به صورت مجموع یا تفاضل چند لگاریتم بنویسید و در صورت امکان ساده کنید ($x, y, z > 0$):

الف) $\log(5^6 \times 10^3) = \log 5^6 + \log 10^3 = 6 \log 5 + 3$

ب) $\log \frac{10x^2y^5}{z^4} = \log 10 + \log x^2 + \log y^5 - \log z^4 = 1 + 2 \log x + 5 \log y - 4 \log z$

کارد کلاس ۶



۱ حاصل لگاریتم‌های زیر را به دست آورید.

الف) $\log 2000^5 - \log 2^5 =$

ب) $\log 12 + 2 \log 2 - \frac{1}{2} \log 36 + \log 125 =$

۲ عبارت‌های زیر را به صورت یک لگاریتم بنویسید ($b, c, x > 0$).

الف) $4 \log 6 + 5 \log b - \frac{1}{2} \log c =$

ب) $\log x^2 - \log x =$

اکنون که با مفهوم لگاریتم و برخی از خواص آن آشنا شده‌اید به سؤال صفحه بعد که توسط یکی از هنرجویان مطرح شده است دقت کنید:



مریم گفت: در ماشین حساب‌ها معمولاً کلید لگاریتم در مبنای 10 وجود دارد. آیا راهی وجود دارد که لگاریتم در مبنای غیر از 10 را نیز با استفاده از این ماشین حساب‌ها به دست آورد؟
دبیر گفت: در پدیده‌های واقعی معمولاً لازم است لگاریتم اعداد در مبنای غیر از 10 را به دست آوریم، محاسبه لگاریتم این اعداد بدون استفاده از ماشین حساب کار ساده‌ای نیست.
مریم گفت: آیا راهی برای محاسبه مقدار این لگاریتم با استفاده از ماشین حساب وجود دارد؟
دبیر گفت: با انجام فعالیت زیر با خاصیت دیگری از لگاریتم آشنا خواهید شد، برای محاسبه لگاریتم اعداد در هر مبنا به کمک ماشین حساب از این خاصیت می‌توان استفاده کرد.



۱ جدول زیر را کامل کنید.

b	a	$\log b$	$\log a$	$\frac{\log b}{\log a}$	$\log_a b$
۱۰۰	۱۰	۲
۱۰	۱۰۰	۲	$\frac{1}{2}$
$\sqrt{10}$	۱۰	۱
۱۰۰۰	۱۰۰	$\frac{3}{2}$

۲ با مقایسه اعداد دو ستون آخر چه نتیجه‌ای می‌گیرید؟ چه رابطه‌ای بین $\log_a b = \frac{\log b}{\log a}$ وجود دارد؟

.....

فعالیت (۷) نشان می‌دهد که لگاریتم یک عدد در مبنای غیر از 10 را می‌توان به صورت تقسیم لگاریتم دو عدد در مبنای 10 نوشت، در حالت کلی داریم:

$$\log_a b = \frac{\log b}{\log a} \quad \text{برای } a, b > 0 \text{ و } a \neq 1$$



با استفاده از خاصیت بالا، محاسبه لگاریتم اعداد در هر مبنایی با استفاده از ماشین حساب‌هایی که فقط قابلیت محاسبه لگاریتم در مبنای 10 را دارند، امکان‌پذیر می‌باشد.

مثال ۱۱

برای محاسبه $\log_3 5$ به کمک ماشین حساب داریم: $\log 5 \approx 0.7$ و $\log 3 \approx 0.47$ بنابراین:

$$\log_3 5 = \frac{\log 5}{\log 3} \approx \frac{0.7}{0.47} \approx 1.48$$

استفاده از ماشین حساب



با استفاده از ماشین حساب حاصل $\log_8 8$ را به دست آورید:

حاصل هر کدام از قسمت‌های زیر را به صورت یک لگاریتم بنویسید.

الف) $\frac{\log 4}{\log 3}$

ب) $2 + \log_5 3$

کارد کلاس ۷





۱ عبارتهای زیر را به صورت یک لگاریتم بنویسید و در صورت امکان ساده کنید.

الف) $\log \sqrt{5} + \log \sqrt{2} = \dots$

ب) $\log 4000 - \log 4 = \dots$

پ) $2 \log 50 + 2 \log 2 = \dots$

ت) $5 \log x - \log y = \dots$

ث) $3 \log a + 2 \log b - \log z - \log a^2 + \log 4 = \dots$

ج) $4 + \log_4 3 = \dots$

چ) $4 - \log_3 5 = \dots$

۲ اگر $\log 2 \approx 0/301$ و $\log 3 \approx 0/477$ حاصل عبارات زیر را به دست آورید.

الف) $\log 4$ ب) $\log 6$ پ) $\log 18$ ت) $\log \frac{2}{3}$ ث) $\log 5$ ج) $\log 45$

۳ درستی تساویهای زیر را بررسی کنید.

الف) $\frac{\log 10}{\log 100} = \frac{1}{10}$ ب) $\log 100 + \log 0/01 = 0$ پ) $(\log 1000)^2 = \log 1000^2$

۴ الف) با استفاده از ماشین حساب، تقریب اعشاری اعداد $\log 20$ و $\log 30$ و $\log 600$ را تا دو

رقم اعشار به دست آورید. آیا تساوی $\log(20 \times 30) = \log 20 + \log 30$ برقرار است؟

ب) به کمک قسمت الف) در مربع علامت مناسب \neq یا $=$ را قرار دهید:

برای اعداد مثبت a و b در حالت کلی داریم: $\log(a \times b) \square \log a + \log b$

۵ باکتری‌هایی را در نظر بگیرید که وزن آنها پس از ۱ واحد زمانی ۲ برابر می‌شود. با استفاده

از ماشین حساب تعیین کنید پس از چند واحد زمانی وزن این باکتری‌ها ۲۰ گرم خواهد شد؟

استاندارد ارزشیابی مبتنی بر شایستگی پودمان چهارم


عنوان پودمان	شایستگی‌های مورد انتظار (واحد‌های یادگیری)	استاندارد عملکرد (کیفیت)	سطح احراز شایستگی	شاخص تحقق
کاربرد لگاریتم	آشنایی با عملکرد لگاریتم و توان‌رسانی انجام محاسبات لگاریتمی	حل مسائل مرتبط با لگاریتم	بالاتر از حد انتظار	اجرای شایسته فعالیت‌های مکمل که انجام آنها، نیل به حد بالاتر از انتظار در شایستگی را برای هنرآموز محرز نماید.
			در حد انتظار	حل مسائل مرتبط با لگاریتم و خواص آن
			پایین‌تر از حد انتظار	در صورتی که هنرجو حتی یکی از شاخص‌های در حد انتظار را محقق ننماید، پایین‌تر از حد انتظار ارزشیابی می‌شود.
<p>لازم است تا کیفیت فرایند شایستگی (بر اساس انجام فعالیت‌های کلاسی، نظم، رعایت توصیه‌های زیست‌محیطی، ایمنی و بهداشت، مشارکت در فعالیت‌های آموزشی و تربیتی، ابتکار در تکالیف عملکردی درسی، مشارکت در فعالیت‌های گروهی و جمعی و...) در نظر گرفته شود.</p>				
<p>سطح شایستگی کسب شده در پودمان (بالاتر از حد انتظار، در حد انتظار، پایین‌تر از حد انتظار)</p>				





پودمان پنجم

آمار توصیفی



آنترپومتری (Anthropometry) به معنای مردم‌سنجی یا انسان‌سنجی است که در آن به اندازه‌گیری بخش‌های مختلف بدن انسان به منظور شناسایی تفاوت‌ها و دسته‌بندی فیزیکی مردمان پرداخته می‌شود. نظریه‌های مختلفی در ارتباط با اندازه‌بخش‌های مختلف اعضای بدن انسان وجود دارد. کاربرد اولیه این اندازه‌گیری‌ها در مردم‌شناسی جسمانی یا دیرین مردم‌شناسی بود تا از این طریق به درک بهتری از طبقه‌بندی انسان‌ها برسند. بررسی تخصصی جمجمه یا جمجمه‌سنجی نیز شاخه‌ای از این دانش است. طرح‌هایی از اندازه‌گیری بخش‌های بدن انسان در دفترچه خاطرات لئوناردو داوینچی نیز دیده می‌شود. از سال‌های دهه ۱۹۵۰ میلادی، مهندسی آنترپومتری با هدف اندازه‌گیری، تحلیل و به‌کارگیری اندازه‌بخش‌های مختلف بدن انسان، برای طراحی و ارزیابی محصولات، ابزار و محیط‌های کاری معرفی شد. امروزه مردم‌سنجی در زمینه‌های طراحی صنعتی، طراحی پوشاک، ارگونومی و معماری کاربردهای بسیاری دارد.

خط بهترین برارش

علی در کارگاه پیراهن‌دوزی مردانه مشغول کار است. او پارچه‌ها را برای بُرش آماده می‌کند. روزی امیر، مسئول کارگاه، وارد شد.

امیر گفت: علی صبر کن. برش‌ها را متوقف کن. باز هم مرجوعی داریم.

علی گفت: دوباره چه اشکالی پیش آمده؟

امیر گفت: مثل دفعه‌های قبل. یکی می‌گوید یقه‌اش اندازه است ولی مچ آن تنگ است و دیگری می‌گوید مچ اندازه است ولی یقه‌اش تنگ است. بالاخره نفهمیدیم باید با اندازه چه کسی کار کنیم! ولی باید فکری کرد. اگر همین‌طور پیش برویم، مشتری‌هایمان را از دست می‌دهیم.



علی گفت: این جدول اندازه‌هایی است که معمولاً طبق آن برش می‌زنم.

۵۲	۵۰	۴۸	۴۶	سایز
۴۵	۴۵	۴۵	۴۵	قد بالا تنه
۲۴	۲۳	۲۲	۲۱	نصف کارور پشت
۲۴	۲۳	۲۲	۲۱	نصف دور پشت
۶+۵۲	۶+۵۰	۶+۴۸	۶+۴۶	نصف دور سینه
۴۲	۴۰	۳۸	۳۶	دور گردن
۷۸	۷۷	۷۶	۷۵	قد پیراهن
۴۴	۴۲	۴۰	۳۸	کادر آستین
۶۱	۶۱	۶۰	۶۰	قد آستین
۲۶	۲۵	۲۴	۲۳	دور مچ

امیر گفت: ظاهراً این اندازه‌ها مناسب نسل جدید ما نیست. باید فکری کرد.
 علی گفت: یعنی باید برویم پسرهای شهر را ردیف کنیم و دور گردن و دور مچ دستشان را اندازه بگیریم؟!
 امیر گفت: اگر برای نجات کسب و کارم مجبور به این کار شوم، شاید هم بله!
 فکر می‌کنید آیا امیر مجبور به انجام چنین کاری می‌شود؟ اصولاً در وضعیت‌های مشابه آیا امکان دارد که همه افراد جامعه را اندازه‌گیری کنیم؟ در چنین وضعیت‌هایی شرکت‌های تولیدی چه می‌کنند؟
 فعالیت زیر به شما کمک می‌کند تا فرایندی را که تولیدکنندگان بزرگ طی می‌کنند بهتر درک کنید.

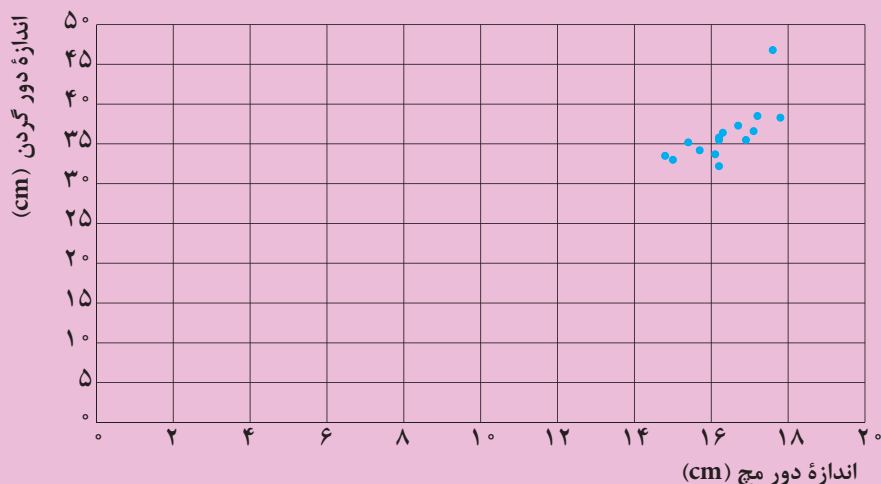
فعالیت ۱



نظریه‌ای وجود دارد که نشان می‌دهد بین اندازه دور مچ دست و اندازه دور گردن افراد یک رابطه خطی وجود دارد. تولیدکنندگان با داشتن این رابطه می‌توانند اندازه‌های مناسبی برای محصولات خودشان در نظر بگیرند. برای آشنایی با فرایند پیدا کردن این رابطه، اندازه دور گردن و دور مچ دست ۱۵ نفر در جدول زیر آورده شده است.

اندازه دور گردن (y بر حسب cm)	اندازه دور مچ (x بر حسب cm)
۳۳/۵	۱۴/۸
۳۳	۱۵
۳۵/۲	۱۵/۴
۳۴/۲	۱۵/۷
۳۳/۷	۱۶/۱
۳۲/۲	۱۶/۲
۳۵/۵	۱۶/۲
۳۵/۸	۱۶/۲
۳۶/۴	۱۶/۳
۳۷/۳	۱۶/۷
۳۵/۵	۱۶/۹
۳۶/۶	۱۷/۱
۳۸/۵	۱۷/۲
۴۶/۸	۱۷/۶
۳۸/۳	۱۷/۸

در صفحهٔ مختصات زیر، نقطه‌هایی مشخص شده است که طول هر نقطه، نشان‌دهندهٔ اندازهٔ دور میچ و عرض آن نشان‌دهندهٔ اندازهٔ دور گردن یک نفر است.



۱ آیا نقاط، روی یک خط راست قرار دارند؟

۲ خطی (به‌طور تقریبی) رسم کنید که تا حد ممکن با نقاط مشخص شده در صفحه، کمترین فاصله را داشته باشد. سعی کنید نیمی از نقاط در بالای خط و نیمی دیگر زیر خط و با فاصلهٔ یکسان از خط قرار گیرند.

۳ اطلاعات جدول صفحهٔ قبل را در Excel وارد کنید و طبق دستورالعمل صفحهٔ ۱۲۰، به کمک Excel خطی رسم کنید که کمترین فاصله را با نقاط مشخص شده روی صفحه داشته باشد.

۴ اگر x اندازهٔ دور میچ و y اندازهٔ دور گردن باشد، معادلهٔ خط رسم شده را به کمک Excel طبق دستورالعمل صفحهٔ ۱۲۶ پیدا کنید.

۵ ستون y' را با دو رقم اعشار کامل کنید. (y' اندازهٔ دور گردن به کمک معادلهٔ خط است).

اندازه دور مچ (x بر حسب cm)	اندازه دور گردن (y بر حسب cm)	y'	خطا: $e = y - y'$	e^2	y''	خطا: $e' = y - y''$	e'^2
۱۴/۸	۳۳/۵	۳۱/۹۵	+۱/۵۵	۲/۴	۳۲/۸۶	۰/۶۴	۰/۴۱
۱۵	۳۳						
۱۵/۴	۳۵/۲	۳۳/۶۱	۱/۵۹	۲/۵۲	۳۳/۹۱	۱/۲۹	۱/۶۵
۱۵/۷	۳۴/۲	۳۴/۴۵	-۰/۲۵	۰/۰۶	۳۴/۴۴	-۰/۲۳۵	۰/۰۶
۱۶/۱	۳۳/۷						
۱۶/۲	۳۲/۲	۳۵/۸۴	-۳/۶۴	۱۳/۲۲	۳۵/۳۱	-۳/۱۱	۹/۶۷
۱۶/۲	۳۵/۵	۳۵/۸۴	-۰/۳۴	۰/۱۲	۳۵/۳۱	۰/۱۹	۰/۰۴
۱۶/۲	۳۵/۸	۳۵/۸۴	-۰/۰۴	۰	۳۵/۳۱	۰/۴۹	۰/۲۴
۱۶/۳	۳۶/۴						
۱۶/۷	۳۷/۳						
۱۶/۹	۳۵/۵						
۱۷/۱	۳۶/۶	۳۸/۳۴	-۱/۷۴	۳/۰۲	۳۶/۸۶	-۰/۲۹	۰/۰۸
۱۷/۲	۳۸/۵						
۱۷/۶	۴۶/۸	۲۹/۷۳	۷/۰۷	۵۰/۰۱			
۱۷/۸	۳۸/۳	۴۰/۲۸	-۱/۹۹	۳/۹۴	۳۸/۱۱	۰/۱۹	۰/۰۴

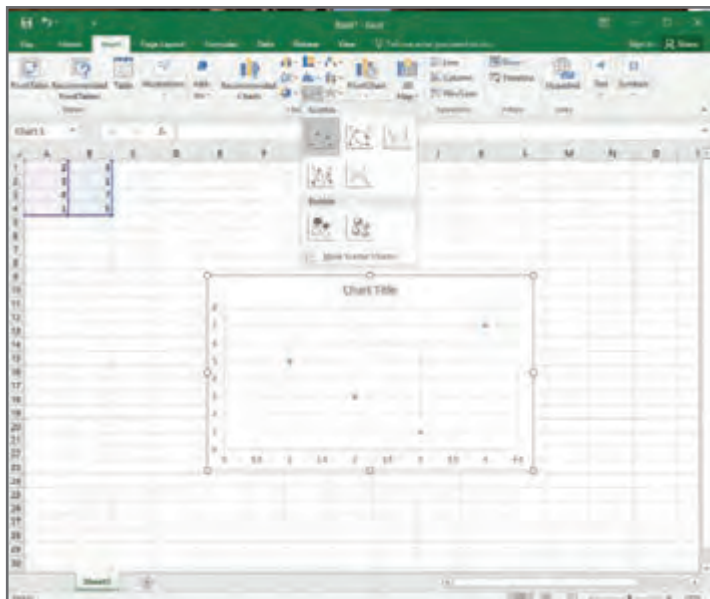
۶ آیا مقادیر به دست آمده به کمک معادله خط، با مقادیر اندازه‌گیری شده برابرند؟ چرا؟

۷ ستون خطا (e)، اختلاف مقدار واقعی و مقدار تخمین زده شده را کامل کنید.

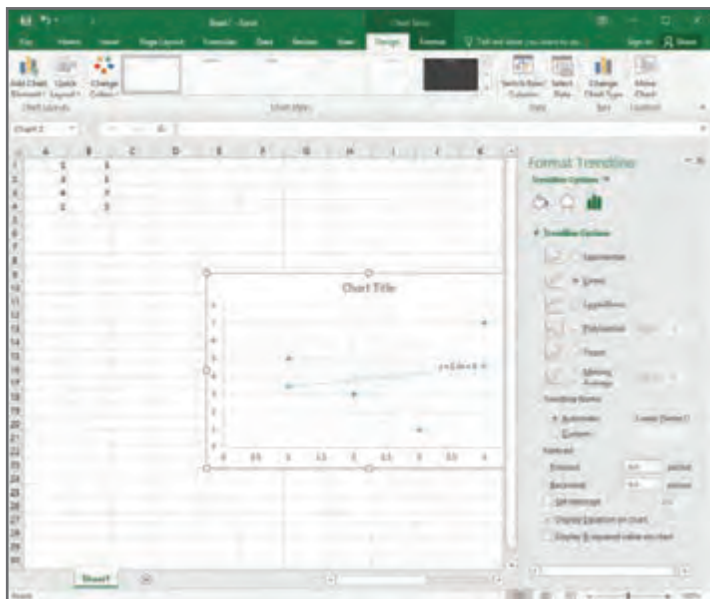
۸ به کمک دستور Σ در Excel مجموع خطاها (ستون e) را به دست آورید. آیا این عدد مجموع واقعی خطاها را نشان می‌دهد؟ چرا؟

۹ مجموع مجذور خطاها را به دست آورید.

۱۰ فکر می‌کنید چرا مجذور خطاها را به دست می‌آوریم؟



یک کاربرد در excel باز کنید. در ستون اول اندازه‌های دور میچ (محور x ها) و در ستون دوم اندازه‌های دور گردن (محور y ها) را وارد کنید. به منظور رسم نمودار، اطلاعات دو ستون را گرفته، از منوی **insert > chart type** (نوع نمودار) و سپس **scatter** (پراکنش) را انتخاب کنید.



به منظور پیدا کردن معادله خط بهترین برازش، روی یکی از نقطه‌ها، راست کلیک کنید و گزینه **Add TrendLine** را انتخاب کنید و در پنجره‌ای که باز می‌شود، گزینه **Display Equation on Chart** را انتخاب کنید.

در آمار، نموداری را که در فعالیت (۱) رسم کردید، نمودار پراکنش می‌نامند. خطی که در فعالیت (۱) به کمک excel رسم شد، خط بهترین برازش نام دارد. این نام‌گذاری به این دلیل است که این خط، بهترین رابطه خطی ممکن بین دو کمیت «اندازه دور میچ» و «اندازه دور گردن» را نشان می‌دهد. شیب مثبت خط نشان می‌دهد که با افزایش اندازه دور میچ، اندازه دور گردن نیز افزایش می‌یابد. از نمودار پراکنش و خط بهترین برازش برای بررسی رابطه بین دو کمیت استفاده می‌شود. در نمودار فعالیت (۱)، هر نقطه در صفحه مختصات، نشان‌دهنده اندازه دور میچ دست (طول نقطه) و اندازه دور گردن (عرض نقطه) یک نفر است.



نمودار پراکنش دو کمیت، مجموعه‌ای از نقاط در صفحه مختصات است که طول و عرض هر نقطه، داده‌های مربوط به اندازه‌گیری‌های متناظر دو کمیت است.

ادریان لژاندر در سال ۱۸۰۵ میلادی با یافتن ضریب زاویه و عرض از مبدأ آن خط، روشی برای رسم خط بهترین برازش پیدا کرد. او در این روش سعی کرد تا مجموع مجذور خطاهای بین مقدار واقعی و مقدار محاسبه شده، کمترین مقدار شود. خط به دست آمده با این روش را خط بهترین برازش و این روش را **روش کمترین مجذورات** می‌نامند. همان طور که در فعالیت (۱) مشاهده کردید، به دلیل اینکه مقادیر خطاها مثبت یا منفی هستند (خطا زمانی صفر است که نقطه دقیقاً روی خط قرار داشته باشد) مجموع خطاها، مقدار خطای واقعی را نشان نمی‌دهد. به همین دلیل مجموع مجذور خطاها را به دست می‌آوریم تا علامت‌ها خطاها تأثیرگذار نباشد. برای رفع این مشکل می‌توان از قدر مطلق خطاها نیز استفاده کرد، ولی به دلیل دشواری انجام محاسبات با قدر مطلق، از مجذور خطاها استفاده می‌کنیم.



۱ در فعالیت (۱) با حذف سطر مربوط به $17/6$ (در ستون اول)، نقطه $\begin{bmatrix} 17/6 \\ 46/8 \end{bmatrix}$ را از داده‌هایتان خارج کنید؛ و خطی رسم کنید که کمترین فاصله را با نقاط داشته باشد.

۲ ستون y'' را با دو رقم اعشار کامل کنید. (y'' اندازه دور گردن به کمک معادله جدید خط است).

۳ ستون e' را کامل کنید.

۴ مجموع مجذور خطاها را برای مقادیر به دست آمده برای y'' به دست آورید و با جواب قسمت ۱۰ در فعالیت (۱) مقایسه کنید.

۵ فکر می‌کنید کدام خط برای پیش‌بینی مناسب‌تر است؟ چرا این اتفاق می‌افتد؟

در آمار، نقطه $\begin{bmatrix} 17/6 \\ 46/8 \end{bmatrix}$ را که با بقیه داده‌ها تفاوت قابل ملاحظه‌ای دارد، داده پرت^۱ می‌نامند. معمولاً

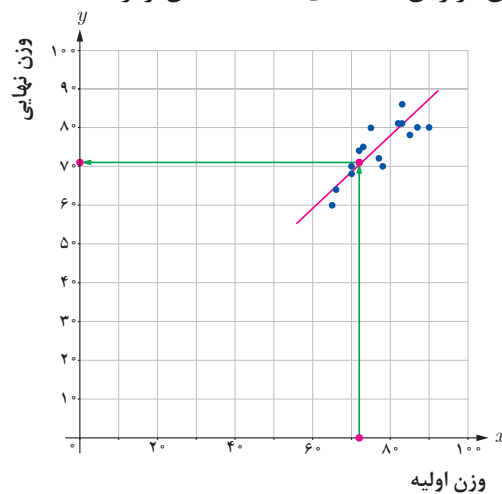
اگر داده‌های پرت را از داده‌ها خارج کنیم درک بهتری از وضعیت به دست می‌آوریم. در بسیاری از موارد خط بهترین برازش، رابطه خطی مناسبی را بین دو کمیت به ما می‌دهد، و از طریق آن می‌توان مقادیر متنظر بین این کمیت‌ها را پیش‌بینی و از این پیش‌بینی‌ها در برنامه‌ریزی‌ها استفاده کرد. معمولاً تولیدکنندگان، از این روش برای تولید محصولات که برای عموم عرضه می‌شود، استفاده می‌کنند.

مثال ۱

در یک مطالعه، تأثیر مصرف یک داروی خاص بر کاهش وزن، بررسی شده است. وزن اولیه و وزن نهایی ۱۵ شرکت‌کننده در این مطالعه برحسب کیلوگرم در جدول زیر نشان داده شده است.

وزن اولیه	وزن نهایی
۸۳	۸۱
۸۲	۸۱
۷۰	۶۸
۷۳	۷۵
۷۰	۷۰
۸۵	۷۸
۷۷	۷۲
۷۲	۷۴
۶۵	۶۰
۷۸	۷۰
۷۵	۸۰
۸۳	۸۶
۶۶	۶۴
۹۰	۸۰
۸۷	۸۰

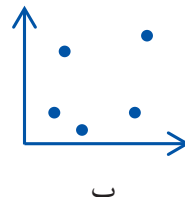
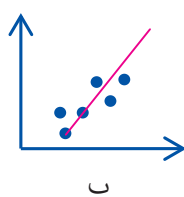
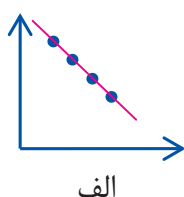
نمودار پراکنش و خط بهترین برازش داده‌های بالا به شکل زیر است.



از روی نمودار می‌توان پیش‌بینی کرد که اگر فردی با وزن ۷۲ کیلوگرم از این دارو استفاده کند، پس از زمان تجویز شده برای مصرف، ۷۱ کیلوگرم خواهد شد.

مثال ۲

در نمودارهای زیر، هر نقطه نشان‌دهنده مقادیر متناظر بین دو کمیت است. در کدام نمودارها، بین این دو کمیت رابطه‌ای وجود دارد؟ رابطه بین این دو کمیت را در هر نمودار، از لحاظ افزایشی یا کاهششی بودن یکی بر حسب دیگری، توصیف کنید.

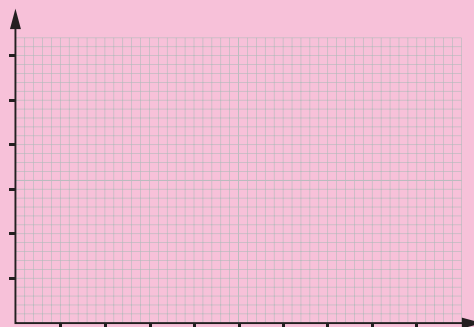


همان‌طور که مشاهده می‌شود، نقاط مشخص شده در نمودار (الف)، روی یک خط راست قرار دارند و با افزایش مقادیر روی محور x ، مقادیر روی محور y کاهش می‌یابد. نقاط مشخص شده در نمودار (ب)، روی یک خط راست قرار ندارند ولی با افزایش مقادیر روی محور x ، عموماً مقادیر روی محور y افزایش می‌یابد. در این وضعیت می‌توان رابطه بین دو کمیت را به طور تقریبی با خط نشان داد. با دقت روی نقاط مشخص شده در نمودار (پ)، متوجه می‌شویم که تغییرات مقادیر روی محور x هیچ‌گونه اطلاعاتی درباره تغییرات مقادیر روی محور y به ما نمی‌دهد. در این وضعیت احتمالاً بین دو کمیت رابطه‌ای وجود ندارد. دقت پیش‌بینی از روی نمودار (الف) بیشتر از دقت پیش‌بینی از روی نمودار (ب) است.



برخی از هنرآموزان عقیده دارند که درصد قبولی هنرجویان در یک کلاس با تعداد هنرجویان در کلاس رابطه دارد. جدول زیر تعداد هنرجویان در کلاس‌های مختلف یک هنرستان و درصد قبولی آنها در امتحان پایان سال را نشان می‌دهد.

تعداد هنرجویان در کلاس	درصد قبولی
۱۰	۸۰
۱۵	۶۰
۳۰	۵۰
۱۲	۸۰
۲۵	۵۰
۲۴	۵۰
۱۵	۷۰
۶۰	۷۰
۲۸	۴۰
۱۲	۸۰



۱ نمودار پراکنش را رسم کنید.

۲ خط بهترین برازش را رسم کنید.

۳ پیش‌بینی می‌کنید چند درصد از هنرجویان در یک کلاس ۴۰ نفره قبول می‌شوند.

۴ برخی عقیده دارند نقطه $\begin{bmatrix} 60 \\ 70 \end{bmatrix}$ (اطلاعات مربوط به یک کلاس ۶۰ نفره) یک داده پرت

(مربوط به یک وضعیت غیر معمول) است. فکر می‌کنید اگر در تحلیل خود این داده را کنار بگذارید، بهتر است یا خیر؟ توضیح دهید چرا؟

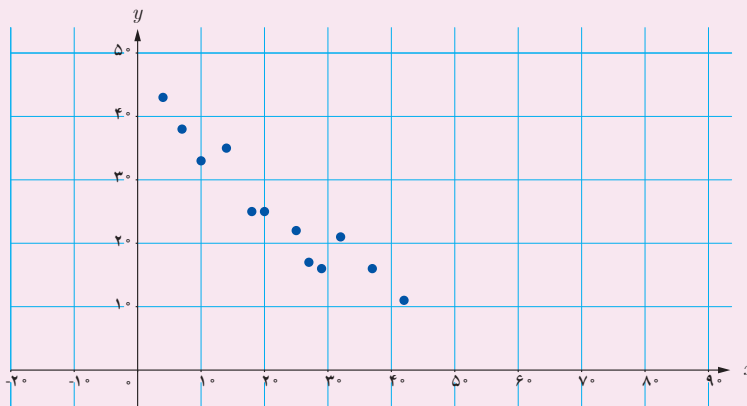
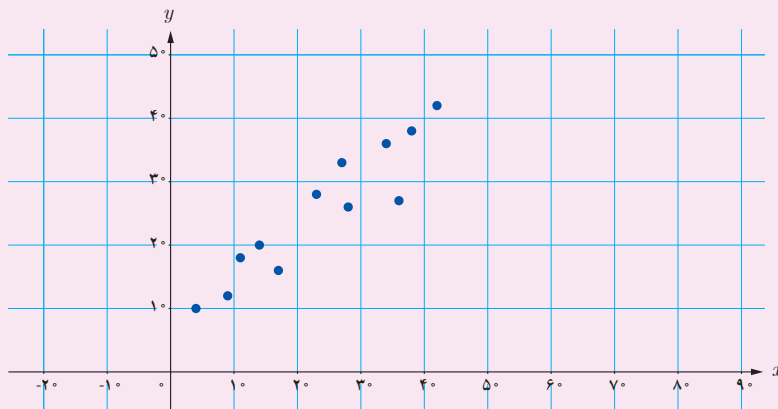
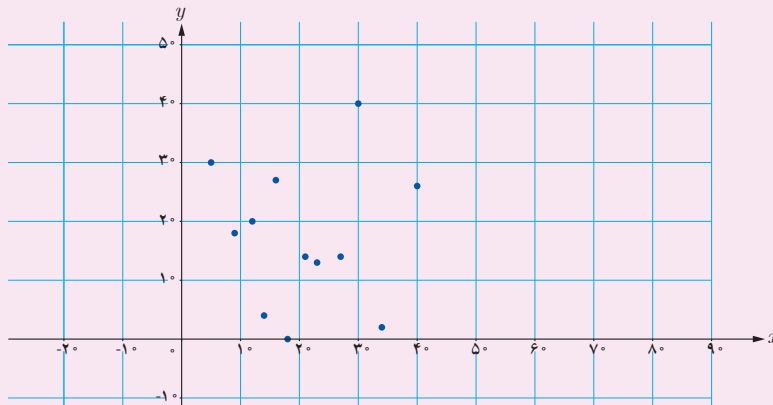
.....

۵ این داده را خارج کنید و پاسخ سؤال (۳) را مجدداً به دست آورید.

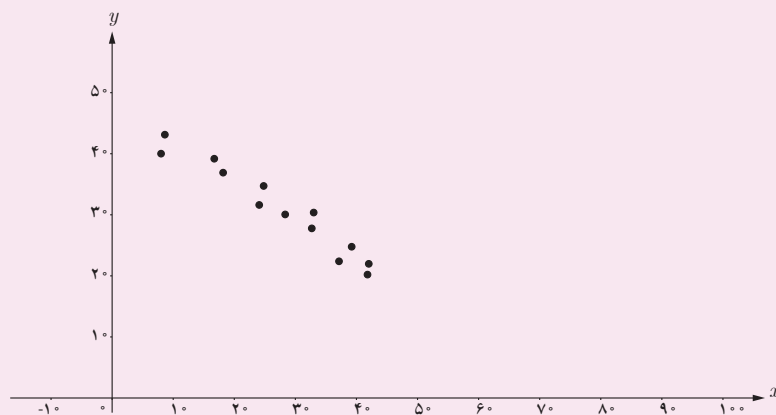
.....



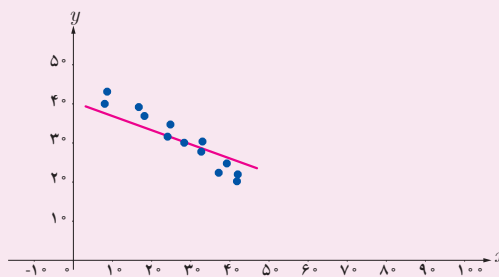
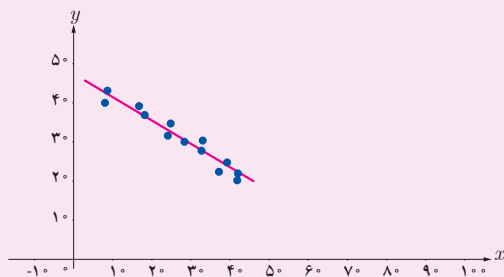
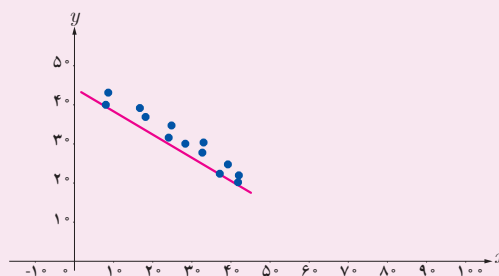
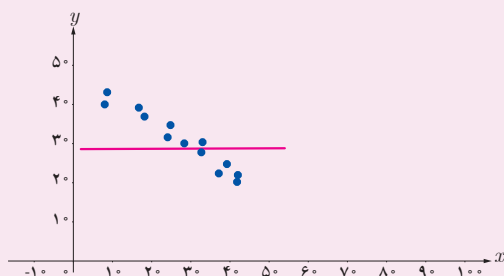
۱ در نمودارهای زیر، هر نقطه نشان‌دهنده مقادیر متناظر بین دو کمیت است. در کدام نمودارها، بین این دو کمیت رابطه‌ای وجود دارد؟ رابطه بین این دو کمیت را در هر نمودار، از لحاظ افزایشی یا کاهششی بودن یکی بر حسب دیگری، توصیف کنید.



۲ نمودار زیر رابطه بین مدت زمانی که فرد رانندگی می‌کند و مسافت باقی مانده تا مقصد را نشان می‌دهد.



کدام یک از نمودارهای زیر، خط بهترین برازش برای نمودار پراکنش بالا را نشان می‌دهد؟ توضیح دهید.



فاصله بین نوک انگشتان	طول قد
۱۸۱	۱۸۰
۱۵۴	۱۵۶
۱۶۸	۱۶۸
۱۴۸	۱۴۷
۱۳۸	۱۳۱
۱۶۰	۱۵۹
۱۴۲	۱۵۴
۱۵۴	۱۵۵
۱۸۱	۱۷۸
۱۷۵	۱۷۵
۱۳۰	۱۳۵
۱۷۵	۱۸۰
۱۸۶	۱۷۸
۱۵۸	۱۶۱
۱۳۹	۱۳۹
۱۴۸	۱۵۴
۱۵۶	۱۵۶
۱۵۴	۱۵۲
۱۷۵	۱۷۰
۱۵۲	۱۵۶

۲ جدول روبه‌رو طول قد و فاصله نوک دو انگشت وسط ۲۰ نفر را (در حالتی که دست‌ها از طرفین کاملاً باز است) برحسب سانتی‌متر نشان می‌دهد.

الف) نمودار پراکنش این داده‌ها را رسم کنید.

ب) آیا رابطه‌ای بین طول قد و فاصله نوک دو انگشت وسط افراد دیده می‌شود؟ توضیح دهید.

پ) خط بهترین برازش را رسم کنید و معادله آن را به دست آورید.

ت) به کمک معادله یا نمودار، با داشتن طول قد خودتان، فاصله نوک دو انگشت وسط خودتان را تخمین بزنید.

ث) فاصله نوک دو انگشت وسط خودتان را اندازه بگیرید. آیا با مقدار تخمین زده شده تفاوت دارد؟ اگر بله، توضیح دهید چرا؟

۴ سینا می‌گوید: اگر ریاضی شما خوب باشد، علوم شما نیز خوب است. علی می‌خواهد درستی این گفته را بررسی کند. به همین دلیل نمره ریاضی و علوم ۷ نفر را پرسید. داده‌هایی که علی به دست آورده در جدول زیر ثبت شده است.

نمره ریاضی	۱۷	۵/۵	۹	۱۶	۱۰	۶/۵	۸
نمره علوم	۱۵	۸	۱۰	۱۵	۱۱	۹	۱۰

الف) نمودار پراکنش این داده‌ها را رسم کنید.

ب) آیا با گفته سینا موافق‌اید؟ دلیل خود را توضیح دهید.

پ) خط بهترین برازش را رسم کنید.

ت) پیش‌بینی می‌کنید نمره علوم دانش‌آموزی که در آزمون ریاضی ۱۴ شده است، چند باشد؟

۵ جدول زیر، نمرات ریاضی و زبان ۱۰ دانش‌آموز را نشان می‌دهد.

نمره ریاضی	۱۹	۴/۵	۹	۱۳	۲	۱	۱۷	۱۴	۱۳	۸
نمره زبان	۱۰	۸	۶	۱۸	۱۸	۲	۱۲	۱۳	۹	۹

الف) نمودار پراکنش این داده‌ها را رسم کنید. (طول هر نقطه نمره ریاضی و عرض هر نقطه نمره زبان یک دانش‌آموز است).

ب) آیا بین نمره ریاضی و نمره زبان دانش‌آموزان رابطه‌ای مشاهده می‌کنید؟ دلیل خود را توضیح دهید.

پ) خط بهترین برازش را رسم کنید و به کمک معادله آن و یا نمودار، نمره زبان دانش‌آموزی را که در آزمون ریاضی ۱۵ گرفته است، پیش‌بینی کنید.

ت) نقطه‌های نشان‌دهنده نمره ریاضی و زبان کدام دو دانش‌آموز با نمرات بقیه دانش‌آموزان هماهنگی ندارد؟

ث) این دو داده را از داده‌هایتان حذف کنید و خط بهترین برازش را رسم کنید و این بار نمره زبان دانش‌آموزی را که در آزمون ریاضی ۱۵ گرفته است، پیش‌بینی کنید.

سایز کفش	قد (سانتی‌متر)
۴۴	۱۷۵
۴۳	۱۸۲
۴۰	۱۷۰
۴۴	۱۷۳
۴۲	۱۷۰
۴۶	۱۸۵
۴۶	۱۷۷
۴۳	۱۷۲
۴۲	۱۶۵
۴۲	۱۷۸
۴۴	۱۷۵
۴۶	۱۸۳

ج) آیا تفاوتی بین دو پیش‌بینی شما وجود دارد؟ دلیل خود را توضیح دهید.

۶ جدول مقابل داده‌های مربوط به اندازه کفش و قد ۱۲ مرد را نشان می‌دهد.

الف) نمودار پراکنش و خط بهترین برازش را به کمک excel رسم کنید.

ب) با استفاده از نمودار، اندازه کفش مردی را که قد او ۱۸۰ سانتی‌متر است پیش‌بینی کنید.

پ) باستان‌شناسان رد پای به اندازه ۵۸ سانتی‌متر پیدا کرده‌اند. پیش‌بینی می‌کنید طول قد این انسان چقدر بوده است؟

۷ دانش‌آموزی برای توصیف داده‌هایش، نمودار پراکنش را رسم کرد. او برای رسم نمودن خط بهترین برازش، اولین نقطه و آخرین نقطه را به هم وصل کرد. آیا او خط بهترین برازش را درست رسم کرده است؟ دلیل خود را توضیح دهید.

درون‌یابی و برون‌یابی

گفتگو



پس از آنکه علی و امیر رابطه بین اندازهٔ مچ دست و دور گردن نمونهٔ ۱۵ نفری خودشان را بررسی کردند. امیر پرسید: اگر بخواهیم برای افرادی که اندازهٔ دور گردنشان خیلی بیشتر است پیراهن بدوزیم، از چه اندازه‌هایی باید استفاده کنیم؟

علی گفت: چطور است خط بهترین برازش را ادامه دهیم و از روی آن اندازهٔ دور مچ را تخمین بزنیم. امیر گفت: فکر نمی‌کنم هر چقدر دلمان بخواهد، بتوانیم خط را ادامه دهیم.

علی پرسید: چرا؟

امیر گفت: فرض کن بین وزن و سن افراد هم رابطه‌ای وجود داشته باشد، آن وقت می‌دانی وزن یک آدم ۹۰ ساله چقدر زیاد می‌شود؟

پس از یافتن خط برازش، این سؤال قابل طرح است که خط برازش در چه محدوده‌ای اعتبار دارد؟ آیا پس از مدل‌سازی رابطه بین دو کمیت برای نمونه‌ای مشخص، می‌توان این رابطه را برای تمام جامعه تعمیم داد و از آن مدل، برای همهٔ اعضای جامعه استفاده کرد؟ این سؤالی است که برنامه‌ریزان نیز از خود می‌پرسند. برای پاسخ به این سؤال فعالیت زیر را انجام دهید.

برخی تحقیقات در حوزهٔ بانکداری نشان می‌دهند بین نرخ سود بانکی و میزان سرمایه‌ای که بانک جذب می‌کند همبستگی وجود دارد. یکی از بانک‌ها، میزان سرمایهٔ خود را در زمان‌های مختلف که سود بانکی مختلفی پرداخت می‌کرده است، بررسی و در جدول زیر ثبت کرده است.

فعالیت ۳



نرخ سود بانکی (درصد)	سرمایه (میلیون تومان)
۱۰	۲۵
۸	۲۶
۹	۲۱
۱۱	۱۵
۱۱	۱۷
۱۱	۱۹
۱۰	۲۷
۹	۲۶
۷	۳۱
۶	۳۶
۶	۳۹
۵	۴۰

۱ به کمک excel خط بهترین برازش را برای این اطلاعات رسم کنید.

۲ اگر نرخ سود ۱۰/۵ درصد تعیین شود، مقدار سرمایه جذب شده را پیش‌بینی کنید.

۳ اگر نرخ سود به ۱۲ درصد افزایش یابد، مقدار سرمایه جذب شده را پیش‌بینی کنید.

۴ اگر نرخ سود به ۱۸ درصد افزایش یابد، مقدار سرمایه جذب شده را پیش‌بینی کنید.

۵ در کدام حالت پیش‌بینی شما به واقعیت نزدیک‌تر خواهد بود؟ توضیح دهید.

در وضعیت بالا در جدول داده‌ها، مقادیر درصد سود پرداختی (x) در بازه بسته $[۵,۱۱]$ قرار دارد. در قسمت (۲) می‌خواهیم سرمایه جذب شده با پرداخت ۱۰/۵ درصد سود را پیش‌بینی کنیم. توجه داشته باشید که ۱۰/۵ در بازه تغییرات x قرار دارد. ولی در قسمت‌های (۳) و (۴) می‌خواهیم سرمایه جذب شده را برای درصد سودهای پرداختی خارج از این بازه پیش‌بینی کنیم. پیش‌بینی‌هایی مانند وضعیت (۲) را درون‌یابی و پیش‌بینی‌هایی مانند وضعیت‌های (۳) و (۴) را برون‌یابی می‌نامند. در برون‌یابی هرچه از ابتدا یا انتهای بازه دورتر شویم، ممکن است پیش‌بینی‌ها با خطاهای زیاد همراه و حتی غیر واقعی شوند.

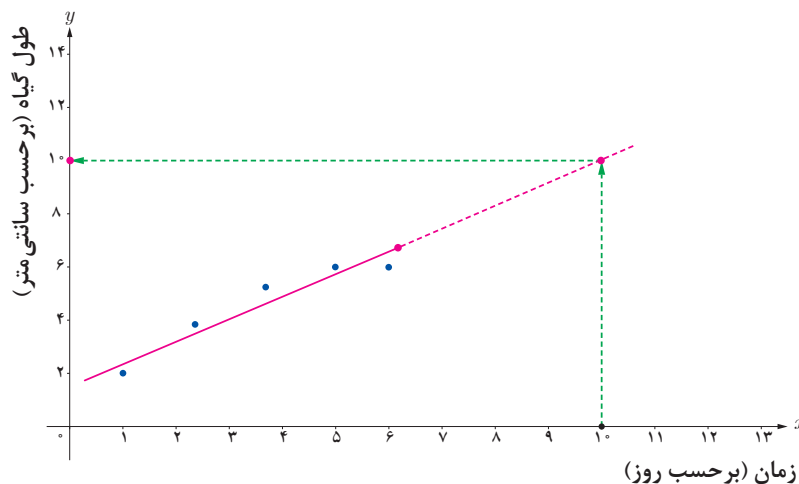
x و y دو کمیت مرتبط هستند. اگر مقادیر این دو کمیت برای برخی از x ها در یک بازه، مشخص باشد، پیش‌بینی مقادیر y به ازای x های مشخص در این بازه به کمک خط برازش را درون‌یابی و پیش‌بینی مقادیر y به ازای x های مشخص در خارج از این بازه را برون‌یابی می‌نامند.

تعریف



مثال ۳

نمودار زیر میزان رشد گیاه را پس از ۵ روز نشان می‌دهد. می‌خواهیم طول گیاه را بعد از ۱۰ روز پیش‌بینی کنیم.

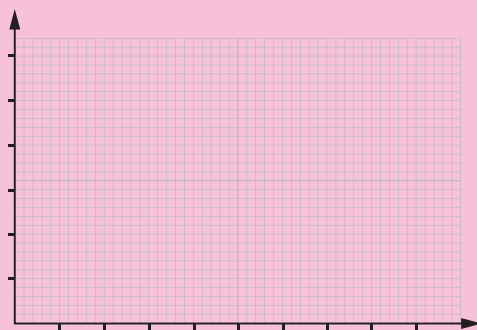


با توجه به اینکه بعد از مدتی، معمولاً رشد طولی متوقف می‌شود و یا میزان افزایش طول در واحد زمان کاهش می‌یابد، پیش‌بینی طول گیاه با استفاده از این نمودار بعد از ۱۰ روز (برون‌یابی)، ممکن است دقیق نباشد.

میزان مصرف اکسیژن توسط خرچنگ‌ها و دمای آب با هم رابطه دارند. نرخ مصرف اکسیژن نوعی خرچنگ در زیر آب در جدول زیر آورده شده است.

دما (°C)	۲۰	۱۷/۵	۱۵	۱۲/۵	۱۰	۵/۵
نرخ مصرف اکسیژن (Mmol / Kg / Min) ^۱	۲۳	۱۷	۱۲	۹	۵/۵	۴/۵

۱ نمودار پراکنش و خط بهترین برازش این داده‌ها را رسم کنید.



کار در کلاس ۲



۲ به کمک نمودار، مقدار تقریبی دما را در حالتی که نرخ مصرف اکسیژن $14 \text{ Mmol / Kg / Min}$ است، پیدا کنید.

۳ به کمک معادله خط بهترین برازش، نرخ مصرف اکسیژن این خرچنگ را در زیر آب در دماهای 0°C ، 17°C ، 50°C و 150°C پیش‌بینی کنید.

۴ برای پیش‌بینی مقدار اکسیژن در کدام دماها از درون‌یابی و برای کدام دماها از برون‌یابی استفاده کردید؟

۵ پیش‌بینی در کدام وضعیت با خطای زیاد همراه و یا آنکه غیر واقعی است؟ توضیح دهید.



ابوالوفا محمد بوزجانی در ۲۳ خرداد ۳۱۹ هجری شمسی در بوژگان از توابع ولایت جام، به دنیا آمد. (این شهر در حومه شهرستان نیل شهر از توابع شهرستان تربت جام در استان خراسان رضوی قرار داشته است). او ریاضی را نزد خانواده آموخت و به نیشابور رفت. در سال ۳۳۹ به عراق سفر کرد و تا پایان عمرش در آنجا زندگی کرد. او روش‌های محاسبه‌ای را که بازرگانان، کارمندان دوایر مالیه و مساحان زمین در شرق اسلامی در کارهای روزمره خود به کار می‌بردند، به‌نحو منظم مدون ساخت و همچنین روش‌های متداول را اصلاح کرد و بعضی از روش‌های ناصحیح را نیز مورد انتقاد قرار داد.

به‌عنوان مثال، پس از بیان آنکه مساحان، مساحت هر نوع چهار ضلعی را با ضرب کردن نصف مجموع اضلاع مقابل در یکدیگر به دست می‌آورند، خاطر نشان می‌سازد که این نیز اشتباهی آشکار و غلطی مسلم است. وی مسائل لاینحل هندسه کلاسیک را حل کرد و تحقیقاتی در اصول ترسیمات هندسی نمود که تا امروز هنوز کسی موفق به ارائه راه حل دیگری نشده است و از این حیث مسئله ابوالوفا در جهان مشهور است. او اولین کسی است که مطالعات دقیقی درباره کره ماه انجام داد. برای تجلیل از مقام علمی این دانشمند، دهانه یکی از آتشفشان‌های ماه را بوزجانی نام نهاده‌اند.

بوزجانی واضع اتحادهای مثلثاتی بود:

$$\sin(a+b) = \sin(a) \cos(b) + \cos(a) \sin(b)$$

$$\cos(2a) = 1 - 2\sin^2(a)$$

$$\sin(2a) = 2\sin(a) \cos(a)$$



۱ مهرناز می‌خواهد آزمایشی انجام دهد که به کمک آن، تأثیر نور را بر سرعت غذاسازی توسط گیاه از طریق فتوسنتز بررسی کند.

مهرناز لامپ را در ۱۰۰ متری گیاه قرار داد و تعداد حباب‌هایی را که توسط گیاه در یک دقیقه تولید شد شمرد. سپس لامپ را نزدیک‌تر کرده و در هر حالت، تعداد حباب‌های ایجاد شده توسط گیاه در دقیقه را شمرد. او نتایج را در جدول زیر ثبت کرد.

تعداد حباب‌ها در دقیقه	فاصله لامپ از گیاه بر حسب متر
۱۰	۱۰۰
۲۰	۸۰
۲۸	۷۰
۳۲	۶۰
۳۷	۴۰
۳۷	۲۰

الف) نمودار پراکنش و خط بهترین برازش را برای این داده‌ها رسم کنید.

ب) با استفاده از نمودار، جمله زیر را کامل کنید:

هر چه فاصله لامپ از گیاه باشد، سرعت فتوسنتز است.

پ) اگر لامپ در ۱۰ سانتی‌متری گیاه قرار داشته باشد، تعداد حباب‌ها در دقیقه را پیش‌بینی کنید.

ت) اگر لامپ را در ۲ سانتی‌متری گیاه قرار دهیم، برای پیدا کردن تعداد حباب‌هایی که گیاه تولید می‌کند از برون‌یابی استفاده می‌کنیم یا درون‌یابی؟ فکر می‌کنید در این وضعیت این پیش‌بینی چقدر درست باشد؟

۲ ایمان برای شرکت در مسابقات دو ۱۰۰ متر، تمرین می‌کند. جدول زیر، زمان به پایان رساندن مسیر را بر حسب ثانیه در پایان هر هفته تمرین نشان می‌دهد.

تعداد هفته‌های تمرین	زمان به پایان رساندن مسیر
۱	۱۳
۲	۱۲
۳	۱۱/۵
۴	۱۱/۲۵
۵	۱۱

الف) نمودار پراکنش و خط بهترین برازش را برای این داده‌ها رسم کنید.
 ب) به کمک نمودار یا معادله خط بهترین برازش، زمان به پایان رساندن مسیر توسط ایمان پس از ۱۴ هفته را پیش‌بینی کنید.
 پ) آیا پیش‌بینی شما درست است؟ برای پاسخ به این سؤال رکورد جهانی دو ۱۰۰ متر مردان را از اینترنت پیدا کنید.
 ت) برای این پیش‌بینی از درون‌یابی استفاده کردید یا برون‌یابی؟ آیا پاسخ به دست آمده معنادار است؟ توضیح دهید چرا؟

۲ جدول زیر تعداد کشورهای شرکت‌کننده در المپیک تابستانی را از سال ۱۹۴۸ تا سال ۲۰۰۰ نشان می‌دهد.

سال	تعداد کشورها	سال	تعداد کشورها
۱۹۴۸	۵۹	۱۹۷۶	۹۲
۱۹۵۲	۶۹	۱۹۸۰	۸۰
۱۹۵۶	۷۲	۱۹۸۴	۱۴۰
۱۹۶۰	۸۳	۱۹۸۸	۱۶۰
۱۹۶۴	۹۳	۱۹۹۲	۱۶۹
۱۹۶۸	۱۱۲	۱۹۹۶	۱۹۷
۱۹۷۲	۱۲۱	۲۰۰۰	۱۹۹

الف) نمودار پراکنش و خط بهترین برازش را برای این داده‌ها رسم کنید.
 ب) به کمک معادله خط بهترین برازش، تعداد کشورهای شرکت‌کننده در المپیک ۲۰۰۴ و المپیک ۲۰۱۶ را پیش‌بینی کنید.
 پ) با مراجعه به اینترنت، تعداد کشورهای شرکت‌کننده در سال ۲۰۰۴ و سال ۲۰۱۶ را پیدا کنید. این تعداد را با پیش‌بینی‌های خودتان مقایسه کنید. در صورت وجود اختلاف، توضیح دهید چرا این اختلاف وجود دارد.
 ت) به کمک معادله یا نمودار، تعداد کشورهای شرکت‌کننده در سال ۲۰۲۸ را پیش‌بینی کنید. آیا این پیش‌بینی معنادار است؟ دلیل خود را توضیح دهید.



عموی طاها حسابدار یک شرکت خصوصی بود. طاها پس از مصاحبه استخدامی، قرار شد در آن شرکت به عنوان مسئول فنی مشغول به کار شود. مدیر عامل شرکت حقوق طاها را یک میلیون و پانصد هزار تومان در نظر گرفت.

طاها به عمویش گفت: قبلاً به من گفته بودید میانگین حقوق افراد این شرکت ۲ میلیون تومان است، فکر نمی کنید حقوق من کم باشد؟
عموی طاها گفت: اگر به لیست حقوق کارکنان نگاه کنی، متوجه می شوی که حقوقی که به شما پیشنهاد شده است، حقوق خوبی است.
طاها با دیدن لیست حقوق کارکنان گفت: شما به چه دلیلی می گوئید که حقوق من خوب است؟
عمویش گفت: حقوق شما از حقوق بیش از نیمی از کارکنان بیشتر است.
طاها با تعجب گفت: چگونه می توانم حقوق خود را با حقوق دیگران مقایسه کنم و بفهمم جایگاه حقوق من در بین حقوق دیگران چگونه است؟

عنوان شغلی	میزان حقوق به میلیون تومان
مدیر عامل	۵/۸
معاون	۳/۲
کارمند قراردادهای	۱/۷
روابط عمومی	۱/۳
حسابدار	۱/۸
مسئول فناوری	۱/۲
بایگانی	۱
منشی	۱/۱
نگهبان	۰/۹

شما با انجام فعالیت زیر متوجه می شوید که آماردانها چگونه داده ها را با هم مقایسه می کنند.



۱ داده های ارائه شده در لیست حقوق کارکنان را از کم به زیاد مرتب کنید.

۲ عددی را پیدا کنید که تعداد حقوق های قبل از آن، با تعداد حقوق های بعد از آن برابر باشد.

اگر حقوق کارکنان را از کم به زیاد مرتب کنیم، عدد $1/3$ (میلیون) در وسط قرار می گیرد، یعنی تعداد حقوق های قبل از عدد $1/3$ (میلیون) با تعداد حقوق های بعد از آن برابر است؛ این عدد را میانه می نامند. در لیست حقوقی مرتب شده، حقوقی که قرار است طاها بگیرد بعد از عدد $1/3$ (میلیون) است که از حقوق نیمی از کارکنان بیشتر است. با دقت بیشتر متوجه می شویم که اگر حقوق ها را از زیاد به کم نیز مرتب می کردیم، همین نتیجه به دست می آمد.



پس از مرتب کردن مقادیر داده‌ها، عددی را که تعداد داده‌های قبل از آن با تعداد داده‌های بعد از آن برابر است می‌نامند.

میانگین داده‌ها ۲ میلیون تومان است و این عدد نشان نمی‌دهد چه تعداد از داده‌ها بیشتر یا کمتر از آن است. می‌دانیم عدد میانگین ممکن است در بین داده‌ها نباشد؛ برای مثال، عدد دو میلیون تومان در لیست حقوق کارکنان نیست. همچنین به علت وجود داده پرت (حقوق مدیر عامل ۵/۸ میلیون تومان است) در لیست حقوق، میانگین، خیلی بالا رفته است که تصویری اشتباه دربارهٔ میزان دریافت حقوق کارکنان در ما ایجاد می‌کند؛ زیرا فقط ۲ نفر حقوق بیشتر از میانگین دارند و ۷ نفر حقوق کمتر از میانگین دریافت می‌کنند.

میانگین و میانه، هر دو به توصیف وضعیت داده‌ها می‌پردازند و هر کدام ویژگی‌هایی از داده‌ها را بیان می‌کنند.

مثال ۴

ساعت‌هایی را که علی در روزهای یک هفته مطالعه کرده است به صورت زیر است:

۲ ، ۳ ، ۳ ، ۴ ، ۱ ، ۵ ، ۸

برای پیدا کردن میانه، ابتدا داده‌ها را به شکل زیر مرتب می‌کنیم.

۱ ، ۲ ، ۳ ، ۳ ، ۴ ، ۵ ، ۸

عدد ۳ میانه است. جایگاه این عدد مشخص می‌کند که تعداد داده‌های قبل از جایگاه عدد ۳، با تعداد داده‌های بعد از آن، برابرند.

دبیر به دانش‌آموزان گفت: اگر به لیست حقوق کارکنان آن شرکت، حقوق طاها را هم اضافه کنیم، میانگین و میانه آن، چه تغییری می‌کند؟

گفتگو



سعید گفت: من حساب کردم، میانگین ۱/۹۵ میلیون می‌شود ولی برای به دست آوردن میانه، حقوق‌ها را که مرتب کردم داده‌ای در وسط ندیدم.

دبیر گفت: توجه کنید همانطور که ممکن است میانگین بین داده‌ها نباشد، میانه هم لزوماً در بین داده‌ها نیست.

سعید گفت: پس برای آنکه تعداد داده‌های بعد از میانه با تعداد داده‌های قبل از میانه برابر باشد، باید عددی بین ۱/۳ و ۱/۵ میلیون انتخاب کنیم. آیا فرقی نمی‌کند چه عددی را انتخاب کنیم؟

دبیر گفت: نه فرقی نمی‌کند ولی در این صورت، میانه به طور دقیق مشخص نخواهد بود. برای هماهنگی، طبق قرارداد، میانگین این دو عدد را به عنوان میانه انتخاب می‌کنند.

سعید گفت: پس، میانه ۱/۴ میلیون است.

مثال ۵

مصرف شیر ۱۰ خانواده ۴ نفره در یک ماه برحسب لیتر به صورت زیر است:

۱۴ ، ۵ ، ۴ ، ۸ ، ۱۱ ، ۱۳ ، ۳ ، ۱۰ ، ۵ ، ۱۵

برای پیدا کردن میانه، ابتدا داده‌های مسئله را مرتب می‌کنیم.

$$\text{میانه} = \frac{۸+۱۰}{۲} = ۹$$

مثال ۶

تعداد نان مصرفی ۷ خانواده در یک هفته به صورت زیر است:

۸ ، ۱۳ ، ۱۳ ، ۱۴ ، ۱۰ ، ۱۴ ، ۱۵

میانه مصرف این خانواده‌ها برابر با ۱۳ است.

مثال ۷

در یک مطالعه، ۵ داده به دست آمده است. اگر ۶، ۱۲، ۱۲ و ۱۴ چهارتا از این داده‌ها باشند، داده پنجم را به گونه‌ای پیدا کنید که میانگین و میانه این داده‌ها با هم برابر باشند.

چون ۵ داده داریم، میانه در جایگاه سوم قرار دارد. پس فرقی نمی‌کند که داده مورد نظر از ۶ کوچک‌تر، یا بین ۶ و ۱۲، یا بین ۱۲ و ۱۴ و یا از ۱۴ بزرگ‌تر باشد؛ در هر صورت، میانه ۱۲ خواهد بود. فرض برابری میانه و میانگین نشان می‌دهد که میانگین هم برابر با ۱۲ است. پس مجموع ۵ داده باید $۶۰ = ۱۲ \times ۵$ باشد. یعنی داده پنجم برابر است با: $۱۶ = (۱۴+۱۲+۱۲+۶) - ۶۰$

۱ تعداد روزهای مسافرت چند خانواده به صورت مقابل است. ۸، ۳، ۶، ۴، ۳، ۷، ۵، ۲

میانه این داده‌ها را بنویسید.

۲ اگر تعداد داده بدون تکرار و (فرد / زوج) باشد، میانه در داده‌ها قرار ندارد.

۳ داده‌های زیر تعداد شرکت‌کنندگان شهرهای مختلف را در یک مسابقه نشان می‌دهد و میانه داده‌ها عدد ۱۷ است. در دایره و مربع چه اعدادی می‌توانند قرار بگیرند؟ چرا؟

۲۰ ، ۲۰ ، ۱۹ ، ۱۹ ، ۱۸ ، □ ، ○ ، ۱۵ ، ۱۴ ، ۱۳ ، ۱۳ ، ۱۲ ، ۱۱

کارد کلاس ۳





۱ مثالی بزنید که میانه در بین داده‌ها نباشد و مثالی بزنید که میانه در بین داده‌ها باشد.

۲ اگر همه داده‌ها ۲ برابر شوند، میانه چه تغییری می‌کند؟

۳ در جلسه‌های تمرین پرتاب نیزه، دو ورزشکار، پرتاب‌های مختلفی انجام داده‌اند. مسافت پرتاب شده توسط آنها بر حسب متر به صورت زیر است:

۷۰ ، ۷۰ ، ۶۶ ، ۵۵ ، ۶۶ ، ۵۸ ، ۶۹ ، ۶۶ ، ۷۱ ، ۶۳ ، ۷۲ ، ۶۰ ، ۶۵ ، ۷۰ : ورزشکار اول

۷۰ ، ۶۸ ، ۵۹ ، ۵۸ ، ۶۸ ، ۶۵ ، ۷۱ ، ۶۵ ، ۷۲ ، ۷۰ ، ۶۰ ، ۷۵ : ورزشکار دوم

میانه پرتاب دو ورزشکار را با هم مقایسه کنید. توضیح دهید در این مسئله، میانه چه چیزی را نشان می‌دهد. عملکرد کدام یک را بهتر ارزیابی می‌کنید؟

۴ داده‌های مقابل را در نظر بگیرید: ۳ ، ۵ ، ۸

الف) میانگین و میانه این داده‌ها را حساب کنید.

ب) در داده‌ها به جای عدد ۸، عدد ۹۰ را بنویسید و مجدداً میانگین و میانه را حساب کنید. با توجه به تغییرات انجام شده در قسمت «ب»، به سؤال‌های زیر پاسخ دهید.

پ) با تغییر یکی از داده‌ها (میانه / میانگین) همواره تغییر می‌یابد.

ت) میانه به کوچکی و بزرگی داده‌های قبل و بعد از خود بستگی (دارد / ندارد).

۵ میانه نمرات دانش‌آموزان یک کلاس ۲۵ نفری، برابر ۱۷ است. میانه چه اطلاعاتی درباره نمره‌های کلاس به شما می‌دهد؟

۶ میانه نمرات ریاضی در دو کلاس، ۱۷ و ۱۲ است. وضعیت نمرات دو کلاس را توصیف کنید.

۷ میانگین ۵ داده برابر با ۱۷ و میانه آنها ۱۴ است. ۵ عدد مثال بزنید که این شرایط را داشته باشند. این مسئله چند جواب می‌تواند داشته باشد؟

نمودار جعبه‌ای

در هنرستانی دو کلاس ۱۶ نفری به نام‌های «تلاش» و «کوشش» بود که بین آنها آزمون هماهنگ درس ریاضی برگزار شد. دبیران این دو کلاس نتایج کار هنرجویان خود را برای ارائه در جلسه دبیران آماده کردند. روز جلسه، مدیر از دبیران خواست نتایج این آزمون را گزارش کنند تا عملکرد کلاس‌ها مشخص شوند. دبیران این دو کلاس، فهرست نمرات را به همراه میانگین و میانۀ نمرات به شکل زیر ارائه کردند:

کلاس تلاش: میانگین ۱۶ و میانۀ ۱۴/۵ کلاس کوشش: میانگین ۱۵ و میانۀ ۱۶

کلاس تلاش

نمره هنرجویان
۱۸
۱۴/۵
۱۸
۱۴
۱۹
۹
۱۴
۱۹/۵
۱۴/۵
۱۹
۱۸
۱۴
۱۳
۱۴
۱۴
۱۹/۵

کلاس کوشش

نمره هنرجویان
۱۰
۱۷
۱۲
۱۵
۲۰
۱۰
۱۷
۱۷
۱۰
۱۰
۱۵
۱۹
۱۷
۱۲
۱۹
۲۰

مدیر گفت: درک عملکرد هنرجویان از طریق این فهرست دشوار است، بهتر است نموداری رسم شود تا درک بهتری داشته باشیم.

یکی از دبیرانی که آمار درس می‌داد گفت: بهتر است از نمودار جعبه‌ای استفاده کنیم.



شما با انجام فعالیت زیر می‌توانید با مفهوم نمودار جعبه‌ای و کاربردهای آن آشنا شوید.

نمره‌های مرتب شدهٔ درس ریاضی کلاس «کوشش» به صورت زیر است.

۱۰، ۱۰، ۱۰، ۱۰، ۱۲، ۱۲، ۱۵، ۱۵، ۱۷، ۱۷، ۱۷، ۱۷، ۱۹، ۱۹، ۲۰، ۲۰

۱ میانۀ نمره‌ها را با نقطه‌ای به نام M روی خط‌چین زیر مشخص کنید.



۲ برای اعداد قبل از میانه، دوباره میانه را پیدا کنید و آن را روی خط‌چین با نقطهٔ C مشخص کنید همچنین برای اعداد بعد از میانه، دوباره میانه را پیدا کنید و آن را روی خط‌چین با نقطهٔ D مشخص کنید.

۳ کمترین نمره را با نقطهٔ A و بیشترین نمره را با نقطهٔ B روی خط‌چین مشخص کنید.

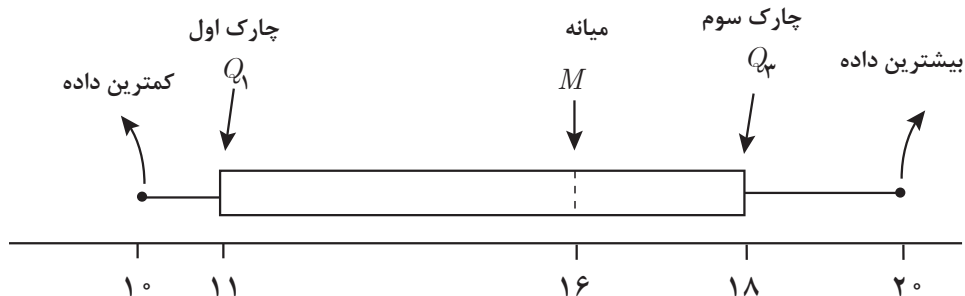
۴ مستطیلی رسم کنید که نقاط C و D روی عرض‌های این مستطیل (جعبه) قرار گیرند. پاره‌خطی از A به C و پاره‌خطی از B به D وصل کنید. درصد تعداد نمرات دانش‌آموزان در هر بازه را پیدا کرده و در جدول زیر را کامل کنید.

بازه نمرات	قبل از C	بین C و D	قبل از D	بعد از D
درصد تعداد نمرات هنرجویان				

در فعالیت (۵)، میانه^۱ برابر ۱۶ است، یعنی $M = 16$. میانۀ اعداد قبل از M برابر ۱۱ است، یعنی $C = 11$. تعداد نمره‌های قبل از C ، $\frac{1}{4}$ کل نمرات است؛ به همین دلیل آن را چارک اول می‌نامند و با Q_1 نشان می‌دهند. تعداد نمره‌های بعد از Q_1 ، سه برابر تعداد نمرات قبل از آن است. میانۀ اعداد بعد از M برابر ۱۸ است، یعنی $D = 18$. تعداد نمره‌های قبل از D ، $\frac{3}{4}$ تعداد کل نمره‌ها است؛ به همین دلیل آن را چارک سوم می‌گویند و با Q_3 نشان می‌دهند. تعداد نمره‌های قبل از Q_3 سه برابر تعداد نمره‌های

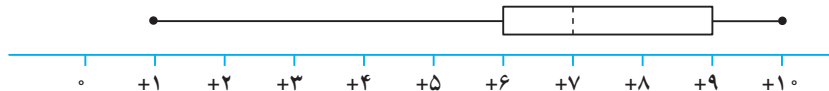
۱- M حرف اول کلمه Median به معنی میانه است.
 ۲- Q حرف اول کلمه Quartile به معنی چارک است.

بعد از آن است. تعداد نمره‌های بین Q_1 و Q_3 ، یعنی آنهایی که درون جعبه قرار دارند، تقریباً ۵۰ درصد تعداد کل نمره‌ها است.



مثال ۸

نمودار جعبه‌ای زیر را در نظر بگیرید.



در این نمودار میانه برابر با ۷ است. نزدیک‌تر بودن میانه به چارک اول (۶)، نسبت به چارک سوم (۹) نشان می‌دهد تمرکز داده‌ها در سمت چپ میانه بیشتر از سمت راست میانه است (زیرا تعداد داده‌ها در هر دو طرف برابر است ولی در سمت چپ، ۵۲ درصد داده‌ها بین ۶ و ۷ است. در صورتی که در سمت راست، ۵۲ درصد داده‌ها بین ۷ تا ۹ است). به همین ترتیب بلندتر بودن دنباله سمت چپ نسبت به دنباله سمت راست نشان می‌دهد که پراکندگی داده‌ها در سمت چپ بیشتر از پراکندگی داده‌ها در سمت راست است.

مثال ۹

پلیس راهور، در یک شهر، آمار تصادفات نوروز را از چهار روز قبل از تعطیلات طی ۲۰ روز به صورت زیر گزارش کرده است:

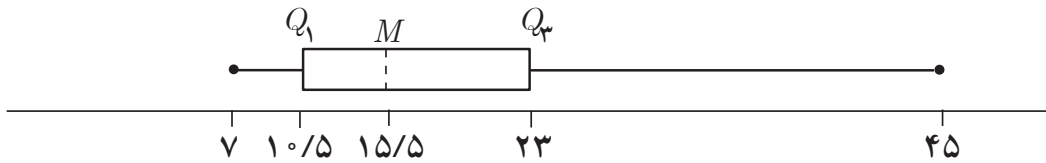
۱۷، ۸، ۲۴، ۱۶، ۸، ۹، ۲۶، ۲۰، ۱۴، ۱۸، ۷، ۱۲، ۱۳، ۱۱، ۱۵، ۱۰، ۲۸، ۳۳، ۲۲، ۴۵

نمودار جعبه‌ای را برای این داده‌ها رسم می‌کنیم.

ابتدا داده‌ها را از کوچک به بزرگ مرتب می‌کنیم.

۷، ۸، ۸، ۹، ۱۰، ۱۱، ۱۲، ۱۳، ۱۴، ۱۵، ۱۶، ۱۷، ۱۸، ۲۰، ۲۲، ۲۴، ۲۶، ۲۸، ۳۳، ۴۵

کمترین داده برابر ۷ و بیشترین داده برابر ۴۵ است، پس دامنه تغییرات داده‌ها برابر با ۳۸ است.
 میانه $M=15/5$ و چارک اول $Q_1 = 10/5$ و چارک سوم $Q_3 = 23$ است.

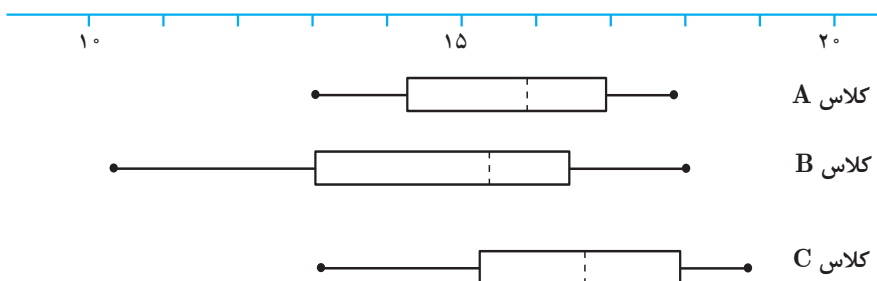


میانه $M=15/5$ است. این عدد نشان می‌دهد که تقریباً ۵۰ درصد از این روزها، تعداد تصادف‌های روزانه بیشتر یا مساوی ۱۶ است (تعداد تصادف‌ها عدد طبیعی است).
 چارک اول، $Q_1 = 10/5$ نشان می‌دهد که تقریباً ۲۵ درصد از این روزها، تعداد تصادف‌های روزانه کمتر یا مساوی ۱۰ است.
 چارک سوم، $Q_3 = 23$ نشان می‌دهد که تقریباً ۷۵ درصد از این روزها، تعداد تصادف‌های روزانه کمتر یا مساوی ۲۳ است.

هر یک از دو دنباله رسم شده در دو طرف جعبه نشان دهنده تقریباً ۲۵٪ داده‌ها است و بلندتر بودن دنباله سمت راست نشان می‌دهد پراکندگی تعداد تصادف‌ها در این قسمت بیشتر است. در این مثال تقریباً ۲۵٪ از داده‌ها از ۷ تا ۱۰/۵ است. همچنین نزدیک بودن M به Q_1 نشان می‌دهد پراکندگی تعداد تصادف‌ها بین آنها کمتر از پراکندگی تعداد تصادف‌های بین M تا Q_3 است.
 در نمودار جعبه‌ای، تقریباً ۵۰ درصد داده‌ها درون جعبه قرار می‌گیرند. اگر M در وسط جعبه قرار داشته باشد، نشان می‌دهد پراکندگی داده‌ها از Q_1 تا M همانند پراکندگی از M تا Q_3 است. هر چقدر M از وسط جعبه به Q_3 نزدیک‌تر شود پراکندگی بین آن دو کمتر از پراکندگی بین Q_1 تا M خواهد شد.

مثال ۱۰

نمودار زیر عملکرد سه کلاس A، B و C را در امتحان ریاضی نشان می‌دهد.





این نمودار نشان می‌دهد که نیمی از هنرجویان کلاس C از ۷۵٪ هنرجویان کلاس B عملکرد بهتری داشته‌اند. همه هنرجویان کلاس A و همه هنرجویان کلاس C از ۲۵٪ هنرجویان کلاس B عملکرد بهتری داشته‌اند. تقریباً نمره نیمی از هنرجویان کلاس B بیشتر یا مساوی ۱۶ است. در حالی که نمره نیمی از هنرجویان کلاس C بیشتر یا مساوی ۱۷/۵ است. گرچه کمترین نمره در کلاس A با کمترین نمره در کلاس C برابر است، ولی نمره نیمی از هنرجویان کلاس C بیشتر از نمره نیمی از هنرجویان کلاس A است.

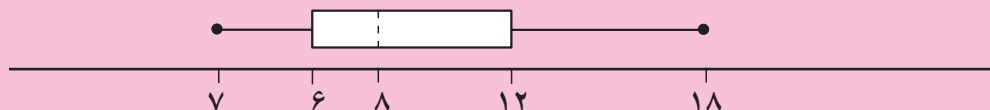
۱ میزان بارندگی (بر حسب میلی‌متر) در یک شهر طی ۱۵ روز به صورت زیر گزارش شده است:

۱۶، ۳، ۲، ۸، ۰، ۵، ۲۵، ۱۵، ۱۲، ۰، ۹، ۱، ۵، ۰، ۲

الف) چارک اول، میانه و چارک سوم چه اعدادی هستند؟

ب) تقریباً چند درصد داده‌ها بین Q_1 و Q_3 قرار دارند؟
پ) نمودار جعبه‌ای داده‌ها را رسم و آن را تفسیر کنید.

۲ یک شرکت بیمه می‌خواهد بررسی‌هایی را برای پرداخت هزینه‌های بستری بیماران دچار حمله قلبی انجام دهد. بعد از آنکه مدت بستری شدن (بر حسب روز) تعدادی بیمار پس از حمله قلبی در یک بیمارستان مشخص شد نمودار جعبه‌ای آن را به صورت زیر رسم کرده‌اند:



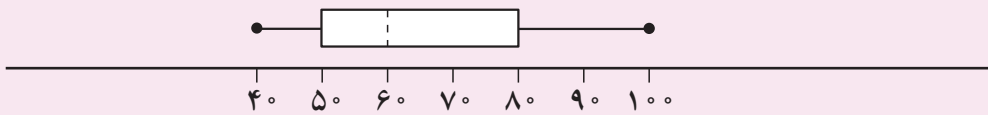
الف) میانه داده‌ها چند است؟

ب) چارک اول چند است؟ چند درصد داده‌ها قبل از آن و چند درصد بعد از آن قرار دارند؟
پ) مقدار Q_3 چند است؟ این عدد نشان‌دهنده چیست؟
ت) چند درصد داده‌ها درون جعبه قرار دارند؟
ث) بلندتر بودن دنباله سمت راست جعبه نشان‌دهنده چیست؟

۲ نمودار جعبه‌ای فهرست نمرات کلاس‌های تلاش و کوشش (در ابتدای این بخش) را رسم کنید. سپس با مقایسه این نمودارها، به نظر شما کدام کلاس عملکرد بهتری دارد؟ چرا؟



۱ نمودار جعبه‌ای نمره‌های زبان انگلیسی در یک کلاس به صورت زیر است:

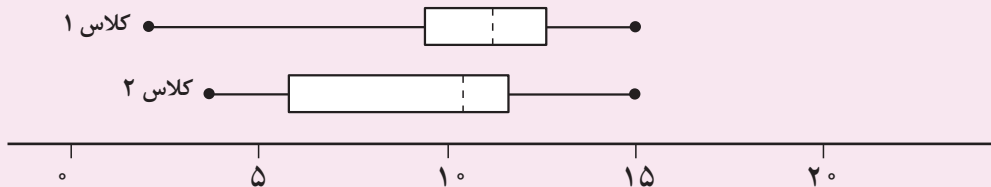


الف) میانه برابر چه عددی است؟

ب) فاصله بین Q_3 و Q_1 چقدر است؟

پ) چند درصد از نمره‌ها قبل از Q_3 قرار دارند؟

۲ نمودارهای زیر عملکرد دو کلاس را در درس عربی نشان می‌دهد.



الف) در کدام کلاس، نمره دانش‌آموزان پراکندگی کمتری دارد؟

ب) نیمی از دانش‌آموزان کلاس ۱، نمره‌شان بیشتر از چند است؟

پ) کدام کلاس عملکرد بهتری دارد؟ چرا؟

ت) آیا می‌توان گفت ۷۵ درصد دانش‌آموزان کلاس ۱ از همه دانش‌آموزان کلاس ۲ بهتر عمل کرده‌اند؟

۳ در یک تیم والیبال، کوتاه‌ترین قد ۱۶۸ و بلندترین قد ۲۰۳ سانتی‌متر و میانه برابر

۱۸۴ سانتی‌متر است. اگر فاصله بین Q_3 و Q_1 برابر ۱۱ باشد، آیا می‌توان نمودار جعبه‌ای

قد افراد این تیم را رسم کرد؟

۴ غلظت قند خون ۱۲ نفر (برحسب mM dm^{-3})، ۳۰ دقیقه پس از مصرف غذا اندازه‌گیری

شده است. نتایج به دست آمده به شرح زیر است.

۳/۷	۵/۱	۴/۶	۳/۹	۳/۸	۴/۲
۳/۹	۴/۰	۵/۲	۴/۷	۴/۰	۳/۸

الف) میانه و چارک‌های اول و سوم را پیدا کنید.

ب) اگر غلظت قند خون شما، ۳۰ دقیقه پس از مصرف غذا ۴/۱ باشد، وضعیت خود را نسبت به این افراد توصیف کنید.

۵ سجاد در رشته کشاورزی تحصیل می‌کرد. او تنوع تعداد نخودهای موجود در غلاف‌ها را بررسی کرد. تعداد نخودهای موجود در ۱۷ غلاف به شرح زیر است.

۷، ۹، ۱۰، ۷، ۸، ۹، ۵، ۶، ۵، ۱۱، ۳، ۴، ۱۰، ۱۲، ۸، ۵، ۴



نمودار جعبه‌ای این داده‌ها را رسم و تفسیر کنید.

استاندارد ارزشیابی مبتنی بر شایستگی پودمان پنجم

عنوان پودمان	شایستگی‌های مورد انتظار (واحدهای یادگیری)	استاندارد عملکرد (کیفیت)	سطح احراز شایستگی	شاخص تحقق
آمار توصیفی	سواد تحلیل داده‌های یک نمونه به کمک درون‌یابی و برون‌یابی	مدل‌سازی و حل مسائل مرتبط با تحلیل داده‌های آماری، درون‌یابی و برون‌یابی، میانگین میانه و نمودار جعبه‌ای	بالاتر از حد انتظار	اجرای شایسته فعالیت‌های مکمل که انجام آنها، نیل به حد بالاتر از انتظار در شایستگی را برای هنرآموز محرز نماید.
	محاسبه و تحلیل داده‌های یک نمونه به کمک شاخص‌های مرکزی، میانه و نمودار جعبه‌ای		در حد انتظار	حل مسائل مرتبط با تحلیل داده‌های آماری درون‌یابی و برون‌یابی میانگین میانه و نمودار جعبه‌ای
			پایین‌تر از حد انتظار	در صورتی که هنرجو حتی یکی از شاخص‌های در حد انتظار را محقق ننماید، پایین‌تر از حد انتظار ارزشیابی می‌شود.
لازم است تا کیفیت فرایند شایستگی (بر اساس انجام فعالیت‌های کلاسی، نظم، رعایت توصیه‌های زیست‌محیطی، ایمنی و بهداشت، مشارکت در فعالیت‌های آموزشی و تربیتی، ابتکار در تکالیف عملکردی درسی، مشارکت در فعالیت‌های گروهی و جمعی و...) در نظر گرفته شود.				
سطح شایستگی کسب شده در پودمان (بالاتر از حد انتظار، در حد انتظار، پایین‌تر از حد انتظار)				

- ۱- برنامه درسی درس ریاضی ۲، دفتر تألیف کتاب‌های درسی فنی و حرفه‌ای و کاردانش سال ۱۳۹۵.
- ۲- بخشعلی زاده، شهرناز؛ بروجردیان، ناصر؛ پناهنده، سوسن؛ دهقانی ابیانه، زین‌العابدین و فانی، زیبا. (۱۳۹۵). ریاضی ۱. شرکت چاپ‌ونشر کتاب‌های درسی ایران.
- ۳- بروجردیان، ناصر. (تابستان ۱۳۹۲). تابع و حد تابع در نگاه جدید و نگاه قدیم. مجله ریاضی پایا، شماره ۲ دوره یکم.
- ۴- بخشعلی زاده، شهرناز. (۱۳۸۴). آمار و مدل‌سازی. محراب قلم.

5- Hirsch, Christian R.; Fey, James T.; Hart, Eric W.; Schoen, Harold L.; Watkins, Ann E.; Ritsema, Beth E.; Walker, Rebecca K. and others. Core-plus mathematics- course 2. 1st Edition.

6- Hirsch, Christian R.; Fey, James T.; Hart, Eric W.; Schoen, Harold L.; Watkins, Ann E.; Ritsema, Beth E.; Walker, Rebecca K. and others. Core-plus mathematics- course 2. 2nd Edition.

7- Hirsch, Christian R.; Fey, James T.; Hart, Eric W.; Schoen, Harold L.; Watkins, Ann E.; Ritsema, Beth E.; Walker, Rebecca K. and others. Core-plus mathematics- course 2. 3rd Edition.

8- Moore- Harris, Beatrice; Bailey, Rhonda; Ott, Jack M.; Pelfrey, Ronald; Howard, Arthur C.; Price, Jack; Vielhaber, Kathleen; McClain, Kay. Mathematics application and concepts-course 2. McGraw-Hill. 2006

9 - Moore- Harris, Beatrice; Bailey, Rhonda; Ott, Jack M.; Pelfrey, Ronald; Howard, Arthur C.; Price, Jack; Vielhaber, Kathleen; McClain, Kay. Mathematics application and concepts-course 3. McGraw-Hill. 2006

10 - Barber, Dianne B. MATH IN CONTEXT: A Tool Kit for Adult Basic Skills Educators. Appalachian State University. NC Community College System. 2007

