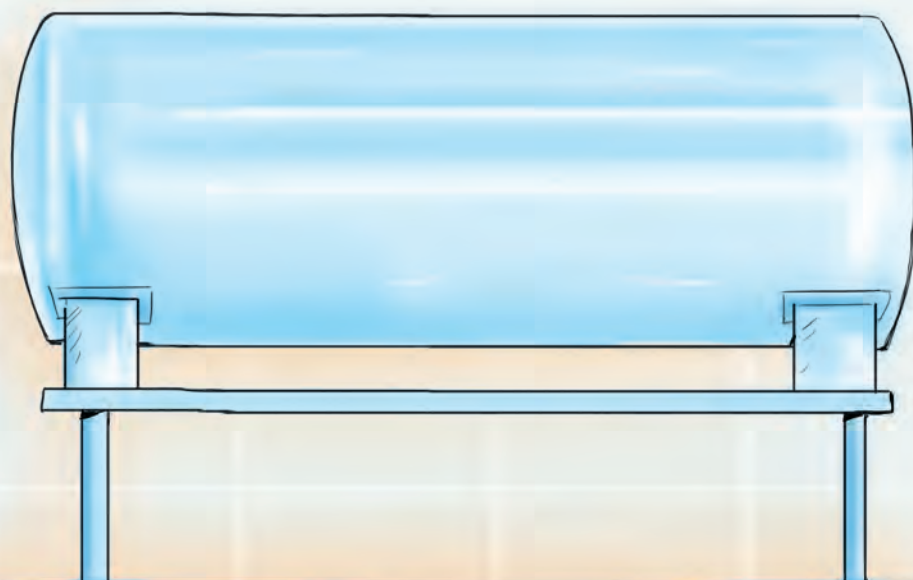


۱۳۹۵/۷/۱۰

آمار بسته‌ها: 380

اروغن خورالی





تقویم‌ها را کامل کنید.

فصل

سال ۱۳۹۵

خرداد

اردیبهشت

فروردین


۲۹	۱۸	۲۲	۱۱	۱۵	۴	۸	۲۸	۱	۲۱	شنبه
۳۰	۱۹	۲۳	۱۲	۱۶	۵	۹	۲۹	۲	۲۲	یکشنبه
۳۱	۲۰	۲۴	۱۳	۱۷	۶	۱۰	۳۰	۳	۲۳	دوشنبه
	۲۵	۱۴	۱۸	۷	۱۱	۱۱	۳۱	۴	۲۴	سه‌شنبه
	۲۶	۱۵	۱۹	۸	۱۲	۱	۱	۵	۲۵	چهارشنبه
	۲۷	۱۶	۲۰	۹	۱۳	۲	۲	۶	۲۶	پنج‌شنبه
	۲۸	۱۷	۲۱	۱۰	۱۴	۳	۳	۷	۲۷	جمعه

۲۵	۱۴	۱۸	۷	۱۱	۳۰	۴	۲۳	شنبه
۲۶	۱۵	۱۹	۸	۱۲	۳۱	۵	۲۴	یکشنبه
۲۷	۱۶	۲۰	۹	۱۳	۱	۶	۲۵	دوشنبه
۲۸	۱۷	۲۱	۱۰	۱۴	۲	۷	۲۶	سه‌شنبه
۲۹	۱۸	۲۲	۱۱	۱۵	۳	۸	۲۷	چهارشنبه
۳۰	۱۹	۲۳	۱۲	۱۶	۴	۹	۲۸	پنج‌شنبه
۳۱	۲۰	۲۴	۱۳	۱۷	۵	۱۰	۲۹	جمعه

۲۸	۱۶	۲۱	۹	۱۴	۲	۷	۲۶	شنبه
۲۹	۱۷	۲۲	۱۰	۱۵	۳	۸	۲۷	یکشنبه
۳۰	۱۸	۲۳	۱۱	۱۶	۴	۹	۲۸	دوشنبه
۳۱	۱۹	۲۴	۱۲	۱۷	۵	۱۰	۲۹	سه‌شنبه
	۲۵	۱۳	۱۸	۶	۱۱	۱	۳۰	چهارشنبه
	۲۶	۱۴	۱۹	۷	۱۲	۲	۳۱	پنج‌شنبه
	۲۷	۱۵	۲۰	۸	۱۳	۳	۱	جمعه



۱۲- شهادت استاد مرتضی مطهری (روز معلم)



۱۳- روز طبیعت (تعطیل)

۱۲ / / ۹۵
۱۳۹۵ / / ۱۲

۱۳ فروردین ۹۵
۱۳۹۵ / / ۱۳

فصل

مهر

آبان

آذر

سال ۱۳۹۵

شنبه
یکشنبه
دوشنبه
سه شنبه
چهارشنبه
پنج شنبه
جمعه

۲۴	۱۵	۱۷	۸	۱۰	۱	۳	۲۴
۱۳	۱۲	۶	۲۹	۲۰	۲۳	۴	۲۵
۲۵	۱۶	۱۸	۹	۱۱	۲	۵	۲۶
۱۴	۱۷	۱۰	۷	۱۳	۳	۶	۲۷
۲۶	۱۷	۱۹	۸	۱۲	۴	۷	۲۸
۱۵	۱۶	۱۱	۱	۱۴	۵	۸	۲۹
۲۷	۱۸	۲۰	۹	۱۳	۶	۹	۳۰
۱۶	۱۷	۱۹	۸	۱۲	۷	۱۰	۳۱
۲۸	۱۸	۲۱	۹	۱۳	۸	۱۱	۱
۱۷	۱۶	۱۸	۸	۱۲	۹	۱۲	۲
۲۹	۱۹	۲۲	۱۱	۱۴	۱۰	۱۳	۳
۱۸	۱۷	۱۹	۱۰	۱۳	۱۱	۱۴	۴
۳۰	۲۰	۲۳	۱۳	۱۶	۱۴	۱۷	۵
۲۱	۲۲	۲۴	۱۵	۱۸	۱۶	۱۹	۶
۲۲	۲۳	۲۵	۱۶	۱۹	۱۷	۲۰	۷
۲۳	۲۴	۲۶	۱۷	۲۰	۱۸	۲۱	۸
۲۴	۲۵	۲۷	۱۸	۲۱	۱۹	۲۲	۹
۲۵	۲۶	۲۸	۱۹	۲۲	۲۰	۲۳	۱۰
۲۶	۲۷	۲۹	۲۰	۲۳	۲۱	۲۴	۱۱
۲۷	۲۸	۳۰	۲۱	۲۴	۲۲	۲۵	۱۲
۲۸	۲۹	۳۱	۲۲	۲۵	۲۳	۲۶	۱۳
۲۹	۳۰	۱	۲۳	۲۶	۲۴	۲۷	۱۴
۳۰	۳۱	۲	۲۴	۲۷	۲۵	۲۸	۱۵
۱	۲	۳	۲۵	۲۸	۲۶	۲۹	۱۶
۲	۳	۴	۲۶	۲۹	۲۷	۳۰	۱۷
۳	۴	۵	۲۷	۳۰	۲۸	۳۱	۱۸
۴	۵	۶	۲۸	۳۱	۲۹	۱	۱۹
۵	۶	۷	۲۹	۱	۳۰	۲	۲۰
۶	۷	۸	۳۰	۲	۱	۳	۲۱
۷	۸	۹	۱	۳	۴	۵	۲۲
۸	۹	۱۰	۲	۴	۵	۶	۲۳
۹	۱۰	۱۱	۳	۵	۶	۷	۲۴
۱۰	۱۱	۱۲	۴	۶	۷	۸	۲۵
۱۱	۱۲	۱۳	۵	۷	۸	۹	۲۶
۱۲	۱۳	۱۴	۶	۸	۹	۱۰	۲۷
۱۳	۱۴	۱۵	۷	۹	۱۰	۱۱	۲۸
۱۴	۱۵	۱۶	۸	۱۰	۱۱	۱۲	۲۹
۱۵	۱۶	۱۷	۹	۱۱	۱۲	۱۳	۳۰
۱۶	۱۷	۱۸	۱۰	۱۲	۱۳	۱۴	۳۱
۱۷	۱۸	۱۹	۱۱	۱۳	۱۴	۱۵	۱
۱۸	۱۹	۲۰	۱۲	۱۴	۱۵	۱۶	۲
۱۹	۲۰	۲۱	۱۳	۱۵	۱۶	۱۷	۳
۲۰	۲۱	۲۲	۱۴	۱۶	۱۷	۱۸	۴
۲۱	۲۲	۲۳	۱۵	۱۷	۱۸	۱۹	۵
۲۲	۲۳	۲۴	۱۶	۱۸	۱۹	۲۰	۶
۲۳	۲۴	۲۵	۱۷	۱۹	۲۰	۲۱	۷
۲۴	۲۵	۲۶	۱۸	۲۰	۲۱	۲۲	۸
۲۵	۲۶	۲۷	۱۹	۲۱	۲۲	۲۳	۹
۲۶	۲۷	۲۸	۲۰	۲۲	۲۳	۲۴	۱۰
۲۷	۲۸	۲۹	۲۱	۲۳	۲۴	۲۵	۱۱
۲۸	۲۹	۳۰	۲۲	۲۴	۲۵	۲۶	۱۲
۲۹	۳۰	۳۱	۲۳	۲۵	۲۶	۲۷	۱۳
۳۰	۳۱	۱	۲۴	۲۶	۲۷	۲۸	۱۴
۳۱	۱	۲	۲۵	۲۷	۲۸	۲۹	۱۵

شنبه
یکشنبه
دوشنبه
سه شنبه
چهارشنبه
پنج شنبه
جمعه

۲۹	۱۹	۱۲	۱۵	۵	۸	۲۹	۱	۲۲
۱۹	۱۲	۱۳	۱۶	۶	۹	۳۰	۲	۲۳
۲۰	۱۳	۱۴	۱۷	۷	۱۰	۳۱	۳	۲۴
۲۱	۱۴	۱۵	۱۸	۸	۱۱	۱	۴	۲۵
۲۲	۱۵	۱۶	۱۹	۹	۱۲	۲	۵	۲۶
۲۳	۱۶	۱۷	۲۰	۱۰	۱۳	۳	۶	۲۷
۲۴	۱۷	۱۸	۲۱	۱۱	۱۴	۴	۷	۲۸
۲۵	۱۸	۱۹	۲۲	۱۲	۱۵	۵	۸	۲۹
۲۶	۱۹	۲۰	۲۳	۱۳	۱۶	۶	۹	۳۰
۲۷	۲۰	۲۱	۲۴	۱۴	۱۷	۷	۱۰	۳۱
۲۸	۲۱	۲۲	۲۵	۱۵	۱۸	۸	۱۱	۱
۲۹	۲۲	۲۳	۲۶	۱۶	۱۹	۹	۱۲	۲
۳۰	۲۳	۲۴	۲۷	۱۷	۲۰	۱۰	۱۳	۳
۱	۲۴	۲۵	۲۸	۱۸	۲۱	۱۱	۱۴	۴
۲	۲۵	۲۶	۲۹	۱۹	۲۲	۱۲	۱۵	۵
۳	۲۶	۲۷	۳۰	۲۰	۲۳	۱۳	۱۶	۶
۴	۲۷	۲۸	۳۱	۲۱	۲۴	۱۴	۱۷	۷
۵	۲۸	۲۹	۱	۲۲	۲۵	۱۵	۱۸	۸
۶	۲۹	۳۰	۲	۲۳	۲۶	۱۶	۱۹	۹
۷	۳۰	۳۱	۳	۲۴	۲۷	۱۷	۲۰	۱۰
۸	۳۱	۱	۴	۲۵	۲۸	۱۸	۲۱	۱۱
۹	۱	۲	۵	۲۶	۲۹	۱۹	۲۲	۱۲
۱۰	۲	۳	۶	۲۷	۳۰	۲۰	۲۳	۱۳
۱۱	۳	۴	۷	۲۸	۳۱	۲۱	۲۴	۱۴
۱۲	۴	۵	۸	۲۹	۱	۲۲	۲۵	۱۵
۱۳	۵	۶	۹	۳۰	۲	۲۳	۲۶	۱۶
۱۴	۶	۷	۱۰	۳۱	۳	۲۴	۲۷	۱۷
۱۵	۷	۸	۱۱	۱	۴	۲۵	۲۸	۱۸
۱۶	۸	۹	۱۲	۲	۵	۲۶	۲۹	۱۹
۱۷	۹	۱۰	۱۳	۳	۶	۲۷	۳۰	۲۰
۱۸	۱۰	۱۱	۱۴	۴	۷	۲۸	۳۱	۲۱
۱۹	۱۱	۱۲	۱۵	۵	۸	۲۹	۱	۲۲
۲۰	۱۲	۱۳	۱۶	۶	۹	۳۰	۲	۲۳
۲۱	۱۳	۱۴	۱۷	۷	۱۰	۳۱	۳	۲۴
۲۲	۱۴	۱۵	۱۸	۸	۱۱	۱	۴	۲۵
۲۳	۱۵	۱۶	۱۹	۹	۱۲	۲	۵	۲۶
۲۴	۱۶	۱۷	۲۰	۱۰	۱۳	۳	۶	۲۷
۲۵	۱۷	۱۸	۲۱	۱۱	۱۴	۴	۷	۲۸
۲۶	۱۸	۱۹	۲۲	۱۲	۱۵	۵	۸	۲۹
۲۷	۱۹	۲۰	۲۳	۱۳	۱۶	۶	۹	۳۰
۲۸	۲۰	۲۱	۲۴	۱۴	۱۷	۷	۱۰	۳۱
۲۹	۲۱	۲۲	۲۵	۱۵	۱۸	۸	۱۱	۱
۳۰	۲۲	۲۳	۲۶	۱۶	۱۹	۹	۱۲	۲
۳۱	۲۳	۲۴	۲۷	۱۷	۲۰	۱۰	۱۳	۳

شنبه
یکشنبه
دوشنبه
سه شنبه
چهارشنبه
پنج شنبه
جمعه

۲۷	۱۷	۱۰	۱۳	۳	۶	۲۶		
۱۷	۱۰	۱۱	۱۴	۴	۷	۲۷		
۱۸	۱۱	۱۲	۱۵	۵	۸	۲۸	۱	۲۱
۱۹	۱۲	۱۳	۱۶	۶	۹	۲۹	۲	۲۲
۲۰	۱۳	۱۴	۱۷	۷	۱۰	۳۰	۳	۲۳
۲۱	۱۴	۱۵	۱۸	۸	۱۱	۳۱	۴	۲۴
۲۲	۱۵	۱۶	۱۹	۹	۱۲	۱	۵	۲۵
۲۳	۱۶	۱۷	۲۰	۱۰	۱۳	۲	۶	۲۶
۲۴	۱۷	۱۸	۲۱	۱۱	۱۴	۳	۷	۲۷
۲۵	۱۸	۱۹	۲۲	۱۲	۱۵	۴	۸	۲۸
۲۶	۱۹	۲۰	۲۳	۱۳	۱۶	۵	۹	۲۹
۱۶	۱۹	۲۰	۲۳	۱۴	۱۷	۶	۱۰	۳۰
۱۷	۲۰	۲۱	۲۴	۱۵	۱۸	۷	۱۱	۳۱
۱۸	۲۱	۲۲	۲۵	۱۶	۱۹	۸	۱۲	۱
۱۹	۲۲	۲۳	۲۶	۱۷	۲۰	۹	۱۳	۲
۲۰	۲۳	۲۴	۲۷	۱۸	۲۱	۱۰	۱۴	۳
۲۱	۲۴	۲۵	۲۸	۱۹	۲۲	۱۱	۱۵	۴
۲۲	۲۵	۲۶	۲۹	۲۰	۲۳	۱۲	۱۶	۵
۲۳	۲۶	۲۷	۳۰	۲۱	۲۴	۱۳	۱۷	۶
۲۴	۲۷	۲۸	۳۱	۲۲	۲۵	۱۴	۱۸	۷
۲۵	۲۸	۲۹	۱	۲۳	۲۶	۱۵	۱۹	۸
۲۶	۲۹	۳۰	۲	۲۴	۲۷	۱۶	۲۰	۹
۲۷	۳۰	۳۱	۳	۲۵	۲۸	۱۷	۲۱	۱۰
۲۸	۳۱	۱	۴	۲۶	۲۹	۱۸	۲۲	۱۱
۲۹	۱	۲	۵	۲۷	۳۰	۱۹	۲۳	۱۲
۳۰	۲	۳	۶	۲۸	۳۱	۲۰	۲۴	۱۳
۳۱	۳	۴	۷	۲۹	۱	۲۱	۲۵	۱۴



۷- روز آتش نشانی و ایمنی

۹۵ / / ۷

۹۵ / / ۷



۱۶- روز دانشجو

۹۵ / / ۱۶

۹۵ / / ۱۶

سال ۱۳۹۵



با توجه به تقویم امسال جدول زیر را کامل کنید.

ایام هفته	تاریخ	مناسبت
۲ دی	۹۵/۱۰/۲	<input type="checkbox"/> دارد <input type="checkbox"/> ندارد
۵ دی	<input type="checkbox"/> دارد <input type="checkbox"/> ندارد
۵ بهمن	<input type="checkbox"/> دارد <input type="checkbox"/> ندارد
۵ اسفند	<input type="checkbox"/> دارد <input type="checkbox"/> ندارد

با استفاده از تقویم یک ماه را انتخاب نموده سپس ۲ مناسبت در آن ماه و تاریخ آن ها را بنویسید.

ماه:	
مناسبت‌ها	تاریخ
..... / /
..... / /

دی ماه چندمین ماه سال است؟

نهمین دهمین یازدهمین

تاریخ ۹۵/۸/۶ مربوط به کدام ماه است؟

مهر آبان آذر

کد پستی ۱۵۶ کد مامور قرائت ۳۲ محدوده قرائت ۱۳۹۴/۱۱/۲۴ تاریخ صدور قبض ۲,۳۵۲ سرپال قبض	محمد اکبری فرحزاد سپهر ۱۰۹۹۱۲۵۷۶ ۳۲۶۳۲۱۰۵۰۰ مسکونی	مشترک‌گرمی نشانی شماره پرونده شماره اشتراک کد و نوع تعرفه	
مبلغ (ریال)	شرح	قرائت	واحد
۵۲۴۵۱	آب بهاء	فعلی	سکونی
۱۱۳۳	آبونمان آب	قبلی	بر مسکونی
۱۲۲۲	مالیات	تاریخ رقم	
۳۱۵۵۲	تبصره	۱۳۹۵/۶/۲۰	۱
۴۲۰۰	سهم آبفای روستایی	۱۳۹۵/۵/۱۶	۰
۴۰۸	مانده قبلی:	مصرف (متر مکعب)	آب
۹۰۹۶۶	جمع صورتحساب دوره:	۳۴	۰,۵
		طول دوره (روز)	۱۰ میلی‌متر
		مصرف دوره	۰
		میانگین مصرف	۰۸۰۶۷۲۹
		مصرف مجاز	عادی
		مصرف مازاد	فیت قراردادی ساره بدنه کنتور بعیت کنتور
			نوع به حروف نود هزار و نهصد و شصت و شش
مبلغ قابل پرداخت	مهلت پرداخت	شناسه پرداخت	شناسه قبض
۹۰۹۶۶	۱۳۹۵/۷/۵۱۹۴۴۱۲۶۵	۱۰۹۹۱۲۵۷۰۳۱۱۹

مدت مصرف آب در این قبض از ماه تا است.

ریاضی و زندگی

قبض آب، برق و گاز خانه‌ی خود را به کلاس آورده، تاریخ مهلت پرداخت هر قبض را به طور کامل بنویسید.

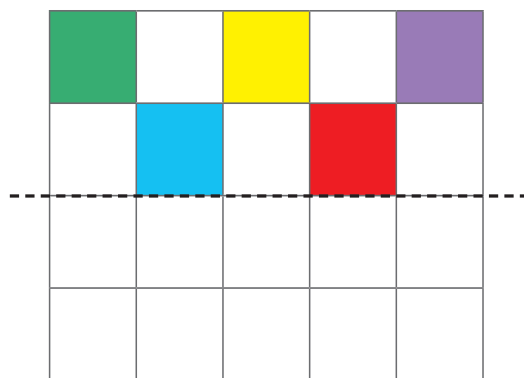
قبض آب:

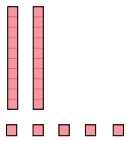

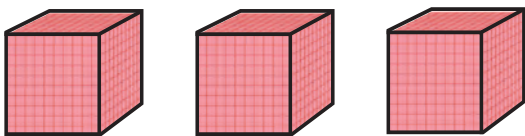
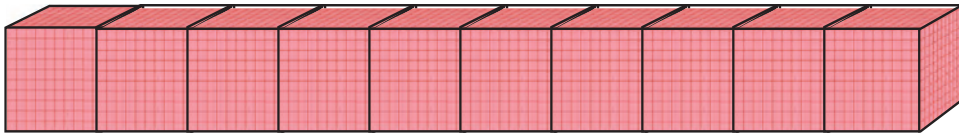
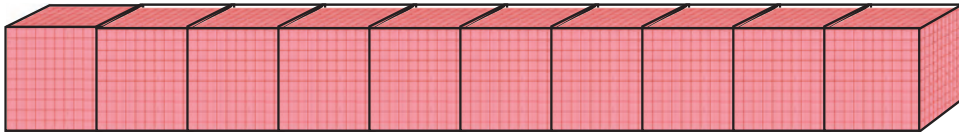
قبض برق:

قبض گاز:

تقارن

با توجه به خط تقارن نیمه‌ی دیگر شکل را کامل کنید.

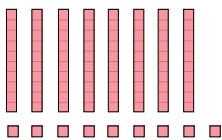
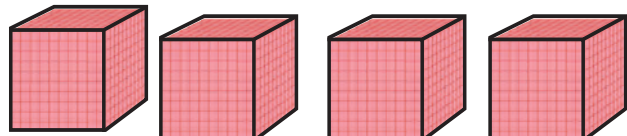
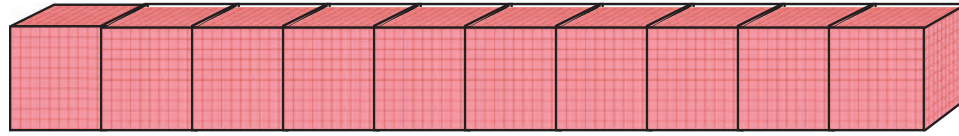
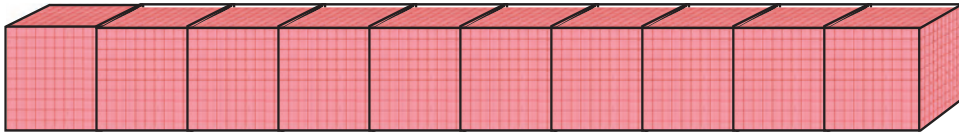
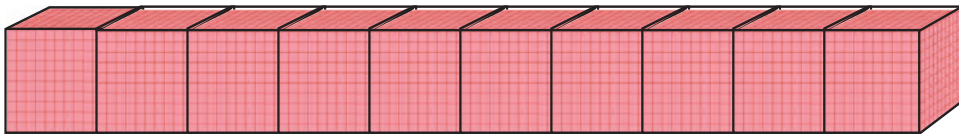
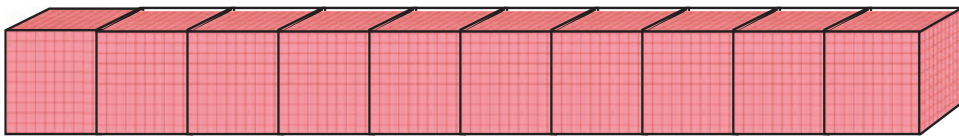
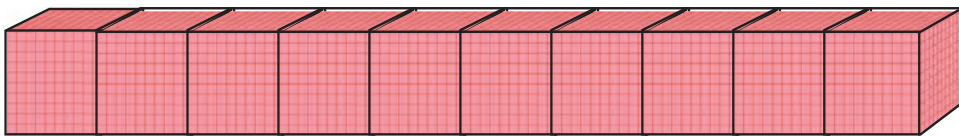




مانند نمونه کامل کنید.

هزارها			صدگان		
صدگان	دهگان	یکان	صدگان	دهگان	یکان
	۲	۳	۵	۲	۵

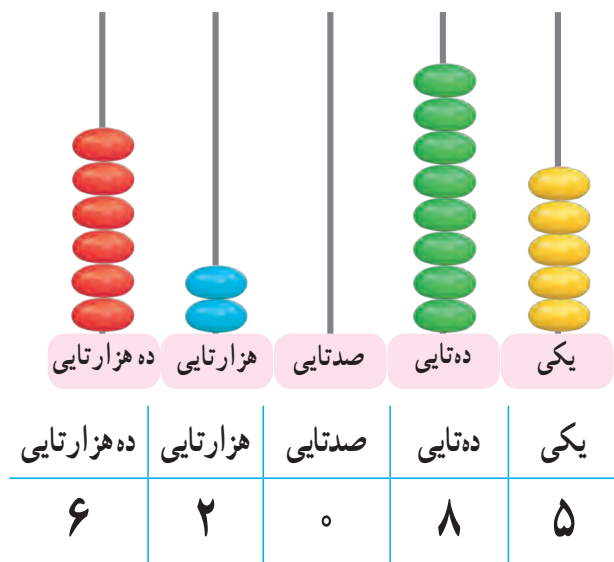
به رقم: ۲۳۵۲۵



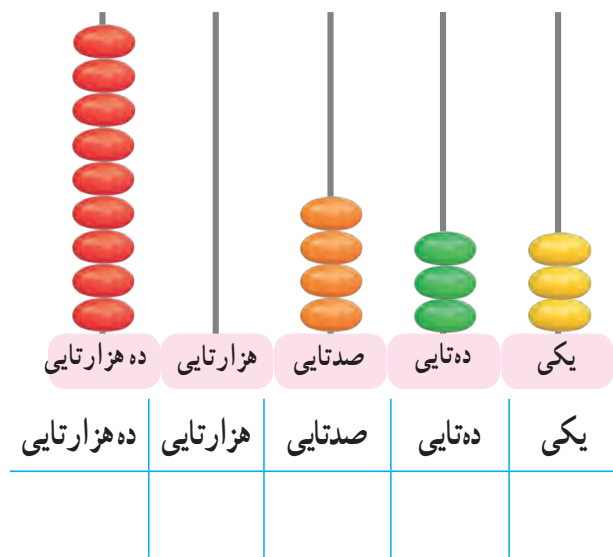
هزارها			صدگان		
صدگان	دهگان	یکان	صدگان	دهگان	یکان

به رقم:

مانند نمونه عدد هر چرتکه را در جدول ارزش مکانی بنویسید و عدد را از جدول خارج کنید.



به رقم : ۶۲۰۸۵



به رقم :

با توجه به عدد هر جدول جاهای خالی را کامل کنید.

هزارها			صدگان		
صدگان	دهگان	یکان	صدگان	دهگان	یکان
	۴	۱	۹	۷	۰

صدگان :

دهگان هزار :

یکان :

هزارها			صدگان		
صدگان	دهگان	یکان	صدگان	دهگان	یکان
	۸	۳	۵	۰	۰

دهگان هزار :

یکان هزار :

دهگان :



عدد هر جدول را به رقم و حروف بنویسید.

هزارها					
صدگان	دهگان	یکان	صدگان	دهگان	یکان
	۵	۶	۷	۴	۹

به رقم :

به حروف :

هزارها					
صدگان	دهگان	یکان	صدگان	دهگان	یکان
	۹	۳	۰	۱	۸

به رقم :

به حروف :

هزارها			
دهگان	یکان		
۲	۳	۳۷۵	

به رقم :

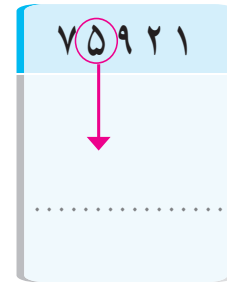
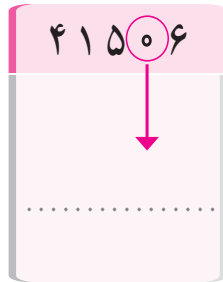
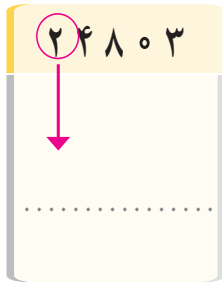
به حروف :

هزارها			
دهگان	یکان		
۸	۰	۴۶۲	

به رقم :

به حروف :

ارزش مکانی رقم‌های خواسته شده را بنویسید.



علی و محیا عدد هفتاد و سه هزار و پانزده را به رقم نوشته‌اند.

۷۳۰۱۵ علی

۷۳۱۵۰ محیا

کدام یک درست نوشته است؟

اشتباه نفر دیگر را توضیح دهید.

یک عدد پنج رقمی بنویسید که عددهای ۸، ۲، ۰ در آن باشد.

عدد خود را به حروف بنویسید.

در هر عدد، رقم نوشته نشده را به دلخواه بنویسید و مرتبه‌ی آن را مشخص کنید.

..... مرتبه :



..... مرتبه :



قیمت گوشت، ماهی و جمع کل صورت حساب را به حروف بنویسید.

تاریخ: ۹۵/۷/۱۰	صورت حساب
قیمت	جنس
۲۵۷۸۰ تومان	گوشت
۱۷۵۰۰ تومان	ماهی
۴۳۲۸۰ تومان	جمع کل

قیمت گوشت :

قیمت ماهی :

جمع کل :

جمع پول‌های زیر را به حروف بنویسید.



ریال

به محیط پیرامون خود نگاه کنید. ۳ عدد چهار یا پنج رقمی پیدا کنید و بنویسید.

.....

.....

.....

این اعداد را در کجا دیده‌اید؟



۱- اعداد لاتین را به فارسی بنویسید.



۳۹ ۵۰



۲- با توجه به عدد لاتین داده شده، دور عدد فارسی آن خط بکشید.



۳- مبلغ این پول را بنویسید.



..... تومان

۴- اعداد لاتین روی هر یک از اجناس را به فارسی بنویسید.

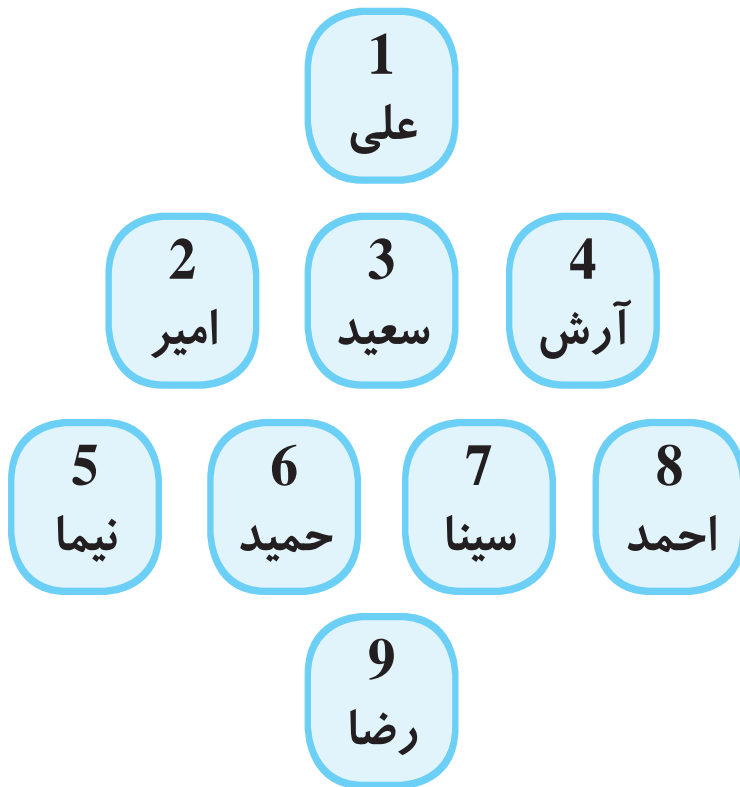


.....

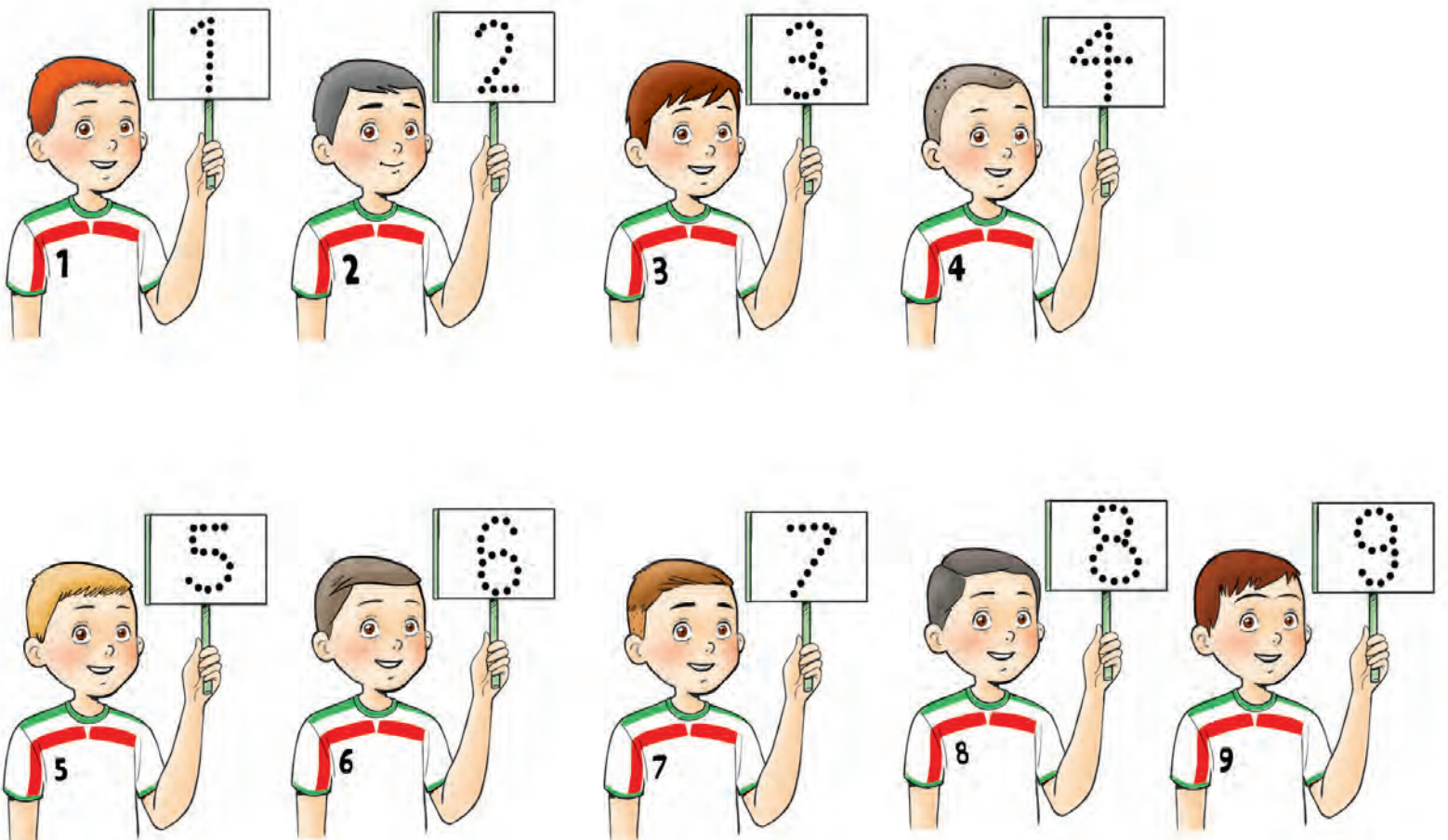


.....

به شماره هر یک از بازیکنان توجه کنید.



— با توجه به شماره هر بازیکن نقطه چین ها را کامل کنید.



— اعداد لاتین را بخوانید و بنویسید.



— اعداد لاتین را به ترتیب بنویسید.

0 - 1 - 2 - 3 - 4 - 5 - 6 - 7 - 8 - 9

.....


– با توجه به صفحه کیبورد، جاهای خالی را با اعداد لاتین کامل کنید.



– اعداد روی خط کش را کامل کنید.



– با استفاده از خط کش طول هر شکل را اندازه گرفته و به لاتین بنویسید.



یک ساعت دیواری درست کرده و آن را به کلاس بیاورید.



صورت مسئله‌های زیر را بخوانید و مانند نمونه مشخص کنید کدام یک کامل است و کدام یک کامل نیست.*

۱- مدرسه‌ی امید ۲۵۰ دانش‌آموز دارد.

مدرسه امید و مدرسه‌ی البرز روی هم چند دانش‌آموز دارند؟

کامل نیست

کامل است

۲- علی ۹۵۰ تومان پول داشت. برادرش هم به او پول داد. حالا علی چقدر پول دارد؟

کامل نیست

کامل است

۳- در یک کیسه ۱۵۰ گردو و بادام است. اگر ۴۵ تای آن بادام باشد چند گردو در این کیسه است؟

کامل نیست

کامل است

۴- هر مسلمانی در هر روز ۵ نوبت نماز می‌خواند. در ۳ روز چند نوبت نماز می‌خواند؟

کامل نیست


کامل است

* هدف تشخیص یک مسئله با اطلاعات کامل است.




با استفاده از ضرب به پرسش‌های زیر پاسخ دهید.


۱- این جعبه چند پرتقال دارد؟



۲- این جعبه چند پاک‌کن دارد؟



۳- این جعبه چند بطری آب دارد؟




۴- این جعبه چند شکلات دارد؟




۵- این شانه تخم مرغ چند تخم مرغ دارد؟

با استفاده از ضرب به پرسش‌های زیر پاسخ دهید.


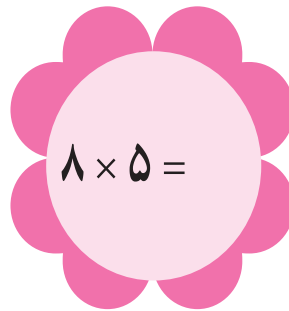
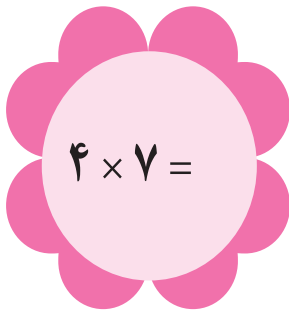


۱- تعداد دانش‌آموزان در صف مدرسه چند نفرند؟



۲- تعداد شرکت‌کنندگان در سالن اجتماعات چندتاست؟



ضرب‌های زیر را انجام دهید.



$6 \times 3 =$	$1 \times 9 =$	$5 \times 0 =$
$3 \times 6 =$	$9 \times 1 =$	$0 \times 5 =$
$9 \times 10 =$	$7 \times 10 =$	$10 \times 1 =$
$6 \times \dots = 60$	$8 \times \dots = 80$	$\dots \times 7 = 70$

– یک کشاورز محصول ذرت خود را در کیسه‌های 10 کیلوگرمی جمع‌آوری کرده است. اگر تعداد کیسه‌ها 8 عدد باشد. محصول امسال کشاورز چند کیلوگرم است؟

ضرب عددهای دو رقمی در دسته های ده تایی



...../...../.....

.....:.....

آموزگار از مریم خواست تا تعداد برچسب های روی میز را حساب کند.

مریم گفت: ۳ برگه که روی هر برگه ۲۰ ستاره وجود دارد.

$$3 \times 20 = 60$$

سپس این ضرب را نوشت و گفت: ۶۰ ستاره داریم.



$$\dots \times \dots = \dots$$



$$\dots \times \dots = \dots$$



$$\dots \times \dots = \dots$$



$$\dots \times \dots = \dots$$



آقای امیری برای مغازه خود ۷ بسته ۵۰ تایی خودکار خرید او چند خودکار خریده است؟

هر توپ پارچه ۳۰ متر است. ۹ توپ پارچه چند متر است؟

ضرب عددهای دو رقمی در یک رقمی



آموزگار به پریسا گفت: در یک بسته ۲۴ بطری شیر است.



در ۲ بسته چند بطری شیر وجود دارد؟



برای به دست آوردن پاسخ، آموزگار ضرب عدد ۲۴ در ۲ را در جدول نوشت و توضیح داد در ضرب اعداد دو رقمی در یک رقمی، ابتدا عدد دو رقمی را بالا و عدد یک رقمی را در زیر آن می‌نویسیم و حالا ابتدا ۲ را در ۴ یکی ضرب می‌کنیم که می‌شود ۸ و سپس ۲ را در ۲ ده‌تایی ضرب می‌کنیم که می‌شود ۴. پس در ۲ بسته ۴۸ بطری شیر وجود دارد.

ده‌تایی	یکی	
۲	۴	۲۴
×	۲	×
	۴	۸
	



ضرب‌های زیر را انجام دهید.



ده‌تایی	یکی	
۱	۲	۱۲
×	۳	×

تمرین

مانند نمونه حاصل هر ضرب را به دست آورید.

ده تایی	یکی
۱	۱
×	۶
۶	۶

$$\begin{array}{r} 11 \\ \times 6 \\ \hline 66 \end{array}$$

ده تایی	یکی
۴	۳
×	۲
.....

$$\begin{array}{r} 43 \\ \times 2 \\ \hline \dots\dots \end{array}$$

ده تایی	یکی
۴	۰
×	۲
.....

$$\begin{array}{r} \dots\dots \\ \times \dots\dots \\ \hline \dots\dots \end{array}$$

ده تایی	یکی
۳	۳
×	۳
.....

$$\begin{array}{r} \dots\dots \\ \times \dots\dots \\ \hline \dots\dots \end{array}$$

ضرب‌های زیر را انجام دهید. سپس با ماشین حساب کنترل کنید که پاسخ‌ها درست است یا خیر؟

$$\begin{array}{r} 12 \\ \times 4 \\ \hline \dots\dots \end{array}$$

$$\begin{array}{r} 32 \\ \times 3 \\ \hline \dots\dots \end{array}$$

$$\begin{array}{r} 41 \\ \times 6 \\ \hline \dots\dots \end{array}$$

$$\begin{array}{r} 80 \\ \times 5 \\ \hline \dots\dots \end{array}$$

مسئله حل کنید

۱- مدرسه‌ی مریم ۳ کلاس پنجم دارد. هر کلاس ۲۳ دانش‌آموز دارد. مدرسه‌ی مریم چند دانش‌آموز کلاس پنجمی دارد؟

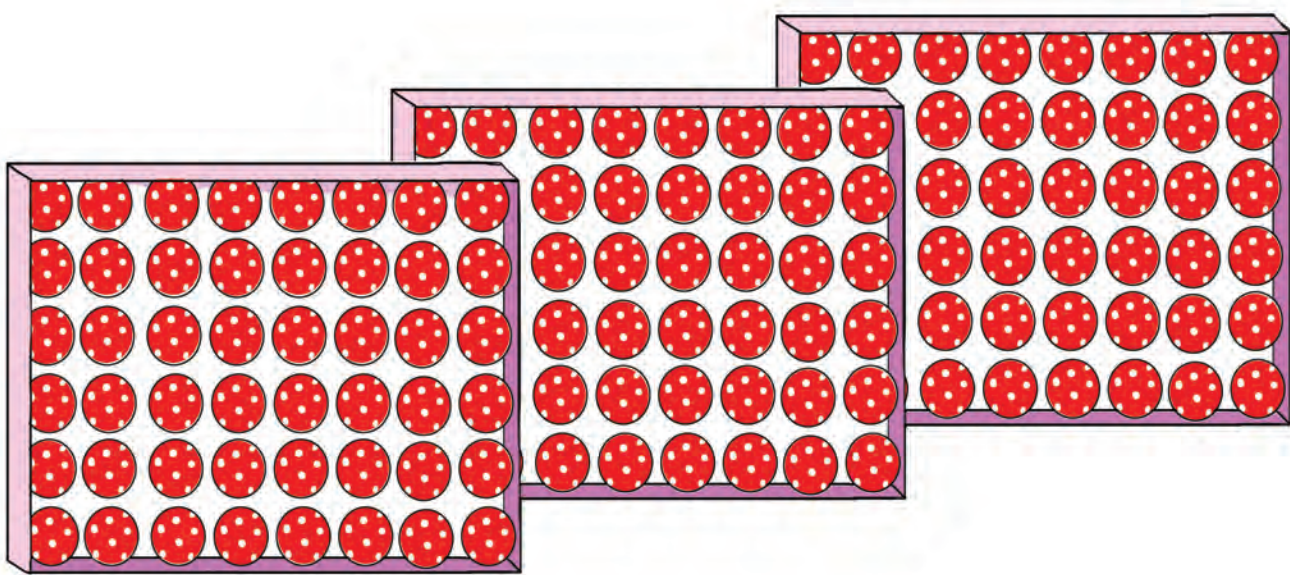
۲- در هر کارتن ۴۰ جعبه‌ی دستمال کاغذی است. در ۸ کارتن چند دستمال کاغذی وجود دارد؟

پدر ناصر یک مغازه اسباب بازی فروشی دارد. ناصر می خواهد تعداد اسباب بازی های مغازه را به دست بیاورد. شما هم به ناصر کمک کنید که تعداد هر کدام از اسباب بازی ها را به دست بیاورد.



.....

.....





.....

جدول ضرب زیر را کامل کنید.

×	۱	۲	۳	۴	۵	۶	۷	۸	۹
۱									
۲									
۳									
۴									
۵									
۶									
۷									
۸									
۹									

باید جدول ضرب را حفظ باشیم و به خاطر داشته باشیم، چون همیشه به آن احتیاج داریم.




محسن ۱۸ گردو داشت. او می خواست که گردوها را به دسته های ۶ تایی قسمت کند، تا ببیند به چند کیسه نیاز دارد. محسن ابتدا با گردوها دسته های ۶ تایی درست کرد و گفت: با ۱۸ گردو ۳ دسته درست کردم.


یعنی:

۱۸ گردو به ۳ دسته ی ۶ تایی تقسیم می شود.

پس: به ۳ کیسه نیاز دارم.




مانند نمونه دسته‌بندی کنید و در جاهای خالی عدد مناسب بگذارید.




۱۰ به ۲ دسته‌ی ۵ تایی تقسیم می‌شود.



۲۴ به دسته‌ی ۸ تایی تقسیم می‌شود.




۲۵ به دسته‌ی ۵ تایی تقسیم می‌شود.



۱۸ به دسته‌ی ۳ تایی تقسیم می‌شود.




۱۵ به دسته‌ی ۳ تایی تقسیم می‌شود.



۱۴ به دسته‌ی ۲ تایی تقسیم می‌شود.

تعداد هر شکل را بشمارید، مانند نمونه دسته‌بندی کرده و در جاهای خالی عدد مناسب بگذارید.




۱۵ گلابی به ۵ دسته ۳ تایی تقسیم می‌شود.




..... سیب به دسته ۴ تایی تقسیم می‌شود.



..... گردو به دسته ۵ تایی تقسیم می‌شود.



..... خیار به دسته ۸ تایی تقسیم می‌شود.




..... پرتقال به دسته ۷ تایی تقسیم می‌شود.




..... موز به دسته ۶ تایی تقسیم می‌شود.


ابتدا تعداد هر شکل را بشمارید و با توجه به عدد کنار هر شکل مانند نمونه آن را دسته بندی و جاهای خالی را کامل کنید.




۱۲ به ۴ دسته ی ۳ تایی تقسیم می شود.




..... به دسته ی تایی تقسیم می شود.




..... به دسته ی تایی تقسیم می شود.



..... به دسته ی تایی تقسیم می شود.



..... به دسته ی تایی تقسیم می شود.



..... به دسته ی تایی تقسیم می شود.



فرهنگ نوشتن

۲۰۰۰۰ ، ۴۰۰۰۰ ، ۶۰۰۰۰ ،

توضیح دهید بین اعداد بالا چه رابطه ای وجود دارد؟

حالا شما عدد بعد را بنویسید :

تمرین

..... / /

۱- از روی تقویم تاریخ ولادت امام رضا (ع) را بنویسید.

۲- جمعیت شهر گلپایگان حدود ۵۴,۷۶۲ نفر است.

این عدد را بخوانید و در جدول ارزش مکانی بنویسید و به سؤال های زیر پاسخ دهید.

هزار			صدگان		
یکان	دهگان	صدگان	یکان	دهگان	صدگان

- چه رقمی در کوچک ترین مرتبه قرار دارد؟

- رقم ۷ در چه مرتبه ای است؟

- چه رقمی در بزرگ ترین مرتبه قرار گرفته است؟

۳- اعداد لاتین 0 تا 9 را روی محور زیر بنویسید.





۴- از جعبه ی اعداد، عددهای داخل مثلث را انتخاب کنید و در جاهای خالی قرار دهید و ضرب را انجام دهید.



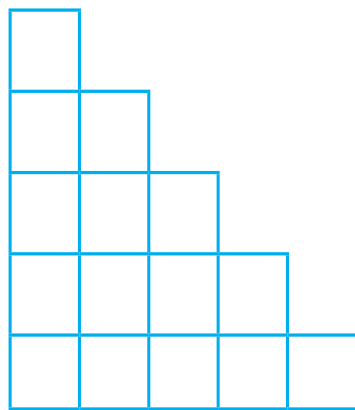
$$\begin{array}{r} \triangle \\ \triangle \\ \times \quad \triangle \\ \hline \end{array}$$

حدس بزنید

– کدام شکل ۱۵ دکه را به ۳ دسته‌ی مساوی تقسیم کرده است؟ علامت بزنید.



جدول و سرگرمی



– حاصل ضرب 1×1

– شماره ماه دی

– حاصل جمع دو عدد 5° و 5°

– ۲ اسکناس 500° تومانی


– کوچک‌ترین عدد ۵ رقمی

اگر به جدول حل شده نگاه کنید متوجه ارزش صفر در هر ردیف می‌شوید.

فرهنگ خواندن

خانم حمیدی برای جشن نامزدی دخترش 7° نفر مهمان دعوت کرده است. او به قنادی رفت و سفارش شیرینی خامه‌ای داد. آقای قناد ۳ جعبه شیرینی خامه‌ای به خانم حمیدی داد. خانم حمیدی شیرینی‌های یکی از جعبه‌ها را شمرد. در آن جعبه ۲۵ تا شیرینی بود.

به نظر شما این تعداد شیرینی برای مهمان‌ها کافی است؟



قیمت: ۳۸۰۰۰ ریال
تاریخ تولید: ۹۵/۷/۲۰
تاریخ انقضا: ۹۵/۸/۲۰

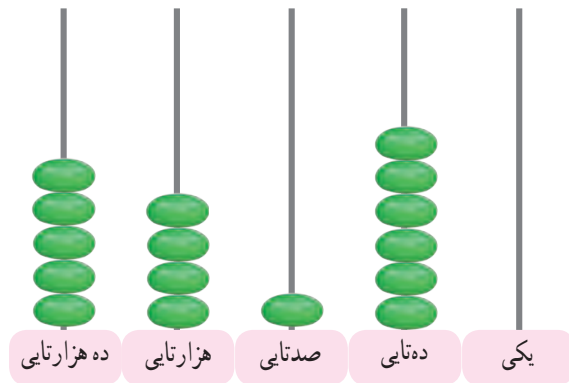
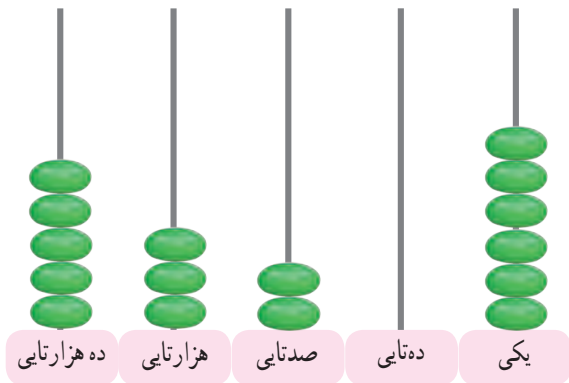
قیمت: ۸۹۰۰۰ ریال
تاریخ تولید: ۹۵/۸/۱۰
تاریخ انقضا: ۹۵/۸/۲۵

هنگام خرید به تاریخ تولید و انقضای کالاها توجه کنیم.

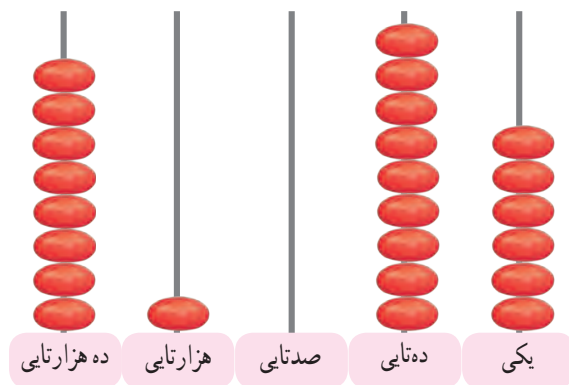
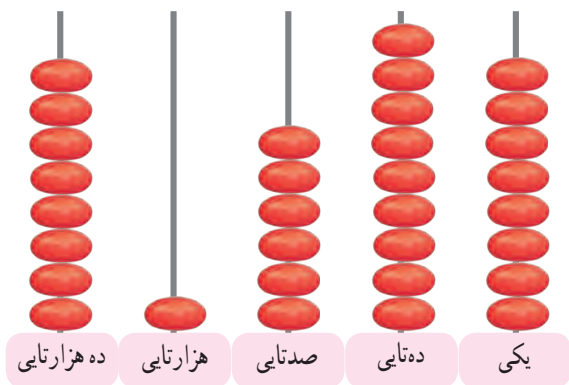
مقایسه اعداد (۱)



علامت مناسب (< = >) بگذارید.



۵۳۲۰۶ ○ ۵۴۱۶۰



..... ○

هزارها	
۲۶	۰۰۷




هزارها	
۲۶	۷۰۰

هزارها	
۷۴	۵۹۲



هزارها	
۷۵	۴۲۹

اعداد را مقایسه کنید و علامت مناسب (<=>) بگذارید.




– پول قبض‌های زیر را مقایسه کنید و علامت مناسب را بنویسید.

رستوران پارسیان

تعداد	نام غذا
۵ تا	چلو قورمه سبزی

مبلغ قابل پرداخت: ۲۷۵۰۰۰ تومان

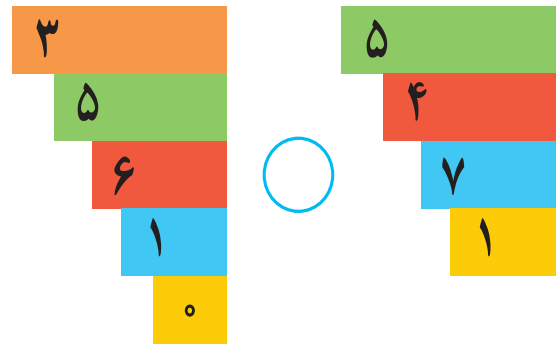
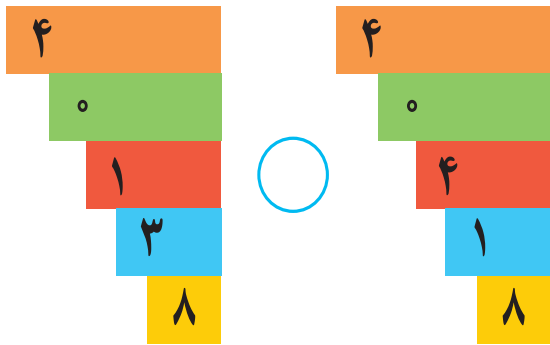


رستوران پارسیان

تعداد	نام غذا
۴ تا	چلو کباب

مبلغ قابل پرداخت: ۳۲۵۰۰۰ تومان

اعداد را مقایسه کنید و علامت مناسب (< = >) بگذارید.



۹۳۹۲۷ ○ ۴۷۰۸۱

۸۵۶۱ ○ ۸۴۹۳۰

۱۲۸۰۲ ○ ۱۲۸۰۲

۶۶۷۵۱ ○ ۶۶۸۵۱



مقدار پول های هر ردیف را بنویسید و علامت (< = >) بگذارید.



ریال ○ ریال



ریال ○ ریال

**مسئله
حل کنید**




۱- یک کارخانه در ماه دی ۶۲۰۰۰ بسته و در ماه بهمن ۶۷۰۰۰ بسته پودر ماشین لباسشویی تولید کرده است. تولید این کارخانه در کدام ماه کمتر بوده است؟



۲- در یک کامیون ۲۶۵۷۰ کیلوگرم گندم و در کامیون دیگر ۳۲۱۵۰ کیلوگرم برنج است. کدام کامیون بار سنگین تری را می برد؟

**ریاضی و
زندگی**



با آموزگار خود به اتاق بهداشت بروید و با استفاده از ترازو خود را وزن کنید.
وزن شما کیلوگرم است.
حالا از یکی از دوستان خود بخواهید که روی ترازو بایستد.
وزن او کیلوگرم است.
چه کسی وزن کمتری دارد؟

ارزش کدام پول بیشتر است؟

۲۵۰۰ ریال

۱۵۰۰۰ ریال



...../...../.....

.....:.....

جاهای خالی را کامل کنید.



..... تومان



..... تومان



..... تومان



..... تومان



..... تومان



.....۲۰۰.۰۰۰..... تومان



جاهای خالی را کامل کنید.



..... تومان




..... تومان

– مقدار پولی که برای خرید هر جنس لازم است را جدا کنید.



۵۵۰۰ تومان



۲۵۰۰ تومان



– امیر ۶۵۰۰ تومان دارد. آیا او می تواند این ماشین حساب را بخرد؟



۱۰۰۰ تومان

– لیلا یک اسکناس ۵۰۰۰ تومانی و یک اسکناس ۱۰۰۰ تومانی دارد. آیا او با این مقدار پول می تواند این جنس را بخرد؟



۵۵۰۰ تومان

با پول‌هایی که آموزگار در اختیار شما می‌گذارد، مقادیر زیر را جدا کنید.

۶۰۰۰ تومان

۲۵۰۰ تومان

۴۰۰۰ تومان

۷۰۰۰ تومان



مسئله
حل کنید



۱- علی برای خرید این بسته شکلات یک اسکناس ۵۰۰۰ تومانی و یک اسکناس ۲۰۰۰ تومانی پرداخت کرده است. او چه قدر پول به فروشنده داده است؟

۲- پدر هادی یک اسکناس ۱۰۰۰ تومانی و یک اسکناس ۲۰۰۰ تومانی به او داده است. هادی چند تومان پول دارد؟

ریاضی و
زندگی

با یک اسکناس ۵۰۰۰ تومانی و یک اسکناس ۱۰۰۰ تومانی چه چیزهایی می‌توانید بخرید؟ بنویسید.

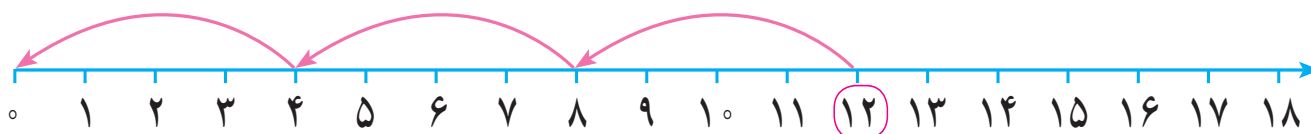
.....
.....
.....



آموزگار می‌خواست ۱۲ گردو را به دسته‌های ۴ تایی تقسیم کند.



آموزگار گفت: ۱۲ گردو ۳ دسته‌ی ۴ تایی شد. سپس تقسیم را روی محور نشان داد.



و عبارت تقسیم آن را نوشت:

$$۱۲ \div ۴ = ۳$$

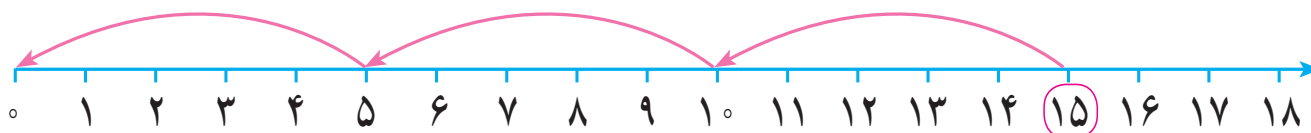
آموزگار گفت: این \div علامت تقسیم است.

و آن را به این صورت خواند ۱۲ تقسیم بر ۴، می‌شود ۳

این بار آموزگار از علی خواست ۱۵ عدد گردو را به دسته‌های ۵ تایی تقسیم کند و روی محور نشان دهد و عبارت آن را بنویسد.
علی گردوها را دسته‌بندی کرد.



او تقسیم را روی محور نشان داد و عبارت تقسیم را نوشت.



$$۱۵ \div ۵ = ۳$$