

جدول ۵-۱- جرم واحد حجم اجسام

جرم	نام ماده
۲۴۰mg	چوب پنبه
۵۶۰mg	چوب بلوط
۹۲۰mg	یخ
۲/۶g	شیشه
۱۱g	سرب

با ترازو اندازه می‌گیرند. در واقع با این کار جرم واحد حجم را اندازه گرفته‌اند که همان مفهوم چگالی می‌باشد. به‌عنوان مثال، چگالی برخی از مواد در جدول (۵-۱) آمده است. واحد چگالی در دستگاه C.G.S به صورت گرم بر سانتی‌متر مکعب می‌باشد.

مثال ۵-۱- جرم گلوله‌ای از آلومینیم ۲۷ گرم و حجم آن ۱۰ سانتی‌متر مکعب است چگالی آن را حساب کنید.

$$m = 27g$$

$$V = 10 \text{ cm}^3$$

$$\rho = \frac{m}{V} = \frac{27g}{10 \text{ cm}^3} = 2.7g/\text{cm}^3$$

حل:

فرضیات:

مثال ۵-۲- یک قطعه فلز به جرم ۷۲ گرم و به حجم ۹ cm^۳ در اختیار داریم. چگالی فلز را بر حسب g/cm^۳ و kg/m^۳ به دست آورید.

$$\rho = \frac{m}{V} = \frac{72g}{9 \text{ cm}^3} = 8g/\text{cm}^3$$

حل:

برای قسمت دوم از روش نردبانی استفاده می‌کنیم.

$$\frac{8g}{\text{cm}^3} \left| \frac{1kg}{1000g} \right| \frac{(100)^3 \text{cm}^3}{1 \text{m}^3} = 8000 \text{kg}/\text{m}^3$$

۵-۳- چگالی نسبی^۱

نسبت چگالی یک جسم را به چگالی جسم دیگر چگالی نسبی می‌گویند. معمولاً چگالی جامدات و مایعات را نسبت به آب و چگالی گازها را نسبت به هوا می‌سنجند.

$$\text{معادله (۵-۴)} = d = \frac{\rho_2}{\rho_1} = \text{چگالی نسبی}$$

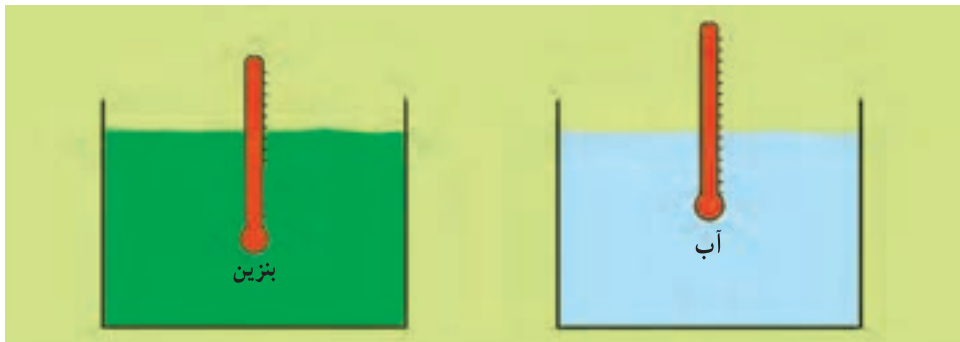
به عنوان مثال، وقتی می‌گوییم چگالی جیوه نسبت به آب $13/6$ است، یعنی چگالی جیوه $13/6$ برابر چگالی آب است.

مثال ۵-۳- چگالی نسبی جیوه نسبت به آلومینیم تقریباً ۵ است. اگر چگالی آلومینیم $2/7 \text{ g/cm}^3$ باشد چگالی جیوه چه قدر خواهد بود؟

$$\text{حل: } d = \frac{\rho_2}{\rho_1} \Rightarrow 5 = \frac{\rho_2}{2/7} \Rightarrow \rho_2 = 13/5 \text{ g/cm}^3$$

۵-۴- چگالی سنج

چگالی سنج دستگاه بسیار ساده‌ای دارد که بر مبنای قانون ارشمیدس ساخته شده است و برای اندازه‌گیری چگالی مایعات به کار می‌رود. دقت این ابزار و روش آن به اندازه روش‌های دیگر نیست ولی کار با آن سریع‌تر و با صرفه‌تر است. طرز کار چگالی سنج را می‌توان به کمک شکل ۵-۲ شرح داد.



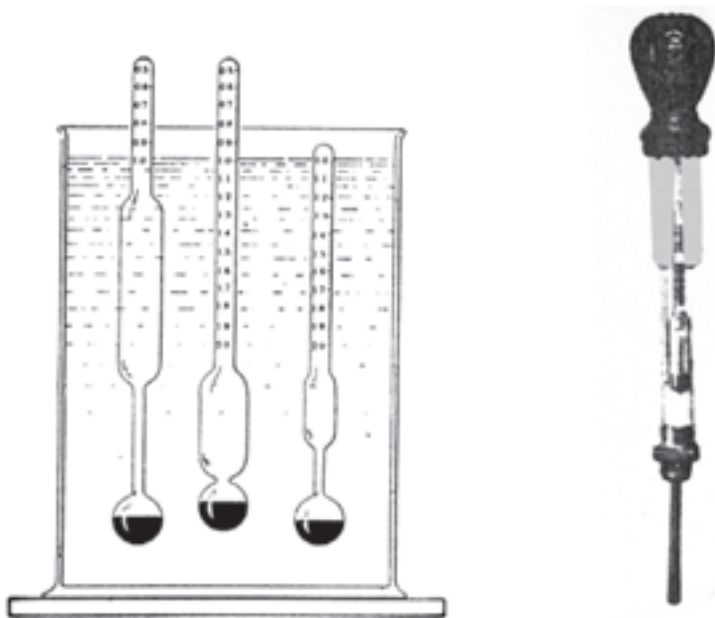
شکل ۵-۲- طرز کار چگالی سنج

در شکل فوق دو ظرف نمایش داده شده است که در یکی بنزین و در دیگری آب است. دو لوله به‌طور مجزا در این دو ظرف شناور هستند. هرچه مایع چگالی بالاتری داشته باشد حجم کم‌تری از

^۱ Specific Gravity, Relative Density, Gas Gravity

لوله در مایع غوطه‌ور می‌شود و با همین حجم کم‌تر، نیروی شناوری لازم برای شناور شدن لوله فراهم می‌شود. بدیهی است که در این حالت طول بیشتری از لوله در بالای سطح مایع دیده خواهد شد. بنابراین، لوله در مایع با چگالی بیشتر مثل آب بالاتر از بنزین قرار می‌گیرد. گلوله‌های کوچک سرب موجود در ته حباب چگالی‌سنج کمک می‌کند تا این ابزار هنگام شناوری به‌طور قائم بایستد. معمولاً لوله چگالی‌سنج را خیلی باریک در نظر می‌گیرند تا به حساسیت آن افزوده شود و با کوچک‌ترین تغییری در چگالی مایع، تفاوت قابل مشاهده‌ای در ارتفاع چگالی‌سنج و میزان شناوری آن ایجاد می‌شود. در نتیجه فاصله درجات روی صفحه مدرج بیشتر و به روشنی قابل رؤیت خواهد بود. از آنجایی که میزان قدرت باتری اتومبیل به چگالی اسید آن بستگی دارد می‌توان به وسیله چگالی‌سنج قدرت باتری را معین نمود. چگالی نسبی اسید یک باطری کاملاً شارژ شده، $1/28$ است و وقتی باتری کاملاً خالی یا دشارژ شود، چگالی نسبی اسید آن تا $1/15$ کاهش می‌یابد. هم‌چنین می‌توان چگالی‌سنج را برای تعیین دمای انجماد محلول ضدیخ که در سیستم خنک‌کاری اتومبیل (رادیاتور) وجود دارد به‌کار برد و در نتیجه این امکان فراهم می‌شود که نسبت ضدیخ موجود در آن را مشخص نمود.

در شکل ۵-۳ چند نمونه چگالی‌سنج نمایش داده شده است.



شکل ۵-۳- چند نمونه چگالی‌سنج

خودآزمایی

۱- ثابت کنید:

الف) اگر حجم دو جسم یکسان باشد نسبت جرم دو جسم، چگالی نسبی آنهاست؟

ب) چرا چگالی نسبی واحد ندارد؟

۲- اگر چگالی چوب 0.5 g/cm^3 باشد جرم 2 cm^3 و 10 cm^3 آن چند گرم است؟

۳- جرم یک بطری خالی 70 g و جرم بطری پر از آب 90 g است هنگام پر بودن از مایع

دیگری جرم 94 g می‌شود. چگالی مایع دوم چه قدر است؟

۴- چگالی طلا 19 g/cm^3 است حجم 95 گرم طلا چه قدر است؟

۵- جرم شخصی در کره زمین 82 kg است در کره ماه چه وزنی دارد؟ چه جرمی دارد؟

$$= 9.8 \text{ m/s}^2 \text{ شتاب جاذبه زمین}$$

$$= 1.6 \text{ m/s}^2 \text{ شتاب جاذبه ماه}$$

پمپ‌ها

هدف‌های رفتاری: پس از پایان این فصل از فراگیر انتظار می‌رود بتواند:

- ۱- پمپ را تعریف کند.
- ۲- انواع پمپ و کاربردهایشان را توضیح دهد.
- ۳- طرز کار پمپ‌ها را توضیح دهد.

۱-۶- تعریف پمپ

به طور کلی پمپ به دستگاهی گفته می‌شود که انرژی مکانیکی را از یک منبع خارجی می‌گیرد و به سیالی که از آن عبور می‌کند انتقال می‌دهد. در نتیجه انرژی سیال بعد از خروج از پمپ افزایش می‌یابد. از این وسیله برای انتقال سیال به یک ارتفاع معین و یا حرکت سیال سیستم‌های لوله‌کشی و به طور کلی انتقال سیال از یک نقطه به نقطه دیگر استفاده می‌شود. میزان افزایش فشاری را که پمپ به سیال می‌دهد، «هد پمپ» می‌گویند.

۲-۶- انتخاب انواع پمپ

در انتخاب نوع پمپ و طراحی آن، خصوصیات فیزیکی و شیمیایی سیال نظیر گرانشی، وزن مخصوص، درجه حرارت، خوردگی و هم‌چنین وجود اجسام ناخالص و گازهای همراه با سیال و سرانجام مقدار حجم عبوری سیال از پمپ در واحد زمان، هد پمپ و بازده پمپ مدنظر قرار می‌گیرد.

۳-۶- تقسیم‌بندی پمپ‌ها

متداول‌ترین نحوه تقسیم‌بندی پمپ‌ها بر مبنای نحوه انتقال انرژی به سیال است. در این روش پمپ‌ها به دو دسته اصلی تقسیم می‌شوند.

۱- پمپ‌های دینامیکی^۲: پمپ‌هایی که انتقال انرژی از آن‌ها به سیال به طور دائمی انجام

می شود را پمپ های دینامیکی می گویند. پمپ های گریز از مرکز از انواع پمپ های دینامیکی می باشند.

۲- پمپ های جابه جایی^۱: پمپ هایی که انتقال انرژی از آن ها به سیال به صورت متناوب صورت می گیرد را پمپ های جابه جایی می نامند. پمپ های پیستونی (رفت و برگشتی) از انواع پمپ های جابه جایی هستند.

جدول ۶-۱ تقسیم بندی پمپ ها را به طور کلی انجام داده است.

۶-۴- پمپ های گریز از مرکز^۲

متداول ترین نوع پمپ ها در صنعت نوع گریز از مرکز است زیرا :
پمپ های گریز از مرکز در بین انواع پمپ ها شکل ساختمانی ساده ای دارند.
هر پمپ گریز از مرکز دارای بخش های زیر می باشد :

۱- لوله ورودی یا قسمت مکش^۳

۲- لوله خروجی یا قسمت رانش^۴ (تخلیه)

۳- پوسته پمپ

۴- چرخ یا پروانه پمپ^۵

شکل ۶-۱ ساختمان داخلی یک پمپ گریز از مرکز را نمایش می دهد.

۶-۵- تقسیم بندی پمپ های گریز از مرکز

متداول ترین روش تقسیم بندی از دیدگاه طراحی و علمی، تقسیم بندی بر اساس مسیر حرکت سیال در پروانه است. از این نظر پمپ های گریز از مرکز به سه دسته اصلی تقسیم می شوند :

۱- پمپ های گریز از مرکز با جریان شعاعی^۶

۲- پمپ های گریز از مرکز با جریان محوری^۷

۳- پمپ های گریز از مرکز با جریان مختلط^۸

در نوع اول، سیال موازی محور وارد پروانه پمپ و عمود بر آن از پروانه خارج می شود از این نوع پمپ ها برای ایجاد فشارهای بالا در دبی های کم استفاده می شود.

۱- Displacement pump

۲- Centrifugal pump

۳- Suction

۴- Discharge

۵- Impeller

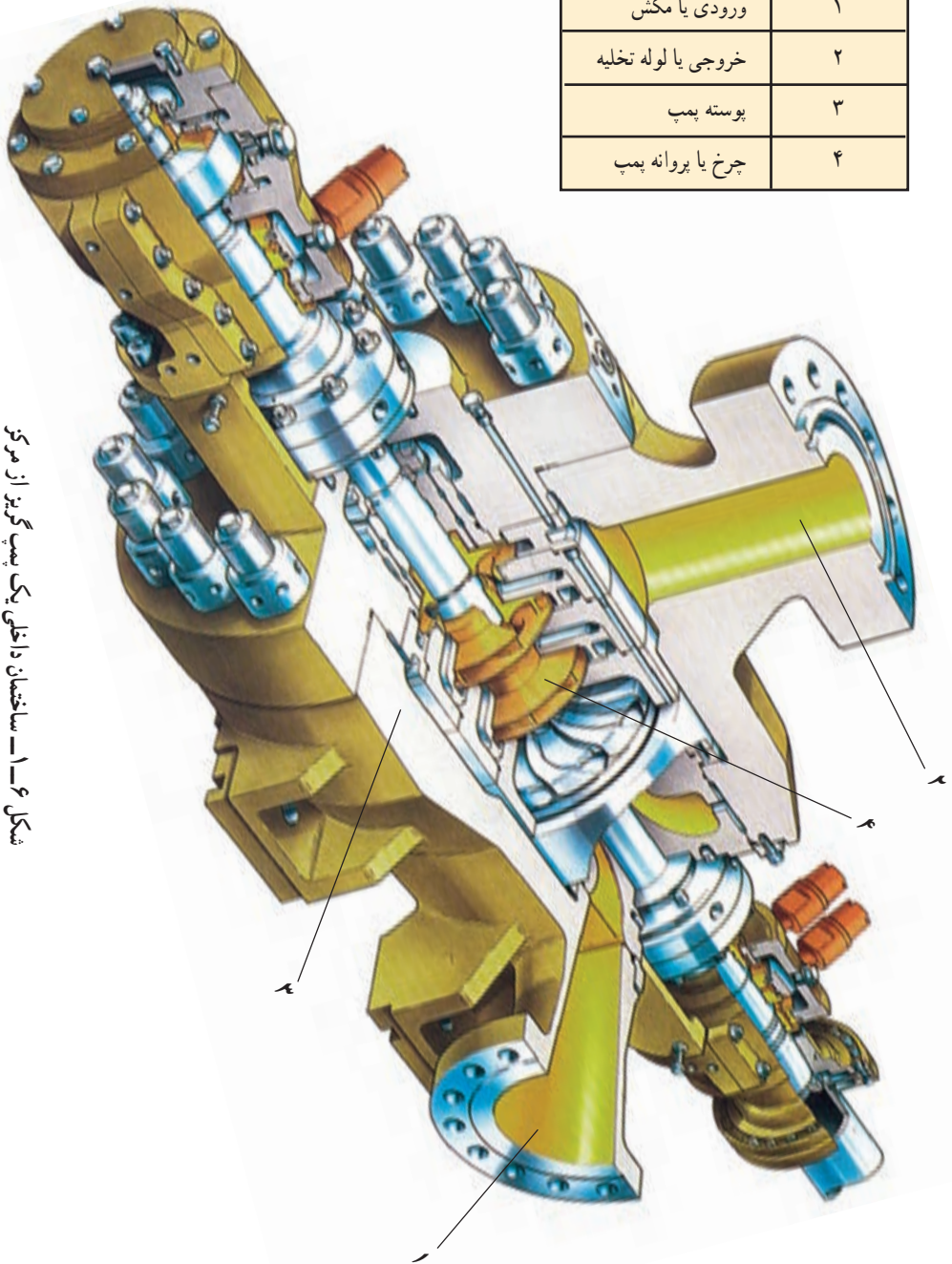
۶- Radial flow

۷- Axial flow

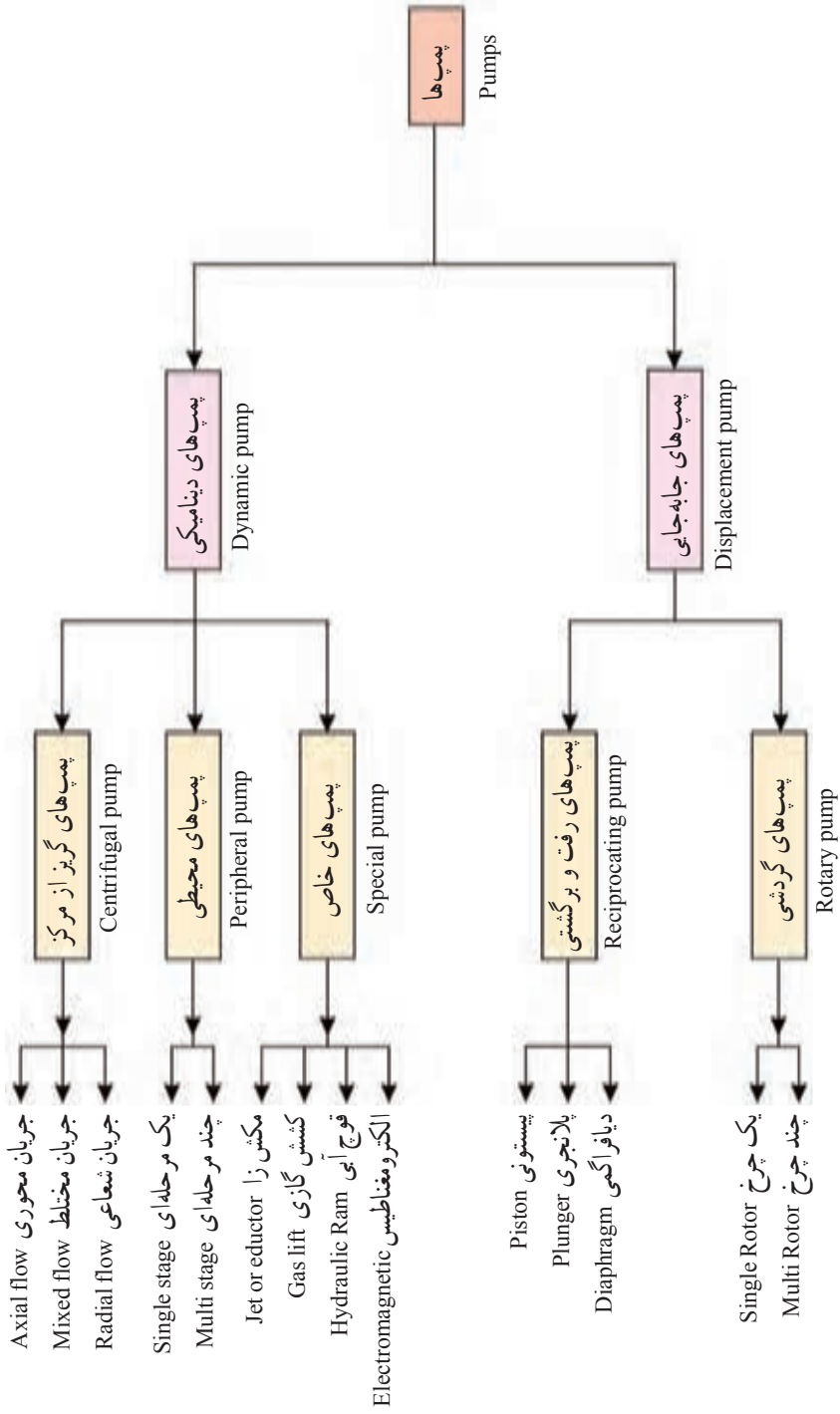
۸- Mixed flow

شماره قطعه	شرح
۱	ورودی یا مکش
۲	خروجی یا لوله تخلیه
۳	پوسته پمپ
۴	چرخ یا پروانه پمپ

شکل ۱-۶-۱- ساختمان داخلی یک پمپ گریز از مرکز



جدول ۱-۶ - تقسیم بندی پمپ ها



در نوع دوم سیال موازی با محور وارد پروانه شده و موازی با آن نیز خارج می‌شود. از این نوع پمپ برای تولید دبی‌های زیاد و ارتفاع‌های کم^۱ استفاده می‌شود.
 در نوع سوم سیال موازی محور وارد پروانه و به‌طور مایل نسبت به محور از پروانه خارج می‌شود. از این پمپ‌ها برای فشارها و دبی‌های متوسط استفاده می‌شود.
 در شکل (۶-۲) انواع پروانه‌های (چرخ‌های) پمپ‌های گریز از مرکز نمایش داده شده‌اند.



شکل ۶-۲- انواع پروانه‌های پمپ گریز از مرکز

۶-۶- مشخصات اصلی پمپ‌های گریز از مرکز

- قیمت ارزان واحد پمپ نسبت به یک کیلووات قدرت مفید تولیدی.
- جریان سیال به‌طور یک‌نواخت و دائم می‌باشد.
- فضای کم‌تری را متناسب با قدرت تولیدی اشغال می‌کنند.
- هزینه نگهداری نسبتاً کمی دارند.
- راندمان بالایی در فرآیندها دارند.
- چون این نوع پمپ‌ها از نظر دبی و ارتفاع تولیدی گستره وسیعی دارد، دامنه کاربرد آنها در پروژه‌های صنعتی، کشاورزی و آبرسانی فوق‌العاده بالا است.

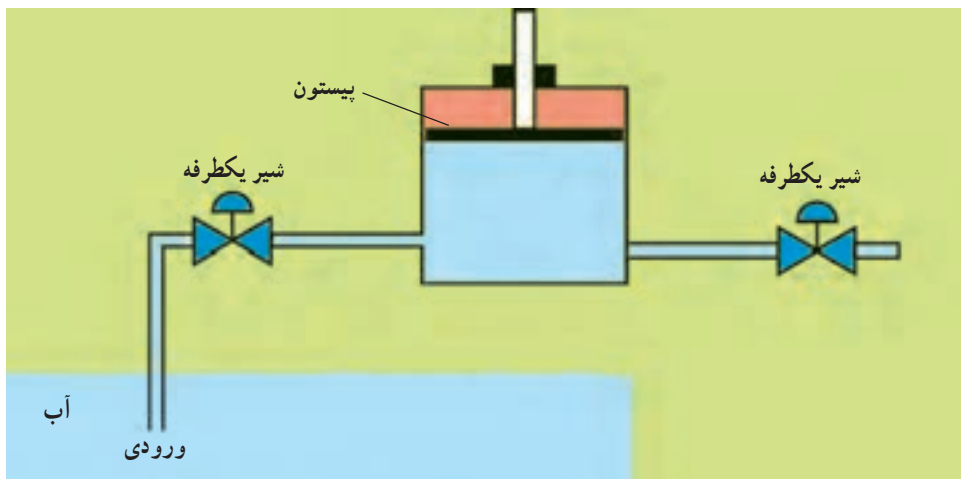
^۱- ارتفاعی که پمپ به سیال می‌دهد Head

– حداکثر گرانروی سیال بسته به نوع پمپ از حدود ۵۲° تا ۷۶° سانتی استوک^۱ نمی تواند تجاوز نماید. برای بیش از این حدود و سیالات با گرانروی بالا از پمپ‌های جابه‌جایی استفاده می‌شود.

۶-۷- پمپ‌های رفت و برگشتی^۲

از قدیمی‌ترین انواع پمپ‌ها که هنوز هم در صنعت استفاده می‌شود پمپ رفت و برگشتی می‌باشد. در این پمپ‌ها حرکت چرخشی میل‌لنگ به حرکت رفت و برگشتی پیستون در یک سیلندر تبدیل می‌شود.

با عقب رفتن پیستون در سیلندر مکش ایجاد و مایع از طریق شیر ورودی وارد محفظه سیلندر می‌شود. با حرکت پیستون به سمت جلو دریچه ورود بسته و مایع از طریق شیر خروجی خارج می‌شود. شیرهای ورودی، خروجی یک‌طرفه بوده و طوری ساخته شده‌اند که در مراحل رفت و آمد پیستون، از ورود مایع داخل سیلندر به قسمت فشار کم و بالعکس جلوگیری شود شکل ۶-۳ یک پمپ رفت و برگشتی را نمایش می‌دهد.



شکل ۶-۳- شماتیک ساده یک پمپ پیستونی

۶-۸- مشخصات اصلی پمپ‌های رفت و برگشتی

- فشار خروجی بسیار بالا
- سرعت کم
- ظرفیت کم تا متوسط (حداکثر ۲۰۰ مترمکعب در ساعت)
- جریان غیر یک‌نواخت

۱- Centistock

۲- Reciprocating pumps

- راندمان بالا در صورت سرویس مرتب
- گران بودن نسبت به پمپ‌های گریز از مرکز

۹-۶- کاویتاسیون^۱ (حفره‌زایی)

آب یا هر مایع دیگر، در هر درجه حرارتی دارای فشار بخار مشخصی است به عنوان مثال فشار بخار آب در کنار دریا در 10° درجه سلسیوس برابر یک اتمسفر است و در 20° درجه سلسیوس $2/0$ اتمسفر است.

هر گاه در حین جریان مایع در داخل یک پمپ، فشار در نقطه‌ای از فشار بخار مایع در درجه حرارت مربوطه کم‌تر شود، حباب‌های بخاری به وجود می‌آید که به همراه مایع به نقطه‌ای دیگر با فشار بالاتر حرکت می‌نمایند. اگر در محل جدید فشار مایع به اندازه کافی زیاد باشد حباب‌های بخار در این محل می‌ترکند و در نتیجه ذراتی از مایع از مسیر اصلی خود منحرف می‌شوند و با سرعت‌های فوق‌العاده زیاد به اطراف و از جمله پروانه برخورد می‌نمایند. در چنین مکانی، بسته به شدت برخورد، سطح پروانه خورده و متخلخل می‌شود. این پدیده را کاویتاسیون می‌نامند. کاویتاسیون همواره با صداهای منقطع شروع می‌شود و سپس در صورت تداوم کاهش فشار دهانه ورودی پمپ، بر شدت این صداها افزوده می‌شود.

صداهای کاویتاسیون مخصوص و مشخص می‌باشد و شبیه به برخورد گلوله‌هایی به یک سطح فلزی است. همزمان با تولید این صدا پمپ نیز به ارتعاش درمی‌آید. در نهایت این صداهای منقطع به صداهایی شدید و دائمی مبدل می‌شود و دبی ورودی پمپ به شدت کاهش می‌یابد یا قطع می‌شود. در پمپ‌هایی که در آن‌ها سرعت دورانی یا دبی تولیدی یا درجه حرارت بالا باشد پدیده کاویتاسیون حتی در یک زمان کوتاه می‌تواند ضایعات شدیدی را موجب شود.

خودآزمایی

- ۱- در انتخاب نوع پمپ چه مشخصاتی مدنظر قرار می‌گیرند؟
- ۲- پمپ‌ها به چند دسته تقسیم می‌شوند برای هر کدام دو نمونه نام ببرید.
- ۳- اجزای پمپ گریز از مرکز کدامند؟
- ۴- پمپ‌های گریز از مرکز به چند دسته تقسیم می‌شوند؟
- ۵- مشخصات پمپ گریز از مرکز و رفت و برگشتی را بنویسید هر کدام سه مورد.