

اصول پارالاکس و دید سه بعدی

در فصل‌های قبل پس از شناختن عکس‌های مورد استفاده در نقشه‌برداری و بررسی آن‌ها از نظر هندسی، از پدیده‌ی مهم «برجسته‌بینی» گفتیم و این که از آن می‌توان بسیار استفاده نمود. بدین منظور وسایلی ساخته شده است که در این فصل، پس از آشنایی با آن‌ها، راجع به چگونگی به‌کارگیری آن‌ها نیز سخن خواهیم گفت.

هدف‌های رفتاری: در پایان این فصل، هنرجو باید بتواند:

- ۱- انواع استرنوسکوپ را نام ببرد؛
- ۲- باز چشم را تعریف کند؛
- ۳- قسمت‌های مختلف انواع استرنوسکوپ را نام ببرد؛
- ۴- طرز کار استرنوسکوپ آینه‌دار را شرح دهد؛
- ۵- اختلاف منظر (پارالاکس) را تعریف کند؛
- ۶- طرز اندازه‌گیری اختلاف پارالاکس دو نقطه را شرح دهد؛
- ۷- قسمت‌های مختلف «پارالاکس بار» را نام ببرد؛
- ۸- طرز کار پارالاکس بار را شرح دهد؛
- ۹- طرز به‌وجود آمدن «نقطه‌ی شناور» را توضیح دهد؛
- ۱۰- قسمت‌های مختلف پارالاکسبار را ذکر کند؛
- ۱۱- طرز کار پارالاکسبار همراه با استرنوسکوپ را شرح دهد؛
- ۱۲- فرمول‌های نهایی مربوط به اختلاف منظر را بنویسد؛
- ۱۳- فرمول تعیین ارتفاع به کمک اختلاف منظر را بنویسد؛
- ۱۴- رسم منحنی میزان به کمک استرنوسکوپ و پارالاکسبار را شرح دهد.
- ۱۵- فعالیت عملی مربوط به پایان فصل چهارم را به کمک معلم مربوطه انجام دهد.

آیا می‌دانید



ابن هیثم رساله‌ای در نور نوشت و ذره‌بین را کشف کرد. به نسبت زاویه تابش و زاویه انکساری برد و اصول تاریکخانه را شرح داد و در مورد قسمت‌های مختلف چشم بحث کرد. رساله نور ابن هیثم نفوذ زیادی در اروپا گذاشت. کارهای وی توسط کمال‌الدین فارسی پیگیری شد.

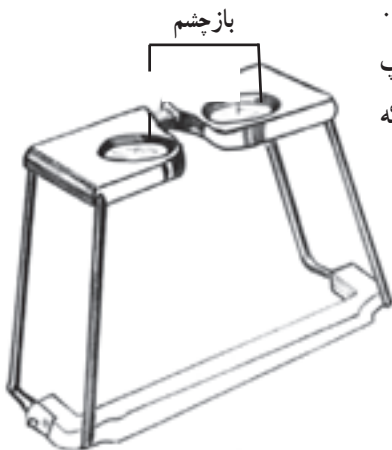
۱-۴- استرئوسکوپ و انواع آن

همان‌گونه که در فصل سوم خواندید یکی از روش‌های برجسته‌بینی، برجسته‌بینی با دید موازی است. برای برجسته‌دیدن یک زوج عکس، اگر فاصله‌ی تصاویر مشابه در عکس‌ها از باز چشم مشاهده‌کننده بیش‌تر باشد، برای مشاهده‌ی عوارض روی عکس‌ها به دستگاه‌هایی نیاز داریم که بتواند محورهای دیدگانی را موازی کند. چنین دستگاهی استرئوسکوپ است که برای کارهای خاصی ساخته شده است. استرئوسکوپ انواع مختلف دارد ولی همه‌ی آن‌ها ساختمانی ساده دارند و اساس کار آن‌ها مشترک است. در این‌جا دو نوع استرئوسکوپ را مورد مطالعه قرار می‌دهیم.

۱- استرئوسکوپ جیبی، ۲- استرئوسکوپ آینه‌دار.

۱-۴-۱- استرئوسکوپ جیبی: استرئوسکوپ

جیبی تشکیل شده است از چهار پایه و دو عدسی محدب که در داخل قابی قرار دارند.



شکل ۱-۴- استرئوسکوپ جیبی

پایه‌ها تا می‌شوند و به راحتی در یک کیسه‌ی کوچک یا محفظه قرار می‌گیرند به طوری که می‌شود استرئوسکوپ را داخل جیب گذاشت و آن را حمل کرد. این استرئوسکوپ ساده‌ترین و ارزان‌ترین استرئوسکوپ از نوع بدون آینه است. البته مشاهده با این استرئوسکوپ‌ها معایبی دارد که مهم‌ترین آن‌ها این

است که فواصل بین نقاط مشابه از دو عکس نمی‌تواند بیش‌تر از فاصله‌ی باز چشم باشد. در این صورت فاصله‌های بیش‌تر از باز دو چشم یا به سختی دیده می‌شود و یا دیدن آن به کلی امکان‌پذیر نیست.



ادامه‌ی شکل ۱-۴- استرنوسکوپ جیبی

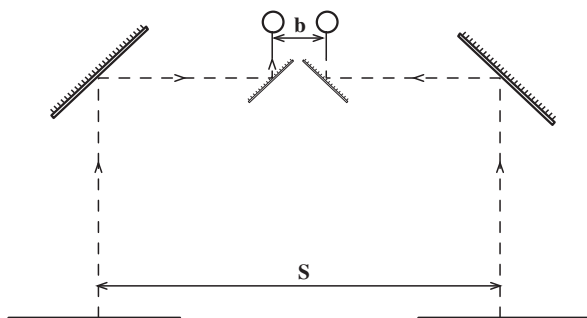
بزرگ‌نمایی عدسی‌هایی که در این استرنوسکوپ‌ها به کار می‌رود حدود $2/5$ برابر است. اگر فاصله‌ی کانونی عدسی 10° میلی‌متر باشد، فاصله‌ی بین دو نقطه‌ی مشابه در این روش 25° میلی‌متر است.

$$\text{بزرگ‌نمایی} = \frac{25^\circ}{f} = \frac{25^\circ}{10^\circ} = 2/5$$

شکل ۱-۴- یک نمونه استرنوسکوپ جیبی را نشان می‌دهد.


۲-۱-۴- استرنوسکوپ آینه‌دار: این نوع استرنوسکوپ علاوه بر دو عدسی، چهار آینه نیز دارد که دوتای آن بزرگ و دوتای آن کوچک است و آینه‌ها دو به دو (یکی بزرگ و دیگری کوچک) با هم موازی‌اند و آینه‌های هم اندازه عمود بر یکدیگر واقع شده‌اند. شکل ۲-۴ اساس

ساختمان استرنوسکوپ و مسیر شعاع‌های نوری از عکس‌ها به آینه‌ها و سپس به عدسی‌ها و در انتها رسیدن به چشم‌ها را نشان می‌دهد و همان‌طور که مشخص است عکس‌ها می‌توانند کاملاً از هم جدا زیر استرنوسکوپ قرار گیرند، لذا اشکالی که برای استرنوسکوپ جیبی بود برای استرنوسکوپ آینه‌دار وجود نخواهد داشت.



شکل ۴-۲

استرنوسکوپ آینه‌دار ۴ پایه دارد که به بدنه پیچ می‌شوند و به طوری که چهار عدد پایه و بدنه را می‌توان در محفظه‌ی مخصوص قرار داد و حمل کرد تا از شکستن و آسیب دیدن محفوظ بماند. شکل ۴-۳ استرنوسکوپ آینه‌دار را نشان می‌دهد.



شکل ۴-۳

با استفاده از آینه، فاصله‌ی بین دو نقطه‌ی مشابه از دو عکس افزایش یافته و از 25° تا 35° میلی‌متر تغییر خواهد کرد. هرگاه فاصله‌ی کانونی عدسی f باشد، بزرگ‌نمایی عدسی طبق تعریف برابر با $\frac{25^\circ}{f}$ خواهد بود. در این نوع استرئوسکوپ طول مسیر اشعه از عکس تا عدسی حدود 300 میلی‌متر است. این فاصله همان فاصله‌ی کانونی عدسی‌های به کار رفته است.

$$\text{بزرگ‌نمایی} = \frac{25^\circ}{f} = \frac{25^\circ}{300} = 0/8$$

در این جا بزرگ‌نمایی $0/8$ است و تصویر نه تنها بزرگ نمی‌شود بلکه به اندازه‌ی $0/8$ نیز کوچک می‌گردد و این باعث می‌شود که بتوان مدل را یک‌جا مشاهده کرد. برای بزرگ‌نمایی تصویر از دوربین‌های چشمی که تصویر را از سه تا هشت برابر بزرگ می‌کنند استفاده می‌شود (شکل ۴-۴).

دوربین‌های چشمی برای بزرگ‌نمایی روی استرئوسکوپ‌ها سوار می‌شود.



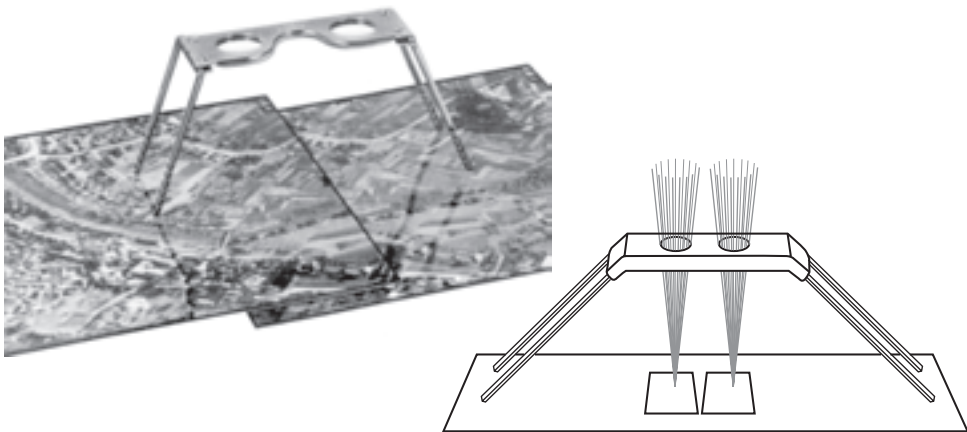
شکل ۴-۴

۴-۲- نحوه‌ی استفاده از استرنوسکوپ

۴-۲-۱- طرز کار با استرنوسکوپ جیبی: در استرنوسکوپ جیبی فاصله‌ی مرکز


عدسی‌ها از یک‌دیگر متغیر و از ۵۵ الی ۷۵ میلی‌متر می‌باشد، یعنی معادل فاصله‌ی بین دو مردمک چشم که برای افراد مختلف متفاوت است. چنان‌که می‌دانید فاصله‌ی متوسط بین دو چشم یا باز چشم حدود ۶۵ میلی‌متر است.

برای کار با استرنوسکوپ آن را روی میز مستقر می‌کنیم و دو عکس را به‌گونه‌ای روی میز و زیر استرنوسکوپ قرار می‌دهیم که امتداد خط پرواز یا خطی که از مراکز عکس‌ها می‌گذرد با خط فاصله‌ی دو چشم موازی باشد. برای برجسته کردن عوارض مشابه به‌طور تجربی به این صورت عمل می‌کنیم که عارضه‌ی مشخصی، مثلاً تقاطع دو جاده، را با انگشت اشاره روی کناره‌ی عارضه قرار می‌دهیم و استرنوسکوپ را روی منطقه‌ای که می‌خواهیم برجسته ببینیم می‌گذاریم و با گذاشتن چشم‌ها روی عدسی‌ها فاصله‌ی عدسی‌ها را که قابل تغییر است با حرکت دادن و جابه‌جا کردن با باز چشم خود یکی می‌کنیم و با نگاه کردن در عدسی‌ها، و در اصل به تصویر، در هر یک از چشمی‌ها سرانگشت خود را به‌طور جداگانه می‌بینیم. سپس سعی می‌کنیم این دو انگشت را همراه با عکس‌ها حرکت دهیم تا آن‌که هر دو را روی هم بیندازیم یا در اصل آن دو تصویر را یکی ببینیم. اگر هنوز عکس کاملاً برجسته به‌نظر نمی‌آید با چرخاندن ملایم عکس‌ها در جهت مناسب آن را به وضعی درآوریم تا برجسته دیده شود در شکل ۴-۵ استرنوسکوپ جیبی و یک طرح از آن را مشاهده می‌کنید.



شکل ۴-۵

۲-۲-۴- طرز کار با استرنوسکوپ آینه‌دار: مراکز عکس‌ها را به طریقی که قبلاً اشاره شد با کمک فیدوشل مارک‌ها به دست می‌آوریم و مرکز هر عکس را بر روی عکس دیگر منتقل می‌کنیم، به طوری که هر عکس علاوه بر مرکز خود مراکز عکس‌های ما قبل و ما بعد خود را نیز داشته باشد. از وصل کردن مرکزها در روی عکس‌ها خط پرواز مشخص می‌شود (فاصله‌ی دو مرکز عکس از همدیگر به طور معمول حدود 90° میلی‌متر است). سپس عکس‌ها را به گونه‌ای روی میز قرار می‌دهیم که خط پرواز تقریباً موازی لبه‌ی میز باشد و دستگاه استرنوسکوپ را روی عکس‌ها به حالتی که باز چشم موازی خط پرواز باشد قرار می‌دهیم. دو عدسی چشم استرنوسکوپ با چشم و باز چشم قابل تنظیم است. با قرار دادن چشم‌ها روی عدسی‌های چشمی فاصله‌ی عدسی‌ها را با باز چشم خود هم اندازه می‌کنیم و چشمی‌ها را به گونه‌ای می‌چرخانیم که عدسی‌ها مناسب دید چشم ناظر شود. در حالی که در عدسی‌ها نگاه می‌کنیم دو عکس، زیر استرنوسکوپ را ملایم به سمتی حرکت و دوران می‌دهیم که دو عارضه‌ی مشخص از منطقه‌ی مورد نظر به همدیگر نزدیک شده و تصاویر روی هم قرار گیرند و یکی شوند و منطقه به طرز صحیح برجسته دیده شود که در آن زمان می‌شود عکس‌ها را با نوار چسب روی میز چسباند و کار مورد نظر را انجام داد (شکل ۴-۶).



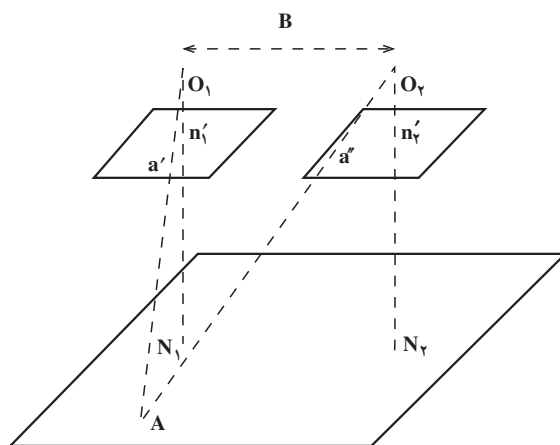
شکل ۴-۶

۴-۳- اختلاف منظر (پارالاکس)

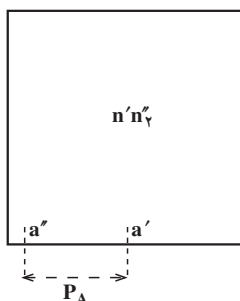
۴-۳-۱- تعریف پارالاکس: تغییر مکان تصویر یک نقطه را بر روی دو عکس متوالی،

به منظور تغییر ایستگاه دوربین عکس برداری، پارالاکس گویند.

زمانی که از دو ایستگاه با فاصله B (باز عکس برداری) به طور متوالی عکس برداری شود هر نقطه‌ای از زمین که در پوشش مشترک واقع است دارای تصویری روی عکس‌ها خواهد بود. فاصله‌ی بین این دو تصویر را پارالاکس برجسته‌ی آن نقطه گویند. برای مثال، در شکل ۴-۷ شیء A دارای تصویر a' در عکس سمت چپ و تصویر a'' در عکس سمت راست می‌باشد.



شکل ۴-۷



شکل ۴-۸

طبق شکل ۴-۸ اگر دو عکس چپ و راست

را طوری روی یکدیگر قرار دهیم که دو نقطه‌ی نادیر n'_1 و n'_2 برهم منطبق باشند، فاصله‌ی $a'a''$ را پارالاکس استرنئوسکوپی نقطه‌ی A گویند که معمولاً آن را با حروف اختصاری P_A مشخص می‌کنند.

۱- در کارهای فتوگرامتری نقاط واقع در عکس یا صفحه، تصویر چپ را با علامت پریم (-) و راست را با علامت زگونند

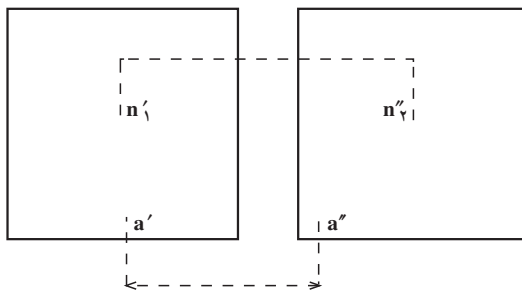
(') نشان می‌دهند.

اکنون دو عکس چپ و راست را همان گونه که بایست با استرئوسکوپ مشاهده کرد، از یکدیگر دور می‌نماییم. در شکل ۹-۴ به وضوح دیده می‌شود که پارالاکس استرئوسکوپی نقطه‌ی A

عبارت است از

$$P_A = a'a' - n'n'$$

مقدار P_A از نظر قدر مطلق (بدون توجه به علامت آن) مورد نظر است.



شکل ۹-۴

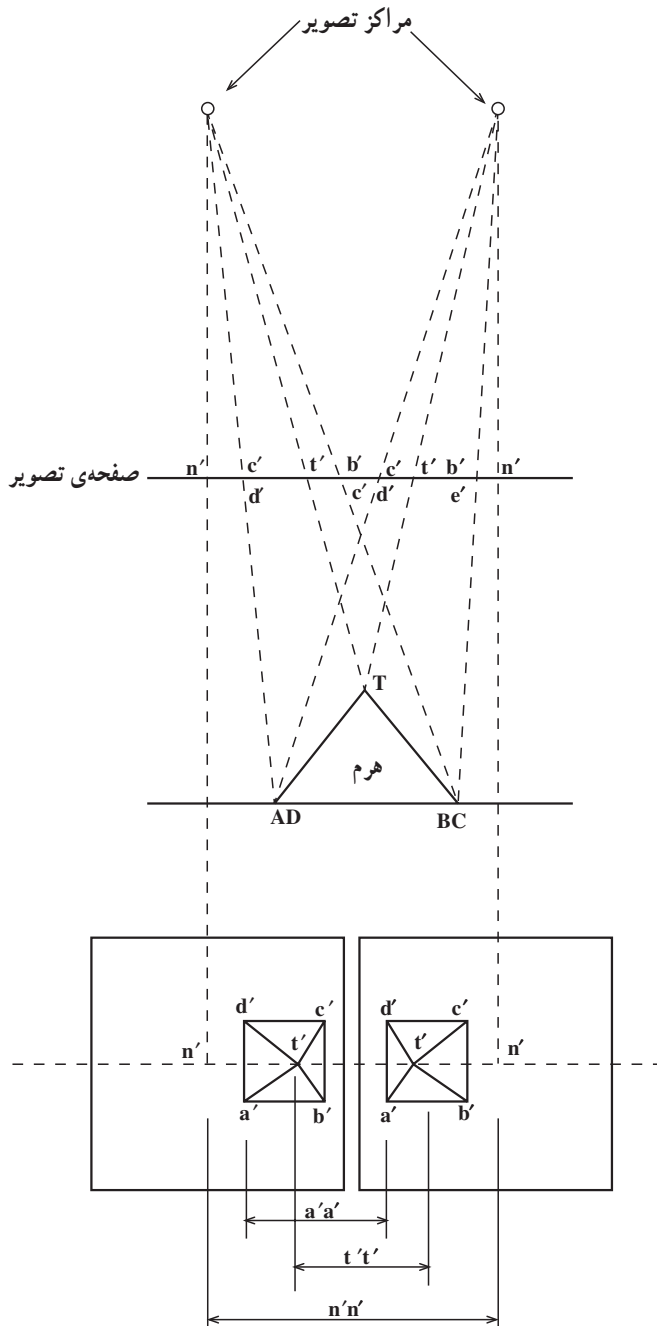
۲-۳-۴- اختلاف پارالاکس دو نقطه: در شکل ۱-۴ دو تصویر از یک هرم نشان داده شده است. هرگاه دو عکس را بر روی یکدیگر قرار دهیم پارالاکس نقطه‌ی T برابر $t't'$ و پارالاکس نقطه‌ی A برابر $a'a'$ بوده و مسلم است که $a'a'$ برابر $t't'$ نمی‌باشد.

$$P_T = t't' \quad P_A = a'a'$$

اما پارالاکس نقاط A، B، C و D همگی با یکدیگر برابرند:

$$P_A = P_B = P_C = P_D$$

اکنون اختلاف پارالاکس نقطه‌ی T را با سایر نقاط یعنی A و B و C و D می‌توان به این شرح بیان کرد. چون نقطه‌ی T رأس هرم است از این رو اختلاف ارتفاعی نسبت به سایر نقاط خواهد داشت که باعث ایجاد جابه‌جایی در تصویرش می‌گردد. ولی نقاط A و B و C و D که در قاعده‌ی هرم هستند دارای ارتفاع برابر می‌باشند و جابه‌جایی تصویری نخواهند داشت. در نتیجه، پارالاکس این نقاط با هم مساوی و با پارالاکس نقطه‌ی T (P_T) متفاوت است. برای به‌دست آوردن اختلاف پارالاکس دو نقطه مانند نقاط A و T، که در شکل داریم و یکی قاعده‌ی هرم و دیگری رأس هرم است، باید فاصله‌ی نقاط شاقولی دو عکس یا مراکز عکس‌ها یعنی $n'n'$ و فواصل تصاویر مشابه A و T یعنی $a'a'$ و $t't'$ را در دو عکس، مطابق شکل ۱-۴، اندازه‌گیری



شکل ۱۰-۴- اختلاف پارالاکس x

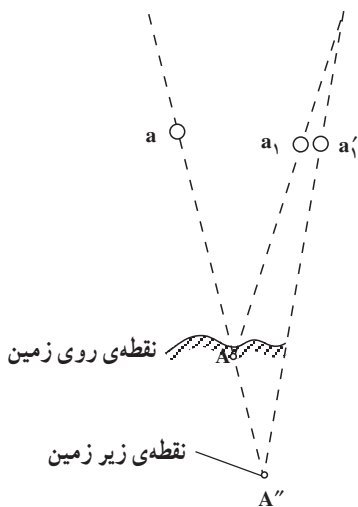
کرده، سپس در فرمول زیر قرار داد.

$$P_A - P_T = \Delta P_{AT} = (\overline{a'a'} - \overline{n'n'}) - (\overline{t't'} - \overline{n'n'}) = \overline{a'a'} - \overline{t't'}$$

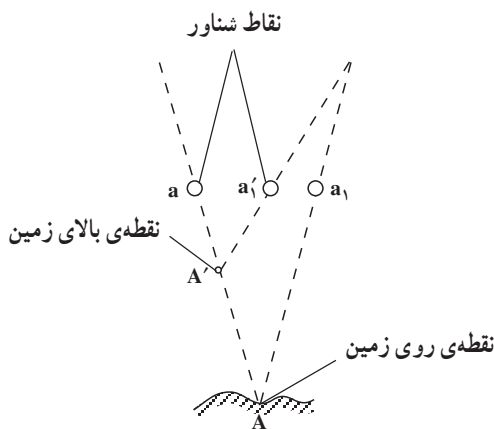
چنان که در رابطه‌ی صفحه‌ی قبل دیده می‌شود فاصله‌ی مراکز دو عکس یعنی $n'n'$ حذف شده و کافی است برای به دست آوردن اختلاف پارالاکس استرئوسکوپی دو نقطه، فقط فواصل تصاویر این دو نقطه را از یکدیگر کم کنیم. اگر با خط کش $a'a'$ و $t't'$ را اندازه‌گیری نماییم داریم: میلی متر $a'a' = 18$ و میلی متر $t't' = 16$ ، اما اندازه‌گیری با خط کش دقت کافی را ندارد. از اختلاف پارالاکس دو نقطه می‌توان اختلاف ارتفاع را محاسبه کرد که این موضوع در مباحث بعد عنوان خواهد شد.

۴-۴- اساس نقطه‌ی شناور (Floating Mark)

همان گونه که در مبحث قبل گفتیم پارالاکس هر نقطه را می‌توان به کمک یک خط کش معمولی اندازه‌گیری کرد. با این حال به دلیل آن که در این اندازه‌گیری به دقت زیادی باید برسیم از وسیله‌ای به نام پارالاکسبار استفاده می‌کنیم. در پارالاکسبار استفاده از فلوتینگ مارک یا نقطه‌ی شناور برای اندازه‌گیری دقیق مورد نیاز است. به وجود آمدن نقطه‌ی شناور از آزمایش زیر نتیجه‌گیری می‌شود: شکل ۴-۱۱ نقطه‌ی شناور را به صورت $(^\circ)$ و یا $(+)$ نمایش می‌دهد. اگر شعاع‌های دید خود را بر روی نقطه‌ی A متمرکز کنیم در این صورت دو مارک (نقطه‌ی شناور) a و a_1 که در مسیر نوری نقطه‌ی A قرار گرفته‌اند به صورت یک نقطه بر روی نقطه‌ی A دیده می‌شوند.



شکل ۴-۱۲




شکل ۴-۱۱

حال اگر یکی از نقطه شناورها، مطابق شکل ۴-۱۱، مثلاً نقطه‌ی a_1 به طرف نقطه‌ی a حرکت کند و در جایی متوقف شود که نقطه‌ی a'_1 را داشته باشیم، از منطبق شدن دو نقطه‌ی a و a'_1 ، نقطه‌ی A' حاصل خواهد شد که بالاتر از نقطه‌ی A دیده می‌شود. بدین ترتیب می‌توان ارتفاع نقاط مختلف روی عکس را اندازه‌گیری نمود. هرگاه دو نقطه‌ی a و a_1 بر روی تصاویر مشابه یک نقطه در دو عکس قرار گیرند، این دو نقطه را می‌توان به صورت یک نقطه‌ی واحد و منطبق بر زمین مشاهده کرد. هرگاه یکی از این نقاط را به سمت نقطه‌ی دیگری یا به سمت مخالف آن حرکت دهیم نقطه‌ی شناور بالای زمین و یا زیر زمین دیده خواهد شد. در شکل ۴-۱۲ نقطه‌ی شناور، زیر زمین به نظر می‌رسد. معمولاً چشم انسان، از نظر فیزیولوژیکی، نسبت به این که نقطه‌ی شناور روی زمین قرار دارد یا نه دارای حساسیت فراوانی می‌باشد. بنابراین اندازه‌گیری‌هایی که با دید سه بعدی انجام می‌گیرد به مراتب دقیق‌تر از دید دو بعدی است.

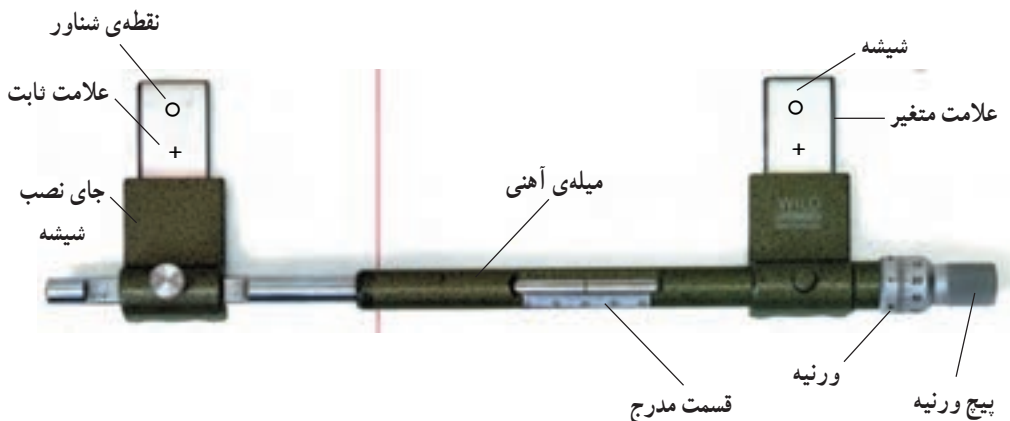
۴-۵- اندازه‌گیری اختلاف منظر

اندازه‌گیری اختلاف منظر اساساً با پارالاکسبار Parallax-bar و استرنوسکوپ انجام می‌گیرد. ۴-۵-۱- ساختمان پارالاکسبار و اندازه‌گیری اختلاف منظر: پارالاکسبار شامل دو قطعه شیشه‌ی مستطیل شکل است که روی هر کدام از شیشه‌ها یک نقطه‌ی اندازه‌گیر یا نقطه‌ی شناور مانند شکل ۴-۱۳ حک شده است.



شکل ۴-۱۳

تذکر: با استفاده از پارالاکسبار و استرنوسکوپ می‌توان دو نقطه‌ی اندازه‌گیر را به صورت یک نقطه‌ی شناور مشاهده کرد. شکل ۴-۱۴ پارالاکسبار را نشان می‌دهد.



شکل ۱۴-۴- ساختمان پارالاکسبار

این دو قطعه شیشه که حامل نقطه‌ی شناور است به یک میله‌ی فلزی متصل می‌باشند. طول این میله به وسیله‌ی یک پیچ میکرومتری قابل تغییر است که با پیچاندن آن فاصله‌ی نقطه‌ی شناور سمت راست نسبت به نقطه‌ی شناور سمت چپ تغییر می‌کند. فاصله‌ی بین این دو با دقتی در حد میکرون قرائت می‌شود. میکرومتر بدین گونه شماره‌گذاری شده است که، وقتی فاصله‌ی دو نقطه‌ی متناظر کم می‌شود اعداد قرائت شده بر روی پارالاکسبار بیش‌تر است و این قرائت بیش‌تر نشان دهنده‌ی ارتفاع بیش‌تر است. آن‌چه را که از میکرومتر خوانده می‌شود با حرف M نشان می‌دهند. به‌طور مثال M_T یعنی قرائت پارالاکسبار مربوط به نقطه‌ی T رأس هرم است. همچنین M_A قرائت پارالاکسبار مربوط به یکی از نقاط قاعده‌ی هرم شکل $10^\circ-4$ را نشان می‌دهد. با توجه به مطالب گفته شده اختلاف پارالاکس T و A چنین خواهد بود:

$$M_A = P_A \quad , \quad M_T = P_T$$

$$P_A - P_T = \Delta P_{AT} = M_A - M_T$$

$$\Delta P_{AT} = M_A - M_T \quad (1)$$

۲-۵-۴- کار با پارالاکسبار همراه با استرنوسکوپ: مطابق شکل ۱۵-۴ ابتدا دو عکس مورد نظر را که پوشش مناسب دارند روی میز قرار داده به‌گونه‌ای که خط اتصال مراکز عکس‌ها که در امتداد خطوط پرواز است، موازی لبه‌ی میز باشد سپس استرنوسکوپ را روی آن‌ها مستقر می‌کنیم و به‌وسیله‌ی این دستگاه عکس‌ها را با جابه‌جا کردن به‌صورت مدل برجسته درمی‌آوریم و سپس آن‌ها را با چسب نواری به میز متصل می‌کنیم، آن‌گاه پارالاکسبار را که درجات تقسیم‌بندی

آن روی حد متوسط است روی عکس‌ها قرار می‌دهیم. پارالاکسبار اغلب دو پیچ تنظیم دارد که یکی از آن‌ها پیچ تنظیم کلی و دیگری پیچ تنظیم جزئی است که از یک ورنیه تشکیل شده است. پیچ تنظیم کلی با دقت میلی‌متر و پیچ تنظیم جزئی با دقت $0/1$ تا $0/001$ میلی‌متر کار می‌کند. اکنون شیشه‌ی چپ پارالاکسبار را روی عکس سمت چپ و شیشه‌ی سمت راست را روی عکس سمت راست قرار می‌دهیم. شیشه‌ها باید روی عوارض شبیه هم که منظور تعیین پارالاکس آن است به‌طور تقریبی قرار گیرند. مثلاً کناره‌ی پشت بام یک ساختمان که



شکل ۱۵-۴

شیشه‌ی سمت چپ را روی کناره‌ی ساختمان عکس چپ و شیشه‌ی سمت راست را روی ساختمان سمت راست می‌گذاریم و پیچ علامت ثابت سمت چپ را محکم می‌کنیم که این علامت تا انتهای کار اندازه‌گیری ثابت خواهد ماند. سپس با پیچاندن پیچ میکرومتر علامت سمت راست نسبت به علامت سمت چپ حرکت می‌کند. از ابتدا تاکنون باید از پیچ تنظیم کلی استفاده و پارالاکسبار را مستقر کنیم، سپس با استفاده از چشمی‌های استرنوسکوپ نقطه‌ی شناور روی یکی از شیشه‌های پارالاکسبار را با گوشه‌ی ساختمان ثابت کنیم و سپس نقطه‌ی شناور شیشه‌ی پارالاکسبار سمت دیگر را با استفاده از پیچ میکرومتر جزئی، روی کناره‌ی ساختمان قرار دهیم. اکنون دو نقطه‌ی شناور را یکی می‌بینیم که روی کناره‌ی ساختمان و سطح عارضه مماس است و لذا پستی‌ها و بلندی‌های مدل را به وضوح

مشاهده می‌کنیم. اکنون می‌توان پارالاکسبار را قرائت کرد. افراد باتجربه و دقیق تا دقت $\pm 0.3\%$ میلی‌متر این قرائت را انجام می‌دهند. به همین گونه سایر نقاط را می‌توان تنظیم و قرائت کرد و اختلاف پارالاکس را طبق رابطه‌ی (۱) به دست آورد.

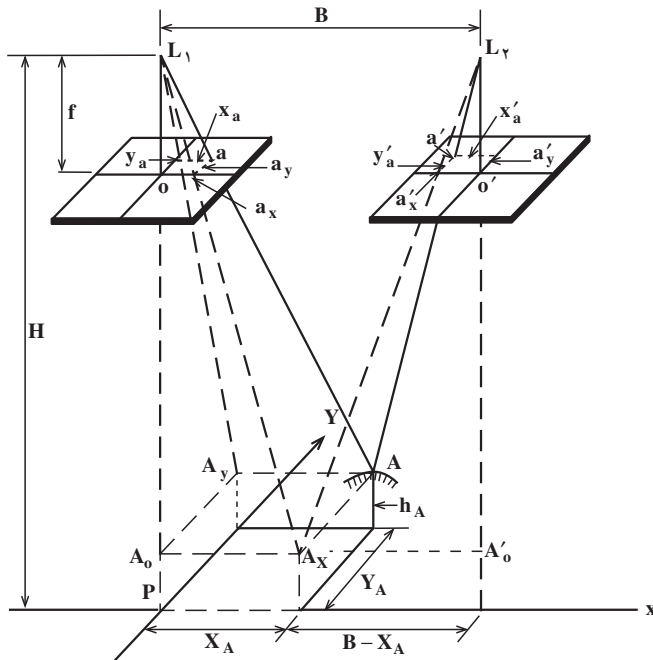
مسئله‌ی ۱: بوسیله‌ی پارالاکسبار قرائت نقاط A و T برابر 22mm و 18mm است اختلاف پارالاکس A و T را محاسبه کنید.

$$M_A = 22\text{mm} \quad M_T = 18\text{mm}$$

$$\Delta P_{AT} = M_A - M_T \quad \text{طبق رابطه‌ی (۱) داریم:}$$

$$\Delta P_{AT} = 22 - 18 = 4\text{mm}$$

۴-۶- معادلات مربوط به اختلاف منظر



شکل ۴-۱۶

موقعیت مسطحاتی نقطه‌ی A روی زمین به‌وسیله‌ی مختصات زمین X_A و Y_A مشخص شده است. مبدأ محورهای مختصات زمین XY روی سطح مبنا و بر نقطه‌ی اصلی P واقع شده است و محور X در صفحه‌ی قائم محور پرواز عکس‌ها قرار دارد و محور Y از نقطه‌ی اصلی واقع بر سطح

مبنا عبور کرده و عمود بر محور X می‌باشد. نقطه‌ی زمینی A در شکل ۴-۱۶ مشاهده می‌شود که دو تصویر a و a' را در عکس‌ها دارد. اکنون برای محاسبه‌ی مختصات زمینی نقطه‌ی A (X_A, Y_A) و ارتفاع نقطه‌ی A از سطح مبنا یعنی h_A ، از روابط زیر استفاده می‌نماییم:

$$X_A = B \frac{x_a}{P_a}$$

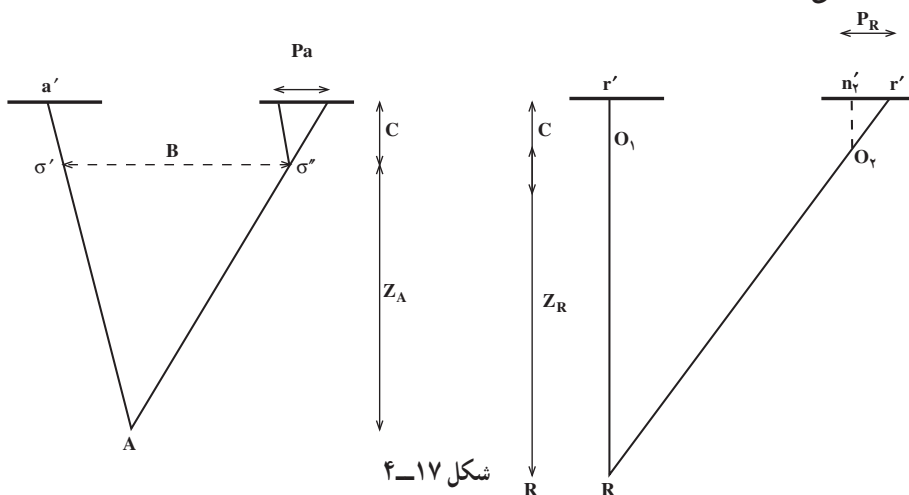
$$Y_A = B \frac{y_a}{P_a}$$

$$h_A = H - \frac{Bf}{P_a}$$

در رابطه‌های بالا نقطه‌ی A از سطح مبنا و H ارتفاع پرواز از سطح مبنا و B بازه‌ی f و فاصله‌ی کانونی دوربین عکس‌برداری و P_a پارالاکس نقطه‌ی A و X_A و Y_A مختصات زمینی نقطه‌ی A در سیستم مختصات اختیاری و x_a و y_a مختصات عکس نقطه‌ی a که در عکس سمت چپ اندازه‌گیری می‌شود.

۴-۷- تعیین ارتفاع به کمک اختلاف منظر

اختلاف ارتفاع دو منظر باعث اختلاف پارالاکس می‌شود. در مبحث قبل برای تعیین ارتفاع نقطه A ، یعنی h_A می‌بایست از پارالاکس نقطه و ارتفاع پرواز و بازه‌ی و فاصله‌ی کانونی دوربین استفاده کرد. اما در این‌جا، همان‌طور که قبلاً گفته شد، رابطه‌ی مستقیمی بین اختلاف پارالاکس و اختلاف ارتفاع وجود دارد. با توجه به شکل ۴-۱۷ اختلاف ارتفاع نقاط A و R از رابطه‌ی زیر به دست می‌آید:



$$\Delta h = \frac{Z_R}{P_R} \cdot \Delta P ; \quad \Delta P_{AR} = P_A - P_R$$

تمرین ۱: پارالاکس نقطه‌ی R را چهار بار با پارالاکس بار اندازه‌گیری کرده‌ایم که به ترتیب ۱۱/۵۱، ۱۱/۵۲، ۱۱/۵۳، ۱۱/۵۲ میلی‌متر است و پارالاکس نقطه‌ی A را چهار بار اندازه‌گیری کرده‌ایم (برای دقت بالاتر) که به ترتیب ۱۳/۷۶، ۱۳/۷۴، ۱۳/۷۴، ۱۳/۷۶ میلی‌متر است اگر ارتفاع پرواز از نقطه‌ی R ۱۵۰۰ متر باشد، اختلاف ارتفاع این دو نقطه را محاسبه کنید.

$$P_R = (11/52 + 11/53 + 11/52 + 11/51) / 4$$

$$P_R = 11/52$$

$$P_A = (13/76 + 13/74 + 13/74 + 13/76) / 4$$

$$P_A = 13/75$$

$$\Delta h = \frac{Z_R}{P_R} \times \Delta P_{AR} \quad \text{داریم:}$$

$$\Delta P_{AR} = P_A - P_R = 13/75 - 11/52 = 2/23 \text{ mm}$$

$$\Delta h = \frac{1500 \text{ m}}{11/52 \text{ mm}} \times 2/23 \text{ mm} = 290/36 \text{ m}$$

تمرین ۲: اگر مقیاس عکس برداری ۱:۲۰۰۰۰ و فاصله‌ی کانونی دوربین ۲۱۰ میلی‌متر باشد و پارالاکس نقاط A و R به ترتیب ۱۴ و ۱۳/۸، مقدار Δh را محاسبه کنید.

$$S = 1:20000 \quad C = 210 \text{ mm} = 0/21 \text{ m}$$

$$S = \frac{C}{Z} \quad \frac{1}{20000} = \frac{0/21}{Z}$$

$$Z = 4200 \text{ متر} \quad \Delta P_{AR} = P_A - P_R = 14 - 13/8 = 0/2 \text{ میلی‌متر}$$

$$\Delta h = \frac{Z_R}{P_R} \Delta P \quad \Delta h \approx \frac{Z_R}{P_R} \Delta P_{AR}$$

$$\Delta h = \frac{4200}{13/8} \times 0/2 = 60/86 \text{ m}$$

۸-۴- ترسیم منحنی میزان به کمک استرئوسکوپ و اختلاف منظر

ساده‌ترین روش تهیه‌ی نقشه با استرئوسکوپ همراه با پارالاکسبار، بدین‌گونه است که برای اندازه‌گیری طول و عرض هر نقطه از مدل می‌توان نقطه‌ی شناور پارالاکسبار را روی آن نقطه برد و پس از برجسته کردن آن نقطه و مماس کردن نقطه‌ی شناور بر عارضه‌ی روی مدل، مختصات نقطه‌ی شناور را که مختصات آن عارضه نیز می‌باشد روی نقشه پیاده کرد؛ آن‌گاه با داشتن نقاط، عوارض مسطحاتی را رسم کرد که این عوارض مسطحاتی با دقت کم است.

اکنون برای ترسیم منحنی میزان‌های نقشه، نقاط بسیاری را به‌طور تقریبی، مثلاً هر ۱ سانت یک نقطه، به صورت نامنظم و یا به صورت منظم و شبکه مانند با مختصات x و y روی نقشه مشخص می‌کنیم و با نقطه‌ی شناور پارالاکسبار به کمک استرئوسکوپ روی نقاط رفته و پس از مماس کردن نقطه‌ی شناور پارالاکس نقطه را خوانده و ارتفاع آن را حساب کرده و کنار نقطه‌ای که مشخص کرده‌ایم یادداشت می‌کنیم. در ضمن همان‌طور که نقاط را به صورت شبکه قرائت می‌کنیم و پیش می‌رویم و پارالاکس هر کجا از زمین (عوارض روی مدل) را که حالت خاص دارد، مثلاً بلندترین نقطه مثل قله‌ها و روی تپه‌ها و گودال‌ها و کنار ترانشه‌ها و آبریزهای کوهستان‌ها و شیب‌ها، نیز خوانده و ارتفاع آن‌ها را محاسبه و یادداشت کرده و پس از آن که برای تمام سطح مدل نقطه داشتیم به طریق واسطه‌یابی Inter Polation بین دو نقطه، نقاط هم ارتفاع را یافته و به هم وصل می‌کنیم. مثلاً اگر بخواهیم در سطح نقشه، منحنی میزان ۲/۵ متری داشته باشیم و کم‌ترین ارتفاع ما حدود ۶۲ متر و بالاترین آن ۷۱ متر باشد منحنی‌های ۶۲/۵، ۶۵، ۶۷/۵ و ۷۰ را ترسیم می‌کنیم. اکنون منحنی‌هایی خواهیم داشت که هر یک نشان‌دهنده‌ی یک ارتفاع ثابت است. با نگاه کردن به شکل ۱۸-۴ مشاهده می‌کنیم که منحنی ترازها به منظور نشان دادن ناهمواری‌های سطح زمین می‌باشد. تجسم گودی‌ها و آبریزها و قله‌ها با دیدن منحنی میزان‌ها برای ما امکان‌پذیر است.



شکل ۱۸-۴- تصویر زمین و نقشه‌ی مربوط با منحنی میزان

در شکل زیر یک دستگاه استرئوسکوپ با مداد رسام نشان داده می‌شود.




شکل ۱۹-۴

- ۱- برجسته نما (استرئوسکوپ) و انواع آن را نام ببرید.
- ۲- دستگاه استرئوسکوپ جیبی را شرح دهید.
- ۳- دستگاه استرئوسکوپ آینه دار را شرح دهید و طرح کلی آن را ترسیم کنید.
- ۴- چگونگی بزرگ نمایی استرئوسکوپ ها را با فرمول بنویسید و شرح دهید.
- ۵- طرز کار با استرئوسکوپ جیبی را بنویسید.
- ۶- طرز کار با استرئوسکوپ آینه دار را بنویسید.
- ۷- پارالاکس (منظر) را در یک خط تعریف کنید.
- ۸- پارالاکس استرئوسکوپی نقطه ای به نام A را در روی یک عکس و دو عکس نشان دهید.
- ۹- اختلاف پارالاکس (منظر) را توضیح دهید.
- ۱۰- چگونه اختلاف منظر باعث دید سه بعدی می شود؟
- ۱۱- نقطه ی شناور و اساس کار آن را توضیح دهید.
- ۱۲- ساختمان پارالاکسبار را شرح دهید.
- ۱۳- کار با پارالاکسبار همراه با استرئوسکوپ را شرح دهید.
- ۱۴- معادلات نهایی مربوط به اختلاف منظر را بنویسید و پارامترهای مورد استفاده در این معادلات را نام ببرید.
- ۱۵- شیوه ی ترسیم منحنی میزان به کمک استرئوسکوپ و پارالاکسبار را به اختصار بنویسید.
- ۱۶- پارالاکس نقطه ی R را پس از اندازه گیری با پارالاکسبار برابر ۱۶ میلی متر داریم. اگر ارتفاع پرواز در نقطه ی R 150° متر باشد و اختلاف ارتفاع دو نقطه ی A و R برابر 20° متر باشد مقدار ΔP_{AR} (اختلاف پارالاکس دو نقطه ی A و R) را محاسبه کنید.

الف) کار با استرنوسکوپ جیبی

- ۱- برای آشنایی با استرنوسکوپ جیبی آن را در دست گرفته و قسمت‌های مختلف (عدسی - قاب عدسی - پایه و لولا یا کشوی تنظیم بار چشمی) را بررسی کرده و نام ببرید.



- ۲- باز چشم خود را مطابق تمرین فصل قبل به دست آورید (اندازه‌گیری در مقابل آینه) سپس باز استرنوسکوپ را به اندازه باز چشم خود تنظیم کنید.

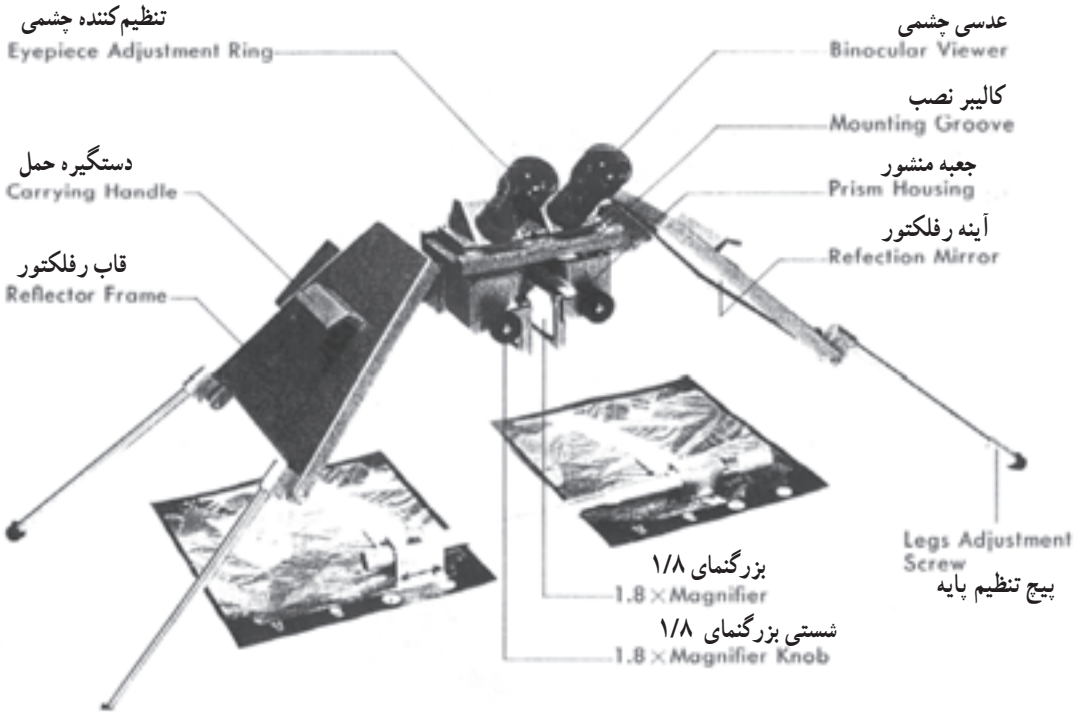


- ۳- با استرنوسکوپ جیبی زوج تصاویر زیر را برجسته ببینید. سپس عوارض را به ترتیب ارتفاعشان از کم به زیاد شماره‌گذاری کنید.




ب) کار با استرنوسکوپ آینه‌دار

قسمت‌های مختلف استرنوسکوپ به شرح شکل زیر است.



در مشاهده با استرنوسکوپ در حالت شکل (الف)، عامل می‌تواند کل مدل را مشاهده نماید زیرا بزرگ‌نمایی تصاویر یک برابر دیده می‌شوند و با استفاده از عدسی‌های با بزرگ‌نمایی $1/8$ قادر به بزرگ‌تر دیدن نیز می‌شویم و در حالت شکل (ب) با استفاده از دوربین دوچشمی ضمیمه دستگاه می‌توان ۳ تا ۶ برابر تصاویر را بزرگ‌تر مشاهده نمود.

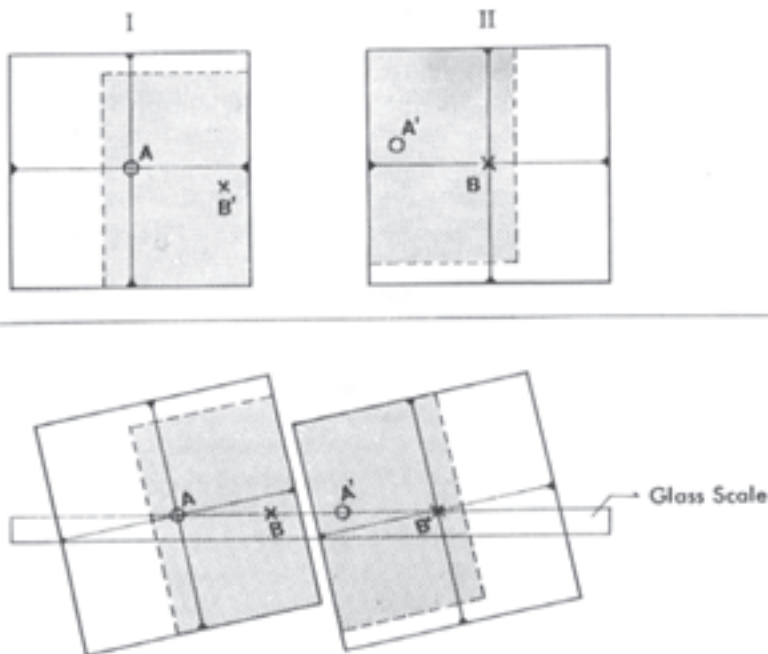


کار با استرنوسکوپ آینه دار سه مرحله دارد.

مرحله اول: آماده سازی عکس ها: در این مرحله با دقت بالا مراکز دو عکس به کمک فیدوشال مارک ها مشخص شده و با فشار آهسته نوک سوزن نقطه علامت زده می شود سپس با قرار دادن عکس در زیر استرنوسکوپ و ایجاد دید سه بعدی و مشاهده مرکز عکس (محل سوزن)، محل آن روی عکس دیگر نیز سوزن زده می شود و مطابق شکل زیر مراکز عکس ها روی هر دو عکس مشخص می شود.

برای برجسته بینی کل عکس به صورت دقیق باید مطابق شکل هر چهار نقطه روی یک امتداد قرار گیرد (امتداد پرواز).

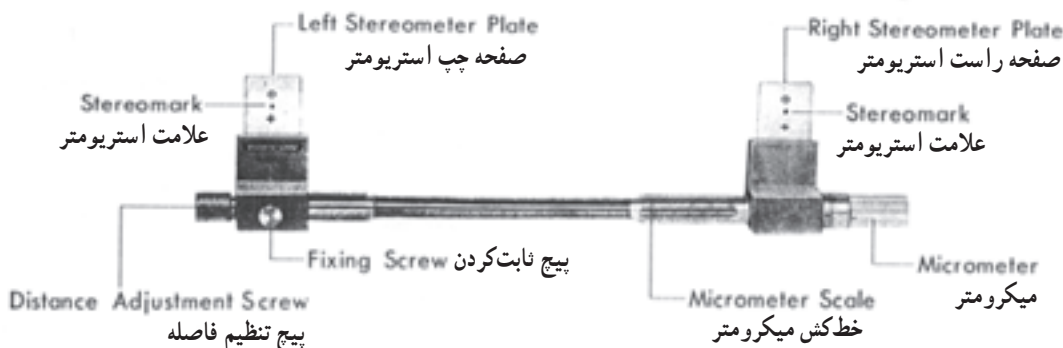
عکس ها را باید طوری روی میز چسباند که فاصله هر مرکز عکس تا تصویرش روی عکس دیگر ۲۶ سانتی متر باشد. (برای استرنوسکوپ های (TOPCON)



مرحله‌ی دوم: برجسته‌بینی: استرنوسکوپ را باید طوری روی عکس‌ها قرار داد که امتداد مراکز عکس‌ها و مراکز عدسی‌ها با هم موازی باشند و برای ثبات دستگاه و لقی زدن آن از پیچ تنظیم پایه کمک می‌گیریم سپس استرنوسکوپ را روی بزرگ‌نمایی یک برابر قرار داده و تصاویر را مشاهده می‌نماییم در صورت عدم مشاهده سه بعدی باید فاصله عکس‌ها را کم یا زیاد نمود.

پس از مشاهده سه بعدی، دوربین دو چشمی با بزرگ‌نمایی سه برابر را روی دستگاه در محل خود قرار داده و فاصله آن‌ها را با باز چشم تنظیم می‌نماییم. با مشاهده از دوربین باید همه نقاط مشترک دو عکس را برجسته بینیم.

مرحله‌ی سوم: اندازه‌گیری پارالاکس: ابتدا پارالاکس‌بار را روی عکس‌ها طوری قرار می‌دهیم که نقاط حک شده یا فلوتینگ مارک‌ها روی دو عارضه مشابه در دو عکس قرار گیرند و در صورت زیاد بودن فاصله ابتدا پیچ فیکس را آزاد کرده و سپس با پیچ تنظیم فاصله، فاصله دو نقطه را تنظیم می‌نماییم و پیچ فیکس را می‌بندیم. برای اندازه‌گیری پارالاکس نقاط با مشاهده عارضه مورد نظر و قراردادن نقاط فلوتینگ مارک‌ها روی آن‌ها، این نقاط بر هم منطبق نیستند و دو نقطه مجزا دیده می‌شوند که باید به وسیله پیچ میکرومتر (ورنیه) آن‌ها را به هم نزدیک کرد تا بر هم منطبق گردند. در این حالت یک نقطه در فضا دیده می‌شود و با حرکت آهسته میکرومتر نقطه به صورت شناور بالا و پایین می‌رود که باید آن را با سطح مورد نظر مماس نمود و پس از مماس شدن پارالاکس اندازه‌گیری شده را از روی قسمت مدرج میکرومتر و ورنیه یادداشت می‌شود. برای اندازه‌گیری پارالاکس هر نقطه برای دقت بیشتر باید حداقل پنج بار اندازه‌گیری انجام پذیرد و از قرائت‌های قابل قبول میانگین‌گیری شود.



مرحله‌ی چهارم: محاسبه اختلاف ارتفاع توسط پارالاکس بار: پس از اندازه‌گیری پارالاکس نقاط و محاسبه اختلاف پارالاکس بین نقاط می‌توان با استفاده از فرمول‌های مربوطه انجام داد و یا این‌که با استفاده از نمودار محاسباتی (Nomogram) زیر اختلاف ارتفاع نقاط را به‌دست آورد.

برای کار با گراف زیر ابتدا باید خطی از نقطه ارتفاع پرواز (قسمت مدرج Hm) به نقطه اختلاف پارالاکس (قسمت مدرج Pmm) وصل کرده و امتداد دهیم تا خط قائم سمت چپ را قطع کند و از نقطه تقاطع خطی به نقطه باز عکسی (قسمت مدرج bmm) وصل کرده و امتداد می‌دهیم تا خط اختلاف ارتفاع (قسمت مدرج hm) را قطع کند، آن‌گاه مقدار اختلاف ارتفاع از روی همین قسمت قرائت می‌شود.

۱- یک زوج عکس تهیه کرده و مطابق مرحله‌ی اول آن را روی میز بچسبانید سپس مطابق مرحله‌ی دوم استرنئوسکوپ را طوری روی آن قرار دهید که بتوانید کل منطقه مشترک عکس را برجسته ببینید.

۲- زیرنظر مری خود هر نفر ۴ نقطه را مشخص نماید و پارالاکس هر یک را ۵ بار مطابق مرحله‌ی سوم با پارالاکس بار اندازه‌گیری نموده و میانگین آن را محاسبه کنید.

۳- اختلاف ارتفاع نقطه اول را نسبت به سه نقطه دیگر توسط نمودار محاسباتی (nomogram) مطابق شرح مرحله‌ی چهارم بدست آورید.

۴- بر روی تک عکس وجود اختلاف ارتفاع‌ها را با چشم بررسی کرده و سپس این عمل را به کمک استرنئوسکوپ مجدداً بررسی نمایید.

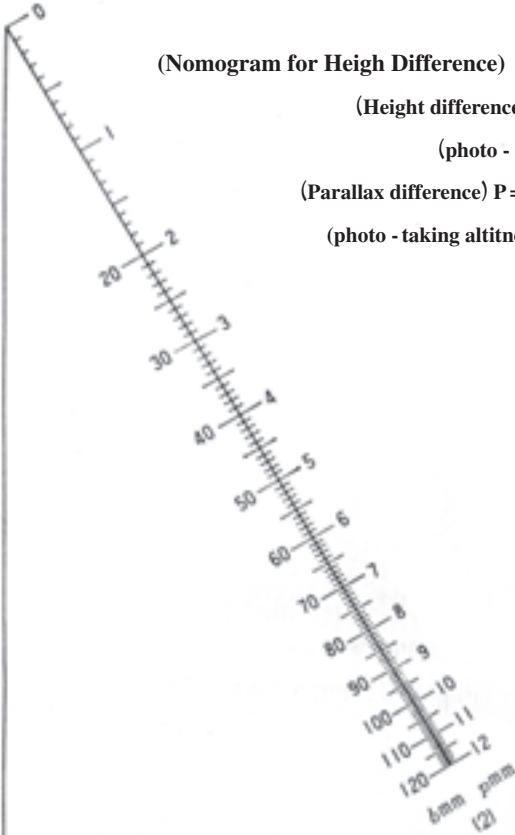
نمودار اختلاف ارتفاع (Nomogram for Height Difference)

(Height difference) h = ارتفاع اختلاف (m)

(photo - base) b = بازعکس (mm)

(Parallax difference) P = اختلاف پارالاکس (mm)

(photo - taking altitude) H = ارتفاع پرواز (m)



عملیات
operation

