

با تشکیل جدول تغییرات تابع نشان دهید که وقتی  $x$  که به سمت  $+$  برود،  $f(x)$  نیز به سمت  $+$  می‌رود.

مثال ۲: تابع همانی  $f(x)=x$  را در نظر می‌گیریم و مقادیر  $f(x)$  متناظر با  $x$ های از لحاظ قدرمطلق بزرگ مثبت و منفی محاسبه می‌کنیم و در جدول زیر می‌نویسیم.

|        |    |   |         |        |      |     |   |    |     |      |       |   |   |
|--------|----|---|---------|--------|------|-----|---|----|-----|------|-------|---|---|
| $x$    | -. | . | -۱۰۰۰۰۰ | -۱۰۰۰۰ | -۱۰۰ | -۱۰ | ۰ | ۱۰ | ۱۰۰ | ۱۰۰۰ | ۱۰۰۰۰ | → | + |
| $f(x)$ | -. | . | -۱۰۰۰۰۰ | -۱۰۰۰۰ | -۱۰۰ | -۱۰ | ۰ | ۱۰ | ۱۰۰ | ۱۰۰۰ | ۱۰۰۰۰ | → | + |

این جدول نشان می‌دهد که وقتی  $x$  به سمت  $-$  می‌رود،  $f(x)$  نیز به سمت  $-$  می‌رود و هنگامی که  $x$  به سمت  $+$  می‌رود،  $f(x)$  نیز به سمت  $+$  می‌رود. یعنی داریم:

$$\lim_{x \rightarrow -} f(x) = \lim_{x \rightarrow -} (x) = -.$$

$$\lim_{x \rightarrow +} f(x) = \lim_{x \rightarrow +} (x) = +.$$

$$\lim_{x \rightarrow ..} (x) = . \quad \text{به‌طور خلاصه می‌توان نوشت:}$$

مثال ۳: تابع  $f(x) = x^2 + 1$  را در نظر می‌گیریم و مقادیر  $f(x)$  متناظر با مقادیر از لحاظ قدرمطلق بزرگ  $x$  را محاسبه کرده و در جدولی می‌نویسیم:

|        |    |   |                |                |                |                |   |                |                |                |                |   |   |
|--------|----|---|----------------|----------------|----------------|----------------|---|----------------|----------------|----------------|----------------|---|---|
| $x$    | -. | . | -۱۰۰۰۰۰۰       | -۱۰۰۰۰۰        | -۱۰۰۰۰         | -۱۰۰۰          | ۰ | ۱۰۰            | ۱۰۰۰           | ۱۰۰۰۰          | ۱۰۰۰۰۰         | → | + |
| $f(x)$ | +  | . | $1^{10^6} + 1$ | $1^{10^4} + 1$ | $1^{10^2} + 1$ | $1^{10^1} + 1$ | ۱ | $1^{10^0} + 1$ | $1^{10^0} + 1$ | $1^{10^0} + 1$ | $1^{10^0} + 1$ | → | + |

این جدول نشان می‌دهد که:

$$\lim_{x \rightarrow -} (x^2 + 1) = +. \quad \text{و} \quad \lim_{x \rightarrow +} (x^2 + 1) = +.$$

$$\lim_{x \rightarrow ..} (x^2 + 1) = +. \quad \text{به‌صورت خلاصه:}$$

نکته ۱: دیدیم که  $\lim_{x \rightarrow ..} (x) = .$  با توجه به حد توان  $n$ ام یک تابع، حد تابع  $f(x) = x^n$

( $n$  عدد صحیح مثبت) در  $+$  و  $-$  به‌صورت زیر تعیین می‌شود:

اگر  $n = 2k$  آن‌گاه،

$$\lim_{x \rightarrow +} x^n = +. \quad \text{و} \quad \lim_{x \rightarrow -} x^n = +.$$

اگر  $n = 2k + 1$  آن گاه،

$$\lim_{x \rightarrow +.} x^n = +. \quad \text{و} \quad \lim_{x \rightarrow -.} x^n = -.$$

یعنی حد تابع  $f(x) = x^n$  در  $(.)$  حالتی که  $n$  عددی زوج باشد برابر  $+.$  است، و هنگامی که  $n$  عددی فرد باشد،  $\lim_{x \rightarrow +.} x^n = +.$  و  $\lim_{x \rightarrow -.} x^n = -.$  در این حالت به طور خلاصه می نویسیم:

$$\lim_{x \rightarrow ..} x^n = .$$

مثال ۱: حد  $f(x) = x^2$  در  $(.)$  برابر است با  $+.$

مثال ۲: حد  $f(x) = x^3$  در  $(.)$  برابر است با  $(.)$  یعنی:

$$\lim_{x \rightarrow +.} x^3 = +. \quad \text{و} \quad \lim_{x \rightarrow -.} x^3 = -.$$

نکته ۲: اگر  $a \neq 0$  عددی حقیقی باشد حد  $f(x) = ax^n$  ( $n$  عدد صحیح مثبت) را در  $(.)$

با توجه به علامت  $a$  می توانیم به دست آوریم.

مثال

$$\lim_{x \rightarrow +.} 2x^2 = 2(+.) = +.$$

$$\lim_{x \rightarrow +.} (-2x^2) = -2(+.) = -.$$

$$\lim_{x \rightarrow +.} 2x^3 = 2(+.) = +.$$

$$\lim_{x \rightarrow -.} (-2x^3) = -2(-.) = +.$$

قضایای حد مجموع و حاصلضرب و تقسیم توابع برای حدهای در  $(.)$  که مقدار حد اعداد باشند، نیز برقرار است. اما این قضایا را نباید در مورد توابعی که حد  $(.)$  دارند به کار برد. زیرا توابع با حدهای  $(.)$ ، اصولاً جزو توابعی که دارای حد باشند محسوب نمی شوند.

حد چند جمله ای ها در  $(.)$ : چند جمله ای  $f(x) = 2x^3 + 5x^2 + 4x - 1$  را در نظر می گیریم.

می خواهیم حد آن را در  $(.)$  محاسبه کنیم. برای این کار  $f(x)$  را به صورت زیر می نویسیم:

$$\begin{aligned} f(x) &= 2x^3 + 5x^2 + 4x - 1 = 2x^3 \left(1 + \frac{5x^2}{2x^3} + \frac{4x}{2x^3} - \frac{1}{2x^3}\right) \\ &= 2x^3 \left(1 + \frac{5}{2x} + \frac{4}{2x^2} - \frac{1}{2x^3}\right) \end{aligned}$$

پس:

$$\begin{aligned} \lim_{x \rightarrow ..} (2x^3 + 5x^2 + 4x - 1) &= \lim_{x \rightarrow ..} 2x^3 \left(1 + \frac{5}{2x} + \frac{4}{2x^2} - \frac{1}{2x^3}\right) \\ &= \lim_{x \rightarrow ..} (2x^3) \times \lim_{x \rightarrow ..} \left(1 + \frac{5}{2x} + \frac{4}{2x^2} - \frac{1}{2x^3}\right) \end{aligned}$$

حد مجموع جمله‌های داخل پرانتز دوم در (.) برابر با ۱ است پس :

$$\lim_{x \rightarrow \dots} (2x^3 + 5x^2 + 4x - 1) = \lim_{x \rightarrow \dots} (2x^3) \times 1 = \lim_{x \rightarrow \dots} (2x^3) = .$$

به طور کلی حد هر چند جمله‌ای به صورت  $f(x) = ax^n + bx^{n-1} + \dots + 1$  (n عدد صحیح

مثبت) در (.) ، مساوی حد جمله‌ای از آن است که دارای بزرگ‌ترین درجه است یعنی :

$$\lim_{x \rightarrow \dots} (ax^n + bx^{n-1} + \dots + 1) = \lim_{x \rightarrow \dots} ax^n$$

مثال ۱: حد چند جمله‌ای  $f(x) = 2x^5 + 3x - 1$  در (.) برابر است با حد  $(2x^5)$  در (.) ،

یعنی :

$$\lim_{x \rightarrow \dots} (2x^5 + 3x - 1) = \lim_{x \rightarrow \dots} (2x^5) = +.$$

مثال ۲: حد تابع  $f(x) = -3x^5 + 4x + 5$  در (.) برابر است با حد  $(-3x^5)$  در (.) ، یعنی :

$$\lim_{x \rightarrow \dots} (-3x^5 + 4x + 5) = \lim_{x \rightarrow \dots} (-3x^5) = -.$$

مثال ۳: حد تابع  $f(x) = 3x^5 - 2x^4 + x^3 + 2x^2 + 1$  در (.) برابر است با حد  $(3x^5)$

در (.) ، پس داریم :

$$\lim_{x \rightarrow \dots} (3x^5 - 2x^4 + x^3 + 2x^2 + 1) = \lim_{x \rightarrow \dots} (3x^5) = .$$

مثال ۴: حد تابع  $f(x) = -2x^3 + 5x^2 + 4x - 1$  در (.) چنین است :

$$\lim_{x \rightarrow \dots} (-2x^3 + 5x^2 + 4x - 1) = \lim_{x \rightarrow \dots} (-2x^3) = .$$

حد تابع  $f(x) = \frac{p(x)}{q(x)} = \frac{ax^m + bx^{m-1} + \dots + 1}{a'x^n + b'x^{n-1} + \dots + 1}$  در (.) (m و n اعداد صحیح

مثبت): چون حد هر چند جمله‌ای در (.) ، برابر حد جمله بزرگ‌ترین درجه آن می‌باشد، پس می‌توان

نوشت :

$$\lim_{x \rightarrow \dots} \frac{ax^m + bx^{m-1} + \dots + 1}{a'x^n + b'x^{n-1} + \dots + 1} = \lim_{x \rightarrow \dots} \frac{ax^m}{a'x^n} = \lim_{x \rightarrow \dots} \left( \frac{a}{a'} x^{m-n} \right)$$

بنابراین یکی از سه حالت زیر پیش می‌آید :

حالت اول  $m < n$

$$m < n \Rightarrow m - n < 0 \Rightarrow \lim_{x \rightarrow \dots} \left( \frac{a}{a'} x^{m-n} \right) = .$$

یعنی: وقتی درجه صورت کسر از درجه مخرج کسر بیش تر است، حد کسر در  $(\infty)$  برابر

است و علامت آن بستگی به علامت  $\frac{a}{a'}$  و زوج یا فرد بودن  $m-n$  دارد.

مثال: با به کار بردن روش بالا حد کسرهای زیر را به دست می آوریم.

$$1) \lim_{x \rightarrow \infty} \frac{2x^3 + x^2 - x + 1}{5x^2 - x + 6} = \lim_{x \rightarrow \infty} \frac{2x^3}{5x^2} = \lim_{x \rightarrow \infty} \left(\frac{2}{5}x\right) = \infty$$

$$\lim_{x \rightarrow +\infty} \left(\frac{2}{5}x\right) = +\infty, \quad \lim_{x \rightarrow -\infty} \left(\frac{2}{5}x\right) = -\infty \quad \text{زیرا}$$

$$2) \lim_{x \rightarrow \infty} \frac{-2x^2 + x - 1}{4x + 3} = \lim_{x \rightarrow \infty} \left(\frac{-2x^2}{4x}\right) = \lim_{x \rightarrow \infty} \left(-\frac{1}{2}x\right) = -\infty$$

$$\lim_{x \rightarrow +\infty} \left(-\frac{1}{2}x\right) = -\infty, \quad \lim_{x \rightarrow -\infty} \left(-\frac{1}{2}x\right) = +\infty \quad \text{زیرا}$$

$$3) \lim_{x \rightarrow \infty} \frac{4x^3 + 2x - 1}{2x + 5} = \lim_{x \rightarrow \infty} \left(\frac{4x^3}{2x}\right) = \lim_{x \rightarrow \infty} (2x^2) = +\infty$$

$$\lim_{x \rightarrow +\infty} (2x^2) = +\infty, \quad \lim_{x \rightarrow -\infty} (2x^2) = +\infty \quad \text{زیرا}$$

$$4) \lim_{x \rightarrow \infty} \frac{3x^4 - 2x^2 + 5}{-2x^2 + x - 1} = \lim_{x \rightarrow \infty} \left(\frac{3x^4}{-2x^2}\right) = \lim_{x \rightarrow \infty} \left(-\frac{3}{2}x^2\right) = -\infty$$

$$\lim_{x \rightarrow +\infty} \left(-\frac{3}{2}x^2\right) = -\infty, \quad \lim_{x \rightarrow -\infty} \left(-\frac{3}{2}x^2\right) = -\infty \quad \text{زیرا}$$

### حالت دوم $m=n$

$$m = n \Rightarrow m - n = 0 \Rightarrow \lim_{x \rightarrow \infty} \left(\frac{a}{a'}x^{m-n}\right) = \frac{a}{a'}$$

یعنی وقتی درجه صورت و درجه مخرج کسر برابرند، حد کسر در  $(\infty)$  برابر است با:

ضریب بزرگترین درجه صورت

---

ضریب بزرگترین درجه مخرج

مثال:

$$1) \lim_{x \rightarrow \infty} \frac{6x - 1}{2x + 3} = \frac{6}{2} = 3$$

$$2) \lim_{x \rightarrow \infty} \frac{-2x^2 + x - 1}{x^2 + 7x + 2} = \frac{-2}{1} = -2$$

$$۳) \lim_{n \rightarrow +\infty} \frac{5n^3 + 6n - 2}{2n^3 - 6n + 4} = \frac{5}{2}$$

$$۴) \lim_{x \rightarrow \infty} \frac{6x^n - x^2 + 5}{-2x^n + 3x - 4} = \frac{6}{-2} = -3$$

حالت سوم  $m < n$

$$m < n \Rightarrow m - n < 0 \Rightarrow \lim_{x \rightarrow \infty} \left(\frac{a}{a'} x^{m-n}\right) = \lim_{x \rightarrow \infty} \left(\frac{a}{a' x^{n-m}}\right) = 0$$

یعنی وقتی درجه صورت کسر از درجه مخرج کسر کم تر است، حد کسر در .. مساوی صفر

است.

مثال:

$$۱) \lim_{x \rightarrow \infty} \frac{2}{3x + 4} = 0$$

$$۲) \lim_{x \rightarrow \infty} \frac{2x + 5}{3x^2 + x + 2} = 0$$

$$۳) \lim_{n \rightarrow \infty} \frac{2n^2 + n - 1}{n^3 + n^2 - 5} = 0$$

نکته: در برخی حالت ها که تابع  $f(x)$  کسری است، اما صورت کسر، یا مخرج آن، یا هیچ کدام

چند جمله ای نیستند، باز هم می توان با فاکتورگیری از جمله هایی از صورت و مخرج که دارای

بزرگ ترین درجه هستند، حد تابع را به دست آورد. به مثال های زیر توجه کنید.

$$۱) \lim_{x \rightarrow \infty} \frac{x^2 + x + 2}{2x^2 + \sqrt{x^2 + 1}} = \lim_{x \rightarrow \infty} \frac{x^2 \left(1 + \frac{1}{x} + \frac{2}{x^2}\right)}{x^2 \left(2 + \sqrt{\frac{1}{x^2} + \frac{1}{x^4}}\right)}$$

$$= \lim_{x \rightarrow \infty} \frac{\left(1 + \frac{1}{x} + \frac{2}{x^2}\right)}{2 + \sqrt{\frac{1}{x^2} + \frac{1}{x^4}}} = \frac{1 + 0 + 0}{2 + \sqrt{0 + 0}} = \frac{1}{2 + 0} = \frac{1}{2}$$

$$۲) \lim_{x \rightarrow +\infty} \frac{-3x + \sqrt{x+1}}{6x + \sqrt{4x^2 - 1}} = \lim_{x \rightarrow +\infty} \frac{x \left(-3 + \sqrt{\frac{1}{x} + \frac{1}{x^2}}\right)}{x \left(6 + \sqrt{4 - \frac{1}{x^2}}\right)} = \frac{-3 + \sqrt{0 + 0}}{6 + \sqrt{4 - 0}} = \frac{-3 + 0}{6 + 2} = \frac{-3}{8}$$

## تمرین

حد هریک از تابع‌های زیر را در  $(\cdot)$ ، تعیین کنید. در دو تمرین آخر فقط حد در  $+$  را به دست

آورید.

$$۱) y = \frac{-1}{3}x + 4$$

$$۲) y = \frac{2}{5}x + 1$$

$$۳) y = 3x^2 - x + 2$$

$$۴) y = -2x^2 - x + 3$$

$$۵) y = x^3 + 2x^2 - 1$$

$$۶) y = -x^3 + 3x - 2$$

$$۷) y = -(2x - 1)^3$$

$$۸) y = 3x^4 + 5x^2 - 1$$

$$۹) y = -x^4 + x^2 + 2$$

$$۱۰) y = x^5 - 3x^3 + x - 1$$

$$۱۱) y = \frac{2x + 1}{x - 1}$$

$$۱۲) y = \frac{-3x + 2}{x}$$

$$۱۳) y = \frac{-x^2 + 2}{3x^2 + 5x + 1}$$

$$۱۴) y = \frac{4x^3 - x^2 + 1}{-2x^3 + x - 2}$$

$$۱۵) y = \frac{12x^n - x^2 + 1}{6x^n + x^3 + 2} \quad (n \in \mathbb{N}, n \geq 3)$$

$$۱۶) y = \frac{3x^2 + 5x - 1}{x^3 + 7x - 2}$$

$$۱۷) y = \frac{x - 5}{2x^2 + x - 1}$$

$$۱۸) y = \frac{3x^n - 7x + 2}{2x^{n+1} + 6x^n - 1} \quad (n \in \mathbb{N}, n \geq 1)$$

$$۱۹) y = \frac{2x + 1}{3}$$

$$۲۰) y = \frac{6x^2 + x - 2}{3x - 5}$$

$$۲۱) y = \frac{-3x^2 + 6x - 1}{2x - 7}$$

$$۲۲) y = \frac{2x^3 + x - 2}{x + 3}$$

$$۲۳) y = \frac{3x^4 + x^2 - 1}{-x^2 + 5}$$

$$۲۴) y = \frac{-3x^2 + \sqrt{x+2}}{x^2 + 5x - 1}$$

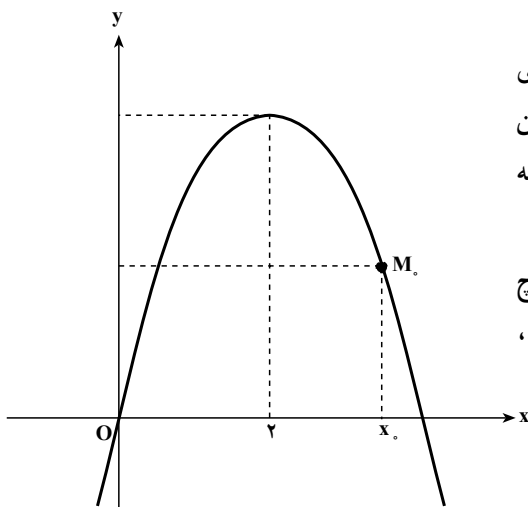
$$۲۵) y = \frac{2x + 1}{x^2 + \sqrt{x+2}}$$

## پیوستگی

پیوستگی در یک نقطه: تابع  $f(x) = -x^2 + 4x$  و نمودار آن را که یک سهمی است در نظر

می‌گیریم. این تابع برای همهٔ اعداد حقیقی تعریف شده است، یعنی  $D_f = \mathbb{R}$ . بنابراین برای هر

$x_0 \in \mathbb{R}$  نقطهٔ  $M_0(x_0, f(x_0))$  نقطه‌ای از سهمی است. اما همان طوری که می‌دانیم سهمی در هیچ



نقطه‌ای بریدگی ندارد. به عبارت دیگر سهمی یک منحنی یک تکه یا پیوسته است. به این علت تابع  $f(x) = -x^2 + 4x$  را نیز پیوسته می‌گویند.

به طور کلی اگر نمودار تابع  $f$  در هیچ نقطه‌ای از دامنه تعریفش بریدگی نداشته باشد، تابع  $f$  را پیوسته می‌نامند.

اکنون مقدار تابع  $f$  و حد آن را در یک نقطه، مثلاً در  $x=1$ ، به دست می‌آوریم. داریم:

$$f(1) = -(1)^2 + 4(1) = -1 + 4 = 3$$

$$\lim_{x \rightarrow 1} f(x) = \lim_{x \rightarrow 1} (-x^2 + 4x) = -1 + 4 = 3$$

به طوری که دیده می‌شود، در این مثال که  $f$  تابعی پیوسته است، مقدار تابع و حد آن در نقطه

$x=1$  با یکدیگر برابرند، یعنی:

$$\lim_{x \rightarrow 1} f(x) = f(1) = 3$$

این ویژگی در هر نقطه دیگر نیز برقرار است. یعنی به طور کلی برای هر عدد حقیقی دلخواه  $x_0$

داریم:

$$\lim_{x \rightarrow x_0} f(x) = f(x_0) \quad \text{و} \quad \lim_{x \rightarrow x_0} (-x^2 + 4x) = -x_0^2 + 4x_0.$$

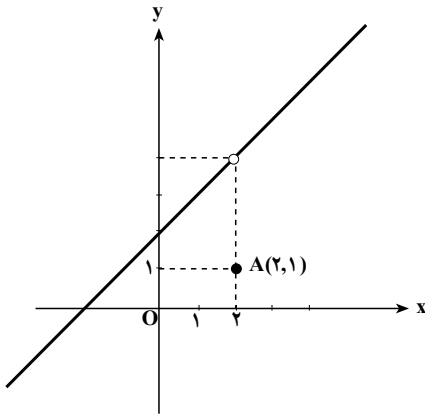
اینک به عنوان مثالی دیگر تابع  $f(x) = \begin{cases} \frac{x^2 - 4}{x - 2} & , x \neq 2 \\ 1 & , x = 2 \end{cases}$  را در نظر می‌گیریم. دامنه تعریف این تابع مجموعه اعداد حقیقی، یعنی  $D_f = \mathbb{R}$  است.

برای هر  $x \neq 2$  داریم  $x - 2 \neq 0$  و می‌توان نوشت:

$$f(x) = \frac{(x-2)(x+2)}{x-2} = x+2$$

$$f(x) = \begin{cases} x+2 & , x \neq 2 \\ 1 & , x = 2 \end{cases}$$

پس:

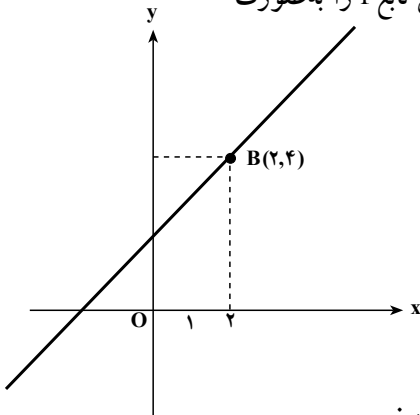


نمودار این تابع را رسم می‌کنیم. این نمودار اجتماع نقطه  $A(2, 1)$  و یک خط است که تنها در نقطه  $x = 2$  بریدگی دارد (مطابق شکل). زیرا نقطه  $A(2, 1)$  روی این خط نیست و نقطه  $B(2, 4)$  نیز به نمودار تابع تعلق ندارد. بدین جهت گفته می‌شود که این تابع در  $x = 2$  پیوسته نیست (این تابع در سایر نقاط پیوسته می‌باشد).  
اما در نقطه  $x = 2$  داریم:

$$\lim_{x \rightarrow 2} f(x) = \lim_{x \rightarrow 2} (x + 2) = 2 + 2 = 4 \neq f(2) = 1$$

یعنی حد تابع در  $x = 2$  با مقدار تابع در  $x = 2$  برابر نیست.

اگر در تابع بالا،  $f(2)$  را مساوی 4 بگیریم، یعنی تابع  $f$  را به صورت



$$f(x) = \begin{cases} \frac{x^2 - 4}{x - 2}, & x \neq 2 \\ 4, & x = 2 \end{cases}$$

تعریف کنیم نقطه  $B(2, 4)$  روی نمودار تابع قرار می‌گیرد و در نتیجه نمودار در هیچ نقطه‌ای بریدگی نخواهد داشت و در این صورت تابع در همه نقاط تعریفش پیوسته است.

از آنچه که گذشت به تعریف زیر رهنمون می‌شویم:

تعریف: تابع  $f$  که در بازه  $I$  تعریف شده است در نقطه  $x_0$  از دامنه آن را پیوسته گویند، هرگاه:

۱- تابع در  $x = x_0$  حد داشته باشد.

۲- حد تابع در  $x = x_0$  با مقدار تابع در  $x_0$  برابر باشد یعنی:

$$\lim_{x \rightarrow x_0} f(x) = f(x_0)$$

بنابراین هرگاه تابعی که روی یک بازه تعریف شده است و در یک نقطه از دامنه آن، دست کم

یکی از دو شرط بالا را نداشته باشد در آن نقطه ناپیوسته است.

مثال ۱: تابع  $f(x) = \begin{cases} -x^2 + 2x, & x < 1 \\ x^2 + 1, & x > 1 \end{cases}$  داده شده است. می‌خواهیم پیوستگی این تابع را

در نقطه  $x = -1$  بررسی کنیم.



این تابع در  $x = -1$  تعریف شده است و داریم :

$$f(-1) = -(-1)^2 + 2(-1) = -3$$

اما تابع  $f(x)$  در  $x = -1$  دارای حد نیست زیرا :

$$\lim_{x \rightarrow -1^+} f(x) = \lim_{x \rightarrow -1^+} (-x^2 + 2x) = -(-1)^2 + 2(-1) = -3$$

$$\lim_{x \rightarrow -1^-} f(x) = \lim_{x \rightarrow -1^-} (x^2 + 1) = (-1)^2 + 1 = 2$$

$$\lim_{x \rightarrow -1^+} f(x) = -3 \neq 2 = \lim_{x \rightarrow -1^-} f(x) \quad \text{یعنی}$$

در نتیجه این تابع در  $x = -1$  پیوسته نیست.

مثال ۲: تابع  $f(x) = \begin{cases} 2x^2 + 1, & x \neq 2 \\ 3, & x = 2 \end{cases}$  داده شده است. می‌خواهیم پیوستگی این تابع را در

نقطه  $x = 2$  بررسی کنیم.

این تابع در  $x = 2$  تعریف شده است زیرا  $f(2) = 3$  است، و در  $x = 2$  تابع دارای حد است و مقدار این حد برابر است با :

$$\lim_{x \rightarrow 2} f(x) = \lim_{x \rightarrow 2} (2x^2 + 1) = 9$$

به طوری که دیده می‌شود مقدار تابع در  $x = 2$  یعنی  $f(2) = 3$  با حد تابع در این نقطه برابر

نیست ( $3 \neq 9$ ). بنابراین تابع بالا در نقطه  $x = 2$  پیوسته نیست.

مثال ۳: می‌خواهیم پیوستگی تابع  $f(x) = \begin{cases} x^2 - 3x - 1, & x \neq -2 \\ -4x + 1, & x = -2 \end{cases}$  را در نقطه  $x = -2$

بررسی کنیم.

$$1- \text{تابع در } x = -2 \text{ تعریف شده است و داریم } f(-2) = (-2)^2 - 3(-2) - 1 = 9$$

$$2- \text{در } x = -2 \text{ تابع دارای حد است چون :}$$

$$\text{حد راست} = l_1 = \lim_{x \rightarrow -2^+} f(x) = \lim_{x \rightarrow -2^+} (x^2 - 3x - 1) = (-2)^2 - 3(-2) - 1 = 9$$

$$\text{حد چپ} = l_2 = \lim_{x \rightarrow -2^-} f(x) = \lim_{x \rightarrow -2^-} (-4x + 1) = -4(-2) + 1 = 9$$

$$\Rightarrow l_1 = l_2 = 9 \Rightarrow \lim_{x \rightarrow -2} f(x) = 9$$

۳- حد تابع در  $x = -2$  با مقدار تابع در  $x = -2$  برابر است.

$$\lim_{x \rightarrow -2} f(x) = f(-2) = 9$$

بنابراین تابع بالا در نقطه  $x = -2$  پیوسته می‌باشد.

مثال ۴: پیوستگی تابع  $f(x) = \sqrt{1-x^2}$  که دامنه آن  $1, -1$  است را در نقاط  $1$  و  $-1$  بررسی می‌کنیم.  $1$  و  $-1$  در دامنه تعریف تابع هستند و داریم  $f(1) = f(-1) = 0$ . حد تابع در این نقاط نیز همان حد چپ یا راست در این نقاط است و داریم:

$$\lim_{x \rightarrow 1} \sqrt{1-x^2} = \lim_{x \rightarrow -1} \sqrt{1-x^2} = 0$$

بنابراین حد این تابع در این نقاط با مقدار تابع در این نقاط برابر است و تابع در این نقاط پیوسته است. البته این تابع در سایر نقاط دامنه خود نیز پیوسته است.

مثال ۵: تابع  $f(x) = \begin{cases} ax+3, & x \neq 1 \quad (a \neq 0) \\ 5, & x = 1 \end{cases}$  مفروض است. مقدار  $a$  را طوری تعیین کنید که این تابع در نقطه  $x=1$  پیوسته باشد. تابع در  $x=1$  تعریف شده است و

$$f(1) = 5$$

همچنین در  $x=1$  تابع دارای حد است.

$$\lim_{x \rightarrow 1} f(x) = \lim_{x \rightarrow 1} (ax+3) = a+3$$

حال برای آن که تابع در  $x=1$  پیوسته باشد باید داشته باشیم:

$$\lim_{x \rightarrow 1} f(x) = f(1) \Rightarrow a+3=5 \Rightarrow a=2$$

مثال ۶: تابع  $f(x) = \begin{cases} ax^2+2, & x > -1 \quad (a \neq 0) \\ 3, & x = -1 \\ -3x+b, & x < -1 \end{cases}$  داده شده است.  $a$  و  $b$  را چنان بیابید

که تابع در  $x=-1$  پیوسته باشد.

داریم:

$$f(-1) = 3$$

$$\text{حد راست} = l_1 = \lim_{x \rightarrow -1^+} f(x) = \lim_{x \rightarrow -1^+} (ax^2+2) = a(-1)^2+2 = a+2$$

$$\text{حد چپ} = l_2 = \lim_{x \rightarrow -1^-} f(x) = \lim_{x \rightarrow -1^-} (-3x+b) = -3(-1)+b = 3+b$$

برای این که تابع دارای حد باشد باید  $l_1 = l_2$  یعنی:

$$a+2 = 3+b \Rightarrow a-b=1$$

(۱)