

۲-۶- عملیات روی تابع‌ها (+, -, ×, .)

اگر f و g دو تابع حقیقی باشند و به ازای هر x از دامنه‌ی مشترک f و g دو عدد حقیقی به دست آید، می‌توان چهار عمل اصلی (اعمال روی توابع) یعنی جمع، تفریق، ضرب و تقسیم را تعریف کرد.

۱-۲-۶- جمع دو تابع f و g : جمع f و g به صورت زیر تعریف می‌شود:

$$(f+g)(x) = f(x) + g(x)$$

دامنه‌ی مجموع f و g برابر است با اشتراک دامنه‌های آن‌ها:

$$D_{f+g} = D_f \cap D_g$$

$$f(x) = \sqrt{2-x} \quad \text{و} \quad g(x) = \sqrt{3x-5}$$

مثال: اگر داشته باشیم:

ضابطه‌ی $f+g$ را به دست آورید و سپس دامنه‌ی $f+g$

را محاسبه کنید.

$$f(x) + g(x) = \sqrt{2-x} + \sqrt{3x-5}$$

حل: ضابطه‌ی $f+g$ برابر است با:

با توجه به زوج بودن فرجه‌ی رادیکال و شرط $2-x \geq 0$

دامنه f برابر است با:

$$D_f = \{x | x \in \mathbb{R}, 2-x \geq 0\} = \{x | x \in \mathbb{R}, x \leq 2\} = (-\infty, 2]$$

$$D_g = \{x | x \in \mathbb{R}, 3x-5 \geq 0\} = \left\{x | x \in \mathbb{R}, x \geq \frac{5}{3}\right\}$$

- دامنه‌ی تابع g همانند تابع f برابر است با:

$$= \left[\frac{5}{3}, +\infty\right)$$

دامنه‌ی $f+g$ برابر است با اشتراک دامنه‌های f و g :

$$D_{f+g} = D_f \cap D_g = (-\infty, 2] \cap \left[\frac{5}{3}, +\infty\right) = \left[\frac{5}{3}, 2\right]$$

۲-۲-۶- تفریق دو تابع f و g : تفریق $g(x)$ از $f(x)$ به صورت زیر تعریف می‌شود.

$$(f-g)(x) = f(x) - g(x)$$

دامنه‌ی تفاضل f و g برابر است با:

$$D_{f-g} = D_f \cap D_g$$

۳-۲-۶- حاصل ضرب دو تابع f و g : حاصل ضرب دو تابع f و g به صورت زیر تعریف می‌شود:

$$(f \times g)(x) = f(x) \times g(x)$$

- دامنه‌ی $f \times g$ برابر است با:

$$D_{f \times g} = D_f \cap D_g$$

مثال ۲: تابع‌های مقابل مفروض است

$$f(x) = 2x - 1, g(x) = \frac{x}{x-1}$$

ضابطه‌ی $f-g$ و $f \times g$ را به دست آورید و دامنه‌ی هریک را محاسبه کنید.

$$(f-g)(x) = f(x) - g(x) = 2x - 1 - \frac{x}{x-1} \Rightarrow$$

ضابطه‌ی $f \times g$ برابر است با:

$$f(x) - g(x) = \frac{2x^2 - 2x - x + 1 - x}{x-1} = \frac{2x^2 - 4x + 1}{x-1}$$

- پس از مخرج مشترک خواهیم داشت:

$$f(x) \times g(x) = (2x-1) \times \left(\frac{x}{x-1}\right) = \frac{2x^2 - x}{x-1}$$

ضابطه‌ی $f \times g$ برابر است با:

$$D_f = \mathbb{R}$$

- تابع f دوجمله‌ای است. دامنه‌ی آن برابر است با:

$$D_g = \mathbb{R} - \{1\}$$

- تابع g کسری است دامنه‌ی آن برابر است با:

- دامنه‌ی $f-g$ و $f \times g$ برابر است با اشتراک دامنه‌های

$$D_{f-g} = D_{f \times g} = D_f \cap D_g = \mathbb{R} - \{1\}$$

توابع f و g ، بنابراین خواهیم داشت:

۴-۶-۲- خارج قسمت دو تابع: تابع f/g به ازای هر x از دامنه‌ی مشترک f و g که $g(x) \neq 0$ به صورت

$$\left(\frac{f}{g}\right)(x) = \frac{f(x)}{g(x)}, g(x) \neq 0$$

مقابل تعریف می‌شود:

$$D_{f/g} = D_f \cap D_g - \{x | x \in \mathbb{R}, g(x) = 0\}$$

دامنه‌ی f/g برابر است با:

مثال ۳: تابع‌های f و g با ضابطه‌های مقابل مفروض اند:

$$f(x) = \sqrt{3-x} \text{ و } g(x) = \sqrt{1+x}$$

ضابطه‌ی f/g را به دست آورید و سپس دامنه‌ی آن را

محاسبه کنید.

$$\left(\frac{f}{g}\right)(x) = \frac{f(x)}{g(x)} = \frac{\sqrt{3-x}}{\sqrt{1+x}}$$

حل: چون فرجه رادیکال زوج است با شرط $3-x \geq 0$

دامنه‌ی f ، برابر است با:

$$D_f = \{x | x \in \mathbb{R}, 3-x \geq 0\} = \{x | x \in \mathbb{R}, x \leq 3\}$$

$$= (-\infty, 3]$$

- دامنه‌ی g با شرط $x+1 \geq 0$ برابر است با:

$$D_g = \{x | x \in \mathbb{R}, 1+x \geq 0\} = \{x | x \in \mathbb{R}, x \geq -1\}$$

$$= [-1, +\infty)$$

– دامنه‌ی f/g طبق رابطه کلی برابر است با :

$$D_{f/g} = D_f \setminus D_g - \{x | x \in \mathbb{R}, g(x) = 0\} \Rightarrow$$

آن‌گاه خواهیم داشت :

$$D_{f/g} = (-\infty, 3] \setminus [-1, +\infty) - \{x | x \in \mathbb{R}, g(x) = \sqrt{1+x} = 0\}$$

$$\Rightarrow D_{f/g} = [-1, 3] - \{x | x \in \mathbb{R}, 1+x=0\}$$

پس $D_{f/g}$ برابر است با :

$$\Rightarrow D_{f/g} = [-1, 3] - \{-1\} = (-1, 3]$$

فعالیت ۲۴-۲

تابع‌های مقابل مفروض‌اند.

$$f(x) = \sqrt{x^2 - 4} \text{ و } g(x) = \sqrt{9 - x^2}$$

– جاهای خالی را تکمیل کنید.

$$D_f = \{x | x \in \mathbb{R}, x^2 - 4 \geq 0\} = (-\infty, -2] \quad \square \quad (1)$$

$$D_g = \{x | x \in \mathbb{R}, 9 - x^2 \geq 0\} = [-3, \square] \quad (2)$$

$$D_{f+g} = D_f \cap D_g = \square \quad (3)$$

$$D_{f/g} = D_f \setminus D_g - \{\pm 3\} = \square \quad (4)$$

مثال ۴: تابع‌های مقابل مفروض‌اند. مطلوب است :

$$f = \{(3, 5), (-4, 9), (11, 1)\}$$

$$D_{f \times g}, D_{f \pm g} \text{ (الف)}$$

$$g = \{(3, 9), (2, 5), (11, 17), (0, 12)\}$$

$$f \times g, f + g \text{ (ب)}$$

حل: برای پیدا کردن دامنه‌های $f \pm g$ و $f \times g$ دامنه‌های

f و g را می‌یابیم :

– اشتراک D_f و D_g برابر است با :

$$D_f = \{3, -4, 11\} \text{ و } D_g = \{3, 2, 11, 0\}$$

$$D_{f \pm g} = D_{f \times g} = D_f \cap D_g = \{3, 11\}$$

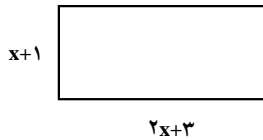
حل ب: برای یافتن $f + g$ ، $f \times g$ دامنه‌های مشترک f و

g را مشخص می‌کنیم و مقادیر مربوط به دامنه‌های مشترک را با

هم جمع و یا در هم ضرب می‌کنیم.

$$f + g = \{(3, 5+9), (11, 1+17)\} = \{(3, 14), (11, 18)\}$$

$$f \times g = \{(3, 5 \times 9), (11, 1 \times 17)\} = \{(3, 45), (11, 17)\}$$



مثال ۵: مستطیل مقابل مفروض است.

– ضابطه‌ای برای مساحت $S(x)$ بنویسید، سپس $S(3)$ را محاسبه کنید.

حل: مساحت مستطیل $S(x)$ برابر است با طول ضرب در عرض.

عرض طول

$$S(x) = (2x + 3) \times (x + 1)$$

– $S(3)$ برابر است با:

$$S(3) = (2 \times 3 + 3)(3 + 1) = 9 \times 4 = 36$$

مثال ۶: مختصات نقاط M و N در رویه‌رو مفروض است.

$$M \begin{vmatrix} t+4 \\ t^2 \end{vmatrix} \text{ و } N \begin{vmatrix} 2t-1 \\ 4t+3 \end{vmatrix}$$

$$x_P = \frac{x_M + x_N}{2} = \frac{t+4+2t-1}{2} = \frac{3t+3}{2}$$

$$y_P = \frac{y_M + y_N}{2} = \frac{t^2+4t+3}{2}$$

الف) مختصات وسط MN را بر حسب t به دست آورید. سپس به ازای $t = 3$ مختصات وسط را محاسبه کنید.

حل: x نقطه‌ی P وسط MN برابر است با:

– y نقطه‌ی P وسط MN برابر است با:

$$x_P = \frac{3(3)+3}{2} = 6 \quad y_P = \frac{3^2+4(3)+3}{2} = 12$$

– به ازای $t = 3$ ، مقادیر x_P و y_P برابر است با:

ب) طول پاره خط MN را بر حسب t یافته، سپس به ازای $t = 4$ مقدار MN را حساب کنید.

حل ب: رابطه‌ی محاسبه‌ی طول پاره خط MN برابر است

با:

$$MN = \sqrt{(x_M - x_N)^2 + (y_M - y_N)^2}$$

$$MN = \sqrt{(t+4-2t+1)^2 + (t^2-4t-3)^2}$$

– مختصات M و N را در رابطه‌ی MN قرار می‌دهیم:

– طول پاره خط MN بر حسب t به دست می آید.

$$\Rightarrow MN = \sqrt{(5-t)^2 + (t^2 - 4t - 3)^2}$$

$$MN = \sqrt{(5-4)^2 + (4^2 - 4 \times 4 - 3)^2}$$

$$= \sqrt{1+9} = \sqrt{10}$$

– به ازای $t = 4$ مقدار MN را محاسبه می کنیم.

پاسخ:

تمرین: در مثال ۶، مختصات وسط پاره خط را به ازای

$t = 0$ حساب کنید.

مثال ۷: مقدار آبی که در هر ثانیه، بر حسب لیتر، از

فواره های A و B وارد استخر می شود به ترتیب از دو تابع f و g

با ضابطه های مقابل محاسبه می شود.

$$f(t) = 4t \text{ و } g(t) = 7t$$

الف) مقدار آبی که از فواره های A و B وارد استخر

می شود از چه دستوری محاسبه می شود؟

حل: اگر مجموع $f(t)$ و $g(t)$ را $h(t)$ فرض کنیم داریم:

$$h(t) = (f+g)(t) = f(t) + g(t) = 4t + 7t$$

– آبی که وارد استخر می شود برابر است با:

$$h(t) = 11t$$

ب) در 20 ثانیه چقدر آب وارد استخر می شود؟

$$h(t) = 11t \Rightarrow$$

به جای t عدد 20 را در تابع با ضابطه ی $h(t)$ قرار می دهیم:

$$h(20) = 11 \times 20 = 220 \text{ لیتر}$$

ج) فرض کنید گنجایش این استخر معادل 7700 لیتر

باشد، پس از چند ثانیه پر می شود؟

$$h(t) = 11t$$

– مقدار $h(t)$ را برابر ظرفیت استخر قرار می دهیم، بنابراین:

$$11t = 7700 \Rightarrow t = \frac{7700}{11} \Rightarrow t = 700 \text{ ثانیه}$$

تمرین

$$f(t) = t^2 + 2t, g(t) = 3t$$

ضابطه‌ی تابع‌های مقابل داده شده‌اند :

۱- ضابطه‌ی $(f \pm g)$ را محاسبه کنید.

۲- به ازای $t = 3$ مقدار $(f + g)(t)$ را پیدا کنید.

۳- به ازای $t = -3$ مقدار $(f - g)(t)$ را پیدا کنید.

مثال ۸: تابع‌های f و g با ضابطه‌های مقابل مفروض‌اند.

$$f(x) = \sqrt{x}, g(x) = \sqrt{2-x}$$

- دامنه‌های $f + g$ و f/g را بیابید.

حل: با توجه به زوج بودن فرجه‌ی رادیکال، دامنه‌ی f برابر

است با :

$$D_f = \{x | x \in \mathbb{R}, x \geq 0\} = [0, +\infty)$$

- با توجه به زوج بودن فرجه‌ی رادیکال دامنه‌ی g برابر

است با :

$$D_g = \{x | x \in \mathbb{R}, 2 - x \geq 0\} = (-\infty, 2]$$

- دامنه‌ی $f + g$ برابر است با :

$$D_{f+g} = D_f \cap D_g = [0, 2]$$

- دامنه‌ی f/g را محاسبه می‌کنیم،

$$D_{f/g} = D_f \cap D_g - \{x | x \in \mathbb{R}, g(x) = 0\} \Rightarrow$$

دامنه‌ی f/g برابر است با :

$$D_{f/g} = [0, 2] - \{2\} = [0, 2)$$

تمرین

۱- تابع‌های f و g با ضابطه‌های مقابل مفروض‌اند :

الف) ضابطه‌های $f \times g$ و g/f را محاسبه کنید.

ب) دامنه‌های $f - g$ و g/f را محاسبه کنید.

۲- دو تابع f و g با ضابطه‌های مقابل مفروض‌اند :

$$f = \sqrt{x-1} \text{ و } g(x) = \sqrt{9-x^2}$$

$$f(x) = 3x + 1, g(x) = x^2 - 2x$$

مقدار $(f + g)(3)$ را محاسبه کنید.

آزمون پایانی (۶)

محل پاسخ به سوالات آزمون پایانی (۶)

$$f(x) = \frac{3x}{x^2 - 4}, \quad g(x) = \sqrt{4 - x^2}$$

$$f(x) = 3x^2 - 2x + 1$$

$$f(x) = \sqrt{x+1} \quad \text{و} \quad g(x) = 3x - 2$$

۱- تابع های f و g با ضابطه های مقابل مفروض اند :

۲- دامنه های $f - g$ ، $f \times g$ و f/g را به دست آورید.

۳- تابع های f با ضابطه ی مقابل مفروض است. حاصل عبارت های $f(3) \times f(2)$ و $f(3) + f(-2)$ را به دست آورید.

۴- تابع های f و g با ضابطه های روبه رومفروض اند :

الف) ضابطه ی $f \times g$ و f/g را بنویسید.

ب) مقدار $(f+g)(0)$ را بیابید.

ج) مقدار $\frac{f(8)}{g(2)}$ را بیابید.

۵- هرگاه

$$f = \{(-1, 1), (7, 3), (9, 5), (5, 11), (0, 2), (4, 0)\}$$

$$g = \{(-1, 0), (2, 5), (7, 11), (-5, 11), (3, 9)\}$$

الف) دامنه های $f \pm g$ و $f \times g$ را بیابید.

ب) توابع $2f + 3g$ و $f \times g$ را تعیین کنید.

بخش دوم

فصل هفتم

ترکیب دو تابع

هدف کلی

ترکیب دو یا چند تابع و کاربردهای آن در حل مسائل

- هدف‌های رفتاری: پس از پایان این فصل از هنرجو انتظار می‌رود که بتواند:
- ۱- ضابطه‌ی $f \circ g$ و $g \circ f$ را با داشتن ضابطه‌ی f و g بنویسد؛
 - ۲- مقدار تابع‌های $f \circ g$ و $g \circ f$ را در بعضی از نقطه‌های دامنه‌اش تعریف کند؛
 - ۳- مسائل مربوط به کاربرد ترکیب تابع‌ها را حل کند.

پیش‌آزمون (۷)

محل پاسخ به سؤالات پیش‌آزمون (۷)

$$f(x) = 3x + 2$$

$$f(x) = \sqrt{x+1}, \quad g(x) = x^2 - 1$$

$$f(x) = 3x^2 + 2bx - 7$$

$$f(x) = 2x + 1, \quad (f \circ g)(x) = 3x + 4$$

- ۱- تابع f با ضابطه‌ی روبه‌رو مفروض است :
- الف) مقادیر $f(0)$ و $f(-2)$ را به‌دست آورید.
- ب) $f(x-2)$ را بنویسید.
- ج) $f(3x+2)$ را بنویسید.

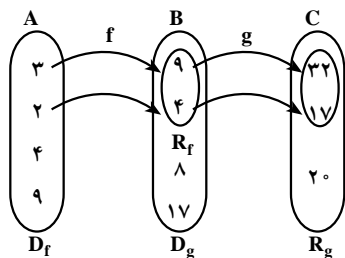
- ۲- تابع‌های f و g با ضابطه‌های روبه‌رو مفروض‌اند.
- ضابطه‌های $f \circ g$ و $g \circ f$ را بنویسید.

- ۳- تابع f با ضابطه‌ی روبه‌رو مفروض است. اگر
- $$f(-1) = 4$$
- باشد مقادیر b و $f(-2)$ را بیابید.

- ۴- تابع f و $f \circ g$ با ضابطه‌های روبه‌رو مفروض‌اند،
- $g(3)$ را بنویسید.

۲-۷- ترکیب دو تابع

فعالیت ۲-۲۵



شکل ۲-۱۲۵



فرض کنید $f: A \rightarrow B$ و $g: B \rightarrow C$

$$x \rightarrow 3x + 5 \quad x \rightarrow x^2$$

با توجه به تابع‌های f و g و شکل ۲-۱۲۵ به سؤال‌های

زیر پاسخ دهید.

۱- مقدارهای $f(3)$ و $g(9)$ برابر چه اعدادی هستند؟

۲- مقدارهای $f(2)$ و $g(4)$ برابر چه اعدادی هستند؟

۳- آیا روابط $g(f(2)) = g(4)$ و $g(f(3)) = g(9)$

صحیح است؟

۴- مجموعه‌ی R_f را به دست آورید.

۵- با توجه به شکل ۲-۱۲۵ و روابط بالا، آیا می‌توان

تابع h را به صورت $h: A \rightarrow C$ با ضابطه‌ی زیر تعریف کرد؟

$$x \rightarrow 3x^2 + 5$$

(در حالت کلی $g(f(x))$ را می‌توان با نماد $(g \circ f)(x)$

نشان داد)

تعریف: دو تابع f و g مفروض‌اند. ترکیب تابع g با f را با

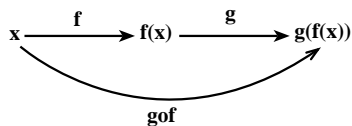
$g \circ f$ نشان می‌دهند و تابع $g \circ f: A \rightarrow C$ است که به ازای هر

$x \in A$ ، $(g \circ f)(x) = g(f(x))$. شکل ۲-۱۲۶ نمودار ترکیب

این دو تابع است.

تذکر: $g \circ f$ هنگامی قابل تعریف است که $D_g \cap R_f \neq \emptyset$.

$$f: A \longrightarrow B \quad \text{و} \quad g: B \longrightarrow C$$



شکل ۲-۱۲۶

مثال: تابع f با ضابطه‌ی روبه‌رو مفروض است:

$$f(x) = x^2 + 2x + 3$$

$$f(1), f(3), f(z), f(-2z+1)$$

مقدارهای مقابل را به دست آورید.

$$f(1) = 1^2 + 2(1) + 3 = 1 + 2 + 3 = 6$$

حل: برای محاسبه‌ی $f(1)$ به جای x ، ۱ را قرار می‌دهیم:

$$f(3) = 3^2 + 2(3) + 3 = 9 + 6 + 3 = 18$$

- برای محاسبه‌ی $f(3)$ ، به جای x ، ۳ را قرار می‌دهیم:

– برای محاسبه ی $f(z)$ ، به جای x ، z را قرار می‌دهیم:

$$f(z) = z^2 + 2z + 3$$

– برای محاسبه ی $f(-2z+1)$ ، به جای x ، $-2z+1$ را

قرار می‌دهیم:

$$f(-2z+1) = (-2z+1)^2 + 2(-2z+1) + 3$$

– با استفاده از اتحاد مربع دو جمله‌ای داریم:

$$\Rightarrow f(-2z+1) = 4z^2 - 4z + 1 - 4z + 2 + 3$$

$$\Rightarrow f(-2z+1) = 4z^2 - 8z + 6$$

– پس از ساده کردن $f(-2z+1)$ به دست می‌آید:

مثال ۲: توابع f و g با ضابطه‌های روبه‌رو مفروض اند:

$(fog)(x)$ ، $gof(x)$ را به دست آورید.

$$f(x) = x^2, \quad g(x) = -2x + 3$$

$$(fog)(x) = f(g(x)) = (g(x))^2 = (-2x + 3)^2$$

حل: روش اول: fog برابر است با:

$$(gof)(x) = g(f(x)) = -2f(x) + 3 = -2x^2 + 3$$

– gof برابر است با:

روش دوم: در $f(g(x))$ به جای $g(x)$ مقدار آن را قرار

می‌دهیم، یعنی:

$$(fog)(x) = f(g(x)) = f(-2x + 3) = (-2x + 3)^2$$

– در $g(f(x))$ به جای $f(x)$ مقدار آن را قرار می‌دهیم:

$$(gof)(x) = g(f(x)) = g(x^2) = -2x^2 + 3$$

مثال ۳: تابع‌های f و fog با ضابطه‌های روبه‌رو مفروض اند.

$$f(x) = 4x + 1 \quad \text{و} \quad (fog)(x) = 3x - 1$$

– ضابطه تابع g را بیابید، سپس $g(1)$ را حساب کنید.

حل: در رابطه ی fog به جای x در $f(x)$ مقدار $g(x)$ را

قرار می‌دهیم؛

$$(fog)(x) = f(g(x)) = 4g(x) + 1$$

از تابع fog با ضابطه ی $3x-1$ خواهیم داشت :

$$\Rightarrow 4g(x)+1=3x-1$$

- ضابطه ی g برابر است با :

$$\Rightarrow 4g(x)=3x-1-1 \Rightarrow g(x)=\frac{3x-2}{4}$$

- در $g(x)$ ، به جای x عدد 1 را قرار می دهیم :

$$g(1)=\frac{3 \times 1-2}{4}=\frac{1}{4}$$

مثال 4: تابع های f و g مفروض اند.

$$f = \{(-1, 7), (3, 4), (7, 5), (4, 2)\}$$

$$g = \{(7, 11), (0, 1), (5, 18), (9, 9)\}$$

$$D_g = \{7, 0, 5, 9\} \text{ و } R_f = \{7, 4, 5, 2\} \Rightarrow \text{حل الف)}$$

الف) D_g و R_f را به دست آورید.

$$D_g \cap R_f = \{7, 5\}$$

$$(g \circ f)(7) = g(f(7)) = g(5) = 18 \quad \text{حل ب)}$$

ب) $g \circ f(7)$ و $g \circ f(-1)$ را به دست آورید.

$$(g \circ f)(-1) = g(f(-1)) = g(7) = 11$$

ج) دامنه ی gof را به دست آورید.

$$g \circ f = \{(7, 18), (-1, 11)\} \Rightarrow \text{حل ج)}$$

$$D_{g \circ f} = \{7, -1\}$$

- دامنه ی gof برابر است با :

مثال 5: رابطه ی مقابل مفروض است. $f(t)$ را به دست

$$f(-4t+1) = 5t-1$$

آورید.

حل: عبارت $-4t+1$ را برابر متغیر x قرار می دهیم و t را

بر حسب x محاسبه می کنیم.

$$-4t+1=x \Rightarrow -4t=x-1 \Rightarrow t=\frac{x-1}{-4}$$

- در تابع f، متغیرها را بر حسب x مرتب می کنیم.

$$f(x) = 5\left(\frac{x-1}{-4}\right) - 1 = \frac{5x-5}{-4} - 1$$

$$\Rightarrow f(x) = \frac{5x-5+4}{-4}$$

- مخرج مشترک می گیریم :

- ضابطه $f(x)$ برابر است با :

$$\Rightarrow f(x) = \frac{5x-1}{-4}$$

- به جای متغیر x متغیر t را قرار می دهیم، پس داریم :

$$f(t) = \frac{5t-1}{-4}$$

مثال ۶: تابع‌های f و $(f \circ g)$ با ضابطه‌های روبه‌رو مفروض‌اند.

مقدار $g(3)$ را محاسبه کنید.

$$f(x) = 3x + 2 \text{ و } (f \circ g)(x) = \frac{2x-1}{1-5x}$$

حل: ابتدا $(f \circ g)(x)$ را به دست می‌آوریم:

$$(f \circ g)(x) = f(g(x)) = 3g(x) + 2 = \frac{2x-1}{1-5x} \Rightarrow$$

– از طرف دوم رابطه مخرج مشترک می‌گیریم.

$$3g(x) = \frac{2x-1}{1-5x} - 2 = \frac{2x-1-2+10x}{1-5x} = \frac{12x-3}{1-5x}$$

– ضابطه‌ی $g(x)$ برابر است با:

$$\Rightarrow 3g(x) = \frac{3(4x-1)}{1-5x} \Rightarrow g(x) = \frac{4x-1}{1-5x}$$

– به جای x ، عدد ۳ را قرار می‌دهیم:

$$\Rightarrow g(3) = \frac{4(3)-1}{1-5(3)} \Rightarrow g(3) = \frac{11}{-14}$$

فعالیت ۲۶-۲

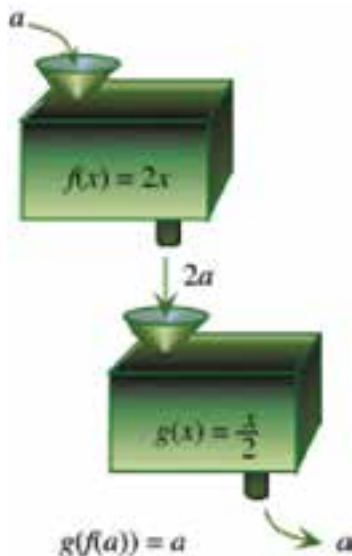
تابع‌های f و g با ضابطه‌های مقابل مفروض‌اند.

$$f(x) = 2x \text{ و } g(x) = \frac{x}{3}$$

با توجه به شکل ۲۷-۲ آیا می‌توان ادعا کرد که:

الف) $(g \circ f)(2) = 2$ ؟ چرا؟

ب) $(g \circ f)(a) = a$ ؟ چرا؟



شکل ۲۷-۲

مثال ۷: تابع‌های f و g با ضابطه‌های روبه‌رو مفروض‌اند.

$$f(x) = 3x + 7 \text{ و } g(x) = 2x - 3$$

– معادله‌ی مقابل را حل کنید.

$$3(f \circ g)(x) + 2(g \circ f)(x) = 7$$

حل: ضابطه‌ی تابع fog برابر است با:

$$(fog)(x) = 3g(x) + 7 = 3(2x - 3) + 7$$

$$\Rightarrow (fog)(x) = 6x - 2$$

– ضابطه‌ی تابع gof برابر است با:

$$(gof)(x) = g(f(x)) = 2f(x) - 3$$

$$= 2(3x + 7) - 3$$

– پس از ساده کردن داریم:

$$\Rightarrow gof(x) = 6x + 11$$

– مقادیر $(gof)(x)$ و $(fog)(x)$ را در معادله قرار می‌دهیم:

$$3(fog)(x) + 2(gof)(x) = 18x - 6 + 12x + 22 = 7$$

– مقدار x برابر است با:

$$\Rightarrow 3 \cdot x + 16 = 7 \Rightarrow 3 \cdot x = 7 - 16 \Rightarrow x = \frac{-9}{3} = -3$$

آزمون پایانی (۷)

محل پاسخ به سوالات آزمون پایانی (۷)

$$f(x) = \frac{5x+3}{3x-1} \text{ و } g(x) = 1-4x$$

$$f(x) = 2x+1 \text{ و } g(x) = 4x-3$$

$$f(x) = 3x+1 \text{ و } (fog)(x) = \frac{1}{4}x+3$$

$$f(x) = x^2+2 \text{ و } g(x) = x+3$$

۱- دو تابع f و g با ضابطه‌های روبه‌رو مفروض‌اند. مقادیر زیر را به دست آورید.

الف) $f(0)$ و $g(f(0))$

ب) $g(1)$ و $f(g(1))$

۲- دو تابع f و g با ضابطه‌های روبه‌رو مفروض‌اند. ضابطه‌ی توابع $f \circ g$ ، $g \circ f$ و $f \circ f$ را بنویسید.

۳- دو تابع f و $(f \circ g)$ با ضابطه‌های روبه‌رو مفروض‌اند. مقدار $g(-2)$ را حساب کنید.

۴- دو تابع f و g با ضابطه‌های روبه‌رو مفروض‌اند. ریشه‌های $(g \circ f)(x) = 3x$ را به دست آورید.